

(1) كيف تثبت الارتباط الخطي لشعاعين؟

طريقة: التحقق أن مركبات الشعاعين متناسبة أو كتابة أحد الأشعة بدلالة الآخر $\vec{u} = k\vec{v}$
 مثال: الشعاعان $\vec{u}(1,2,-1)$ و $\vec{v}(-1,-2,1)$
 $\vec{u} = -\vec{v}$ مرتبطين خطيا لأن $\vec{u} = -\vec{v}$
 أو بكتابة أخرى $\frac{-1}{1} = \frac{-2}{2} = \frac{1}{-1}$
 تطبيقات: اثبات استقامية ثلاث نقط أو توازي مستقيمين.

(2) كيف تثبت أن ثلاث أشعة من نفس المستوى

طريقة (1): كتابة أحد الأشعة بدلالة الشعاعين الآخرين.
 طريقة (2): نبين وجود $(a, b, c) \neq (0,0,0)$ بحيث $a\vec{u} + b\vec{v} + c\vec{w} = \vec{0}$

مثال: الأشعة $\vec{u}(1,2,3)$ و $\vec{v}(-2,5,4)$ و $\vec{w}(-4,19,18)$ هي من نفس المستوى لأن الجملة $a\vec{u} + b\vec{v} + c\vec{w} = \vec{0}$

$$\begin{cases} a - 2b - 4c = 0 \\ 2a + 5b + 19c = 0 \\ 3a + 4b + 18c = 0 \end{cases} \text{الحل } (2,3,-1)$$

ومنه $2\vec{u} + 3\vec{v} - \vec{w} = \vec{0}$

تطبيق: اثبات أن 4 نقط هي من نفس المستوى.

(3) كيف تثبت أن ثلاثة أشعة ليست من نفس المستوى؟

طريقة: نبين أن $a\vec{u} + b\vec{v} + c\vec{w} = \vec{0}$ حلا وحيدا $(0,0,0)$.

مثال: $\vec{u}(1,2,3)$ و $\vec{v}(-2,5,4)$ و $\vec{w}(1,1,3)$ ليست من نفس المستوى لأن الجملة $a\vec{u} + b\vec{v} + c\vec{w} = \vec{0}$ لا تقبل أي حل سوى $(0,0,0)$.
 ومنه \vec{u} و \vec{v} و \vec{w} تشكل أساسا للفضاء.

(4) كيف تعين شعاعا عموديا على \vec{u} و \vec{v} ؟

طريقة: إذا كان $\vec{n}(a, b, c)$ نبحت عن حل للجملة $\vec{n} \cdot \vec{u} = 0$ و $\vec{n} \cdot \vec{v} = 0$

مثال: $\vec{u}(1,2,3)$ و $\vec{v}(-2,1,7)$ اذن الجملة تكون: $\begin{cases} a + 2b + 3c = 0 \\ -2a + b + 7c = 0 \end{cases}$ نأخذ مثلا $c = 1$ ونحل الجملة.

ومنه $\vec{n}(\frac{11}{5}, \frac{-13}{5}, 1)$ يكافئ $\vec{n}(11, -13, 5)$

(5) كيف تعين التمثيل الوسيط لمستقيم معرف بنقطة وشعاع؟

طريقة: مستقيم يشمل نقطة A و شعاع \vec{u} توجيه له. المستقيم الذي يشمل $A(x_A, y_A, z_A)$ وشعاع توجيهه $\vec{u}(a, b, c)$ له التمثيل الوسيط: $\begin{cases} x = x_A + at \\ y = y_A + bt \\ z = z_A + ct \end{cases}$

مثال: مستقيم يشمل $A(1,2,-4)$ وشعاع توجيهه $\vec{u}(6,1,-1)$ اذن التمثيل الوسيط للمستقيم (D) هو:

$$\begin{cases} x = 1 + 6t \\ y = 2 + t \\ z = -4 - t \end{cases}$$

(6) تعين المعادلة الديكارتية لمستوي يمر من نقطة A و شعاع ناظمي له:

طريقة: باستعمال الجداء السلمي $\vec{AM} \cdot \vec{n} = 0$
 مثال: $\vec{n}(1, -3, 2)$ ، $A(1, 2, -4)$
 $\vec{AM} \cdot \vec{n} = 0$ معناه $(x-1) - 3(y-2) + 2(z+4) = 0$
 أي معادلة المستوي $x - 3y + 2z + 13 = 0$

تطبيق: تعيين المستوي الذي يمر سطح كرة في نقطة.

(7) تعين معادلة ديكارتية لمستوي معين بثلاث نقط A و B و C :

طريقة: نعين مركبات شعاع ناظمي $\vec{n}(a, b, c)$ بحيث $\vec{n} \cdot \vec{AB} = 0$ و $\vec{n} \cdot \vec{AC} = 0$
 ثم نحل جملة المعادلتين بفرض (مثلا $c = 1$).
 مثال: بين أن النقط $A(1,0,3)$ ، $B(1,3,2)$ ، $C(0,2,4)$ تمثل مستويا.

أولا: نبين أن \vec{AB} و \vec{AC} ليسا مرتبطين خطيا.

ثانيا: نكتب جملة المعادلتين $\begin{cases} \vec{n} \cdot \vec{AB} = 0 \\ \vec{n} \cdot \vec{AC} = 0 \end{cases}$ أي $\begin{cases} 3b - c = 0 \\ -a + 2b + c = 0 \end{cases}$
 ومعادلة (ABC) هي من الشكل $5x + y + 3z + d = 0$ وبتعويض احدائيات احدى النقط نجد $(ABC): 5x + y + 3z - 14 = 0$

(8) تعين معادلة مستوي يمر بنقطة و علم أساس له

طريقة: نعين شعاعا ناظما \vec{n} للمستوي ثم نطبق الطريقة السابقة.
 مثال: مستوي يشمل النقطة $A(1, -2, 3)$ و (\vec{u}, \vec{v}) أساس له حيث: $\vec{u}(-1, 1, 4)$ و $\vec{v}(0, -3, 1)$.
 ومنه $\vec{n}(a, b, c)$ شعاع ناظمي لـ (P) ومنه $\begin{cases} \vec{n} \cdot \vec{u} = 0 \\ \vec{n} \cdot \vec{v} = 0 \end{cases}$ أي $\begin{cases} -a + b + 4c = 0 \\ 0a - 3b + c = 0 \end{cases}$ وبحل الجملة نجد $\vec{n}(13, 1, 3)$ ومنه معادلة (P) هي $13x + y + 3z - 20 = 0$ بعد حساب قيمة d

(9) تعين معادلة المستوي المحوري لقطعة مستقيمة $[AB]$:

طريقة: تعيين I منتصف القطعة $[AB]$ ثم تعيين المستوي الذي يشمل I و \vec{AB} شعاع ناظمي له.
 مثال: لتكن $A(2, -1, 2)$ و $B(0, 3, 6)$ لدينا $\vec{AB}(-2, 4, 4)$ و $I(1, 1, 4)$
 نعلم أن $\vec{IM} \cdot \vec{AB} = 0$ حيث $\vec{IM} \begin{pmatrix} x-1 \\ y-1 \\ z-4 \end{pmatrix}$ و $M(x, y, z) \in (P)$
 ومنه معادلة (P) هي $x - 2y - 2z + 9 = 0$

(10) تعين المسقط العمودي لنقطة على مستقيم و المسافة بين نقطة ومستقيم.

طريقة: لتعين المسقط العمودي H للنقطة A على المستقيم (D) نكتب احدائيات H بدلالة t بواسطة التمثيل الوسيط ثم إيجاد t باستعمال $\vec{AH} \cdot \vec{u} = 0$ حيث \vec{u} شعاع توجيه (D) .
 مثال: (D) مستقيم حيث $\begin{cases} x = 1 - 3t \\ y = 2 + t \\ z = -1 - t \end{cases}$ و $A(-2, 1, 5)$ نقطة من الفضاء مسقطها

العمودي على (D) هو النقطة H .

$$\begin{cases} x_H = 1 - 3t \\ y_H = 2 + t \\ z_H = -1 - t \end{cases} \text{ و منه احدائيات } H \text{ تحقق}$$

$\vec{AH} = \begin{pmatrix} 3-3t \\ 1+t \\ -6-t \end{pmatrix}$ ، وشعاع توجيه المستقيم (D) هو $\vec{u}(-3, 1, -1)$ ونعلم أن $\vec{AH} \cdot \vec{u} = 0$ أي:

$$-3(3-3t) + (1+t) - (-6-t) = 0$$

ومنه $t = \frac{2}{11}$ وبالتعويض في التمثيل الوسيط:

$$H \left(\frac{5}{11}, \frac{24}{11}, \frac{-13}{11} \right)$$

ولحساب المسافة بين A و (D) نحسب المسافة AH

$$AH = \sqrt{\frac{502}{11}}$$

(11) تعين المسقط العمودي لنقطة على مستوي و المسافة بين نقطة ومستوي:

طريقة: لتعين المسقط العمودي H لنقطة A على مستوي (P) نعين أولا \vec{n} الشعاع الناظمي لهذا المستوي، ثم نعين نقطة تقاطع المستقيم (D) الذي يشمل A و \vec{n} شعاع توجيه له مع المستوي (P) .

مثال: تعيين المسقط العمودي H للنقطة $A(1, 2, -3)$ على المستوي (P) ذي المعادلة:

$$2x - y + 5z - 8 = 0$$

الشعاع الناظمي لـ (P) هو $\vec{n}(2, -1, 5)$ ، التمثيل الوسيط للمستقيم (D) الذي يشمل A و \vec{n} شعاع توجيه له: $\begin{cases} x = 1 + 2t \\ y = 2 - t \\ z = -3 + 5t \end{cases}$

وبما أن $H \in (P)$ و $H \in (D)$ اذن:

$$\begin{cases} x_H = 1 + 2t \\ y_H = 2 - t \\ z_H = -3 + 5t \\ 2x_H - y_H + 5z_H - 8 = 0 \end{cases}$$

ومنه $t = \frac{23}{30}$ وبالتالي: $H(\frac{38}{15}, \frac{37}{30}, \frac{5}{6})$

والمسافة بين النقطة A و المستوي (P) هي:

$$d(A, (P)) = \frac{|2(\frac{38}{15}) - \frac{37}{30} + 5 \times \frac{5}{6} - 8|}{\sqrt{2^2 + (-1)^2 + 5^2}} = \sqrt{\frac{529}{30}}$$

الهندسة الفضائية (طرائق ، أمثلة)

(12) تعيين المستقيم العمودي على مستقيمين ،

والمسافة الأصغر بين مستقيمين.

طريقة : (D) المستقيم ذي شعاع التوجيه \vec{u} ويشمل A و (D') مستقيم يشمل B و شعاع توجيه له \vec{v} .

نفك الشعاع $\vec{M} = \vec{MA} + \vec{AB} + \vec{BN}$ وبما أن $\vec{AM} = \alpha \vec{u}$ و $\vec{BN} = \beta \vec{v}$ نكتب مركبات الشعاع \vec{MN} بدلالة α و β .

\vec{MN} يجب أن يكون عموديا على كل من \vec{u} و \vec{v} معناه $\begin{cases} \vec{MN} \cdot \vec{u} = 0 \\ \vec{MN} \cdot \vec{v} = 0 \end{cases}$ نحدد قيمة α و β ثم نجد احداثيات M و N.

مثال : (D) مستقيم معرف بـ $A(1,1,0)$ و $\vec{u}(2,0,1)$ و (D') مستقيم معرف بـ $B(0,1,-3)$ و $\vec{v}(-1,3,1)$.

لتكن M نقطة من (D) و N نقطة من (D'). نفك الشعاع $\vec{M} = \vec{MA} + \vec{AB} + \vec{BN}$ وعلما

أنه يوجد α و β بحيث $\begin{cases} \vec{AM} = \alpha \vec{u} \\ \vec{BN} = \beta \vec{v} \end{cases}$ يكون لدينا $\vec{MN} = -\alpha \vec{u} + \vec{AB} + \beta \vec{v}$ ومنه

مركبات \vec{MN} هي $(-2\alpha - 1 - \beta, 3\beta, -\alpha - 3 + \beta)$

نحل الجملة $\begin{cases} \vec{MN} \cdot \vec{u} = 0 \\ \vec{MN} \cdot \vec{v} = 0 \end{cases}$ فنجد

$\begin{cases} -4\alpha - 2 - 2\beta - \alpha - 3 + \beta = 0 \\ 2\alpha + 1 + \beta + 9\beta - \alpha - 3 + \beta = 0 \end{cases}$ إذن $\alpha = \frac{-19}{18}$ و $\beta = \frac{5}{18}$

ومنه $M\left(\frac{-5}{18}, \frac{11}{6}, \frac{-49}{18}\right)$ و $N\left(\frac{-10}{9}, 1, \frac{-19}{18}\right)$ وبالتالي المسافة الأصغر بين المستقيمين هي :

$$MN = \frac{5}{\sqrt{6}}$$

(13) كيف نعين تقاطع مستويين ؟

طريقة : نعين تمثيلا وسيطيا بحل جملة المعادلتين للمستويين (P) و (P') و بفرض أحد المجاهيل كوسيط .

مثال : $2x - y + 3z - 4 = 0$: (P) و

$3x - 2y + 11z - 1 = 0$: (P') إذن :

$$\begin{cases} 2x - y + 3z - 4 = 0 \\ 3x - 2y + 11z - 1 = 0 \end{cases}$$

تكافئ : بوضع $z = t$ نجد $\begin{cases} x = 5z + 7 \\ y = 13z + 10 \end{cases}$

وهو التمثيل الوسيطى $\begin{cases} x = 5t + 7 \\ y = 13t + 10 \\ z = t \end{cases}$ لمستقيم التقاطع.

(14) كيف نعين تقاطع مستوي و مستقيم ؟

طريقة : معادلة المستوي (P) و التمثيل الوسيطى للمستقيم (D) يشكلان جملة 4 معادلات بأربعة مجاهيل ، نعوض x, y, z في معادلة (P) فنحصل على t . ومنه نجد نقطة التقاطع.

مثال : (D) : $\begin{cases} x = 1 + t \\ y = -1 + 2t \\ z = 3t \end{cases}$ و (P) : $3x - 2y + 11z - 1 = 0$

$$\begin{cases} x = 1 + t \\ y = -1 + 2t \\ z = 3t \end{cases} \text{ نحل الجملة}$$

فنجد $t = \frac{-1}{8}$ ومنه التقاطع هو $A\left(\frac{7}{8}, \frac{-5}{4}, \frac{-3}{8}\right)$

(15) كيف نعين تقاطع مستقيمين ؟

طريقة : نعرّف المستقيمين بتمثيليهما الوسيطيين. نسوي التمثيلين و نحل جملة 3 معادلات لإيجاد إحدى الوسيطيين ثم نعوض في التمثيل الوسيطى لإيجاد نقطة التقاطع.

مثال : (D) : $\begin{cases} 1 + t \\ -1 + 2t \\ 3t \end{cases}$ و (D') : $\begin{cases} x = -4 + 3t' \\ y = 3 - 8t' \\ z = -13 + 7t' \end{cases}$

نحل الجملة $\begin{cases} 1 + t = -4 + 3t' \\ -1 + 2t = 3 - 8t' \\ 3t = -13 + 7t' \end{cases}$ نجد $t = -2$ و $t' = 1$

إذن نقطة التقاطع هي $A(-1, -5, -6)$

(16) كيف نعين تقاطع كرة مع مستقيم ؟

طريقة : لتعيين تقاطع كرة مع مستقيم معرّف بتمثيله الوسيطى نعوض x, y, z في معادلة الكرة ، لتصبح معادلة من الدرجة الثانية بمجهول t .

إذا كان لدينا حلان (المستقيم يقطع الكرة في نقطتين) إذا كان لدينا حل مضاعف (فالمستقيم مماس للكرة في نقطة التماس) أما إذا لم يوجد حل (فلا يوجد تقاطع).

مثال : (S) : كرة معادلتها :

$$x^2 + y^2 + z^2 - 2y + 4z + 4 = 0$$

و (d) مستقيم : $\begin{cases} x = 1 + 2t \\ y = 1 + t \\ z = -3 + t \end{cases}$ وبالتعويض في المعادلة الديكارية :

$$6t^2 + 2t = 0$$

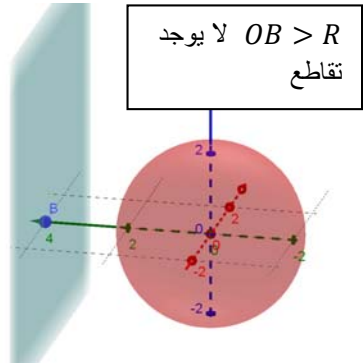
ومنه $t_1 = 0$ و $t_2 = -\frac{1}{3}$ ومنه :

$$\begin{cases} t_1 = 0 \rightarrow A(1, 1, -3) \\ t_2 = -\frac{1}{3} \rightarrow B\left(\frac{1}{3}, \frac{2}{3}, -\frac{10}{3}\right) \end{cases}$$

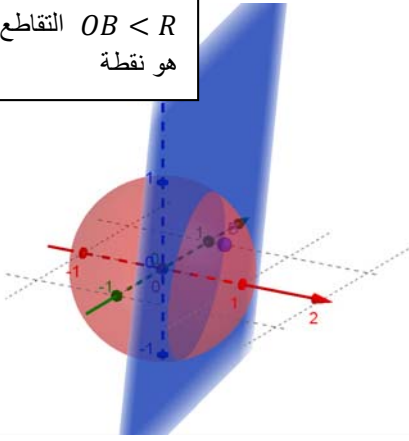
(17) كيف نعين تقاطع كرة مع مستوي ؟

طريقة : لدراسة تقاطع كرة و مستوي ، نعين المسقط العمودي H لمركز الكرة O على المستوي ثم نحسب المسافة OH ، إن تقاطع مستوي مع كرة إما خال (إذا كانت المسافة أكبر من نصف قطر الكرة) وإما نقطة (إذا كان المستوي مماس للكرة) وإما دائرة (إذا كانت المسافة أقل من نصف قطر الكرة).

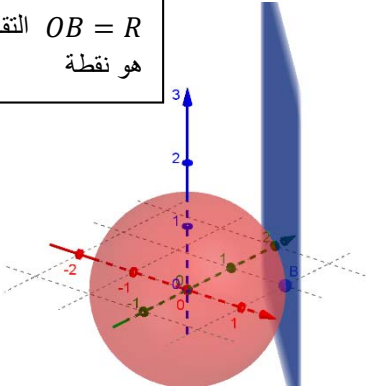
$OB > R$ لا يوجد تقاطع



$OB < R$ التقاطع هو نقطة



$OB = R$ التقاطع هو نقطة



مثال : نعتبر الكرة (S) مركزها $w(2, -1, 1)$ ونصف قطرها $R = 3$ ونعتبر المستوي (P) الذي معادلته $x - 2y + z + 1 = 0$

إن المسافة بين النقطة w و المستوي (P) هي :

$$d(w, (P)) = \frac{|2 - 2 + 1 + 1|}{\sqrt{1 + 4 + 1}} = \sqrt{6}$$

وبما أن $\sqrt{6} < R = 3$ فإن (P) و (S) يتقاطعان وفق دائرة (c) مركزها النقطة

H ونصاف قطرها r ، وبتطبيق نظرية فيثاغورس في المثلث wHM القائم في H نجد : $R^2 = r^2 + d^2$ ومنه :

$$r = \sqrt{3^2 - (\sqrt{6})^2} = \sqrt{3}$$

و H هو نقطة تقاطع المستقيم (T) المار بـ w والعمودي على (P) ، ولدينا $\vec{n}(1, -2, 1)$ هو شعاع ناظمي لـ (P) ومنه شعاع توجيه لـ (T) ومنه التمثيل الوسيطى

$$(T) : \begin{cases} x = 2 + t \\ y = -1 - 2t \\ z = 1 + t \end{cases}$$

وبالتعويض في معادلة المستوي (P) نجد $t = -1$

ومنه $(x, y, z) = (1, 1, 0)$.

إذن تقاطع (P) و (S) هي الدائرة (c) التي مركزها $H(1, 1, 0)$ ونصف قطرها $r = \sqrt{3}$.