

بِسْمِ اللَّهِ الرَّحْمَنِ الرَّحِيمِ

السَّلَامُ عَلَيْكُمْ وَرَحْمَةُ اللَّهِ وَبَرَكَاتُهُ

سلسلة تمارين حول

دور البروتينات

في الاتصال العصبي

من إعداد الأستاذين:

• إبراهيم الجيلاني barhomzr@gmail.com

• عبد الغني شقرون chekrounabdelghani@yahoo.fr

تحت إشراف مفتش المادة:

نواطر محمد

nouacer2007@yahoo.fr

التمرين الأول:

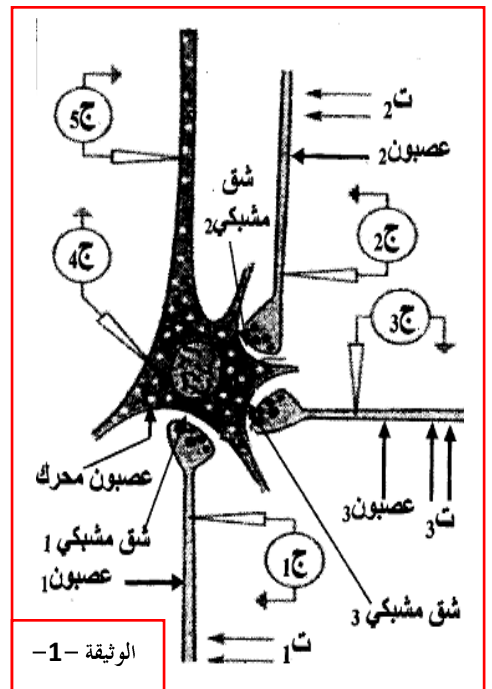
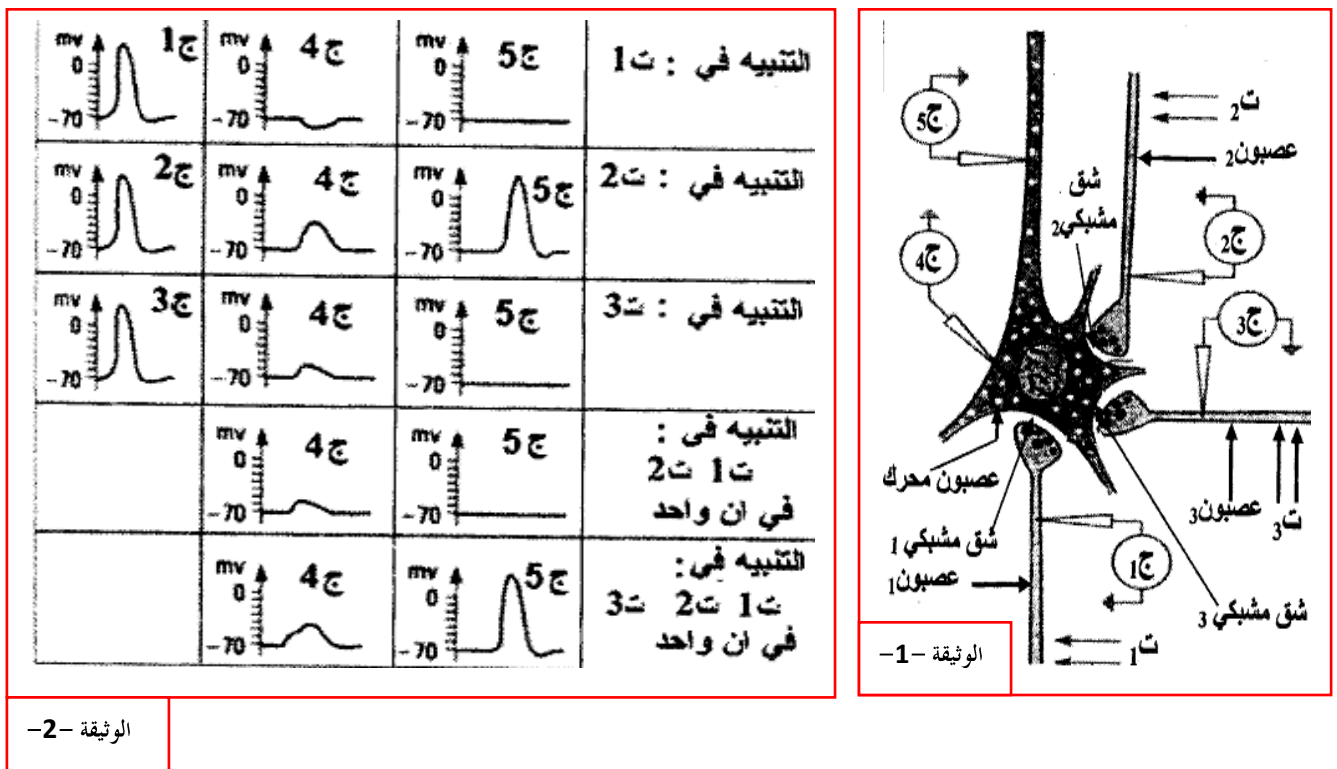
- أ. عرف بدقة المصطلحات العلمية التالية: 1. المشبك العصبي. 2. استقطاب. 3. كمون الراحة. 4. كمون العمل. 5. السيالة العصبية. 6. قنوات فولتية. 7. قنوات كيميائية. 8. الإدماج العصبي. 9. المبلغ الكيميائي العصبي. 10. التجميع الزمني والتجميع الفضائي.

ب. أجب بدقة على الأسئلة التالية:

- ✓ قارن في جدول بين القنوات الغشائية المتدخلة في حدوث الاتصال العصبي.
 ✓ بين في نص علمي آلية عمل المشبك التثبيطي والمشبك التثبيطي.
 ✓ انطلقا مما درست بين التخصص الوظيفي للبروتين في الاتصال العصبي في نص علمي دقيق.
 ✓ إن آلية النقل المشبكي آلية حساسة يمكنها أن تختل في أي مرحلة من مراحلها بسبب تأثير المخدرات.
 بين ذلك في نص علمي دقيق مدعما بإجابتك بأمثلة مبينا خطر تعاطي المخدرات.

التمرين الثاني:

نستعرض الدراسة التجريبية التالية لغرض فهم الآلية التي تنتقل بها الرسالة العصبية عبر الألياف والمشابك العصبية لذلك نحدث تبيهات فعالة على عصبون محرك تم الحصول عليه من النخاع الشوكي لأحد الثدييات. (الوثيقة -1)



I - اعتمادا على النتائج التجريبية الموضحة في الوثيقة -2 -

- 1 - ما طبيعة المشبك في كل حالة من الحالات الثلاث؟ علل إجابتك.
 2 - كيف تفسر التسجيلات المحصل عليها في كل من الجهازين ج 4 و ج 5 في الحالتين؟.

II - أ - وضح في شرح موجز آلية تأثير المبلغ العصبي على المستوى الجزيئي في حالة التثبيط في ت 1 و ت 2.
 ب - استعانة بما سبق اشرح كيف يعمل العصبون المحرك على إدماج الرسائل العصبية.

التمرين الثالث:

من أجل فهم آلية الحفاظ على الكيمون الغشائي لليف العصبي تجري التجارب التالية:
التجربة (1): - تم معايرة تركيز شوارد (K^+ , Na^+) لكل من المحور العملاق، دم حيوان الكالمار، ماء البحر الجدول التالي يبين ذلك :

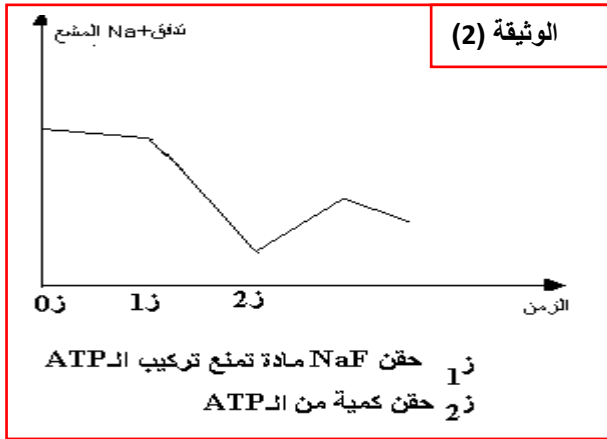
القيم بالملي مول / لتر			
الأيونات	هيولى المحور اليف العصبي للكالمار	دم حيوان الكالمار	ماء البحر
Na^+	50	440	460
K^+	400	20	10

أ - استخلص سبب استعمال ماء البحر في التجارب المنجزة على الليف العصبي للكالمار.

ب - ما هي الإشكالية التي تظهرها النتائج المبينة في هذا الجدول؟

التجربة (2): - نغمر ليفا عصبيا للكالمار في ماء البحر به Na^+ مشع، بعد عدة ساعات يصبح الليف مشعا، ينقل الليف المشع إلى ماء بحر به Na^+ عادي يظهر الإشعاع في ماء البحر مع بقاء التركيز الإجمالي Na^+ داخل المحور ثابتا ومساويا لـ 50 ميلي مول / اللتر ونفس الشيء لماء البحر 460 ميلي مول /ل.

- ماذا تظهر هذه التجربة ؟



التجربة (3): - نحقن ليف عصبي للكالمار بـ Na^+ مشع ثم يوضع في ماء بحر به Na^+ عادي، يجدد ماء البحر باستمرار وعلى فترات منتظمة وفي كل مرة تتم معايرة إشعاعه سمحت النتائج اخصل عليها في شروط تجريبية مختلفة بإنجاز الوثيقة 2-.

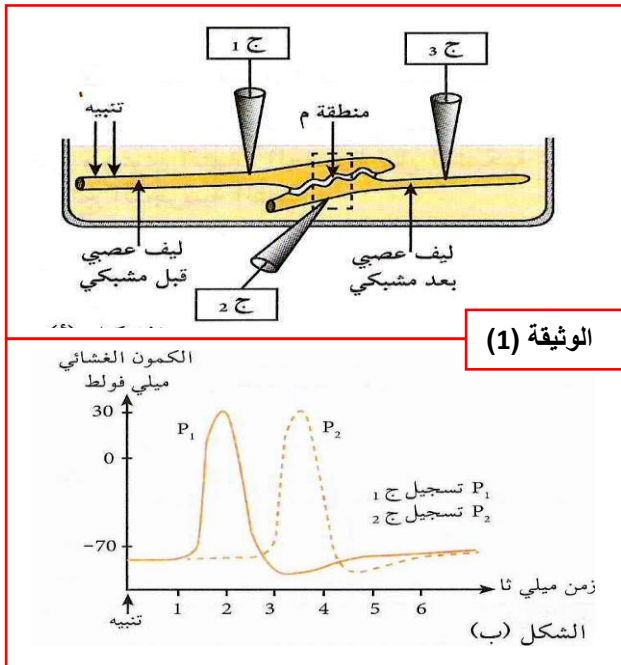
أ - ما هي المعلومة التي تقدمها هذه التجربة ؟ علل إجابتك.

ب - مثل برسم تخطيطي وظيفي متقن عليه البيانات الظواهر الغشائية التي تعمل على ثبات الكيمون الغشائي في الليف العصبي غير المنبه.

التمرين الرابع:

لدراسة فيزيولوجية النسيج العصبي نحقق الأعمال التجريبية التالية :

1 / نعزل ليفين عصبيين لحيوان الكالمار متصلين فيما بينهما بمشيك عملاق، ونحقق التركيب التجريبي الممثل في الشكل (أ) من الوثيقة (1). عند إحداث تنبيه فعال في الليف العصبي قبل مشبكي تمكنا من الحصول على التسجيلات الممثلة في الشكل (ب) من الوثيقة (1).



أ - ما هي المعلومة المستخرجة من نتائج التسجيل (ب) ؟

ب - حلل المنحنى P1 مع إعطاء تفسير شاردي لمختلف مراحل.

د - ماذا تستخلص حول آلية انتقال الرسالة العصبية في الليف العصبي؟

2 / - نهم الآن بدراسة آلية انتقال الرسالة العصبية في المنطقة (م)

الممثلة في الشكل (أ) من الوثيقة (1).

التجربة 1 :

يؤدي التنبيه الفعال في الليف قبل المشبكي إلى تسجيل المنحنيين P1 و P2

التجربة 2 :

يكون وسط التركيب التجريبي الممثل في الشكل (أ) من الوثيقة (1) خالي

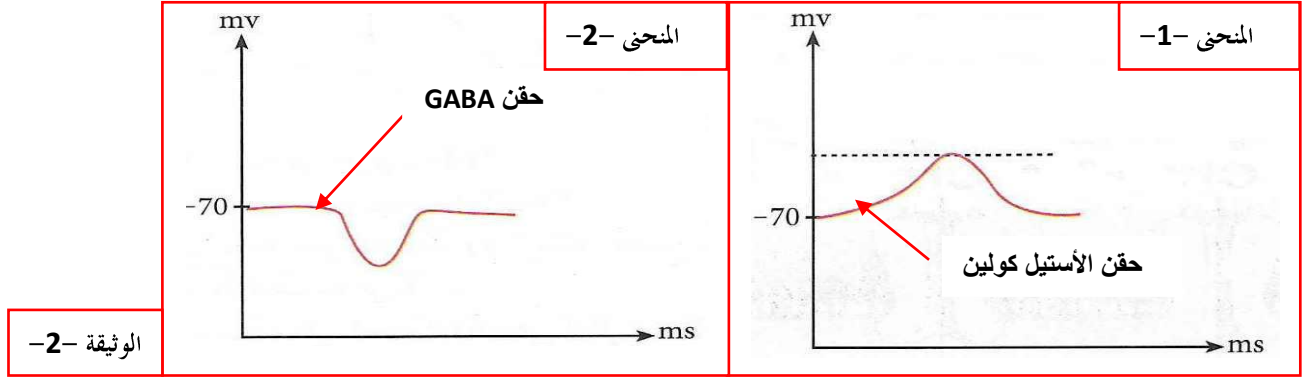
من Ca^{++} ، ثم ننبه الليف قبل مشبكي فلا نسجل المنحنى P2 .

التجربة 3 :

نحقن بواسطة سحاحة مجهرية شوارد Ca^{++} في هيولى النهاية المحورية

ليف قبل مشبكي و بدون تنبيه فنحصل على المنحنى P2.

التجربة 4 : عند حقن الأستيل كولين في المنطقة (م) نسجل المنحنى (1) من الوثيقة (2) . في تركيب تجريبي مماثل نحقن GABA في المنطقة (م) فنحصل على تسجيل المنحنى (2) من الوثيقة (2).



أ - ماذا تستخلص من كل تجربة من التجارب السابقة ؟

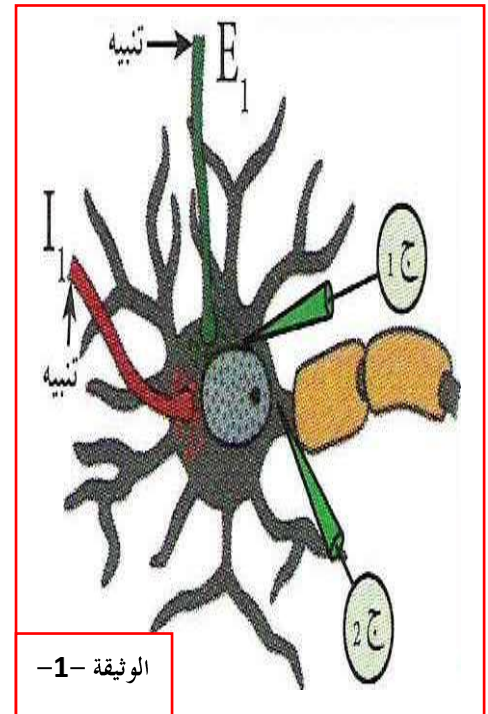
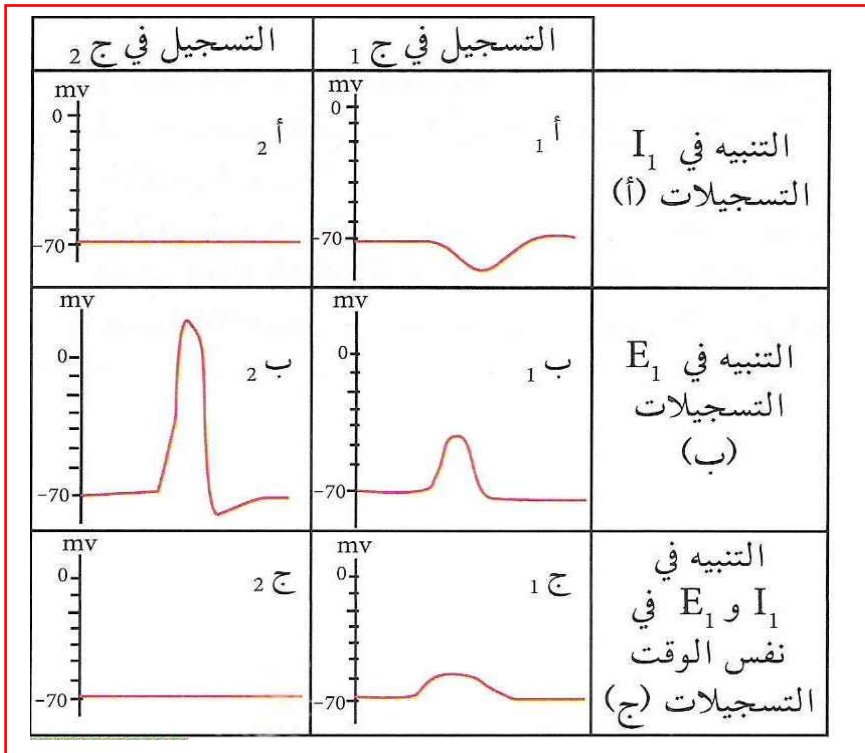
ب - قارن بين مفعول كل من GABA و الأستيل كولين ؟

ج - استنتج شروط تشكل كمن العمل في الغشاء بعد المشبكي ؟

3 / - مستعينا بالمعلومات المستخلصة قدم رسما تخطيطيا وظيفيا مقارنا عليه جميع البيانات لعمل GABA و الأستيل كولين على مستوى المشابك.

التمرين الخامس:

تمثل الوثيقة 1-1 خلية بعد مشبكية متصلة بنوعين من المشابك، بينما تمثل الوثيقة 2 التسجيلات المسجل في ج 1 و ج 2



الوثيقة -2-

1. حدد نوع المشبكين مع التعليل.

2. قارن بين التسجيلين ب1 و ج 1

3. فسر اختلاف النتائج في ب2 و ج 2

4. حدد شروط تسجيل المنحنى ب2 في ج2. علل.

5. أنجز رسما وظيفيا كاملا على المستوى الجزيئي يعبر عن آلية تشفير الرسالة العصبية على مستوى المشبك في حالة التسجيلات (أ) اثر التنبيه في I_1 .

التمرين السادس:

نريد دراسة آلية حدوث المنعكس الردفي لذلك نقوم بالأعمال التالية:

I - يمثل الشكل (أ) من الوثيقة - 3 مخططا يوضح علاقة العصبونات

التي تؤمن المنعكس الردفي عند القط.

تعريض العضلة (ع 1) لتمددات وذلك بربطها بأثقال متزايدة الكتلة حيث: $ك 1 > ك 2 > ك 3$.

نسجل تغيرات تواتر كمون العمل في (N1) عن طريق المستقبل (ق 1) المتصل براسم الذبذبات المهبطي.

النتائج احصل عليها ممثلة في الشكل (ب) من الوثيقة - 3 -

كما يلاحظ استجابة العضلة (ع 1) بالتقلص عند تعريضها

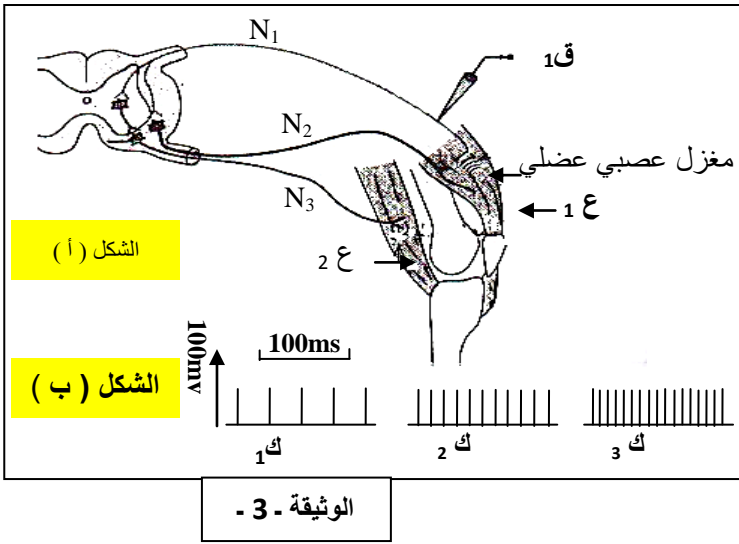
للتمدد باستعمال الثقلين (ك 2، ك 3).

1 - استخلص دور العضلتين (ع 1) و (ع 2) في حدوث المنعكس الردفي.

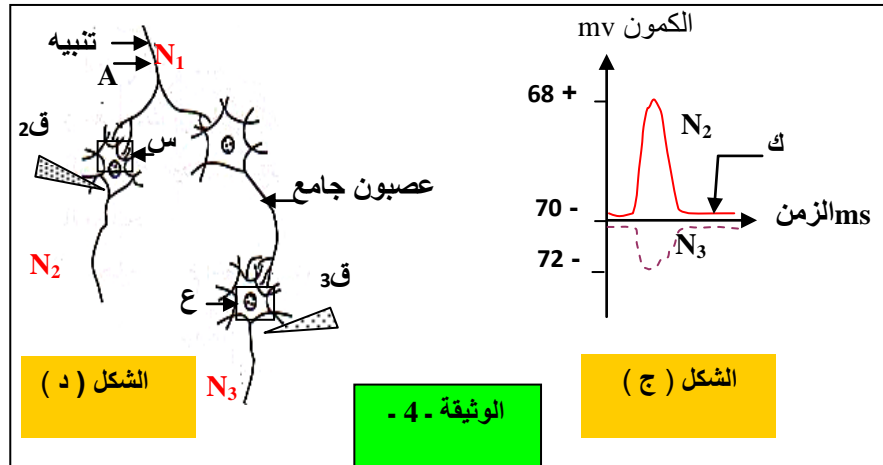
2 - ماذا تستخلص من تسجيلات الشكل (ب) ؟

3 - نبه الليف (N1) تنبيهها فعلا في (A) و نسجل النشاط الكهربائي للأجسام الخلوية للألياف (N2) و (N3) بواسطة قطبي الاستقبال (ق 2)

و (ق 3) لراسم الذبذبات المهبطي كما في الشكل (ج) من الوثيقة - 4 - . التسجيلات ممثلة في الشكل (د) من الوثيقة - 4 - .



الوثيقة - 3 -



الوثيقة - 4 -

أ - سمّ الظاهرة (ك) الموضحة في الشكل (ج) وبين شروط تسجيلها.

ب - ما نوع المشبكين (س، ع) الممثلان في الشكل (د) مع التعليل.

ج - وضّح برسم تخطيطي عليه البيانات آلية انتقال السيالة عبر المشبكين (س، ع).

د - باستعمال قطارة مجهرية نحقن مواد مختلفة في المشبكين (س، ع) ونسجل الاستجابة في الجسم الخلوي بواسطة قطبي الاستقبال (ق 2)

أو (ق 3) المتصلين بـ (N2) و (N3) على الترتيب كما في الشكل (د) للوثيقة - 4 - . النتائج المسجلة موضحة الجدول التالي:

المواد المحقونة	Aspartate	GABA	Acide Valproique	Picrotoxine
الاستجابة في	N ₂	لا	لا	لا
	N ₃	نعم	لا	لا
الاستجابة بعد التنبيه في (A) من (N ₁)	N ₂	نعم	لا	نعم
	N ₃	لا	نعم	لا

α - ما هو دور الأسبارتات (Aspartate) والـ GABA ، علما أنهما وسيطان كيميائيان ينتجان طبيعيا في العضوية ؟

β - اقترح فرضية لتفسير عمل حمض الفالبرويك (Acide Valproique) و البيكروتوكسين (Picrotoxine).

II - من خلال ما سبق وضّح في شرح مفصل آلية حدوث المنعكس الردفي.

التمرين السابع:

يمثل الشكل المقابل جزء من خلية عصبية يؤمن انتقال الرسالة العصبية في العضوية.

1- أرسم التسجيل الذي نسجله على جهاز الاوسيلوسكوب الموضح في الوثيقة المرافقة .

2- ماذا ندعو هذا التسجيل ؟ لمعرفة مصدر التسجيل المحصل عليه , نضع الليف العصبي

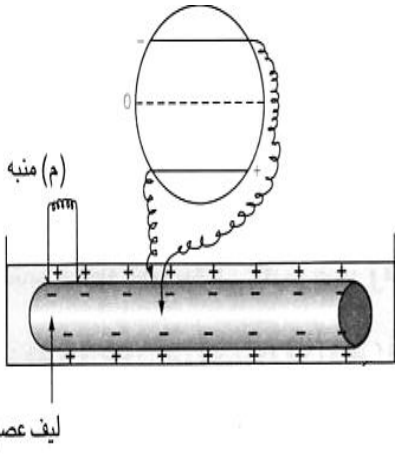
في وسط يحتوي على شوارد Na^+ المشعة ثم نقله إلى وسط طبيعي. و نقوم بقياس تدفق

شوارد Na^+ المشعة نحو الخارج حيث :

في الزمن $z=3$ د نضيف مادة DNP المثبطة لتكوين ATP .

في الزمن $z=4.3$ د نحقن كمية من ATP .

في الزمن $z=7$ د نقوم بإزالة DNP (عملية غسل) النتائج المحصل عليها مدونة في الجدول التالي:



الزمن (د)	00	01	02	03	04	4.3	05	5.3	06	07	08	09
تدفق Na^+ المشع	06	5.7	5.5	5.3	4.2	3.7	4.3	05	4.4	03	04	05

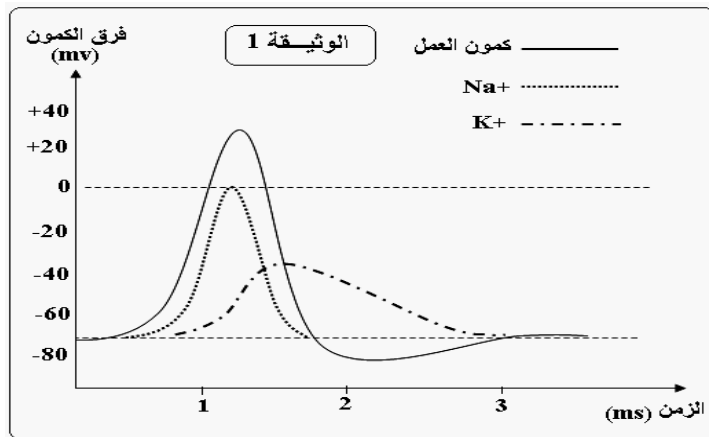
3- أرسم منحنى تدفق الصوديوم المشع في الوسط الطبيعي بدلالة الزمن موضحا عليه الشروط التجريبية ؟

4- حلل وفسر المنحنى المحصل عليه. ماذا تستنتج ؟

5- في الزمن $z=9$ د نضيف وسط خالي من شوارد البوتاسيوم. ما هي النتيجة المتوقعة ؟

6- ماذا تستنتج فيما يخص سلوك غشاء الليف العصبي تجاه شوارد الصوديوم؟ وضح ذلك برسم تخطيطي.

التمرين الثامن: تمثل الوثيقة (1) تغير نفاذية غشاء الليف العصبي لشوارد الصوديوم والبوتاسيوم نتيجة إحداث تنبيه فعال .



1- استخراج كيف تتغير نفاذية الغشاء لأيونات الصوديوم والبوتاسيوم خلال كمون العمل.

2- للكشف عن البنات المسؤولة عن التبادلات الأيونية خلال كمون العمل ندرس التجربة التالية:

نقوم بتبنيه ليف عصبي ثم نقيس التركيز الداخلي لكل من شوارد الصوديوم والبوتاسيوم في

الظروف التالية :

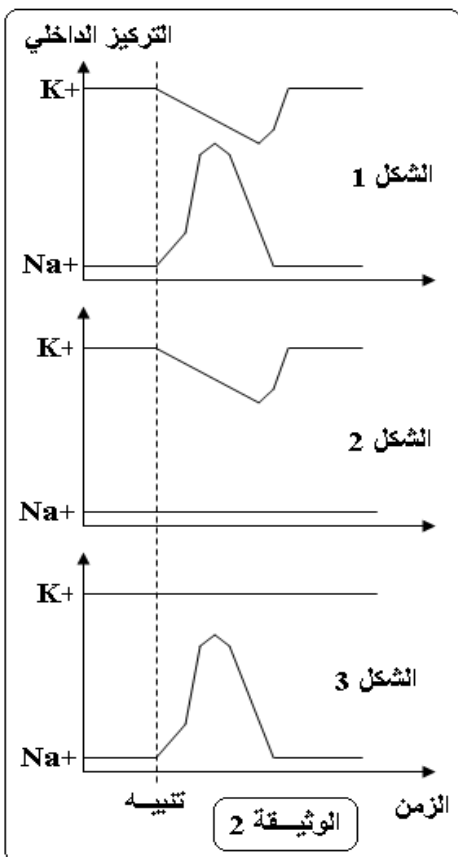
- ليف عصبي في ظروف عادية (الشكل 1) من الوثيقة (2)

- نضيف مادة سامة (تيتروذوتوكسين) بمقدار ضئيل للوسط الخارجي

لليف العصبي (الشكل 2)

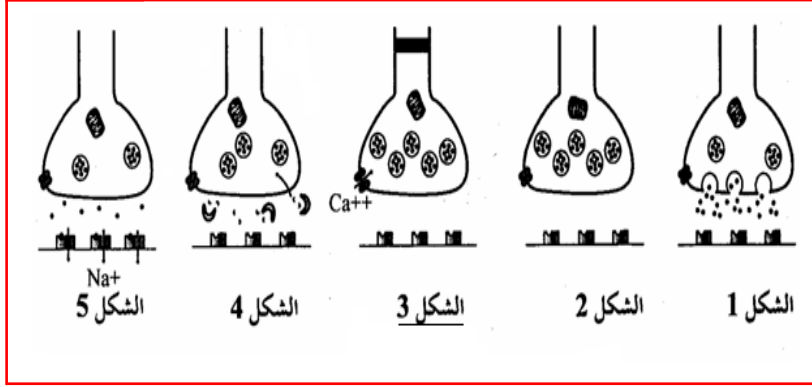
- نحقن الليف العصبي بمادة (تترا إثيل أمونيوم) TEA (الشكل 3)

أ- استخراج تأثير كل من مادة TDT و TEA على التبادلات الأيونية عبر غشاء الليف العصبي



ب- تمثل أشكال الوثيقة (3) رسماً تخطيطياً لمراحل النقل المشبكي.

الوثيقة -3-



a - رتب أشكال الوثيقة (3) حسب تسلسلها الزمني.

b - أعد رسم الشكل (2) وضع عليه البيانات اللازمة.

c - قدم تعليقا تبرز من خلاله ملاحظاتك ومعلوماتك حول كل مرحلة.

3- للكشف عن دور بعض المواد الكيميائية (وسائط عصبية

ومواد مخدرة) على مستوى المشبك أجريت التجربة التالية

على مستوى ثلاثة مشابك عصبية - عصبية:

❖ نحقن المادة الكيميائية في الفراغ المشبكي و نقوم بتسجيل الظواهر الكهربائية للخلية العصبية بعد مشبكية بواسطة

جهاز راسم الذبذبات المهبطي.

النتائج المحصل عليها مُمثلة في الجدول التالي:

أ - قدم عنوانا مناسباً للتسجيلات المحصل عليها .

ب - فسر اختلاف النتائج المحصل عليها .

ج - دعم تفسيرك برسومات تخطيطية مبسطة تظهر تأثير هذه المواد الكيميائية على مستوى المشبك.

المشبك	المادة الخقونة	طبيعة المادة	التسجيل
1	الأسيتيل كولين	وسيط عصبي	
2	مادة الـ GABA	وسيط عصبي	
3	الكورار + الأسيتيل كولين	مخدر + وسيط عصبي	

التمرين التاسع:

تنتقل الرسالة العصبية عبر سلسلة من العصبونات وإظهار آلية هذا الانتقال في مستوى المشبك ودور البروتينات في ذلك نستعمل التركيب التجريبي التالي:

I - أنجزت سلسلة من التجارب التالية:

التجربة 01: تم تنبيه العصبون (N1) في المنطقة "ت".

التجربة 02: حقنت الكمية G1 من الأسيتيل كولين في مستوى المشبك C.

التجربة 03: حقنت الكمية G2 من الأسيتيل كولين في مستوى المشبك C

التجربة 04: حقنت الكمية G3 من الأسيتيل كولين داخل العصبون (N2)

علما أن الكمية $G1 < G2 < G3$

وأن التجارب 2، 3، 4، لم يحدث فيها تنبيه.

النتائج التجريبية المتحصل عليها بواسطة أجهزة راسم الاهتزاز المهبطي

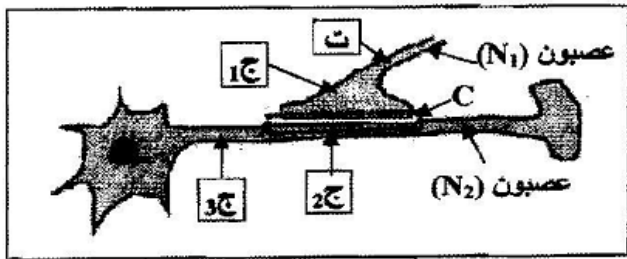
(ج 1، ج 2، ج 3) مُمثلة في الوثيقة -1-.

1. حلل التسجيلات المحصل عليها والمثلة في الوثيقة -1-.

2. بين أن انتقال الرسالة العصبية على مستوى المشبك

مشفرة بتركيز الأسيتيل كولين.

3. اعتمادا على هذه النتائج حدد مكان تأثير الأسيتيل كولين.



التركيب التجريبي

الوثيقة -1-

التسجيلات الكهربائية في الأجهزة	التجربة ونتائجها			
	1	2	3	4
ج 1				
ج 2				
ج 3				

الوثيقة -2-

4. ماذا تستخلص من هذه النتائج التجريبية.

II - تمثل الوثيقة 2- صورة مأخوذة بالمجهر الإلكتروني للغشاء بعد مشبك على مستوى المشبك C. وقد بينت الدراسة بتقنية التفلور المناعية التي تعتمد على تقنية حقن أجسام مضادة مفلورة التي ترتبط انتقائيا بمركبات غشائية ذات طبيعة بروتينية، فلو حظ أن التفلور يظهر على مستوى عناصر موافقة للعناصر "أ" من الوثيقة 2-



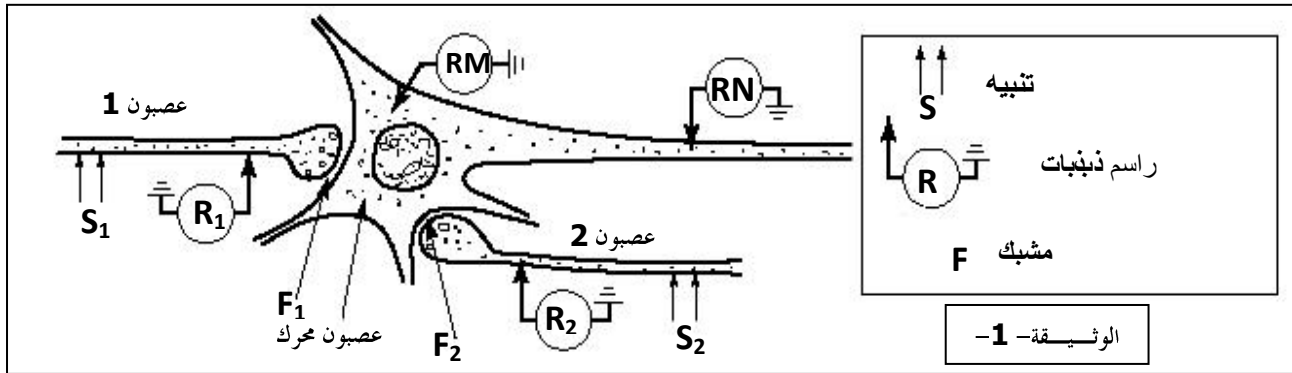
- عند حقن مادة α بنغاروتوكسين (لها بنية فراغية مماثلة للبنية الفراغية للأستيل كولين) على مستوى المشبك C. تبين أنها تشغل أماكن محددة على العناصر "أ" من الوثيقة 2-
- عند إعادة التجربة 3 من الوثيقة 1- في وجود هذه المادة ظهر على راسم الاهتزاز المهبطي (ج) تسجيل مماثل للتسجيل الحاصل عليه في التجربة 4.

1. تعرف على العناصر "أ" من الوثيقة 2- وحدد طبيعتها الكيميائية.
2. كيف يمكنك تفسير النتائج الحاصل عليها على مستوى الجهاز (ج) في هذه الحالة؟
3. استنتج طريقة تأثير الأستيل كولين على مستوى المشبك.

III - مما سبق وبالاستعانة بمعلوماتك حدد آلية انتقال الرسالة العصبية على مستوى المشبك مدعما إجابتك برسم تخطيطي وظيفي.

التمرين العاشر:

قصد التعرف على بعض مظاهر النشاط العصبي و علاقة ذلك بالبروتينات الغشائية للخلايا العصبية أنجزت تجارب على مستوى عصبونات محرّكة من النخاع الشوكي للحيوان باستعمال التركيب التجريبي في الوثيقة 1 :



الوثيقة -2-

التجربة 1 التنبيه في S_1			
التجربة 2 التنبيه في S_2			
التجربة 3 تنبيه آني في S_1 و S_2			
التجربة 3 ثم التنبيه في S_2			

أ. تمثل الوثيقة 2 النتائج المسجلة بعد تجارب مختلفة

1- قارن بين التسجيلات الحاصل عليها إثر التنبيه خلال التجارب 1 و 2 .

2- ما هي طبيعة المشابك: F_1 . F_2 ؟
علل إجابتك.

3- كيف تفسر التسجيلين في المحور الأسطواني

للعصبون المحرك (RN) الحاصل عليهما
خلال التجارب 3 و 4 ؟

العمليات المنجزة	حقن GABA في F ₁	حقن GABA في F ₂	حقن Acétylcholine في F ₁	حقن Acétylcholine في F ₂
التسجيلات في RM				

الوثيقة -3-

ب. لفهم آلية عمل المشبكين السابقين أنجزت تجارب أخرى:

1- بواسطة قطارة مجهرية تم حقن قطرة من الـ GABA

أو الـ Acétylcholine على مستوى F1 و F2

و ذلك في غياب أي تنبيه.

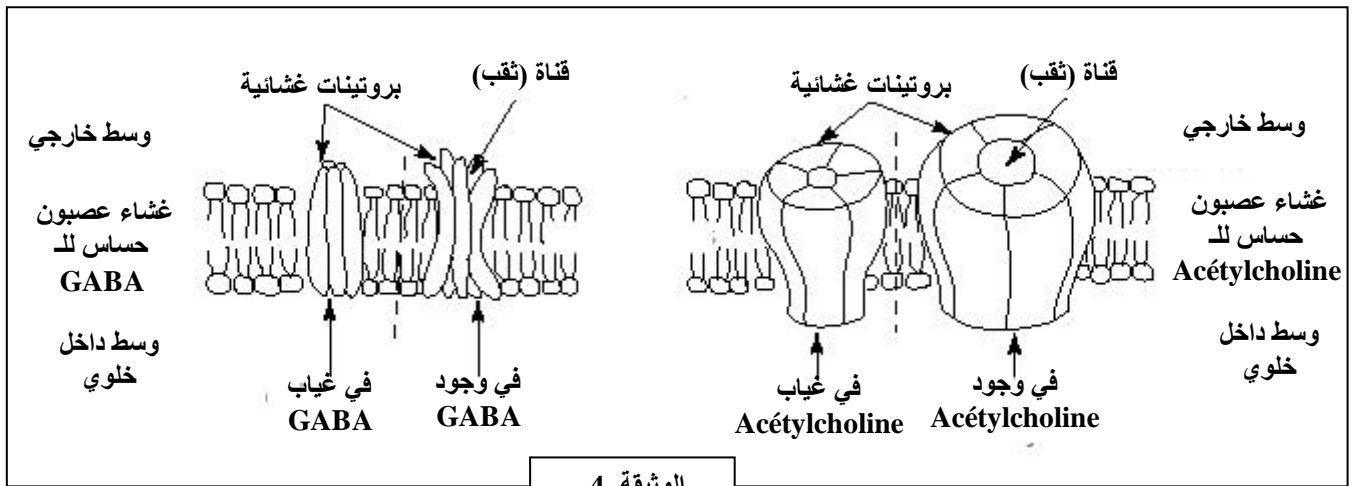
النتائج المسجلة ممثلة في الوثيقة -3- .

ما هي المعلومات التي يمكنك التوصل إليها

من تحليلك للنتائج المسجلة ؟

2- سمحت الدراسة الدقيقة لغشاء العصبون المحرك من وضع الوثيقة 4 .

إلى ماذا يعود تخصص غشاء العصبون المحرك في نشوء الرسالة العصبية بعد المشبكية ؟



الوثيقة -4-

3- أجري تحليل كيميائي للسائل المحيط بالعصبون المحرك و هيولته و ذلك في غياب أي تنبيه. نتائج التحليل ممثلة في الجدول التالي:

الداخل خلوي	الخارج خلوي	الوسط الشوارد
49	440	Na+
410	22	K+
40	560	Cl-

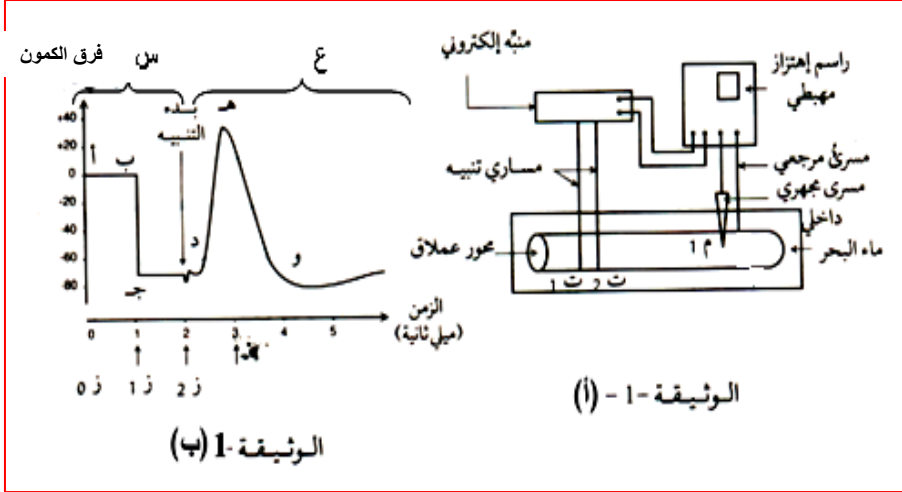
• ما هي المعلومات التي تقدمها لك أرقام الجدول حول خصائص عمل غشاء العصبون الحركي ؟

ج. استنادا إلى المعلومات المستخرجة من هذه الدراسة و معلوماتك بين في نص علمي دقيق العمل المتخصص للبروتينات في النشاط العصبي المدروس

التمرين الحادي عشر:

للبروتينات دور أساسي في الاتصال العصبي ولفهم ذلك أكثر نعالج الموضوع التالي:

I - تمثل الوثيقة 1 (أ) التركيب التجريبي الذي يسمح بدراسة الظاهرة الكهربائية المرافقة لانتقال السيالة العصبية، بينما تمثل الوثيقة 1



(ب) التسجيلات المحصل عليها بواسطة هذا

التركيب في الأزمنة (ز0 ، ز1 ، ز2) حيث:

في ز0 : يوضع المسرى المجهري م1 على

سطح الخور الأسطواني التسجيل (أ - ب)

في ز1 : يغرز داخل الخور فتحصل

على التسجيل (ب ج)

في ز2 : نحدث تنبيه فعال فتحصل

على التسجيل -ع-.

1. ما هي خاصية الخور التي تم إظهارها

في التسجيل - س - من الوثيقة 1 ب وضح ذلك برسم بسيط ؟ حدد مصدرها ثم بين كيف يتم الحفاظ عليها ؟

2. حلل وفسر الجزء (ع) معتمدا على الظواهر الكيميائية مبرزا دور البروتينات في ذلك.

II - تمثل الوثيقة 2 رسم تخطيطي لعصبون حركي (ن) من النخاع الشوكي لحيوان

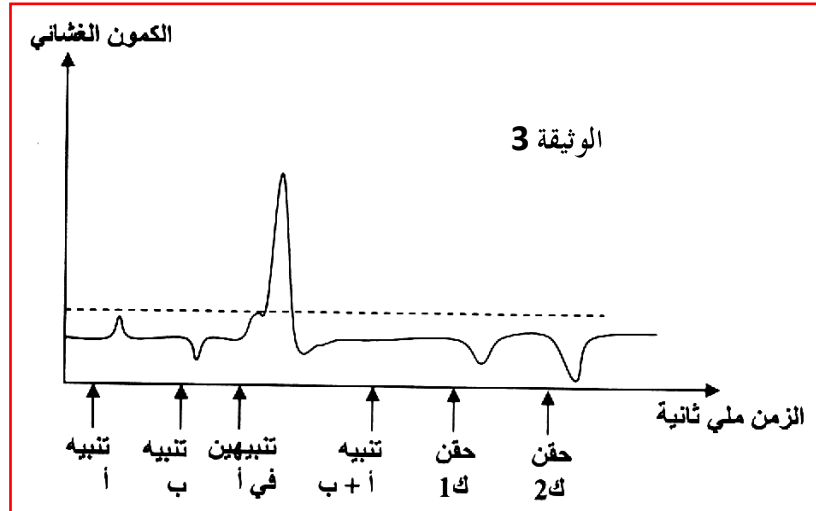
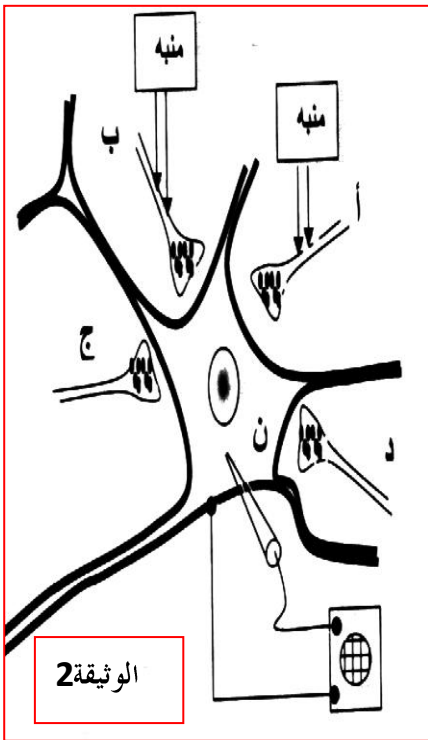
ثدي الألياف (أ ، ب ، ج ، د) محاور أسطوانية لعصبونات عقدة شوكية.

نبيه (أ) ، نبيه (ب) ، نبيه (أ ، ب) ، نبيه (أ) تنبيهات متتالية ، نحقن في المشبك

(ب ، ن) مادة حمض غما أمينو بيوتريك (GABA) بتراكيز متزايدة نسجل

تغيرات استقطاب العصبون (ن) بواسطة راسم الاهتزاز المهبطي. النتائج موضحة

في الوثيقة 3



1. حلل التسجيلات المحصل عليها في الوثيقة 3 وماذا تستخلص من كل تسجيل ؟

2. وضح في رسم تخطيطي عليه كافة البيانات آلية عمل المشبك (أ ، ن) والمشبك (ب ، ن).

التمرين الثاني عشر:

I - لكي نبن أهمية الفارق في تركيز الـ Na^+ و الـ K^+ على جانبي غشاء الليف العصبي وكيف يتم المحافظة على ذلك أنجزنا التجارب التالية:

التجربة 01: نضع ليف عصبي للكالمار في سائل فيزيولوجي ، مع تغيير تركيز K^+ في هذا السائل ، ثم نحدد فرق الكمون الغشائي المقابل لكل قيمة جديدة من هذا التركيز . يمثل الجدول التالي النتائج المتحصل عليها :

120	100	80	60	50	40	30	20	10	تركيز الـ K^+ (m.mol/L)
0	3	8	15	20	26	35	50	60	القيمة المطلقة لكمون الراحة (m.v)

1 - أنجز منحنى تغيرات كمون الراحة بدلالة تركيز K^+ الخارجي.

2 - ماذا تستنتج بخصوص تطور قيمة كمون الراحة حسب تركيز K^+ خارج المحور ؟

التجربة 02: تمثل الوثيقة 01 ظواهر كيميائية في نقطة منبهة من غشاء الليف العصبي .

3 - حلل وفسر هذه الظواهر .

التجربة 03: وضع محور اسطواني الكالمار في ماء بحر به Na^+ مشع فأصبحت

الهيولة مشعة في ظرف بضع ساعات .

4 - ما خاصية غشاء المحور بالنسبة للـ Na^+ والتي يمكن استخلاصها من هذه التجربة؟

- يبدي الغشاء نفس الخاصية بالنسبة الـ K^+ .

5 - ما الحركات التي يمكن توقعها لأيونات K^+ و Na^+ عبر هذا الغشاء ؟

التجربة 04: نقل المحور المشع للتجربة 03 إلى ماء بحر عادي متجدد بانتظام ، فظهر Na^+ مشع في الماء المتجدد.

6 - معتمدا على نتائج هذه التجربة فقط ، فسر الآليات التي تثبت توزع أيونات الـ Na^+ قبل التنبيه .

التجربة 05: لتفسير طبيعة هذه الآليات حققت كمية من الـ Na^+ المشع في محور الكالمار، ثم وضع هذا المحور في ماء بحر يحتوي على Na^+

عادي، مع تجديد الماء خلال فترات زمنية منتظمة.

نتائج قياس كمية الـ Na^+ المشع الذي يظهر في الماء ممثلة في الوثيقة 02 .

في ز1 : أضيف السيانور إلى ماء البحر (مادة سامة توقف تركيب الـ ATP) .

في ز2 : حقن المحور بكمية من الـ ATP .

في ز3 : وضع المحور في ماء بحر عادي .

النتائج المحصل عليها ممثلة في المنحنى (ص) أما المنحنى (س) فيمثل نتائج تجربة بدون سيانور.

7 - حلل وفسر المنحنيين (س) و (ص) .

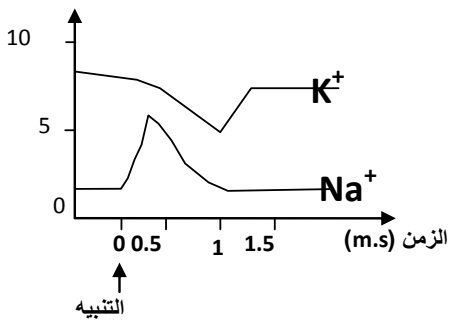
8 - حدد طبيعة وعمل الآليات التي تحافظ على ثبات تركيز أيونات Na^+ و K^+ خلال

كمون الراحة .

II - مما سبق ومعلوماتك أنجز رسما تخطيطيا مبسطا تظهر من خلاله البنيات والآليات المتدخلة في تبادل أيونات الـ Na^+ و الـ K^+ عبر الغشاء

الهيولي للليف العصبي خلال كمون الراحة.

التراكيز داخل الخلية
(m.mol/L)

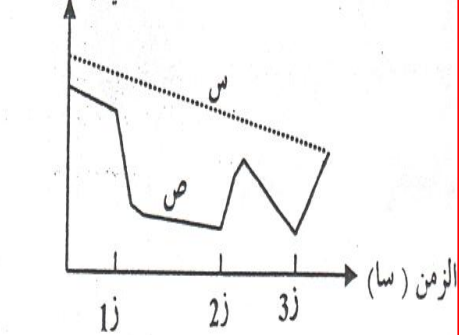


الوثيقة 01

كمية Na^+ المشع الذي يفقده

الوثيقة 02

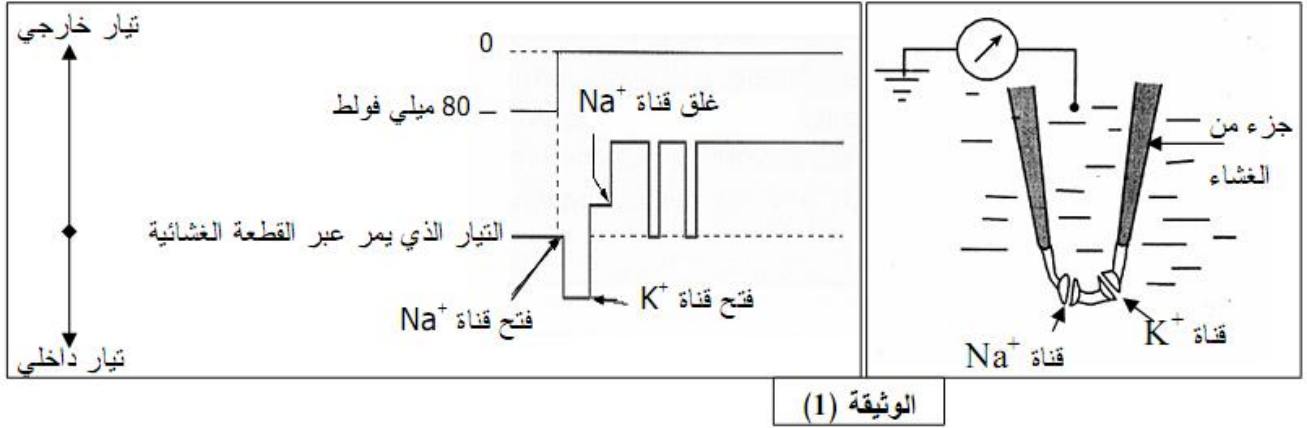
الليف العصبي في كل دقيقة



التمرين الثالث عشر:

نقل السيالة العصبية على مستوى المشبك تؤمنه وسائط كيميائية تحررها النهايات العصبية للعصبون قبل مشبكي والتي يتولد عنها كمون على مستوى الغشاء بعد مشبكي. نقترح في هذا التمرين دراسة آلية انتقال الرسالة العصبية على مستوى المشبك بتدخل وسائط عصبية.

I - 1 - طبق تغير في كمون جزء من غشاء مشبكي (تم عزله بتقنية **patch - clamp**) يحوي قناتين فقط احدهما خاصة بـ Na^+ والأخرى خاصة بـ K^+ . التركيب التجريبي والنتائج المحصل عليها ممثلة في الوثيقة 1-1



أ. حلل التسجيلين المحصل عليهما.

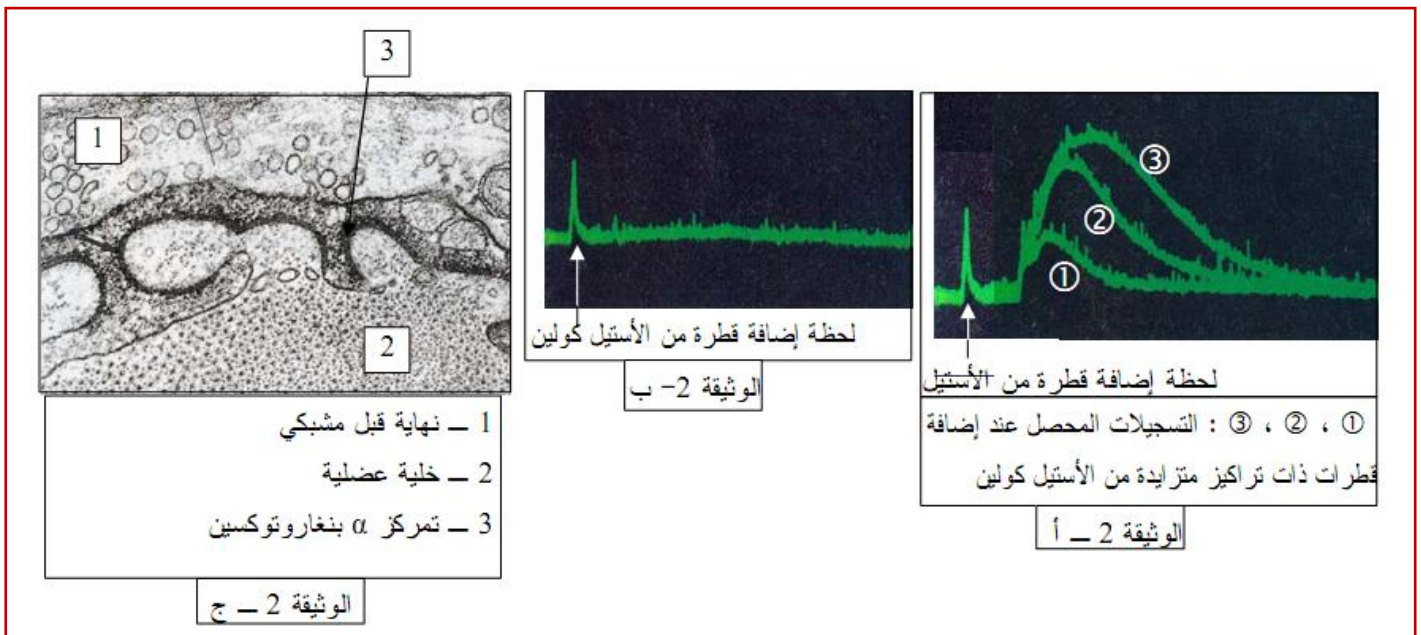
ب. ماذا يمكنك استخلاصه فيما يخص مصدر كمون العمل المتولد عن تنبيه؟

2 - نقترح الأشكال (أ، ب، ج) من الوثيقة 01 حيث:

— الوثيقة (2. أ) : الحالة الكهربائية للغشاء بعد مشبكي أضيفت له كميات متزايدة من الأستيل كولين .

— الوثيقة (2. ب) : التسجيل المحصل عليه بعد حقن الأستيل كولين ثم حقن مادة α بنغاروتوكسين وهي مادة سامة تسبب الشلل مستخلصة من سم الأفعى.

— الوثيقة (2. ج) : صورة بالجهر الإلكتروني لمنطقة اتصال عصبي - عضلي تمت معالجتها بمادة α بنغاروتوكسين المشعة .

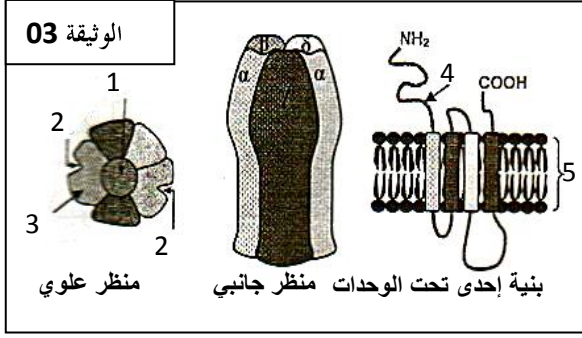


1 - أربط علاقة بين الأشكال (أ، ب، ج)، لتفسير آلية نقل الرسالة العصبية على مستوى مشبك ذي أستيل كولين .

2 - ما الفرضية المقترحة فيما يخص تأثير مادة α بنغاروتوكسين على مستوى الغشاء بعد مشبكي ؟

— سمحت تقنية الفلورة المتاعية من تحديد موضع مستقبلات غشائية خاصة بالأستيل كولين على مستوى الغشاء بعد مشبكي .

3- هل تسمح لك هذه النتيجة بتأكيد الفرضية المقترحة في السؤال (2) ؟ علل إجابتك.



II - تظهر الوثيقة 03 البنية الفراغية لمستقبل الأستيل كولين وبنية إحدى

تحت وحداته، مع رسم توضيحي لمظهر علوي.

1- تعرف على البيانات المرقمة .

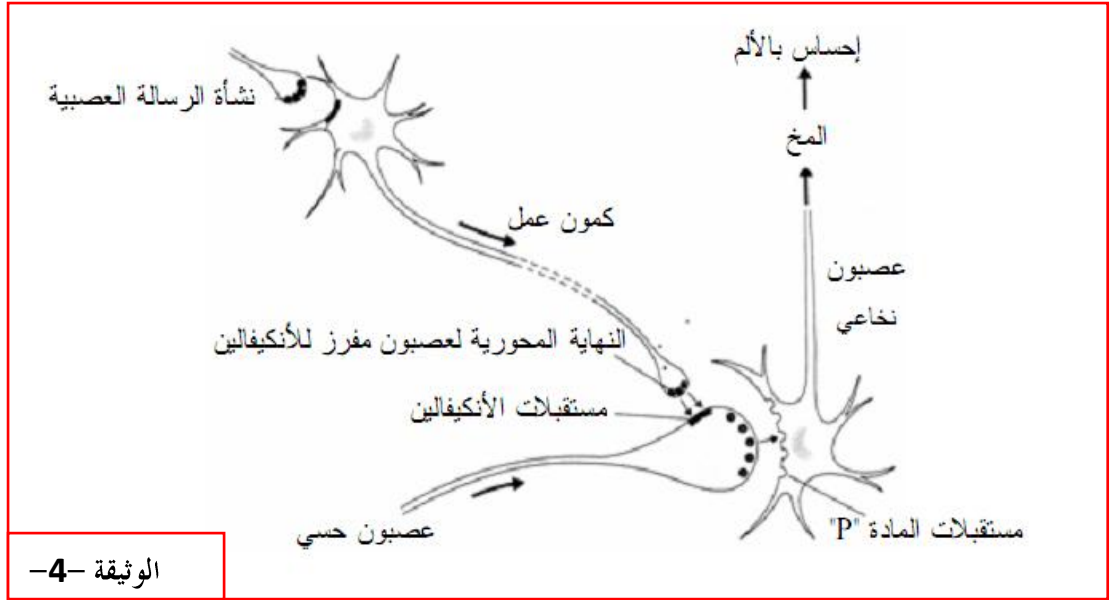
2- حدد الطبيعة الكيميائية لمستقبل الأستيل كولين ، ثم صف بنيته .

3- علل تسمية هذه المستقبلات بالقنوات الكيميائية .

4- بين برسم تخطيطي عليه البيانات اللازمة كيف تعمل هذه القنوات

على مراقبة تدفق شوارد الـ Na^+ .

II - تمثل الوثيقة 4- المسار العصبي المتدخل في نقل الألم وتخفيفه على مستوى النخاع الشوكي



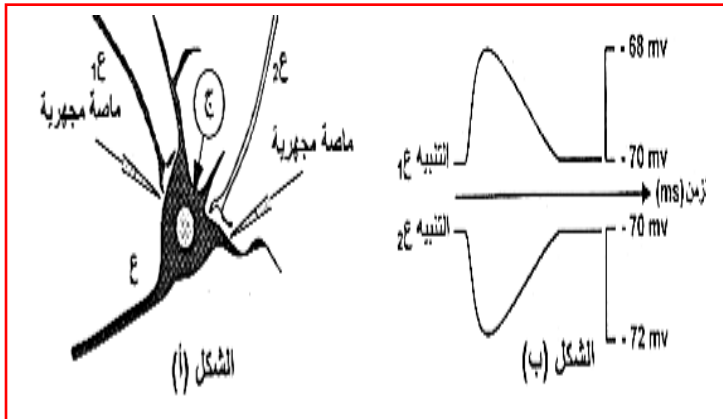
****** بالاستعانة بالوثيقة 4- حدد الدعامة العصبية الناقلة للإحساس ————— اس بالألم وفسر كيف يتم تخفيف هذا الإحساس

في وجود بعض المخدرات مثل المورفين.

التمرين الرابع عشر:

يدمج العصبون بعد مشبكي مختلف الكمونات التي ترد إليه والآلية إما من نفس العصبون قبل مشبكي أو من عصبونات قبل مشبكية مختلفة .

قصد التعرف على أنواع المشابك وآلية الإدماج العصبي نقترح الدراسة التالية :



I - الشكل (أ) من الوثيقة (1) يمثل نهايات عصبية تتم فصل

مع الجسم الخلوي لعصبون محرك ، بينما الشكل (ب) يمثل

التسجيلات المتحصل عليها في جهاز التسجيل (ج) بعد تنبيه

فعال في 1ع و 2ع .

1- حلل التسجيلات الناتجة ، ثم استخراج نوع المشبكين

(1ع - 2ع) و (2ع - 3ع) .

الوثيقة (1)

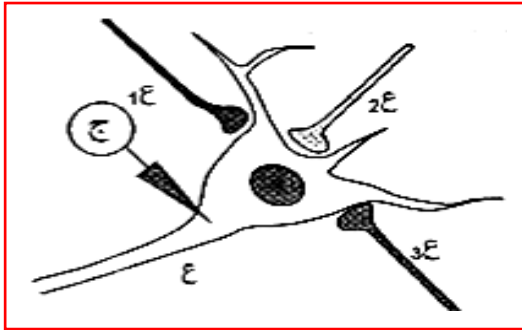
الوثيقة (2)	
حقن مادة الـ GABA	حقن مادة الأستيل كولين
المشبك (ع-1ع)	
المشبك (ع-2ع)	

2 - باستعمال ماصة مجهرية نضيف مواد كيميائية مختلفة على مستوى المشبك (ع1 - ع) والمشبك (ع2 - ع) ثم نسجل في جهاز التسجيل (ج) .

النتائج المتحصل عليها مدونة في جدول الوثيقة (2) :

* قارن بين النتائج المتحصل عليها في كل حالة . ماذا تستنتج ؟

3 - انطلاقا مما سبق وبالاستعانة بمعلوماتك ، أنجز رسما تخطيطيا وظيفيا يوضح عمل كل من المشبك (ع1 - ع) والمشبك (ع2 - ع)



الوثيقة (3)

II - نجز التركيب التجريبي الموضح في الوثيقة (3) ، ثم نجري

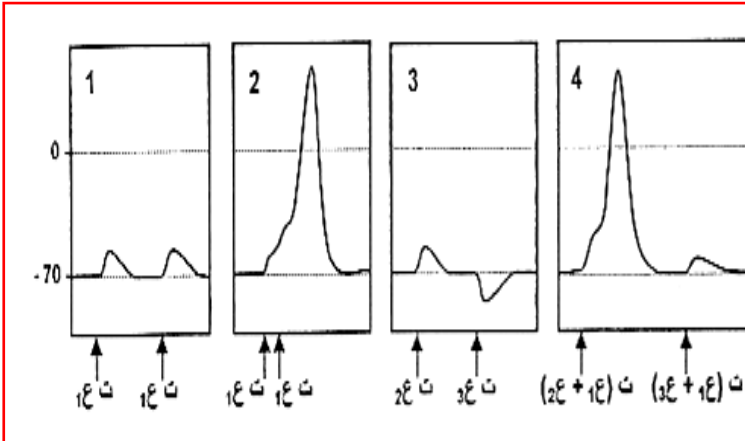
تنبيهات فعالة (ت) وبجالات مختلفة على العصبونات 1ع ، 2ع ، 3ع .

الحالة 1 : تنبيهين متتابعين للعصبون 1ع .

الحالة 2 : تنبيهين متقاربين للعصبون 1ع .

الحالة 3 : تنبيه العصبون 2ع ثم العصبون 3ع .

الحالة 4 : تنبيه العصبون 1ع والعصبون 2ع في نفس الوقت ، وبعد مدة زمنية تنبيه العصبون 1ع و العصبون 3ع في نفس الوقت .



النتائج المتحصل عليها على جهاز التسجيل (ج) موضحة

في الوثيقة (4)

1 - حلل التسجيلات الناتجة في كل حالة .

2 - قدم تفسيرا لتسجيلات الحالتين 2 و 4 .

3 - استنتج شروط توليد كمون عمل على مستوى

الخلية بعد مشبكية

الوثيقة (4)

التمرين الخامس عشر:

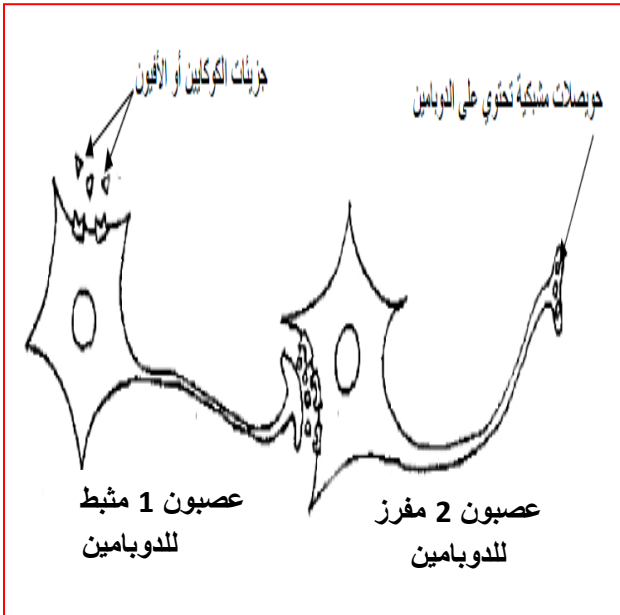
لبروتينات دورا محوريا في انتقال المعلومات العصبية سواء على طول الخلايا العصبية أو المشابك. بالمقابل تتفاعل الكثير من الجزيئات الطبيعية والاصطناعية مع تلك البروتينات خاصة على مستوى المشابك ، مما يؤثر على انتقال المعلومة العصبية على هذا المستوى ، كما أن الشخص الذي يتعاطى هذه الجزيئات باستمرار يصاب بالإدمان.

من أخطر الجزيئات الطبيعية الكوكائين والمورفين التي تؤثر على عصبونات محية عند تنبيهها تفرز مبلغ كيميائي يسمى الدوبامين

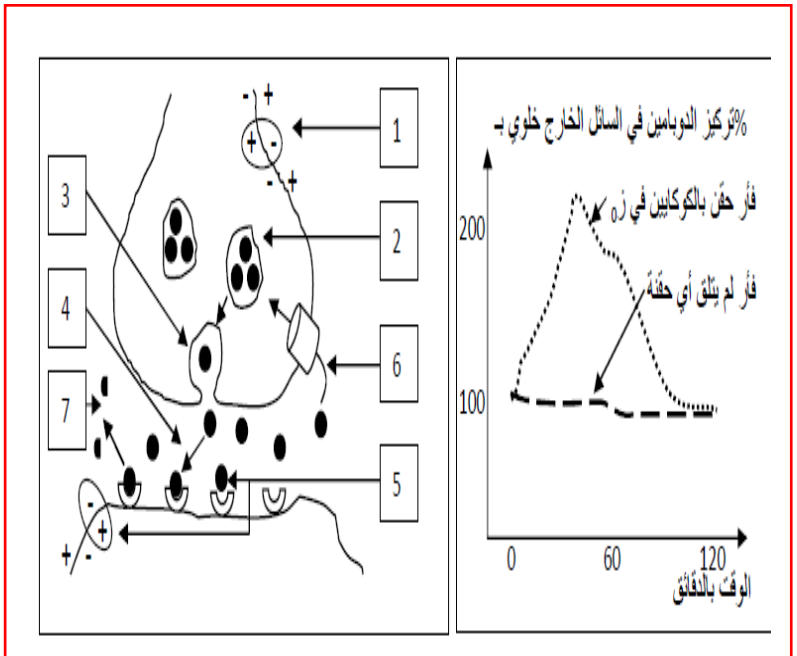
(Dopamine) ، فينتاب الشخص حالة من الراحة النفسية والمتعة ، تعرف هذه السلسلة بنظام المكافأة .

** لمعرفة تأثير مخدر الكوكائين على النقل المشبكي ، أدخل مسبار مجهري في منطقة معينة من مخ الفأر مبروطة بنظام لتتبع تغيرات تركيز

الدوبامين في السائل المحيط بالعصبونات . نتائج التجربة المنجزة ممثلة في الوثيقة (1) .



الوثيقة (3)



الوثيقة (2)

الوثيقة (1)

1 - حلل معطيات الوثيقة (1) ، وما هي المعلومة التي تستخرجها حول تأثير الكوكاين ؟

2 - تبن الوثيقة (2) مخطط آلية عمل مشبك يعمل بالدوبامين :

أ / اشرح في نص علمي طريقة عمل هذا المشبك معتمدا على الأرقام .

ب / مستعينا بالوثيقة (3) ، بين تأثير الكوكاين على النشاط العصبي ، مبرزا في ذات الوقت خطر التعاطي المستمر لهذا المخدر.

التمرين السادس عشر:

تدخل المراكز العصبية في مختلف الإحساسات التي يشعر بها الفرد ، ويهدف التعرف على طريقة تأثير المخدرات على مستوى هذه المراكز

أنجزت الدراسة التالية :

I - تمثل الوثيقة (1) العلاقة البنيوية والوظيفية

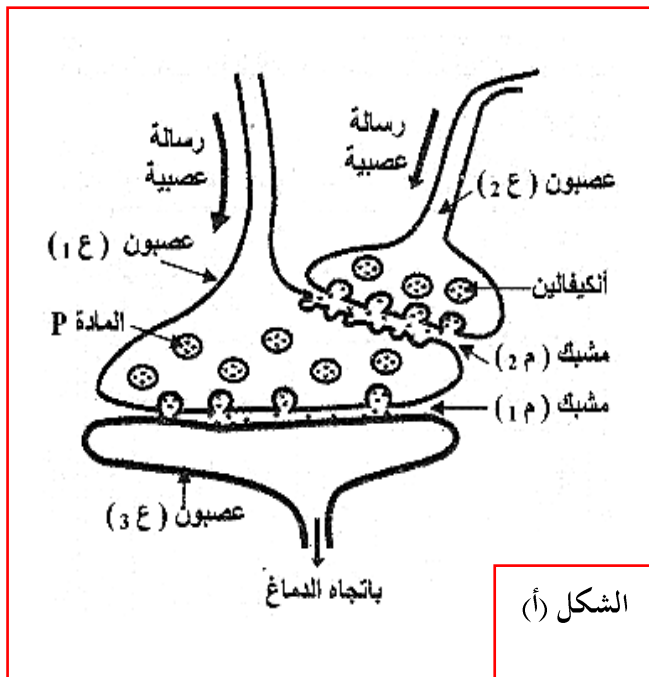
لسلسلة عصبونات تتدخل في نقل الألم موجودة

على مستوى القرن الخلفي للنخاع الشوكي ، حيث:

* العصبون 1ع : عصبون حسي.

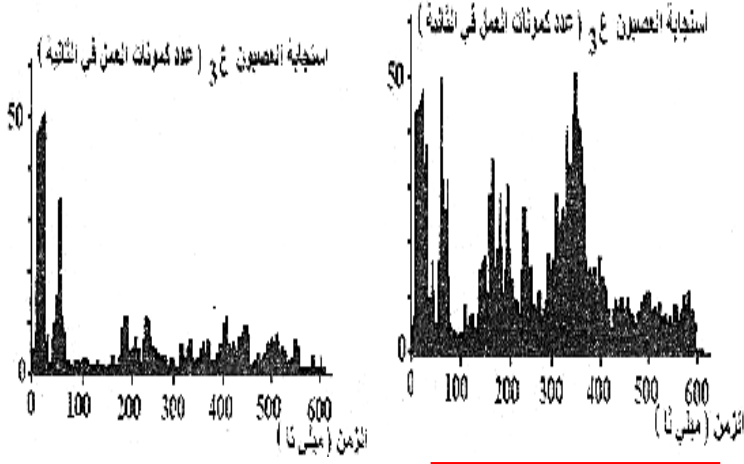
* العصبون 2ع : عصبون جامع.

* العصبون 3ع : العصبون الناقل للألم باتجاه الدماغ.



الشكل (أ)

الوثيقة (2)



الشكل (ب2)

الشكل (ب1)

- يمثل الشكل (ب) من الوثيقة (2) نتائج تواتر كمونات عمل على مستوى العصبون ع3 حيث تم الحصول على :
- * الشكل (ب1) : بعد إحداث تنبيه فعال في العصبون ع1 .
- * الشكل (ب2) : بعد 5 دقائق من إضافة المورفين على مستوى المشبك م2 وإحداث تنبيه فعال في العصبون ع1 .

1 - حلل النتائج الممثلة في الشكلين (ب1) و (ب2) .

• ماذا تستخلص ؟

2 - قدم فرضية تفسر بها طريقة تأثير المورفين على مستوى

سلسلة العصبونات الميمنة في الشكل (أ) .

II - للتحقق من الفرضية السابقة نقتراح ما يلي:

1 - نتائج تجريبية :

* أدى تنبيه كهربائي فعال في العصبون ع1 إلى الإحساس بالألم من جهة ، وظهور كنيف للمادة P في المشبك م1 من جهة أخرى .

* عند إحداث تنبيه كهربائي فعال في كل من العصبون ع2 و العصبون ع1 لم يتم الإحساس بالألم وبالمقابل سجل وجود

مادة الأنكيفالين في المشبك م2 بتركيز كبير .

- كيف تفسر هذه النتائج ؟

2 - تمثل الوثيقة (2) البنية الفراغية لكل من المورفين و الأنكيفالين ، وطريقة

ارتباطهما بالغشاء بعد المشبكي للعصبون ع1 .

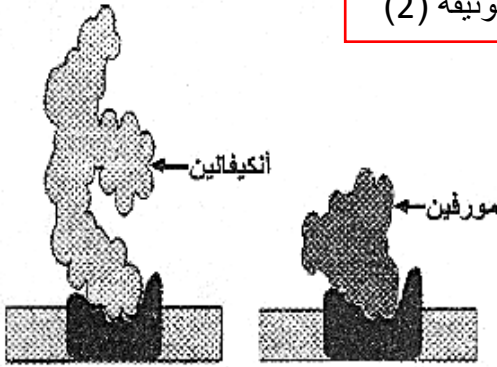
* حلل هذه الوثيقة .

3 - هل تسمح لك كل من النتائج التجريبية والوثيقة (2) بالتحقق من الفرضية

المقترحة سابقا ؟ علل إجابتك .

التمرين السابع عشر:

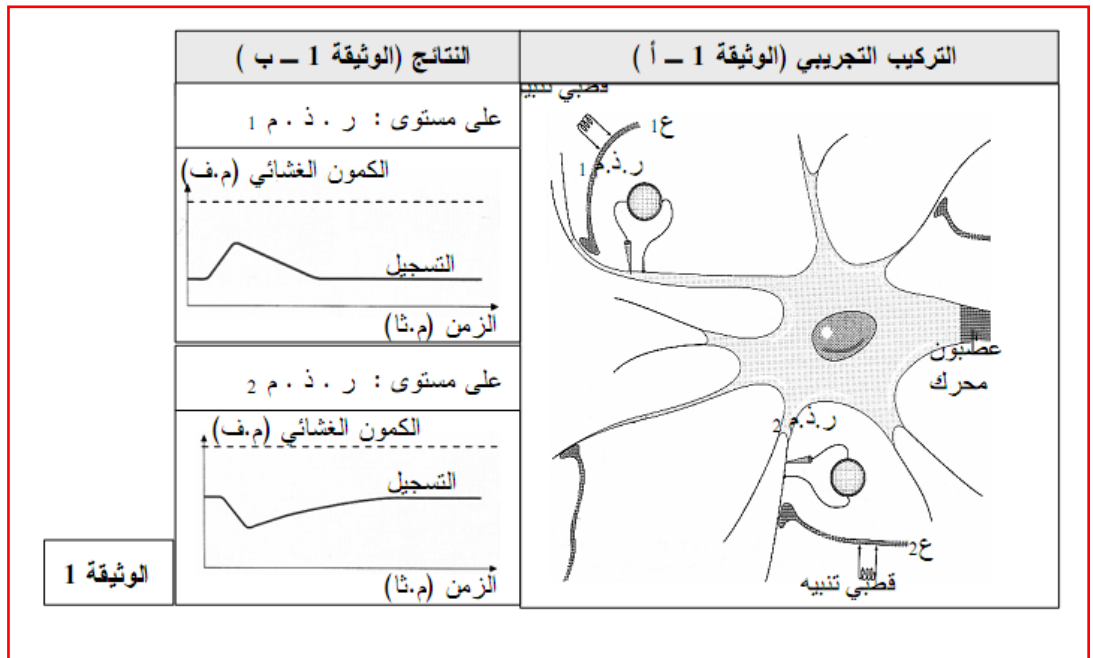
الوثيقة (2)



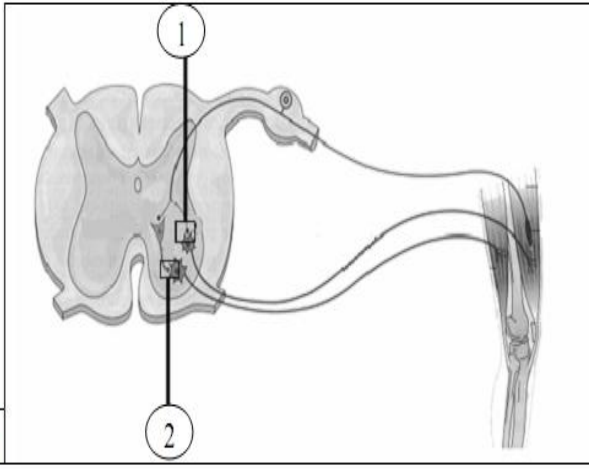
I - في إطار دراسة الإدماج العصبي ننجز التركيب التجريبي الممثل بالوثيقة (1. أ) .

نحدث تنبها فعالا على مستوى العصبونين قبل المشبكين (ع1 و ع2) المتصلين بنفس العصبون الحرك، نسجل كمونات غشائية

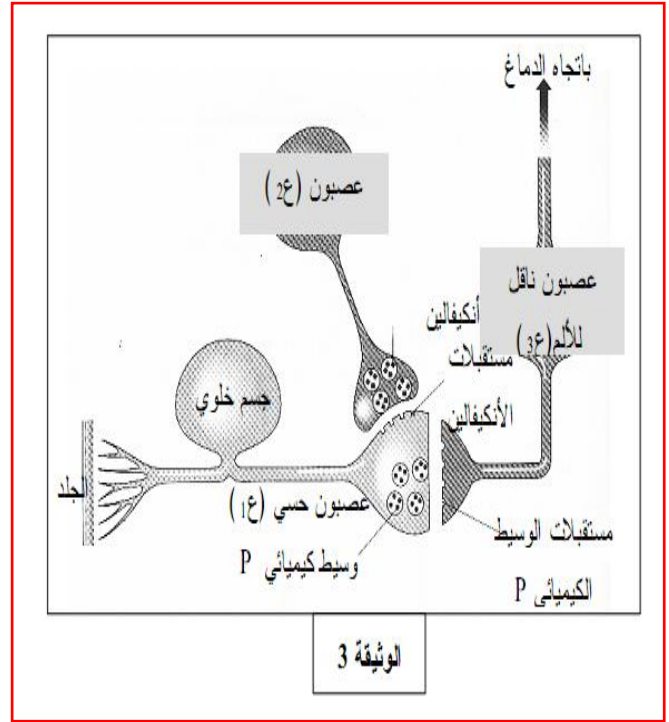
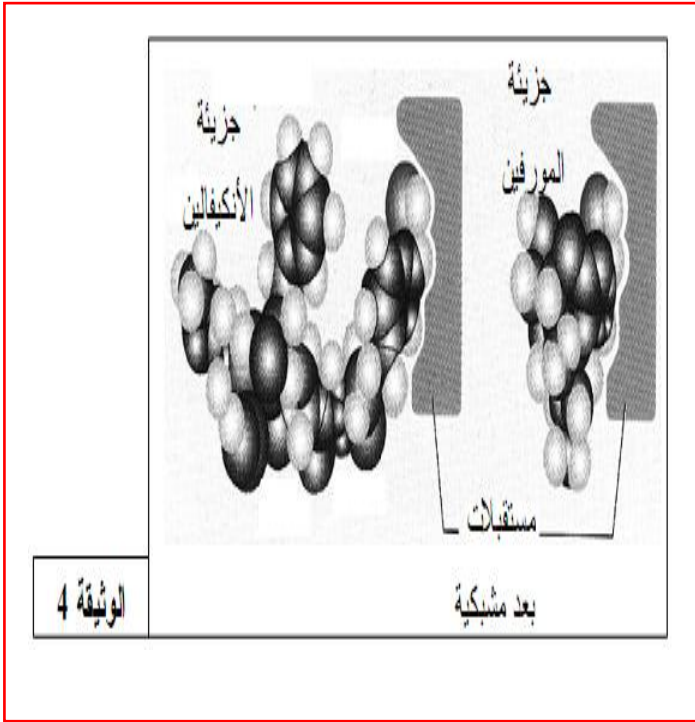
على مستوى كل من راسم الذبذبات المهبطي (رذ م1) و (رذ م2) . الوثيقة (1. ب) .



1. أ. قارن بين التسجيلين الحصل عليهما في الوثيقة (1. ب).
ب. ما هي أنماط المشابك التي تم إظهارها؟
2. بالاستعانة بالمعلومات السابقة فسر كيف يتم دمج الكمونات الغشائية قبل مشبكية على مستوى العصبون المحرك.
3. أ. أعد الرسم الممثل بالوثيقة 2- للمنعكس العضلي واكتب جميع البيانات الضرورية.
ب. أكمل الرسم وذلك بتمثيل الظواهر الأيونية التي تتم على مستوى الغشاء بعد مشبكي لكل من المشبكين 1 و 2



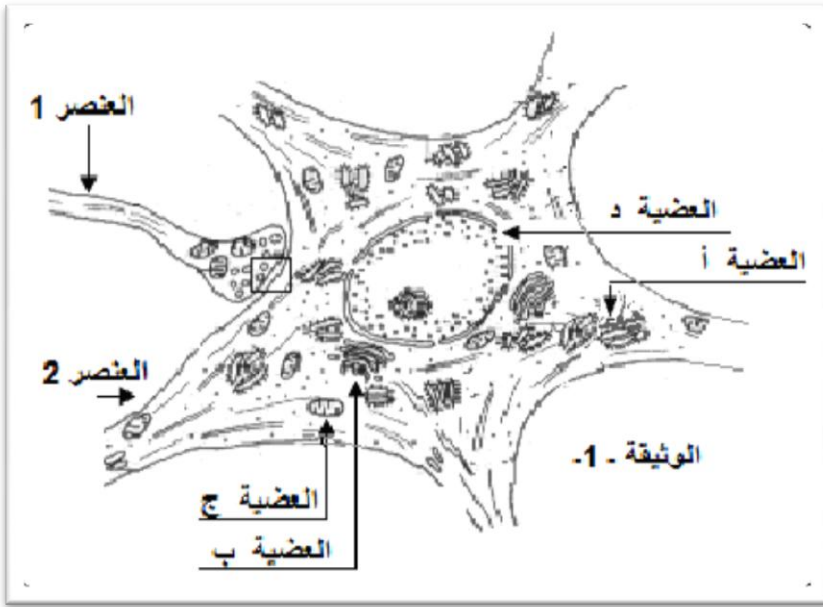
II - نستعمل كل من المورفين والمخدرات التي تحوي الأفيون في الطب كمسكنات قوية مضادة للألم. بينت التحاليل بعد حقن المورفين تواجده على مستوى الشق المشبكي بين العصبون الجامع و العصبون الناخذ للنخاع الشوكي. كما بينت الدراسات أن العصبون الناخذ يفرز وسيط كيميائي يؤثر به على العصبون الناقل للألم كما هو موضح في الوثيقة 3-3-



تمثل الوثيقة 4- صور تركيبية للشكل الفراغي لكل من جزئته المورفين و الأنكفاليين.

1. من خلال استغلالك للوثيقتين 3- و 4- فسر طريقة تأثير المورفين على سلسلة العصبونات المبينة في الوثيقة 3-3-
2. باستعمال المعلومات السابقة ومعلوماتك الخاصة، استخلص تأثير المخدرات على مستوى المشابك.


التمرين الثامن عشر:



1. تمثل الخلية الوحيدة البنائية لكل الكائنات الحية ، فهي تمتلك غمطا بيويا واحدا مع فروقات طفيفة .
تمثل الوثيقة 1 رسما تخطيطيا أنجر اعتبارا من ملاحظات مجهرية للنسج العصبية المكونة للجهاز العصبي المركزي.
أ) أكتب البيانات المشار إليها
ب: أ. ب. ج. د. من الوثيقة 1.

ب) أذكر العلاقة الوظيفية بين كل من:
■ العضية د ، والعضية ب.
■ العضية ب ، والعضية أ.

2. الجزء المؤطر من الوثيقة 1 بنية وظيفية كثيرة التواجد ضمن النسيج المكون للمراكز العصبية كالدماغ .
أ) عدد العناصر المكونة لهذه البنية المؤطرة.
ب) اذكر خصائص كل عنصر من عناصرها البنيوية.
3. يتطلب نشاط هذه البنية (الجزء المؤطر) شوارد Ca^{++} . الوثيقة 2 ملاحظات مجهرية أخذت في مرحلة النشاط.



— عند سحب كل شوارد الكالسيوم (Ca^{++}) من العنصر 3 و وسط الحوض ، فإن التنبيه المحدث في مستوى العنصر 1 لا يتبع بأي تسجيل بياني على جهاز التسجيل المرتبط بالعنصر 2 ، بينما يسجل جهاز التسجيل المرتبط بالعنصر 1 كمون عمل و تحافظ بنية الوثيقة 2 على مظهرها الممثل بالشكل 1.

— عند حقن شوارد Ca^{++} في نهاية العنصر 1، فإنه لا يظهر على جهاز التسجيل المرتبط بهذا العنصر أي تسجيل بياني لكن جهاز التسجيل المرتبط بالعنصر 2 يُظهر كمون عمل ويصبح مظهر هذه البنية كما يمثله الشكل 2 من الوثيقة 2.

— عند حقن الإيكورين في نهاية العنصر 1، فإنه يصبح مضيقا في 1 فقط وذلك خلال انتقال السيالة العصبية في مستوى هذه البنية و يصبح مظهرها كما يمثله الشكل 2 من الوثيقة 2.

(الإيكورين بروتين له القدرة على الارتباط بشوارد الكالسيوم (Ca^{++}) فيصبح يصدر إشعاعات ضوئية)

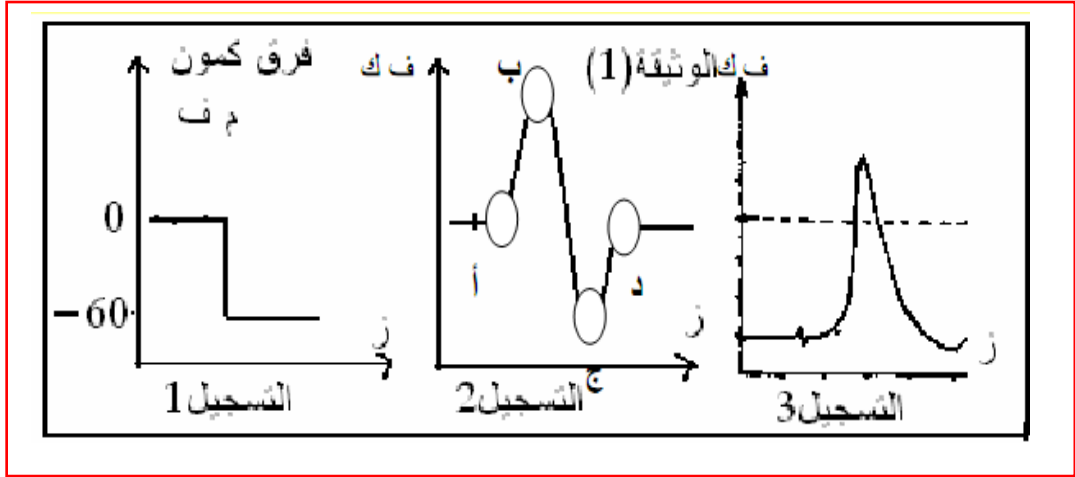
أ) حلل هذه النتائج.

ب) ما هي العلاقة بين تواجد شوارد الكالسيوم ومظهر نهاية البنية أ التي تبديها الوثيقة 2 ؟

ت) معتمدا على ما توصلت إليه ومعلوماتك الخاصة اشرح ماذا يحدث خلال نقل السيالة العصبية في مستوى بنية الوثيقة 2

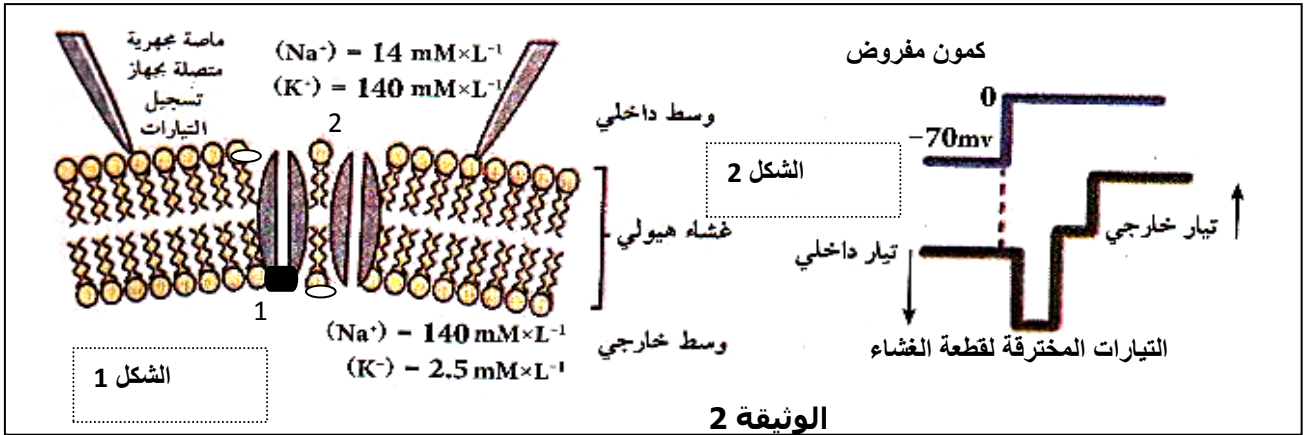
التمرين التاسع عشر:

يهدف هذا الموضوع لدراسة بعض الظواهر الكهربائية و الشاردية للكمون الغشائي:
I - تمثل الوثيقة 1 تسجيلات ارتسمت على شاشة ر.ذ.م خلال دراسة نشاط محور العملاق للكالمار.



1. حدد بالنسبة لكل تسجيل موضع مسرين الاستقبال . و بين في كل حالة هل أحدثنا تنبيها أم لا ؟
2. ضع عنوانا مناسب لكل تسجيل .
3. يرافق انتقال السيالة العصبية على طول غشاء الليف العصبي ظواهر كهربائية .
حدد على مستوى الدوائر المشار إليها في التسجيل (2) توزع الشحنات الكهربائية على جانبي غشاء المحور العملاق للكالمار .

II - يوضح الشكل 1 من الوثيقة (2) المبدأ المتبع في تحضير قطعة من غشاء المحور العملاق للكالمار ، أما الشكل 2 من نفس الوثيقة فيظهر تسجيل التيارات الداخلة و الخارجة الناتجة إثر فرض كمون على قطعة الغشاء المعزولة السابقة.



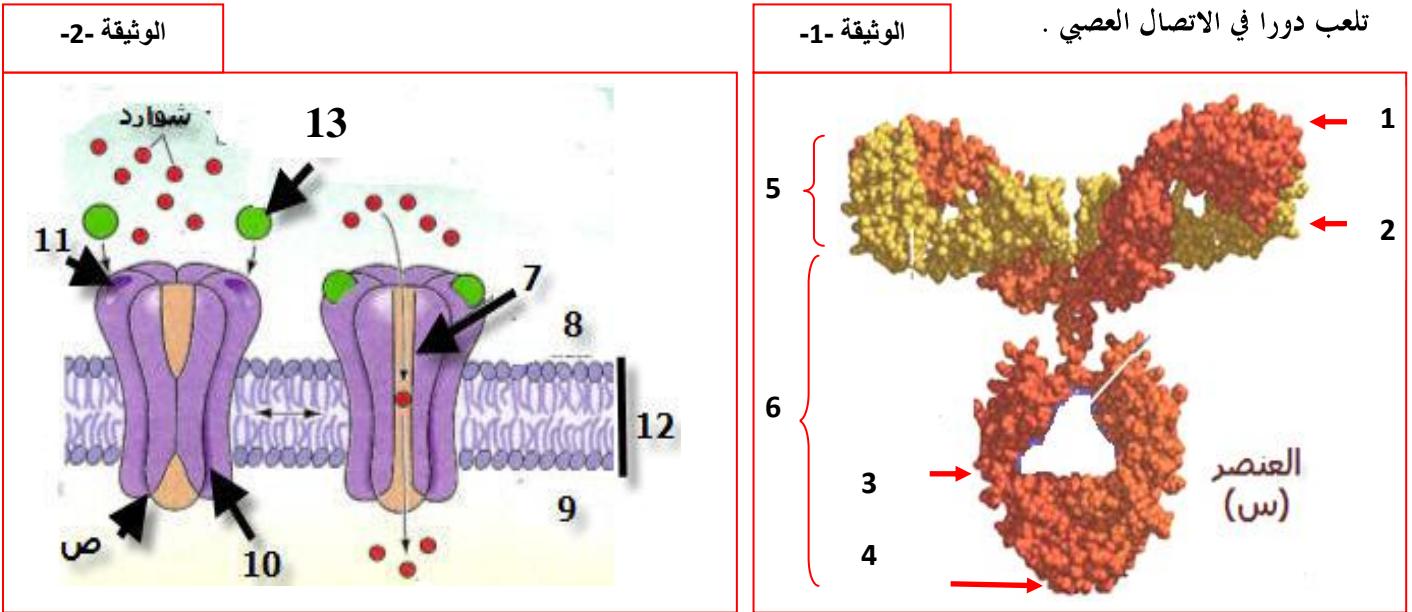
1. أعط عنوانا مناسباً لكل شكل.
2. سم القناتين 01 و 02 .
3. ما هي الفرضية التي يمكن وضعها كمصدر للتياريني الداخلي والخارجي ؟
4. كخلاصة لما ورد في التمرين و معلوماتك، اشرح في نص علمي الظواهر الكهربائية و الشاردية لمختلف الكمونات الغشائية.

التمرين العشريون:

البروتينات جزيئات حيوية تأخذ بعد تركيبها بنيات فراغية محددة ومعقدة لتأدية وظيفتها المحددة.

يهدف هذا الموضوع دراسة بعض وظائف البروتينات مثل ضمان الاتصال العصبي والدفاع عن الذات.

I - تمثل الوثيقة (1) النموذج الجزيئي ثلاثي الأبعاد للعنصر (س) الذي يلعب دورا في الدفاع عن الذات، بينما عناصر (ص) من الوثيقة (2)



1 - تعرف على العنصرين (س) و (ص) . ثم أكتب البيانات المرقمة من 1 إلى 13.

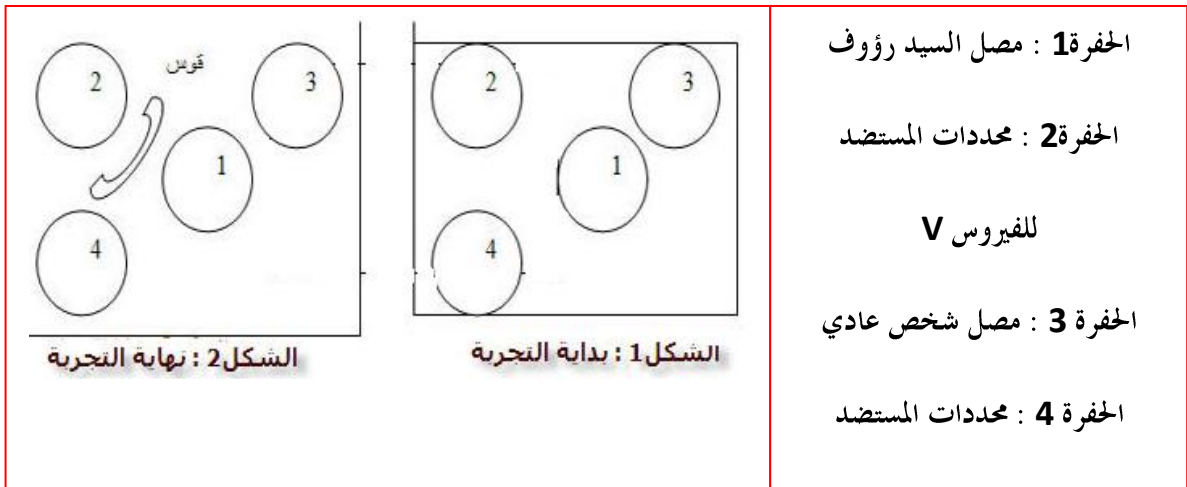
2 - أذكر الاختلاف بين العنصرين (س) و(ص) من حيث البنية.

3 - تتكون العناصر السابقة من ارتباط وحدات بنائية بسيطة. وضح بمعادلة كيميائية كيفية ارتباط ثلاث وحدات مستخدما صيغتها العامة.

II - نجري الآن سلسلة من التجارب للتعرف على دور العنصرين (س) و(ص) .

1 - ينتج مرض المونونيكليوز **Mononucleose** نتيجة الإصابة بفيروس **V** . للتأكد من إصابة أوسلامة السيد رؤوف من هذا المرض

أنجزت التجربة التالية: نضع فوق صفيحة زجاجية مغطاة بطبقة من الجيلاتين تسمح بانتشار المواد . محال مختلفة في حفرة كما هو مبين في الوثيقة (3).



الوثيقة -3-

أ - فسر تشكل قوس الترسيب. ماذا تستنتج ؟

ب - ما نوع الاستجابة المناعية المكشوف عنها ؟ . علل إجابتك.

ج - أنجز رسما تخطيطيا مفسرا لأحد العناصر المكونة للقوس.

2 - لإبراز بعض جوانب آلية الاستجابة المناعية عند رؤوف تم القيام بعزل:

* بلعميات كبيرة M1 فقط من عند رؤوف

* بلعميات كبيرة M2 ولفاويات LT ولفاويات LB من التوأم الحقيقي لرؤوف غير المصاب بالمرض الذي يعاني منه رؤوف.

تم زرع هذه الخلايا في أوساط زرع مختلفة. تلخص الوثيقة (4) شروط ونتائج التجارب المنجزة.

الأوساط	1	2	3	4	5	6
مكونات الوسط	M1+ LB	LT4+M1	LB+LT4	LB+LT4+M1	LB+LT4+M2	LB+M1+السائل
النتائج	غياب الخلايا البلازمية	غياب الخلايا البلازمية	بلازميات كثيرة	بلازميات كثيرة	غياب الخلايا البلازمية	بلازميات كثيرة

أ - قارن النتائج المحصل عليها في كل من الأوساط 1 و 2 و 3 من جهة , بتلك المسجلة في الوسط 4 من جهة ثانية ؟ ماذا تستنتج ؟

ب - اعتمادا على إجابتك السابقة. كيف تفسر النتائج المحصل عليها في الوسط 5 .

ج - انطلاقا من نتائج الأوساط 1 و 4 و 6 . استنتج دور اللفاويات LT

3 - يبين الشكل (أ) التركيب التجريبي الذي يسمح بدراسة التسجيلات الكهربائية في الليف العصبي , بينما يمثل الشكل (ب) المنحنى المسجل

على شاشة الجهاز (الوثيقة 5)

أ - حلل هذا المنحنى. ما هي الشروط التجريبية لتسجيله؟.

4 - بواسطة تقنية Patch-clamp تمكنا من عزل جزء من

مساحة الغشاء السيتوبلازمي في مستوى الليف العصبي. ونقوم

بعد ذلك بوضع هذا الليف في ثلاث حالات تجريبية:

الحالة الأولى: الوسط الخارجي لليف على مستوى الجزء المعزول

يحتوي على 10 ملي مول/ل من مادة T.E.A التي تمنع نفاذية

الغشاء السيتوبلازمي لشوارد K^+ .

الحالة الثانية: الوسط الخارجي لليف على مستوى الجزء المعزول

يحتوي على بعض الملي مولات من مادة T.T.X التي تمنع نفاذية

الغشاء السيتوبلازمي لشوارد Na^+ .

الحالة الثالثة: الوسط الخارجي لليف العصبي على مستوى الجزء

المعزول لا يحتوي على مادتي T.E.A و T.T.X .

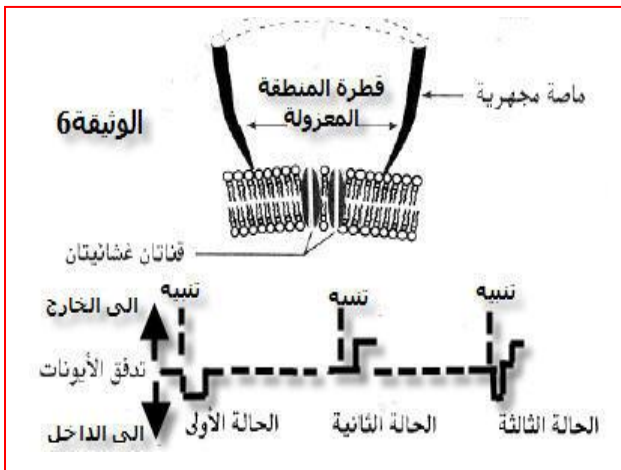
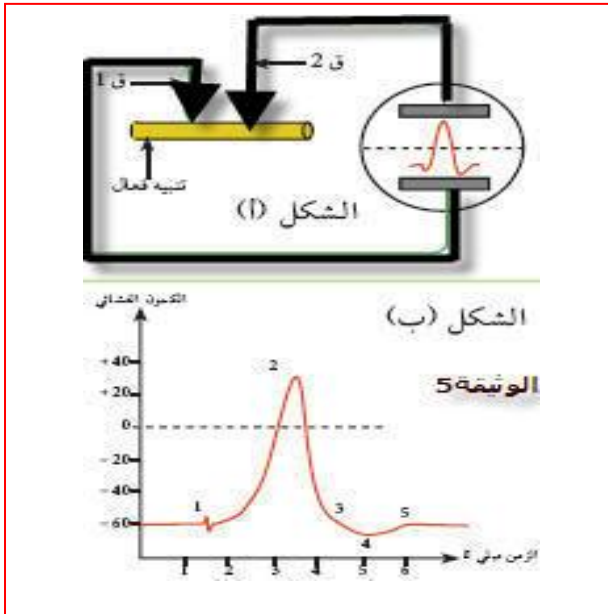
أ - أعط تفسيرا لتدفق الأيوني الملاحظ في كل من الحالتين الأولى والثانية.

ب - بين كيف تمكنت النتائج المحصل عليها في هاتين الحالتين من تفسير

التدفق الأيوني الملاحظ في الحالة الثالثة.

ج - بناء على مختلف المعطيات السابقة. فسر كلا من الجزأين 2 و 3

من الشكل (ب) الوثيقة 5-



III - انطلاقا مما توصلت إليه في هذا الموضوع ومعلوماتك المكتسبة. اكتب نصا علميا دقيقا توضح فيه دور البروتينات في الدفاع

عن الذات والاتصال العصبي.

قال رسول الله ﷺ

من لزم الاستغفار

جعل الله له من كل ضيق مخرجا


ومن كل هم فرجا

ورزقه من حيث لا يحتسب

I. gaitibi



التوبة والنجاة
من الذنوب
والنيل
منها



التمرين الأول: أ . تعريف المصطلحات العلمية:

1. المشبك العصبي: منطقة اتصال وظيفي بين خليتين عصبيتين (مشبك عصبي – عصبي) أو بين خلية عصبية و خلية عضلية (مشبك عصبي – عضلي)
2. يحمل الليف العصبي شحنات موجبة على سطحه وشحنات سالبة في مقطعه وهو ما يعرف بالاستقطاب
3. كمون الراحة: الحالة الكهربائية لليف العصبي في غياب أي تنبيه، وتقدر قيمته بـ -70 ميلي فولط.
4. كمون العمل: الحالة الكهربائية لليف العصبي عند حدوث تنبيه فعال.
5. السيالة العصبية: موجة زوال استقطاب تنتشر على طول الليف العصبي المنبه تنبيهها فعالا.
6. قنوات فولطية: قنوات غشائية من طبيعية بروتينية تسمح بانتقال الشوارد في اتجاه تدرج التركيز يتحكم في عملها تغير كمون الغشاء.
7. قنوات كيميائية: قنوات غشائية من طبيعية بروتينية تسمح بانتقال الشوارد في اتجاه تدرج التركيز يتحكم في عملها المبلغ العصبي.
8. الإدماج العصبي: هو محصلة المجموع الجبري للكمونات بعد المشبكية التثبيته والتشيطية (PPSI+PPSE) ، حيث نسجل كمون عمل بعد مشبكي إذا كانت الحصلة تفوق أو تساوي عتبة توليد كمون عمل.
9. المبلغ الكيميائي العصبي: وسيط كيميائي يطرح في الشق المشبكي تفرزه الخلية قبل مشبكية.
10. أ . التجميع الزمني: هو إدماج عصبي للعصبون الحركي لكمونات بعد مشبكية واردة إليه من مشبك واحد في فترات زمنية متقاربة.
ب . التجميع الفضائي: هو إدماج عصبي للعصبون الحركي لكمونات بعد مشبكية واردة إليه من مشابك مختلفة في نفس الوقت.

ب. الإجابة بدقة :

✓ المقارنة بين القنوات الغشائية المتعددة فتح حدوث الإتصال العصبي.

أوجه المقارنة	القنوات الفولطية	القنوات الكيميائية	قنوات الميز
مكان تواجدها	توجد على مستوى الخلية قبل وبعد مشبكية	على مستوى الخلية بعد مشبكية	توجد على مستوى الخلية قبل وبعد مشبكية
المتحكم في عملها	تغير كمون الغشاء	المبلغ العصبي	مفتوحة باستمرار
دورها	تسمح بتدفق شوارد K^+ و Na^+	تسمح بتدفق شوارد Na^+ فقط	تسمح بتدفق شوارد K^+ و Na^+

✓ آلية عمل المنبهي والتثبيتي والمنبهي التشيطي:

- ❖ المشبك التثبيتي: يؤدي ارتباط المبلغ العصبي ** الأستيل كولين ** بالمستقبلات الغشائية بعد مشبكية إلى فتح قنوات ميوية كيميائية تسمح بتدفق داخلي لشوارد الصوديوم مسببا زوال (انعكاس) استقطاب الخلية بعد مشبكية أي انتشار للرسالة العصبية إذا وصلت قيمة الكمون بعد المشبكي عتبة توليد كمون العمل.
- ❖ المشبك التشيطي: عند تثبيت المبلغ الكيميائي ** GABA ** على المستقبلات الغشائية بعد مشبكية الخاصة به يؤدي إلى فتح القنوات المرتبطة بالكيمياء تسمح في المشبك المشبط بدخول الكلور (تدفق داخلي) وزيادة الاستقطاب أي فرط استقطاب وبالتالي عدم انتشار الرسالة العصبية .

✓ التفصيص الوظيفي للبروتين في الإتصال العصبي:

للتفصيص الوظيفي للبروتين دور هام في النشاط العصبي ويظهر ذلك في :

- القنوات الفولطية: (من طبيعة بروتينية) تسمح بانتقال الشوارد في اتجاه تدرج التركيز يتحكم في عملها كغشاء.
- القنوات الميوية كيميائيا (بروتينات غشائية نوعية في الغشاء بعد مشبكي) يختلف دورها باختلاف المبلغ الكيمائي الذي يتحكم في عملها حيث:

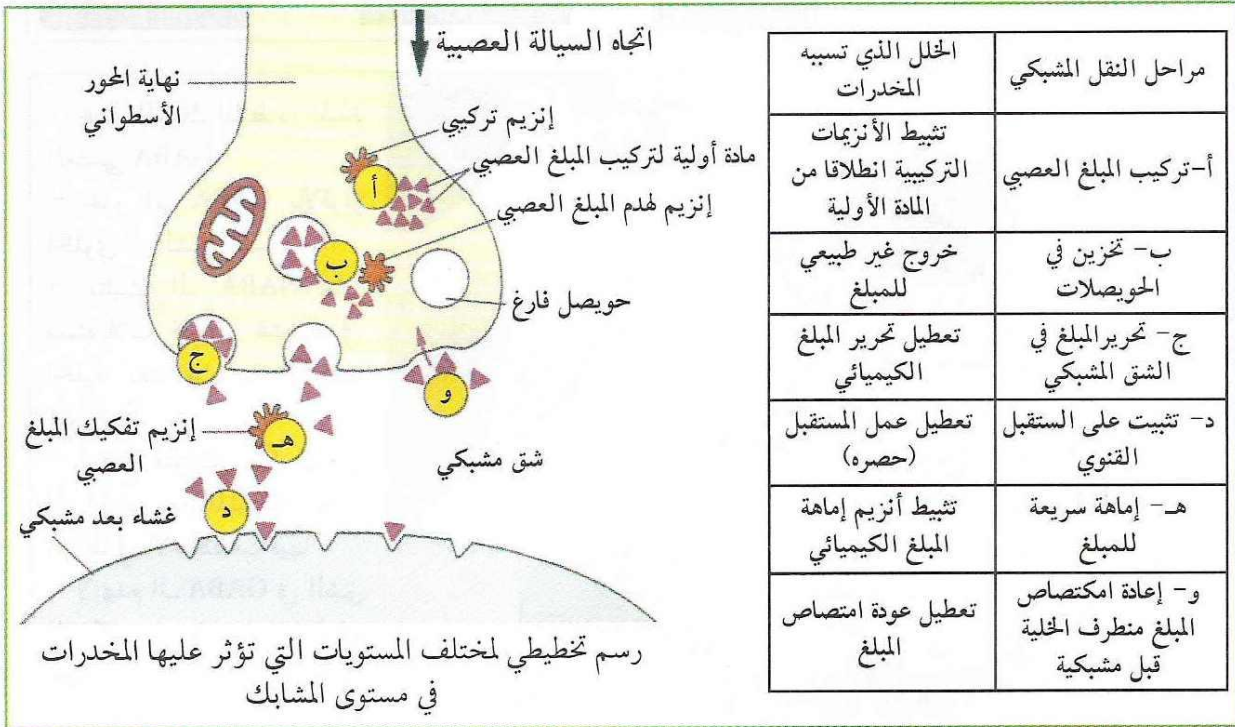
يؤدي ارتباط المبلغ العصبي GABA على تلك البروتينات إلى فتح قنوات ميوية كيميائيا تسمح بمرور شوارد الكلور إلى العصبون الحركي مسببا في فرط استقطابه. (وبالتالي عدم انتقال الرسالة العصبية).

بينما يحتوي غشاء العصبون الحركي من جهة أخرى على بروتينات غشائية بها مواقع ارتباط خاصة بالـ **Acetylcholine** عند ارتباطها بها تفتح قنوات ميوية كيميائيا تسمح بمرور شوارد الـ Na^+ إلى العصبون الحركي مسببا زوال استقطابه **PPSE** وتولد كمون عمل بعد مشبكي إذا كان **PPSE** يساوي أو أكبر من عتبة توليد كمون عمل.

- قنوات الميز (بروتينات غشائية نوعية) تسمح بنفوذ الشوارد في اتجاه تدرج التركيز وتكون مفتوحة باستمرار.
- مضخة الصوديوم والبوتاسيوم (من طبيعة بروتينية) تقوم بنقل مزدوج للشوارد ($3Na^+$, $2K^+$) بألية النقل الفعال.
- إنزيم الأستيل كولين إستراز (بروتين نوعي) يعمل على هدم وتفكيك المبلغ العصبي الأسيل كولين.

✓ تأثير المخدرات على النقل المشبكي:

يمكن للنقل المشبكي أن يختل بتدخل العديد من الجزيئات المستعملة بكثرة في الوقت الحالي، إما لأغراض طبية أو في حالة الإدمان، وذلك تحت تأثير المخدرات. إن آلية النقل المشبكي آلية حساسة يمكنها أن تختل في أي مرحلة من مراحلها. يبين جدول الوثيقة التالية أهم مراحل النقل المشبكي ومختلف المستويات التي يمكن للمخدرات أن تتدخل فيها والمثلة بأحرف.



التمرين الثاني:

I - 1 - طبيعة المشابك مع التعليل:

- * المشبك (1) مشبك تنبيطي. **التعليل:** ظهور فرط استقطاب
- * المشبك (2) مشبك تنبهي. **التعليل:** تشكيل كمون PPSE فوق العتبة أدى إلى تشكيل كمون عمل
- * المشبك (3) مشبك تنبهي. **التعليل:** ظهور كمون غشائي بعد مشبكي منه PPSE .

2 - التفسير:

عند التنبه في ت1 ، ت2 : الكمون الغشائي المتشكل على مستوى العصبون المحرك هو محصلة لكمونين بعد مشبكين [منبه ومثبط] الكمون المتشكل محصلته لم تتجاوز عتبة زوال الاستقطاب لذلك لم يتشكل كمون عمل.

عند التنبه في ت1 ، ت2 ، ت3 : الكمون الغشائي المتشكل على مستوى العصبون المحرك هو محصلة لكمونين بعد مشبكين منبهين وكمون مثبط . الكمون المتشكل محصلته تتجاوز عتبة زوال الاستقطاب لذلك تشكل كمون عمل.

II - أ - التوضيح:

في ت1 : لدينا مشبك تنبيطي يتميز بإفراز المبلغ العصبي GABA في الشق المشبكي حيث يتثبت على مستقبلات غشائية نوعية في الغشاء بعد مشبكي مما يؤدي إلى فتح قنوات مبنوية كيميائيا تسمح بنفوذ شوارد الكلور مسببة تسجيل فرط استقطاب في الغشاء بعد مشبكي.

في ت2 : لدينا مشبك تنبهي يتميز بإفراز المبلغ العصبي الأستيل كولين في الشق المشبكي حيث يتثبت على مستقبلات غشائية نوعية في الغشاء بعد مشبكي مما يؤدي إلى فتح قنوات مبنوية كيميائيا تسمح بنفوذ شوارد الصوديوم مسببة تسجيل زوال استقطاب في الغشاء بعد مشبكي.

ب - الشرح: يعمل العصبون المحرك على إيجاد الحصلة أو القيمة الجبرية للكمونات الغشائية بعد مشبكية المثبطة والمنبهة على مستوى المنطقة المولدة (القطعة الابتدائية) فإذا كانت الحصلة تتجاوز عتبة زوال الاستقطاب تؤدي إلى تشكيل كمون عمل أما إذا كانت الحصلة أقل من عتبة زوال الاستقطاب فإنه يبقى موضعيا ولا يتشكل كمون عمل. [تتم الحصلة إما بتجميع زمني أو تجميع فضائي]

التمرين الثالث:

التجربة 01:

أ - من خلال الجدول نلاحظ تقارب في تركيز الشوارد بين ماء البحر ودم الحيوان الذي يعتبر الوسط خارج خلوي لذا يستعمل ماء البحر عوض دم الحيوان حتى يسهل العمل التجريبي.

ب - الإشكالية: كيف يتم الحفاظ على التوزع غير متساوي للشوارد على جانبي الغشاء الهوليولي للليف العصبي ؟

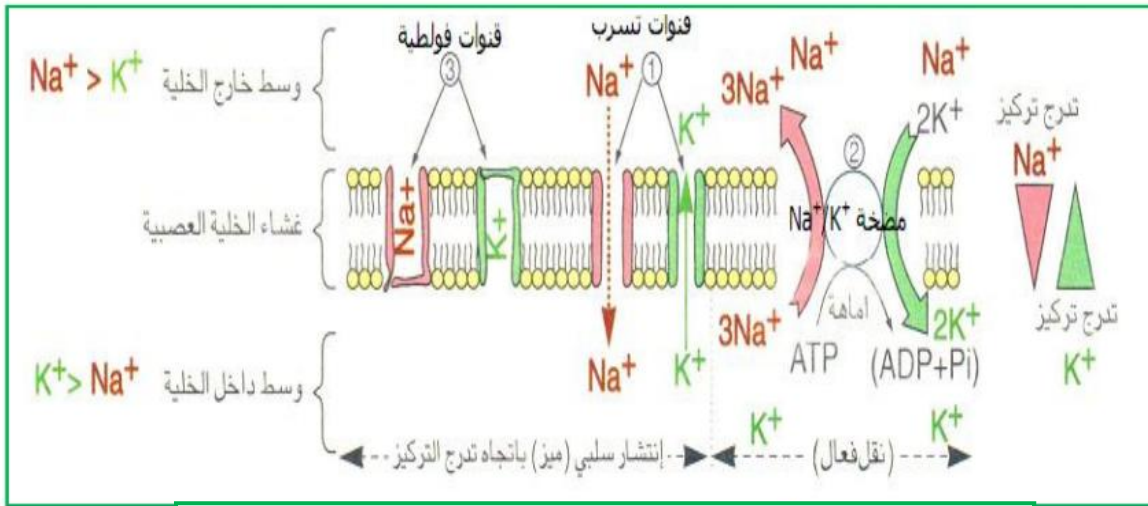
التجربة 02:

— تظهر هذه التجربة انتقال شوارد الصوديوم من وإلى هوليولي الليف العصبي دون أن يحدث خلل في تركيزها. أي وجود آلية خلوية تعمل على الحفاظ على التركيز المتباين للشوارد على جانبي الغشاء.

التجربة 03:

أ - المعلومة: هناك نقل لشوارد الصوديوم عكس تدرج التركيز باستهلاك طاقة (نقل فعال) عن طريق مضخة Na^+/K^+

التعليل: في غياب ATP يتوقف تدفق شوارد الصوديوم عكس تدرج التركيز. ليعود هذا التدفق بعد حقن كمية من ATP .



رسم تخطيطي يوضح عمل مختلف البروتينات الغشائية أثناء كمون الراحة.

التمرين الرابع:

1- أ / المعلومة: يؤمن المشبك انتقال الرسالة العصبية ويلزم لذلك زمن يدعى **الزمن الضائع**.

ب. تحليل المنحنى مع إعطاء التفسير الشاردي: التسجيل P₁ هو كمون عمل أحادي الطور.

(1-2) زوال الاستقطاب ناتج عن انفتاح القنوات الفولطية للـ Na⁺ ويؤدي إلى التدفق الداخلي لشوارد Na⁺

(2-3) عودة الاستقطاب ناتج عن انغلاق القنوات الفولطية للـ Na⁺ وانفتاح القنوات الفولطية للـ K⁺ مما يؤدي إلى التدفق

الخارجي للـ K⁺

(3-4) فرط في الاستقطاب سببه استمرار تدفق شوارد K⁺

(4-5) عودة الليف إلى كمون الراحة. نتيجة عمل مضخة Na⁺ / K⁺

د. الاستخلاص: انتقال الرسالة العصبية في الليف العصبي ناتجة عن نشاط القنوات الفولطية للـ Na⁺ التي تسمح بالتدفق الداخلي

للـ Na⁺ والقنوات الفولطية للـ K⁺ التي تسمح بالتدفق الخارجي للـ K⁺

2- أ / الاستخلاص:

من التجربة 1: نستخلص من هذه التجربة أن المنطقة (م) هي عبارة عن مشبك منبه

من التجريبتين 2 و 3: نستخلص أن التدفق الداخلي لشوارد Ca⁺⁺ في هيولى النهاية المحورية لليف قبل المشبكي تؤدي إلى انتقال

الرسالة العصبية في المشبك بواسطة المبلغ العصبي

من التجربة 4: نستخلص أن الـ GABA مبلغ عصبي مثبط و الاستيل كولين مبلغ عصبي منبه

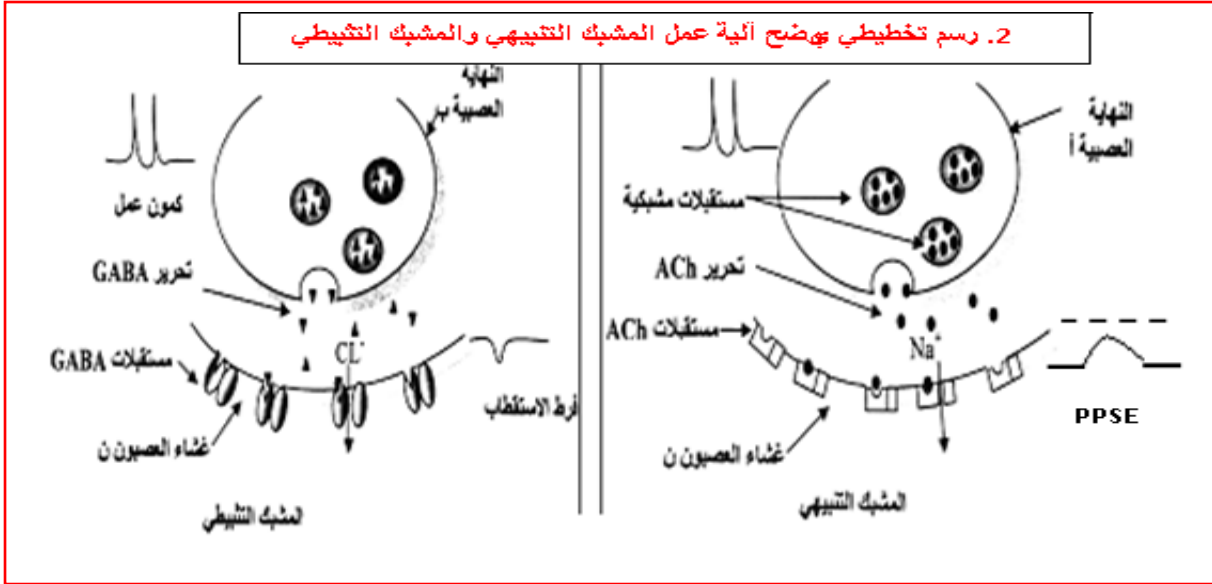
ب / المقارنة: إن الـ GABA يعمل عكس الاستيل كولين حيث يعمل على كبح انتقال الرسالة إلى الخلية بعد مشبكية

بينما الاستيل كولين يؤمن انتقال الرسالة العصبية إلى الخلية بعد مشبكية

ج / شروط تشكل كمون عمل بعد مشبكي:

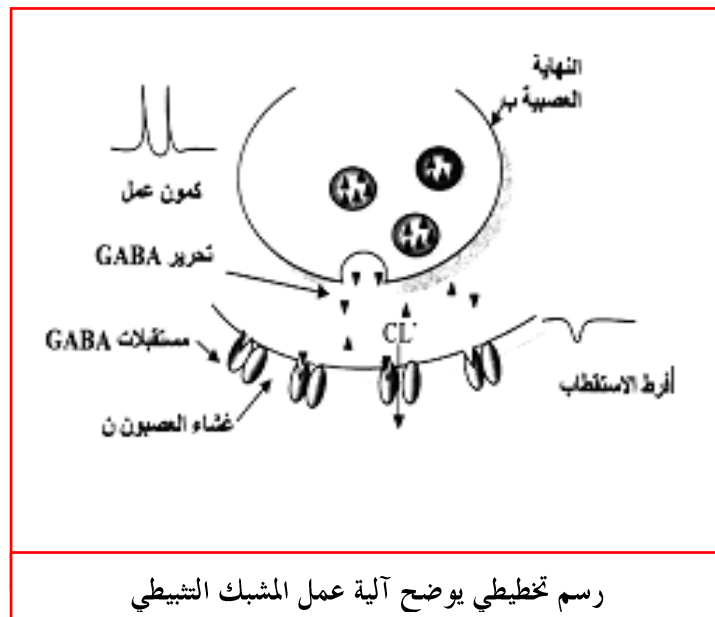
1- تنبيه الليف قبل المشبكي تنبيه فعال 2- وجود شوارد Ca في الوسط الخارجي

3- تحرير مبلغ عصبي منبه في الشق المشبكي بقدر كافي لإحداث زوال الاستقطاب



التمرين الخامس:

1. المشبك I_1 مشبك تثبيطي لاننا سجلنا PPSI (كمون بعد مشبكي تثبيطي) في ج1. بينما المشبك E1 مشبك تنبيهي لأننا سجلنا PPSE (كمون بعد مشبكي تنبيهي) في ج1.
 2. المقارنة: سعة الكمون ب1 اكبر من سعة ج1.
 3. التفسير: لان المشبك التثبيطي يقلل من سعة الكمون بعد مشبكي.
 4. الشروط: نتحصل على كمون عمل بعد مشبكي إذا بلغ مجمل الكمونات التثبيعية والتثبيطية أثناء الإدماج تساوي أو تفوق عتبة توليد كمون العمل بينما إذا كانت الخصلة أقل من العتبة فلا يتولد كمون عمل.
- أي: $PPSE + PPSI$ اكبر أو يساوي عتبة توليد كمون العمل فالنتائج توليد كمون عمل وانتشاره.
5. الرسم:



التمرين السادس:

- I - 1 - دور العضلتين (1ع و 2ع) : (1ع) تمثل العضلة الباسطة للساق ، أما (2ع) فتمثل العضلة القابضة له.
- 2 - الاستخلاص : يوجد تناسب طردي بين تواتر كمونات العمل وشدة المنبه و (ك1) أقل من العتبة أما (ك2 ، ك3) فأكثر أو تساوي عتبة التنبيه .
- 3 - أ - : الظاهرة وشروط تسجيلها : كمون الراحة ويتم تسجيله بوضع قطب إستقبال على السطح والآداخل الليف بدون إحداث أي تنبيه .

ب - : نوع المشبكين مع التعليل : - المشبك (س) : منشط لتسجيل كمون بعد مشبكي منبه . **PPSE**

- المشبك (ع) : مثبط لتسجيل إفراط في الاستقطاب . **PPSI**

ج - الرسم : رسم للمشبك المنبه وآخر للمشبك المثبط مع وضع البيانات على الرسم وإبراز دور القنوات الكيميائية.

د - α - دور الأسبارتات والـ **GABA** : الأسبارتات وسيط كيميائي منشط أما الـ **GABA** فهو وسيط كيميائي مثبط .

- β - الفرضية : - الفالبرويك يثبط عمل الأسبارتات بارتباطه بالمستقبلات الغشائية في الغشاء البعد مشبكي (N_2).

- البروتوكسين يثبط عمل الـ **GABA** بارتباطه بالمستقبلات الغشائية في الغشاء البعد مشبكي (N_3).

II - آلية حدوث المنعكس الردفي: ينتج عن تمدد قوي (تنبيه فعال) الشدة للعضلة الباسطة، العديد من كمونات العمل الحسية ينقلها الليف

العصبي الحسي (N_1) من المغزل العصبي - العضلي إلى النخاع الشوكي فترجم إلى كمونات عمل، تنتقل إلى العصبون

الحركي للعضلة الباسطة (N_2) عن طريق الوسيط الكيميائي الأسبارتات الذي تكون كميته كبيرة نظرا لإدماج مجموعة

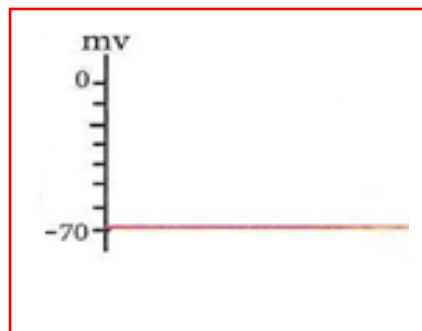
من تواترات كمونات العمل (تجمع زمني)، فينتج كمون غشائي قيمته أكبر من العتبة على مستوى (N_2) ، عند وصوله

للعضلة الباسطة (1ع) تستجيب بالتقلص رافعة الساق إلى الأعلى.

تذكير: تشفر الرسالة العصبية بتواتر كمونات عمل. حيث كلما زادت شدة التنبيه يزداد تواتر كمونات العمل لكن بسعة ثابتة.

التمرين السابع:

1 - رسم التسجيل المسجل على الأوسيلوسكوب



2 - نسمي هذا التسجيل ب : تسجيل كمون الراحة .

3 - رسم منحنى تدفق Na^+ المشع في الوسط الطبيعي بدلالة الزمن . (على الورقة الملمتية) .

4 - تحليل وتفسير المنحنى :

في بداية التجربة كان تدفق Na^+ نحو خارج الليف ب6 وحدة اعتبارية مع مرور الزمن يوصل تدفق Na^+ نحو الخارج عند إضافة

DNP في ز1 تتناقص كمية تدفق Na^+ بسبب عدم تركيب **ATP**

عند إضافة كمية من **ATP** في ز2 يرتفع تدفق Na^+ لمدة تم يعود للتناقص بسبب إنتهاء كمية **ATP** المضافة عند إزالة مادة **DNP**

يرتفع تدفق Na^+ بسبب عودة تركيب **ATP**

الإستنتاج : نستنتج أن تدفق Na^+ من داخل الليف إلى الوسط الخارجي يحتاج إلى **ATP** إذن هو نقل فعال.

5 - النتيجة المتوقعة : توقف Na^+ من الليف نحو الخارج لعدم وجود **K**

6 - نستنتج ما يلي : تتحرك شوارد Na^+ من الوسط الخارجي إلى داخل الليف بفعل الإنتشار عبر قناة دائما مفتوحة (أيونية)

من أكبر تركيز إلى أقل تركيز ، ليتم إخراج شوارد Na^+ مرة أخرى بواسطة نقل فعال في وجود شوارد K بفضل

مضخة Na^+ / K^+

الرسم : رسم تخطيطي يوضح اتجاه حركة شوارد Na^+ و K^+ عبر الليف العصبي أثناء الراحة.

التمرين الثامن:

1. استخراج نفاذية الغشاء لـ K^+ , Na^+ خلال كمون العمل:

* خلال زوال الاستقطاب: ترتفع نفاذية الليف العصبي لأيونات Na^+ (دخول أيونات الصوديوم) بسرعة وبكمية كبيرة نتيجة انفتاح قنوات الصوديوم الفولتية.

* خلال عودة الاستقطاب: ترتفع نفاذية الليف العصبي لأيونات K^+ (خروج أيونات البوتاسيوم) نتيجة انفتاح القنوات الفولتية الخاصة بالبوتاسيوم و لكن بوتيرة بطيئة وضعيفة مقارنة بنفاذية أيونات الصوديوم.

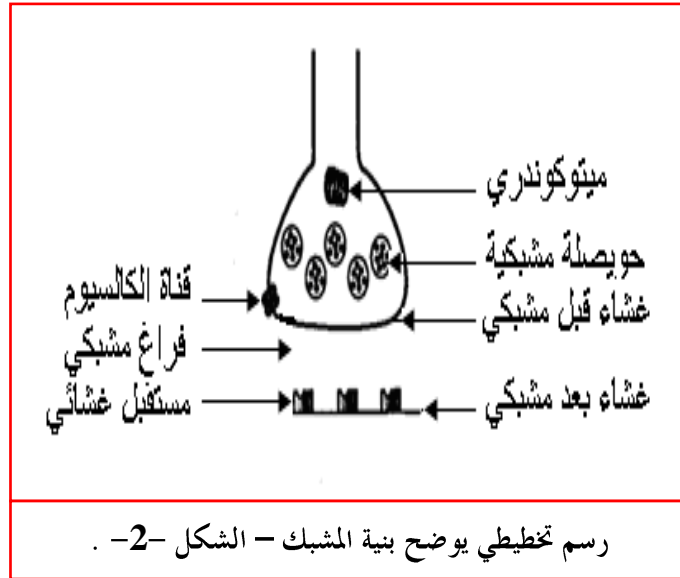
* الفرط في الاستقطاب: يستمر خروج شوارد البوتاسيوم بسبب تأخر انغلاق القنوات الفولتية الخاصة به ثم يستعيد الليف العصبي التراكيز الأصلية لأيونات K^+ , Na^+ نتيجة نشاط مضخة K^+ / Na^+ .

2. أ. تأثير مادة (TDT) : تمنع دخول أيونات الصوديوم لليف العصبي وذلك بتثبيط القنوات الفولتية للـ Na^+ دون التأثير على خروج أيونات البوتاسيوم

تأثير مادة (TEA) : تمنع خروج أيونات البوتاسيوم من الليف العصبي بتثبيط القنوات الفولتية للـ K^+ دون التأثير على دخول أيونات الصوديوم.

ب. a . ترتيب الأشكال حسب تسلسلها الزمني: 2 ، 3 ، 1 ، 5 ثم 4 .

b . إعادة رسم الشكل -2- مع كتابة جميع البيانات:



c. التعليق على أشكال الوثيقة -3:-

الشكل	التعليق
2	بنية المشبك قبل وصول السيالة العصبية
3	وصول السيالة العصبية إلى النهاية المحورية يؤدي إلى انفتاح قنوات الكالسيوم المرتبطة بالفولتية والموجودة على مستوى الغشاء قبل مشبكي وبالتالي دخول شوارد الكالسيوم.
1	ارتفاع تركيز شوارد الكالسيوم في النهاية المحورية، يحفز اندماج الحويصلات المشبكية بالغشاء قبل مشبكي وتحرير الوسيط العصبي (الأستيل كولين)
5	يتثبت الوسيط العصبي على مستقبلات غشائية خاصة مندججة في الغشاء بعد مشبكي ، فتفتح قنوات الصوديوم الميوبة كيميائيا وبالتالي نفاذية أيونات الصوديوم مما يؤدي إلى نشوء زوال استقطاب على مستوى الخلية بعد مشبكية.
4	ينفصل الوسيط العصبي (الأستيل كولين) عن المستقبل الغشائي ويفكك بواسطة إنزيم كولين استراز إلى كولين وحمض الخل. يعاد امتصاص العناصر الناتجة عن تفكك الوسيط العصبي من طرف العصبون قبل مشبكي.

3.1. العناوين:

التسجيل 1 : زوال استقطاب الغشاء بعد مشبكي.

التسجيل 2 : إفراط استقطاب الغشاء بعد مشبكي.

التسجيل 3 : كمون راحة .

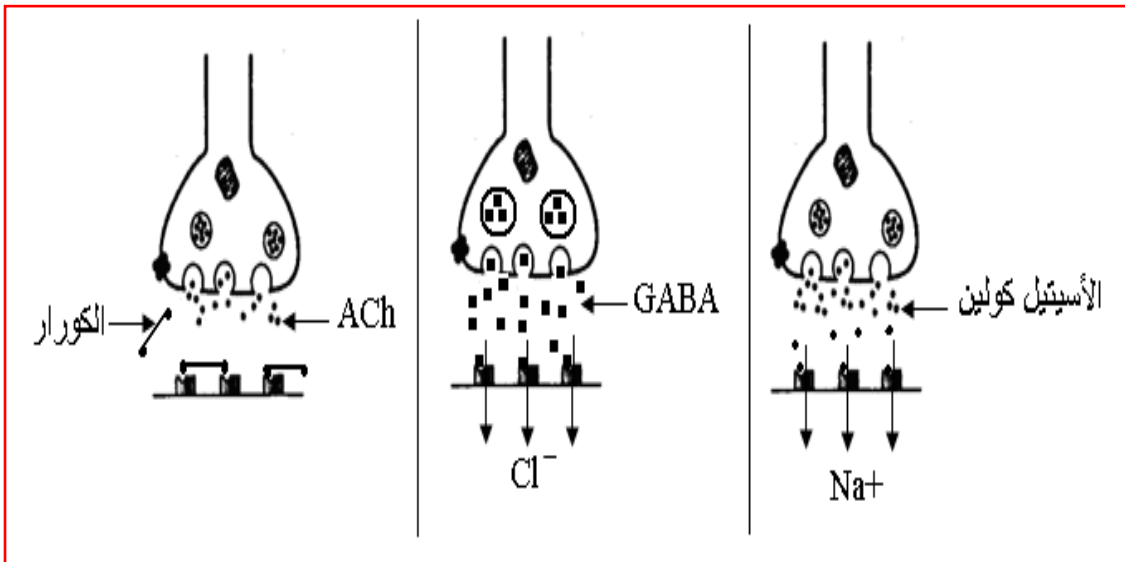
ب. تفسير اختلاف النتائج: يعود اختلاف النتائج المحصل عليها إلى اختلاف تأثير المواد المحقونة في الفراغ المشبكي، حيث:

* الأستيل كولين: يؤثر على الغشاء بعد مشبكي نتيجة تثبته على مستقبلات غشائية خاصة محدثا انفتاح قنوات الصوديوم وبالتالي دخول شوارد الصوديوم وتولد زوال الاستقطاب.

* الـ GABA : يؤثر بدوره على الغشاء بعد مشبكي نتيجة تثبته على مستقبلات غشائية خاصة ، لكنه يحدث انفتاح قنوات الكلور وبالتالي دخول شوارد الكلور محدثة إفراط في الاستقطاب.

* الكورار : مادة كيميائية مخدرة لها بنية فراغية تشبه الأستيل كولين وبالتالي تحتل المستقبلات الغشائية للأستيل كولين المتواجدة على الغشاء بعد مشبكي فتصبح جزئيات الأستيل كولين مكبوحة أي ليس لها تأثير.

ج- الرسم التوضيحي :



التمرين التاسع:

I - 1 - تحليل التسجيلات المحصل عليها:

التجربة - 1 - عند إحداث تنبيه فعال في العصبون N1 تم تسجيل منحنيات متماثلة لكمونات عمل على مستوى أجهزة راسم الاهتزاز المهبطي (ج 1 ، ج 2 ، ج 3).

التجربة - 2 - عند حقن كمية الـ G1 (كمية قليلة) من الأستيل كولين بين العصبونين N2 و N1 لم تسجل أي استجابة في الجهازين (ج 1 و ج 3) بينما سجل كمون غشائي على مستوى الجهاز (ج 2).

التجربة - 3 - : عند حقن كمية الـ G2 (كمية أكبر) من الأستيل كولين بين العصبونين N2 و N1 لم تسجل أية استجابة في الجهاز (ج 1) بينما سجل كمون عمل على مستوى الجهازين (ج 2 و ج 3).

التجربة - 4 - : عند حقن كمية الـ G3 (كمية كبيرة) من الأستيل كولين داخل العصبون N2 لم تسجل أية استجابة في الأجهزة الثلاثة (ج 1 و ج 2 و ج 3)

2 - تبيان أن انتقال الرسالة العصبية على مستوى المشبك مشفرة بالأستيل كولين:

يتبين من التسجيلات المحصل عليها في التجربتين 2 و 3 أن كمية الأستيل كولين الحقونة في الشق المشبكي هي التي تتحكم في توليد كمون العمل في الغشاء البعد مشبكي بشرط ألا تقل عن عتبة معينة .

3 - تحديد مكان تأثير الأستيل كولين: يؤثر الأستيل كولين على السطح الخارجي لغشاء العصبون بعد مشبكي.

4 - الاستخلاص:

تؤدي الرسائل العصبية المشفرة بتواتر كمون عمل على مستوى العصبون القبل مشبكي إلى تغير في كمية المبلغ العصبي الذي يتسبب في توليد رسالة عصبية في العصبون البعد مشبكي .

II - 1 - التعرف على العناصر (أ) وتحديد طبيعتها الكيميائية:

تمثل العناصر (أ) مستقبلات قنوية للأستيلكولين . ذات طبيعة بروتينية.

2 - تفسير النتائج المحصل عليها على مستوى (ج 2):

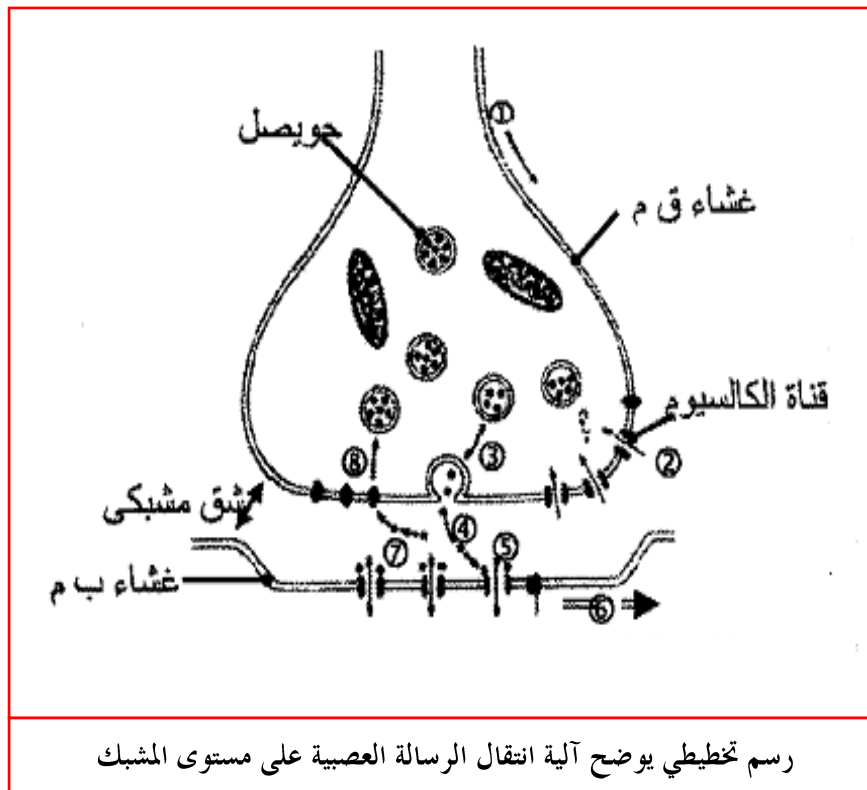
شغلت جزينات A بنغاروتوكسين المواقع الخاصة بتثبيت الأستيل كولين وبالتالي منعت هذا الأخير من توليد إستجابة في العصبون بعد مشبكي

3 - استنتاج طريقة تأثير الأستيل كولين على مستوى المشبك:

يؤثر الأستيل كولين على مستوى الغشاء البعد مشبكي ، حيث يتثبت على مستقبلات قنوية نوعية مرتبطة بالكيمياء مؤديا إلى فتح القنوات ، مما يسمح بتدفق داخلي لشوارد الـ Na + .

III - آلية انتقال الرسالة العصبية على مستوى المشبك:

1. وصول موجة زوال الاستقطاب.
2. فتح القنوات المرتبطة بالفولطية لـ Ca^{+2} الموجودة في نهاية العصبون قبل مشبكي حيث تنتقل Ca^{+2} إلى داخل الزر المشبكي.
3. حدوث هجرة داخلية للحويصلات المشبكية.
4. تحرير المبلغ العصبي في الشق المشبكي.
5. تثبيت المبلغ العصبي على المستقبلات الغشائية النوعية القنوية الموجودة على الغشاء بعد مشبكي.
6. توليد كمون عمل في الغشاء بعد مشبكي.
7. تفكيك المبلغ العصبي.
8. عودة امتصاص نواتج التفكيك.



رسم تخطيطي يوضح آلية انتقال الرسالة العصبية على مستوى المشبك

التمرين العاشر:

- أ) 1. المقارنة:** — عند التنبيه في **S1** سجل كمون عمل في العصبون **1** (على مستوى **R1**) و فرق كمون بعد مشبكي تثبيطي **PPSI** في غشاء الليف للعصبون المحرك على مستوى الجسم الخلوي و فرق كمون راحة في محوره الأسطواني .
- عند التنبيه في **S2** سجل كمون عمل على مستوى العصبون المنبه **2** و فرق كمون بعد مشبكي تنبيهي **PPSE** في غشاء العصبون المحرك على مستوى الجسم الخلوي و كمون عمل في المحور الأسطواني للعصبون المحرك .
- 2 —** طبيعة المشبك **F1** (بين العصبون **1** والعصبون المحرك) مشبك تثبيطي لأننا سجلنا في **RM** فرط استقطاب وبالتالي عدم انتشار كمون عمل في الغشاء بعد مشبكي
- طبيعة المشبك **F2** (بين العصبون **2** والعصبون المحرك) مشبك تنبيهي لأننا سجلنا في **RM** زوال استقطاب و انتشار كمون عمل في الغشاء بعد مشبكي
- 3 —** لفسر التسجيل المتحصل عليه في **RN** خلال التجربة **3** بالجمع الجبري فرق كمون بعد مشبكي تثبيطي **PPSI** المسجل إثر التنبيه **S1** و فرق كمون بعد مشبكي تنبيهي **PPSE** الناتج عن التنبيه في **S2** حيث كانت محصلة المجموع الجبري [محصلة الإدماج] غير كافية لحدوث كمون عمل فسجلنا كمون راحة على مستوى المحور الأسطواني للعصبون المحرك. تسمى العملية إدماج فضائي (مكاني) .
- نفسر التسجيل المتحصل عليه في **RN** خلال التجربة **4** بالجمع أو الدمج الفضائي لنتج التنبيهين في **S1** و **S2** ، نتج عنه كمون راحة ثم الدمج المكاني لهذا الناتج مع ناتج التنبيه في **S2** حيث كان الجمع الجبري أي محصلة الإدماج اكبر من عتبة توليد كمون عمل فنتج كمون عمل بعد مشبكي في **RN** .
- ب) 1 —** من تحليل النتائج التجريبية نجد أن المبلغ العصبي في المشبك **F1** (بين العصبون **1** و العصبون الحركي) هو **GABA** بينما المبلغ العصبي في المشبك **F2** (بين العصبون **2** و العصبون الحركي) هو **Acetylcholine** .
- 2 —** يرجع تخصص غشاء العصبون الحركي في نشوء الرسالة بعد المشبكية إلى نوع البروتينات التي توجد بهذا الغشاء (بروتينات غشائية نوعية ذات تخصص وظيفي عالي) حيث تحتوي على مواقع ارتباط خاصة بمبلغات مختلفة و ترتبط بقنوات

3- شاردية (أيونية) مختلفة. [لكل مبلغ عصبي مستقبلات غشائية نوعية خاصة به في الغشاء بعد مشبكي] إن التوزيع غير متساوي للشوارد على جانبي الغشاء الهبولى في حالة الراحة تجعل العصبون الحركي في حالة الراحة مستقطب.

— عند تثبيت المبلغ الكيميائي على المستقبلات الغشائية الخاصة به يؤدي إلى فتح القنوات المرتبطة بالكيمياء فتسمح في المشبك المثبط بدخول الكلور (تدفق داخلي) و زيادة الاستقطاب أي فرط استقطاب وبالتالي عدم انتشار الرسالة العصبية .
— في المشبك المنبه يؤدي ارتباط المبلغ العصبي بالمستقبلات الغشائية إلى فتح قنوات مبهوة كيميائياً تسمح بتدفق داخلي لشوارد الصوديوم مسبباً زوال (انعكاس) استقطاب العصبون المحرك.

(ج) للتخصص الوظيفي للبروتين دور هام في النشاط العصبي ويظهر ذلك في:

❖ **القنوات المبهوة كيميائياً** (بروتينات غشائية نوعية في الغشاء بعد مشبكي) يختلف دورها باختلاف المبلغ الكيميائي الذي يتحكم

في عملها حيث يحتوي غشاء العصبون المحرك مقابل العصبون 1 على بروتينات تحتوي على مواقع ارتباط خاصة بالـ **GABA** يؤدي ارتباط المبلغ العصبي **GABA** على تلك البروتينات إلى فتح قنوات مبهوة كيميائياً تسمح بمرور شوارد الكلور إلى العصبون الحركي مسبباً في فرط استقطابه. (وبالتالي عدم انتقال الرسالة العصبية). بينما يحتوي غشاء العصبون الحركي من الجهة الأخرى المقابلة للعصبون 2 على بروتينات غشائية بها مواقع ارتباط خاصة بالـ **Acetylcholine** عند ارتباطه بها تفتح قنوات مبهوة كيميائياً تسمح بمرور شوارد الـ Na^+ إلى العصبون الحركي مسبباً زوال استقطابه **PPSE** و نشوء كمون عمل بعد مشبكي إذا كان **PPSE** يساوي أو أكبر من عتبة توليد كمون عمل.

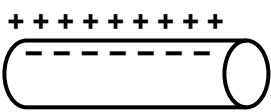
❖ **قنوات الميز** (بروتينات غشائية نوعية) تسمح بنفوذ الشوارد في اتجاه تدرج التركيز وتكون مفتوحة باستمرار.

❖ **إنزيم الأستيل كولين إستراز** (بروتين نوعي) يحمل على هدم وتفكيك المبلغ العصبي الأسيل كولين

❖ **القنوات الفولطية**: (من طبيعة بروتينية) تسمح بانتقال الشوارد في اتجاه تدرج التركيز يتحكم في عملها كمون الغشاء.

❖ **مضخة الصوديوم والبوتاسيوم** (من طبيعة بروتينية) تقوم بنقل مزدوج للشوارد ($3Na^+$, $2K^+$) بألية النقل الفعال.

التمرين الحادي عشر:

1. **خاصية المحور التي تم إظهارها في التسجيل (س) هي الاستقطاب** توضيحها: 

مصدرها: هو التوزيع المتباين لشوارد Na^+ و K^+ على جانبي غشاء الليف العصبي.

يحافظ عليها: عن طريق مضخة الصوديوم والبوتاسيوم (Na^+/K^+).

2. تحليل وتفسير الجزء (ع) بالاعتماد على الظواهر الكيميائية: يمثل الجزء (ع) كمون عمل أحادي الطور

الجزء (د - هـ): زوال الاستقطاب: يفسر بفتح القناة الفولطية الخاصة بالصوديوم (من طبيعة بروتينية) ودخول

سريع لشوارد Na^+

الجزء (هـ - و): عودة الاستقطاب: يفسر بفتح القناة الفولطية الخاصة بالبوتاسيوم (من طبيعة بروتينية)

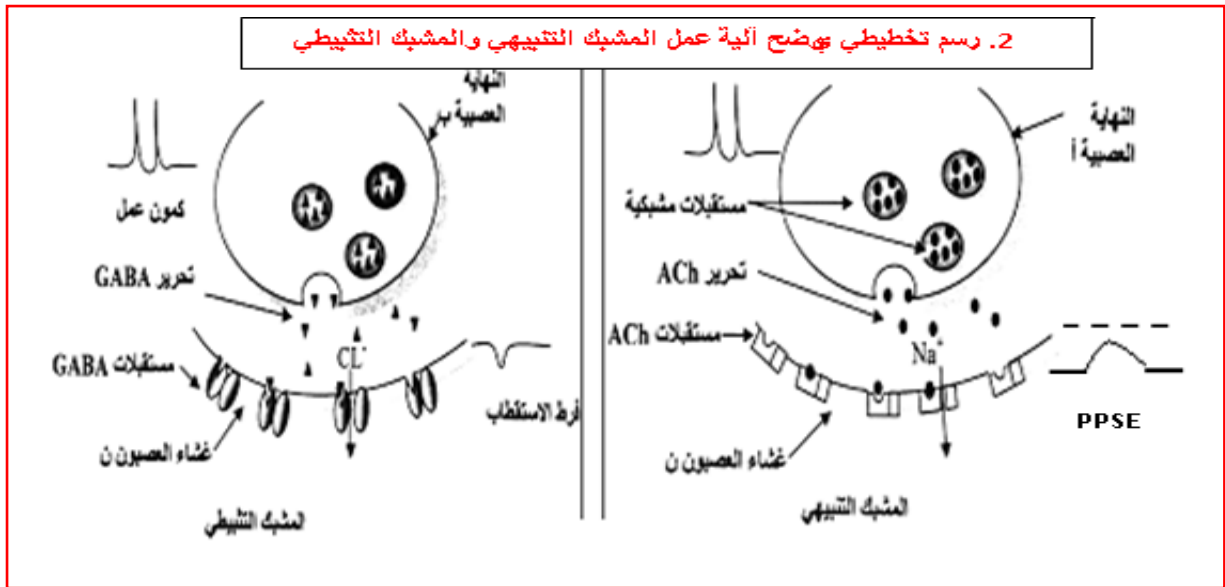
وخروج بطئ للـ K^+

الجزء (و - ي): إفراط في الاستقطاب: بسبب استمرار خروج البوتاسيوم بعد عودة الاستقطاب

الجزء (ي - ك): العودة إلى كمون الراحة يفسر بتدخل المضخة (Na^+/K^+). (من طبيعة بروتينية)

β. 1. تحليل التسجيلات المحصل عليها مع الاستخلاص من كل تسجيل:

- ✓ التبيه (أ): نسجل حالة زوال الاستقطاب على مستوى الغشاء بعد مشبكي فالمشيك (أ - ن) مشبك منه
- ✓ التبيه (ب): نسجل إفراط في الاستقطاب على مستوى الغشاء بعد مشبكي فالمشيك (ب - ن) مشبك مثبط
- ✓ التبيه في (أ): نسجل منحى كمون عمل نتيجة حدوث تجميع زمني حيث كانت محصلة الإدماج تساوي أو أكبر من عتبة توليد كمون عمل.
- ✓ التبيه (أ + ب): لا نسجل استجابة في (ن) [كمون راحة] لأن محصلة الإدماج نتيجة حدوث تجميع فضائي كانت أقل من عتبة توليد كمون عمل.
- ✓ حقن الكمية (ك1): من غما أمينو بيوتريك تؤدي إلى إفراط في الاستقطاب إذن غما أمينو بيوتريك عبارة عن المبلغ الكيميائي للمشبك المثبط (ب - ن)
- ✓ حقن الكمية (ك2): من غما أمينو بيوتريك (GABA) تؤدي إلى زيادة في سعة الإفراط ومنه نستنتج أن سعة الإفراط في الاستقطاب تتعلق بتركيز المبلغ العصبي المثبط المفرز في الشق المشبكي.



التمرين الثالث عشر:

I- 1. أ - تحليل التسجيلين:

يؤدي زوال الإستقطاب الإصطناعي الغشاء إلى توليد تيار داخلي عبر هذا الأخير ، يرتبط هذا التيار بانفتاح قناة الـ Na^+ نتيجة زوال الإستقطاب . يتبع إنفتاح قناة الـ Na^+ بانفتاح قناة الـ K^+ . إنفتاح قناة الـ Na^+ مقتضب حيث تنغلق بعد مدة زمنية قصيرة بالرغم من إستمرار زوال الإستقطاب المطبق في حين تبقى قناة الـ K^+ مفتوحة مدام الكمون المطبق يبقى متعدما .

ب - الإستخلاص : كمون العمل المتولد عن تنبيه ما هو إلا حركات الأيونات (K^+ و Na^+) .

2 - أ - العلاقة بين الوثائق الثلاث وتفسير آلية الأنتقال المشبكي :

- تبين الوثيقة (2 - أ) : أن تأثير الأستيل كولين يترجم إلى تغيرات في الإستقطاب الكهربائي للغشاء البعد مشبكي (كمون بعد مشبكي)

- تكون هذه التغيرات كبيرة كلما زاد تركيز الأستيل كولين

- تين الوثيقة (2 - ب) أنه في وجود الـ α — بنغارو توكسين يتم تثبيط تأثير الأستيل كولين
- تين الوثيقة (2 - ج) تمركز الـ α — بنغارو توكسين في الغشاء البعد مشبكي .

❖ يمكن تفسير طريقة انتقال الرسالة العصبية على مستوى المشبك كما يلي :

عند وصول كمون عمل إلى النهايات قبل مشبكية يجرر الأستيل كولين في الشق المشبكي ، يثبت هذا الأخير على مستقبلات نوعية موجودة على مستوى الغشاء البعد مشبكي مؤديا إلى فتح القنوات الأيونية والتي ينجم عنه تغير في إستقطاب الغشاء البعد مشبكي وتوليد كمون عمل عندما يبلغ زوال الإستقطاب العتبة .

3 — نعم تسمح هذه النتيجة بتأكيد الفرضية السابقة.

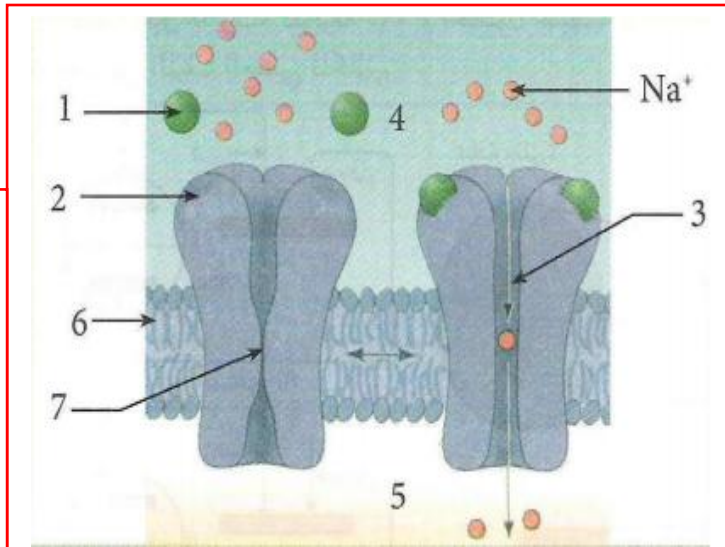
التعليق: يدل تمركز الـ α — بنغارو توكسين في مستقبلات الغشاء البعد مشبكي على أن هذه المادة تؤثر في هذا المستوى، بمعنى آخر شغلت الـ α — بنغارو توكسين مواقع خاصة بالوسيط الكيميائي الأستيل كولين مما نجم عنه إعاقه عمل الأستيل كولين.

II - 1. كتابة البيانات: 1. قناة مغلقة. 2. موقع الارتباط. 3. تحت وحدة. 4. سلسلة ببتيدية. 5. غشاء بعد مشبكي.

3. المستقبل الغشائي للأستيل كولين من طبيعة بروتينية. ذو بنية رابعة يتكون من 05 تحت وحدات تنتظم بوضع اسطواني لتترك قناة في وسطها تكون مغلقة في غياب الأستيل كولين.

3. سميت هذه القنوات بالكيمايية لأنه يتحكم في عملها المبلغ العصبي (وسيط كيميائي)

4. الرسم:



رسم تخطيطي يوضح آلية عمل القنوات الكيمايية

البيانات:

1. الأستيل كولين
2. موقع الارتباط
3. قناة مفتوحة.
4. شق مشبكي
5. هيولى الخلية بعد مشبكية.
6. غشاء بعد مشبكي
7. قناة مغلقة

III - الدعامة العصبية هي:

- عصبون حسي ناقل للألم
- العصبون النخاعي
- مركز عصبي دماغي

— تأثير المورفين :

- تنشأ الرسالة العصبية على مستوى المستقبلات الحسية المحيطية الموجودة في مختلف الأعضاء ، تنقل بعد ذلك في الألياف العصبية الحسي إلى غاية النخاع الشوكي لتنتقل بواسطة العصبونات النخاعية لتصل في الأخير إلى القشرة المخية حيث يحس الفرد بالألم .
- تنشأ من المخ عصبونات تنقل رسالة عصبية تؤثر على العصبون الحسي بواسطة وسيط كيميائي هو الأنكيفالين هذه الأخيرة تعمل على تنظيم إفراز المادة — P — (تقلل من إفرازها) هذا ما يقلل من الإحساس بالألم
- للمورفين بنية جزئية مشابهة لبنية الأنكيفالين، فهي تثبت على مستقبلاته وتمنع إفراز المادة — P — مما يخفف من الألم .

التمرين السادس عشر:

I - 1 - تحليل النتائج الممثلة في الشكلين (ب1) و (ب2) :

- الشكل (ب1) : عند تنبيه العصبون (ع1) يستجيب العصبون (ع3) بكمونات عمل ذات سعات كبيرة
- الشكل (ب2) : عند تنبيه العصبون (ع1) وفي وجود المورفين يستجيب العصبون (ع3) بكمونات عمل ذات سعات صغيرة
- 2 — الاستخلاص: يقلل المورفين من الإحساس بالألم نتيجة تخفيض إستجابة العصبون الناقل للألم
- 3 — الفرضية المقدمة لتفسير طريقة تأثير المورفين : يأثر المورفين على مستوى المشبك م2 بتعطيل العصبون (ع1).

II - 1 - تفسير النتائج التجريبية :

— في الحالة الأولى : تسبب تنبيه العصبون (ع1) في إفراز المادة P في المشبك م1 والتي نتج عنها توليد رسالة عصبية

في العصبون (ع3) مؤدية إلى الإحساس بالألم .

— في الحالة الثانية: تسبب تنبيه كل من العصبونين (ع1) و (ع2) في إفراز مادة الأنكيفالين على مستوى المشبك م2

التي نتج عنها تثبيط إفراز المادة P ، وبالتالي لم تتولد رسالة عصبية في العصبون (ع3) ، فلم يتم الإحساس بالألم .

2 — تحليل الوثيقة : يلاحظ أن كل من المورفين والأنكيفالين بنى فراغية مختلفة إلا إنهما يمتلكان أجزاء تثبيت متشابهة

على نفس المستقبلات الغشائية .

3 — نعم تسمح بتأكيد الفرضية .

التعليل : يمنع المورفين أو الأنكيفالين إفراز المادة P من العصبون (ع1) المسببة للألم وبالتالي تؤدي إلى التخفيف في الألم.

التمرين التاسع عشر:

I - 1 - موضع المسرين:

- ✓ التسجيل 1 : المسرى الاول على السطح و الثاني في المركز ، دون تنبيه
- ✓ التسجيل 2 : المسرين على السطح ، مع وجود التنبيه.
- ✓ التسجيل 3 : المسرى الاول على السطح و الثاني في المركز ، مع التنبيه.

2 - العناوين:

- ✓ التسجيل 1: منحني كمون راحة.
- ✓ التسجيل 2 : منحني كمون عمل ثنائي الطور .
- ✓ التسجيل 3 : منحني كمون عمل أحادي الطور .

3 - تحديد توزيع الشحنات الكهربائية :

- الدائرة أ : السطح موجب و المركز سالب في المسرى الأول.
- الدائرة ب : السطح سالب و المركز موجب في المسرى الأول
- الدائرة ج : السطح سالب و المركز موجب في المسرى الثاني.
- الدائرة د : السطح موجب و المركز سالب في المسرى الثاني .

II - 1 - عنوان كل شكل:

- الشكل 1 : تقنية Patch
- الشكل 2 : تقنية Clamp (الكمون المفروض)

2 - تسمية القنوات:

- القناة 1: القناة الفولطية للصوديوم Na^+ .
- القناة 2: القناة الفولطية للبوتاسيوم K^+ .

3 - الفرضية المقترحة:

- الفرضية الخاصة بالتيار الداخلي: دخول شوارد Na^+ .
- الفرضية الخاصة بالتيار الخارجي: خروج شوارد K^+ .

4 - الخلاصة: يعود مصدر كمون العمل إلى:

- حدوث تيار داخل من الـ Na^+ سريع و كبير عبر قنوات فولطية للـ Na^+
- حدوث تيار خارج من الـ K^+ بطيء و أقل عبر قنوات فولطية للـ K^+

التمرين العشرون:

I - 1. التعرف على العنصرين:

العنصر (س): نموذج جزئى ثلاثى الأبعاد لجسم مضاد نوع IgG

العنصر (ص): رسم تخطيطى لمستقبل الغشائى للاستيل كولين (القناة الميوية كيميائيا)

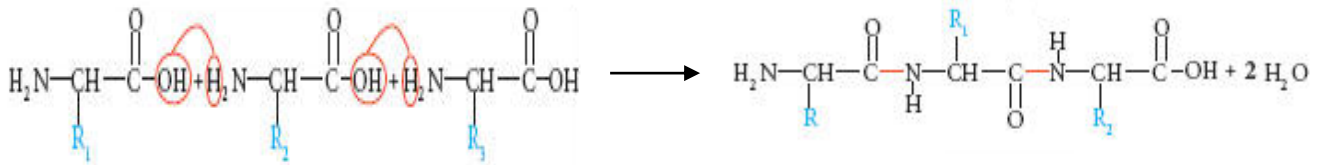
- البيانات: 1. سلسلة ثقيلة. 2. سلسلة خفيفة. 3. موقع ارتباط المتمم. 4. منطقة تثبيت على بعض المستقبلات الغشائية.
5. منطقة متغيرة. 6. منطقة ثابتة. 7. قناة مفتوحة. 8 - وسط خارج خلوي. 9 - سيتوبلازم.
- 10 - قناة مغلقة. 11 - موقع تثبيت المبلغ الكيميائى. 12 غشاء الخلية بعد مشبكية.
- 13 - جزيئة المبلغ الكيميائى (الاستيل كولين)

2. الاختلاف بين العنصرين (س) و(ص):

* من حيث البنية الفراغية

* تختلف كذلك من حيث عدد ونوع وتتابع الأحماض الأمينية الداخلة في تركيبها الوحدات البنائية هي الأحماض الأمينية:

3. تشكيل ثلاثى الببتيد:

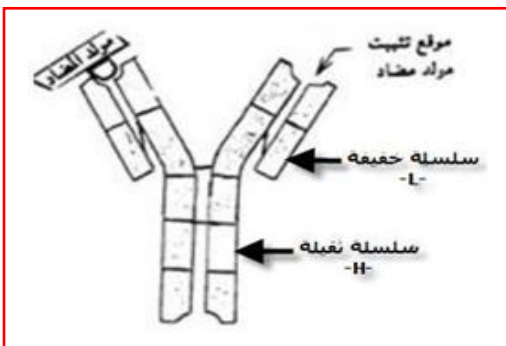


II - 1. أ. التفسير: يدل شكل الأفراس على تكوين معقدات متاعية (جسم مضاد-مستضد)

الاستنتاج: مصل السيد رؤوف يحتوى على أجسام مضادة نوعية لمحددات المستضد لفيروس V.

ب. نوع الاستجابة المناعية المكشوف عنها: استجابة مناعية ذات وساطة خلطية. التعليل: تدخل الأجسام المضادة.

ج. الرسم التخطيطى للمعقد المناعى:



3. أ. المقارنة: عند زرع أحد النوعين من اللمفاويات مع البلعميات الكبيرة أو زرعها معا لا يتم تكون البلازميات، في حين تتكون هذه الأخيرة في حالة زرع LB وLT4 والبلعميات الكبيرة.

الاستنتاج: تشكل الخلايا البلازمية يتطلب تعاون خلوي بين LB.LT والبلعميات.

ب. التفسير: نفس غياب البلازميات في الوسط 5 , بعدم عرض محددات المستضد للفيروس V من طرف البلعميات الكبيرة M₂ غير المحسنة لهذا الفيروس لأنها مستخلصة من شخص سليم.

ج. دور اللمفاويات LT (LTh): هو تنشيط وتمايز اللمفاويات LB عن طريق وسائط كيميائية مناعية هي الانترلوكينات (IL₂).

3. يمثل التسجيل -أ- منحني كيون عمل أحادي الطور.

تسمية مختلف مراحل: قبل 1 : كمن الراحة يقدر ب -60 ملي فولط

1 - 2 : زوال الاستقطاب وتسجيل كيون غشائي يقدر ب +35 ملي فولط

2 - 3 : عودة الاستقطاب للغشاء

في 4 : إفراط في الاستقطاب في 5 : العودة إلى كيون الراحة.

4. ا. التفسير: تبين الوثيقة -6- وجود قنوات على مستوى الغشاء السيوبلازمي يؤدي انفتاحها الى مرور الشوارد عبر الغشاء مما يمكن من تفسير التدفق الأيوني الملاحظ في كل من الحالتين الأولى والثانية.

• في الحالة الأولى: تدفق شوارد Na⁺ إلى الداخل يعود إلى انفتاح قنوات خاصة بهذه الايونات مرتبطة بالفولطية والتي تفتح مباشرة بعد تنبيه فعال.

• الحالة الثانية: تدفق شوارد K⁺ الى الخارج يعود إلى انفتاح القنوات المرتبطة بالفولطية ل K⁺ بعد مدة من التنبيه .

ب. تفسير التدفق الأيوني في الحالة الثالثة:

• تنبيه فعال يؤدي الى انفتاح قنوات مرتبطة بالفولطية ل Na⁺ التي ينتج عنها تدفق Na⁺ الى الداخل حسب تدرج التركيز لتغلق كي تفتح قنوات مرتبطة بالفولطية ل K⁺ التي ينتج عنها خروج K⁺ , ثم تغلق بدورها بعد ذلك.

ج. يؤدي التنبيه الفعال إلى رفع نفاذية الغشاء الهولي لشوارد Na⁺ وذلك من خلال انفتاح قنوات Na⁺ النوعية المرتبطة بالفولطية وبالتالي دخول سريع لشوارد Na⁺ يسبب زوال استقطاب الغشاء.(المرحلة بين 2و3). بعد إغلاق هذه القنوات تفتح قنوات مرتبطة بالفولطية ل K⁺ تتدفق هذه الشوارد إلى خارج الخلية يسبب عودة استقطاب الغشاء المرحلة (بين 2و3)

دور البروتينات في الدفاع عن الذات :

• الأجسام المضادة جزيئات ذات طبيعة بروتينية تنتمي إلى مجموعة الغلوبولينات المناعية , يملك الجسم المضاد موقعين لتثبيت المحددات المستضدية .

يرتبط المستضد بالجسم المضاد ارتباطا نوعيا في موقع التثبيت، ويشكلان معا معقد مستضد - جسم مضاد يدعى المعقد المناعي.

• يؤدي تشكل المعقد المناعي إلى إبطال مفعول المستضد، ليتم بعدها التخلص من المعقد المناعي المتشكل، عن طريق ظاهرة البلعمة .

• الخلايا اللمفاوية التائية السامة (LTC)

تعرف الخلايا اللمفاوية السامة على المستضد النوعي بواسطة مستقبلات غشائية من طبيعة بروتينية مكاملة لمحددات المستضد

يثير تماس الخلايا اللمفاوية التائية السامة مع المستضد إفراز بروتين : البرفورين مع بعض الأنزيمات الحالة .

يُخرب البرفورين غشاء الخلايا المصابة بتشكيل ثقب مؤديا إلى انحلالها.

• تتم مراقبة تكاثر و تمايز الخلايا التائية والبائية ذات الكفاءة المناعية عن طريق مبلغات كيميائية: هي الأنترلوكينات وهي بروتينات سكرية، التي يفرزها صنف آخر من الخلايا اللمفاوية التائية المساعدة (Th) الناتجة عن تمايز الخلايا التائية (LT4) المتخصصة التي يكون تنشيطها مُحرضاً بالتعرف على المستضد.

• تحمل أغشية الخلايا التي تقوم بتقديم محددات المستضد وتنشيط الخلايا اللمفاوية، كالبلمعات الكبيرة محددات الذات HLA. من الصنف (I) والصنف (II) وهما عبارة عن بروتينات سكرية. حيث تقوم هذه الخلايا بعد التعرف على المستضد باقتناصه وهدم بروتيناته جزئياً، ثم تعرض محددات المستضد على سطح أغشيتها مرتبطاً بالـ HLA.

دور البروتينات في الاتصال العصبي :

- تتمثل تغيرات الكيمونات الغشائية الناتجة عن التنبيه في:

- زوال استقطاب سريع للغشاء مرتبط بتدفق داخلي لـ Na^+ نتيجة انفتاح قنوات Na^+ المرتبطة بالفولطية.
- عودة الاستقطاب ناتجة عن تدفق خارجي لـ K^+ نتيجة انفتاح قنوات K^+ المرتبطة بالفولطية.
- تؤمن مضخة Na^+/K^+ المستهلكة للطاقة (ATP) عودة التراكيز الأيونية للحالة الأصلية.
- انفتاح القنوات المرتبطة بالفولطية بمعنى توليد كيمون عمل تتطلب عتبة زوال استقطاب.
- يعود زوال استقطاب الغشاء بعد مشبكي في مستوى المشبك إلى انفتاح قنوات Na^+ المرتبطة بالكيمياء نتيجة تثبت المبلغ العصبي (الأسيتيل كولين) على المستقبلات الخاصة به في الغشاء بعد مشبكي (مستقبلات قنوية).



مع حَيَاتِ الأَسَاذِيهِ: عبد الغني شقرون وإبراهيم الجيلاني

تأريخ عبر القارور علقه تسابيت أورار