

الجمهورية الجزائرية الديمقراطية الشعبية
وزارة التربية الوطنية

elbassair.net

elbassair.net

موقع عيون البصائر التعليمي

elbassair13@gmail.com



التاريخ والجغرافيا

ابتدائي 4



<https://www.facebook.com/bassair/>

elbassair.net

4

التاريخ والجغرافيا

السنة الرابعة من التعليم الابتدائي

لجنة التأليف

الإشراف التربوي

موجبة فوضيل

مفتش التربية والتعليم المتوسط

المؤلفون

بن الصغير إسماعيل

مفتش التربية الوطنية

مكاسي صالح

مفتش التربية والتعليم الابتدائي

موجبة فوضيل


مفتش التربية والتعليم المتوسط

غزال عبد السلام

مفتش التربية والتعليم المتوسط

طامي فاطمة الزهراء

أستاذة التعليم المتوسط



الديوان الوطني للمطبوعات المدرسية

2018 - 2017

الفريق التقني

التصميم و التّركيب : عيادن فطيمة - بسعة


مخطّطات وخرائط : بن توهي كنزة - معاشو

معالجة الصّور : زهير يحيوي

عبد المنعم موزاي

يوسف قاسي وعلي

إشراف : شريف عزواوي - زهرة بودالي



الطبعة الأولى

2018 – 2017

MS : 404 / 17

ISBN : 978 – 9947 – 20 – 880 – 9

الإيداع القانوني : السادس الثاني 2017

كتاب مدرسي معتمد من طرف وزارة التربية الوطنية

تحت الرقم 662 / م.ع / 17

جميع الحقوق محفوظة للديوان الوطني للمطبوعات المدرسية

كلمة المؤلفين

نضع بين يديك عزيزي المتعلم الكتاب المدمج في مادتي التاريخ والجغرافيا للسنة الرابعة من التعليم الابتدائي، حيث سعينا من خلاله على تحقيق الأهداف المسطرة في المنهاج وذلك بتزويدك بموارد متمثلة في جملة من الأنشطة والسندات موزعة بين سندات نصية وأخرى عبارة عن صور أو خرائط أو رسومات بيانية، بالإضافة إلى أنشطة تقييمية تمكنك من التمرن على تقييم مكتسباتك ومعالجة نقاط الضعف، فيها إضافة إلى أنشطة إدماجية تمكنك من توظيف وإدماج الموارد التي اكتسبتها بشكل مجزأ. كل هاته الأنشطة منظمة ضمن الميادين الواردة في المنهاج على النحو التالي:

1 - مادة التاريخ : يتضمن القسم الخاص بالتاريخ ثلاثة ميادين وهي :

أ - الميدان الأول بعنوان : أدوات ومفاهيم المادة، وفيه تم تناول المعالم التاريخية الأساسية كالتقويمين الميلادي والهجري قصد فهم التقويم التاريخي والمراحل التاريخية وتوظيفها في الحياة اليومية .

ب - الميدان الثاني بعنوان : التاريخ العام، تناولنا فيه كيفية استغلال واختيار السندات المناسبة وتوظيفها في إبراز التحولات التي عرفتها شمال إفريقيا بعد الفتح الإسلامي .

ج - الميدان الثالث بعنوان : التاريخ الوطني، وفيه تناولنا الدولة الجزائرية الحديثة ومكانتها في منطقة البحر الأبيض المتوسط مع إبراز الدور الذي لعبه الأسطول البحري الجزائري في تعزيز مكانة الجزائر الدولية .

2 - مادة الجغرافيا : يتضمن القسم الخاص بالجغرافيا أيضا ثلاثة ميادين وهي :

أ - الميدان الأول بعنوان : أدوات ومفاهيم المادة، وفيه يتم التعرف على مختلف انتماءات الجزائر الإقليمية والقارية باستعمال مختلف أنواع الخرائط .

ب - الميدان الثاني بعنوان : السكان و التنمية، وفيه يتم التعرف على الموارد الطبيعية في الجزائر ثم تصنيفها إلى موارد طبيعية متجددة وغير متجددة واقتراح كيفية استغلالها .

ج - الميدان الثالث بعنوان : السكان و البيئة، وفيه يتم التعرف على المخاطر الكبرى التي تتعرض لها الجزائر وكيفية مواجهتها ، نتيجة ما تخلفه من خسائر .

أما أنت زميلي الأستاذ تبقى في تقديرنا العنصر الأساسي في توظيف هذا الكتاب الذي يعد وسيلة ضمن الوسائل المتعددة ، وإعطائه الروح و الحيوية التي تمكن من تحقيق الأهداف المسطرة من خلال تخطيط الوضعيات التعليمية قبل القسم وتنفيذها في القسم، ووضع استراتيجيات التقييم التي تمكنك من الوصول بالمتعلمين إلى الغايات المنشودة . لأنك تحضر رجل الغد حيث أن هذا المتعلم لم يدخل إلى المدرسة ليبقى فيها طول حياته بل ليتخرج منها في يوم ما .

فهرس م

الصفحة	الميدان
3	مقدمة
6	- أكتشف كتابي
7	- الخريطة العامة للكتاب
8	الميدان الأول : أدوات ومفاهيم المادة
10	أولاً - التقويم التاريخي
10	1 - التاريخ الميلادي
12	2 - التاريخ الهجري
14	ثانياً - التاريخ المعلمي
14	1 - التاريخ المعلمي الشخصي
15	2 - التاريخ المعلمي الاجتماعي
16	3 - التاريخ المعلمي الوطني
17	4 - التاريخ المعلمي العالمي
18	ثالثاً - المراحل التاريخية
18	1 - مرحلة التاريخ القديم
19	2 - مرحلة التاريخ الوسيط
20	3 - مرحلة التاريخ الحديث
21	4 - مرحلة التاريخ المعاصر
22	• أدمج تعلماتي
23	• أقوم تعلماتي
24	الميدان الثاني : التاريخ العام
26	أولاً - ظهور الإسلام
26	1 - شبه الجزيرة العربية قبل ظهور الإسلام
28	2 - التحولات التي أحدثتها الإسلام
30	3 - قيام الدولة الإسلامية
32	4 - الفتوحات الإسلامية في المشرق

مادة التاريخ

الصفحة	الميدان
34	ثانيا - تحول بلاد المغرب الى مغرب إسلامي
34	1 - الفتح الإسلامي لشمال إفريقيا
36	2 - مراحل الفتح الإسلامي لشمال إفريقيا
38	3 - تأثيرات الفتح الإسلامي في بلاد المغرب
40	ثالثا - العمارة الإسلامية
40	1 - المسجد
42	2 - المدينة
44	• أدمج تعلماتي
45	• أقوم تعلماتي
46	الميدان الثالث : التاريخ الوطني
48	أولا - الدولة الجزائرية الحديثة
48	1 - أوضاع الجزائر قبل مجيء العثمانيين
48	أ - الأوضاع الداخلية
50	ب - الأوضاع الخارجية
52	2 - القوة البحرية الجزائرية
54	3 - الوجود العثماني في الجزائر
56	ثانيا - العلاقات الجزائرية مع الخارج
56	1 - مع الدولة العثمانية
58	2 - مع الدول الأخرى
60	ثالثا - رموز السيادة
60	1 - الأسطول البحري رمز السيادة والهيبة
62	2 - رموز أخرى للسيادة
64	• أدمج تعلماتي
65	• أقوم تعلماتي

فهرس

الصفحة	الميدان
68 - أكتشف كتابي
69 - الخريطة العامة للكتاب
70 الميدان الأول : أدوات ومفاهيم المادة
72 أولا - توظيف الخريطة للتعرف على موقع الجزائر
72 1 - شكل الأرض
74 2 - الخريطة
76 3 - توزيع الماء واليابسة على سطح الكرة الأرضية
78 4 - موقع الجزائر في العالم
80 ثانيا - موقع الجزائر في إفريقيا والمغرب العربي
80 1 - موقع الجزائر في المغرب العربي
82 2 - موقع الجزائر في إفريقيا
84 ثالثا - الموقع الجغرافي وطبيعة الإنتماء
84 1 - الإنتماء المغربي
86 2 - الإنتماء الإفريقي
88 3 - الإنتماء المتوسطي
90 4 - الإنتماء العربي
92 • أدمج تعلماتي
93 • أقوم تعلماتي
94 الميدان الثاني : السكان والتنمية
96 أولا - الموارد الطبيعية وعلاقتها بنشاط الإنسان في الجزائر
96 1 - الموارد الطبيعية وتصنيفها
96 أ - الموارد الطبيعية غير المتجددة
97 ب - الموارد الطبيعية المتجددة

سادة الجغرافيا

الصفحة	الميدان
98	2 - أنواع الموارد الطبيعية في الجزائر
98	أ- الموارد المعدنية
100	ب - الموارد الطاقوية
102	ج- الموارد الفلاحية
104	ثانيا - العلاقة بين العمل الإنتاجي وفوائده على التنمية في الجزائر
104	1 - العمل الإنتاجي المادي
106	2 - العمل الإنتاجي اللامادي
108	ثالثا - عقلنة استغلال الموارد الطبيعية غير المتجددة
110	• أدمج تعلماتي
111	• أقوم بـ تعلماتي
112	الميدان الثالث : السكان والبيئة
114	أولا - المحميات الطبيعية في الجزائر
114	1 - دوافع إنشاء المحميات
116	2 - توزيع المحميات وأنوعها
120	ثانيا - المساهمة في حماية البيئة المحلية
122	ثالثا - أنواع المخاطر الكبرى وإجراءات الوقاية منها
122	1 - أنواع المخاطر الكبرى
124	2 - الإجراءات الوقائية
126	• أدمج تعلماتي
127	• أقوم بـ تعلماتي

أكتشف كتابي التاريخ

الوضعية المشكلة الأم

صورة تعبر عن المركبة 3

الميدان الأول: أدوات ومفاهيم المادة

إذا كانت الأحداث التاريخية تكرر وتعاين، فكم يمكن ترتيبها حسب تسلسلها!

تاريخ الحداثة

1914 - 1918
1918 - 1919
1919 - 1920
1920 - 1921
1921 - 1922

العصور التاريخية

العصر الحجري
العصر البرونزي
العصر الحديدي
العصر الكلاسيكي
العصر الحديث
العصر المعاصر

العصور التاريخية

عنوان الميدان

صورة تعبر عن المركبة 1

عنوان الوضعية

وضعية مشكلة جزئية

صورة تعبر عن المركبة 2

1- فتح المصطفى

نظمت الثورة الجزائرية في 1 نوفمبر 1954، وبفضل طموحات 20 أوت 1956، تم فك الحصار على منطقة الأوراس، وفي 19 مارس 1962، تم الاتفاق على وقف إطلاق النار والقبول السريخ للحياد والاستقلال في 6 جويلية 1962، وبفضل التضحيات الكبيرة للشعب الجزائري.

لو نظرت في الصورة

بعد سقوط الحكم الملكي ونشأة الجمهورية الجزائرية الديمقراطية الشعبية

أول دستور للجزائر الذي على كبريات الأقطاب الذين هم أعضاء في اللجنة التنفيذية للجزائر، عبد الطاهر عبد القادر، عبد القادر بن عبد القادر، عبد القادر بن عبد القادر.

التاريخ

2017

جانفي

أحداث جديسة ليلية

الاستنتاج

سند في شكل نص كتابي

سند في شكل صورة

أقوم تعلماتي

أقوم تعلماتي

أدمج تعلماتي

نشاط رقم 1

أقوم تعلماتي

النشاط رقم 1:

نقل الجدول المتضمن مجموعة من الأعياد على كرتك ثم أكتب كل عيد إلى التقويم الذي تناسبه. وضع الحروف (هـ) أو (م).

العيد	الشئنة	هجري	ميلادي
أول شوال			
أول نوفمبر			
أول جانفي			
أول شمس			
10 ذي الحجة			
5 صفرية			

النشاط رقم 2:

أنت الآن في السنة الزيمة ابتدائي، نقل على خط زمني أهم المراحل التي مرت بها منذ الطفولة إلى الآن.

أقوم تعلماتي

النشاط رقم 1:

نقل المعلومات على كرتك وضع على كل منهما الأعياد القديمة والحديثة

تفكر باللهم إرحمنا

النشاط رقم 2:

أكتب الشخصيات التالية في المرحلة التاريخية التي تنتمي إليها:


عقبة بن نافع - ماسينا - الأمير عبد القادر - الزاوي - حميد

نشاط رقم 1

نشاط رقم 2

نشاط رقم 2

الفريضة العامة لكتاب التاريخ



التقويم التاريخي



الأسطول الجزائري رمز الدولة الجزائرية الحديثة



القيروان

الميدان الأول: أدواتٌ ومفاهيمُ المادّة

من ميلاد النبي عيسى عليه السلام إلى 1962 ميلادي.

إذا كانت الأحداث التاريخية تكثُر وتتعاقبُ، فكيف
يُمكنك ترتيبها حسب تسلسلها؟



في أي يوم يكون شهر
رمضان القادم؟



التقويم القمري

في أي يوم تحتفل الجزائر بمرور
100 سنة على استرجاع سيادتها؟



الأربعاء 05 جويلية 2062م

التقويم الشمسي

التقويم التاريخي



5 جويلية 1962 م



19 مارس 1962 م




20 أوت 1955 م



1 نوفمبر 1954 م



5 جويلية 1830 م



التاريخ المعلمي

العصر القديم



العصر الوسيط



العصر الحديث



الفترة المعاصرة



العصور
التاريخية



1 - التَّارِيخُ المِيلَادِيّ

تَرْتِيبُ الأَحْدَاثِ الَّتِي يَمُرُّ بِهَا الإِنْسَانُ بِمَعْلَمٍ مُعَيَّنٍ، وَمِنْ هَذِهِ المَعَالِمِ، التَّارِيخُ المِيلَادِيّ، فَمَاذَا نَقْصِدُ بِهِ ؟

يَرْتِيبُ التَّقْوِيمُ المِيلَادِيّ بِمِيلَادِ النَّبِيِّ عِيسَى عَلَيْهِ السَّلَامُ، وَقَدْ وَرَدَ ذِكْرُهُ فِي القُرْآنِ الكَرِيمِ .

السند : 1

<p>1 جانفي</p> <p>السنة: 6 5 4 3 2 1</p> <p>13 12 11 10 9 8 7</p> <p>20 19 18 17 16 15 14</p> <p>27 26 25 24 23 22 21</p> <p>31 31 30 29 28</p>	<p>2 فيفري</p> <p>السنة: 3 2 1</p> <p>10 9 8 7 6 5 4</p> <p>17 16 15 14 13 12 11</p> <p>24 23 22 21 20 19 18</p> <p>28 28 27 26 25</p>	<p>3 مارس</p> <p>السنة: 3 2 1</p> <p>10 9 8 7 6 5 4</p> <p>17 16 15 14 13 12 11</p> <p>24 23 22 21 20 19 18</p> <p>31 31 30 29 28 27 26 25</p>	<p>4 أفريل</p> <p>السنة: 7 6 5 4 3 2 1</p> <p>14 13 12 11 10 9 8</p> <p>21 20 19 18 17 16 15</p> <p>28 27 26 25 24 23 22</p> <p>30 30 29</p>
<p>5 ماي</p> <p>السنة: 5 4 3 2 1</p> <p>12 11 10 9 8 7 6</p> <p>19 18 17 16 15 14 13</p> <p>26 25 24 23 22 21 20</p> <p>31 31 30 29 28 27</p>	<p>6 جوان</p> <p>السنة: 2 1</p> <p>9 8 7 6 5 4 3</p> <p>16 15 14 13 12 11 10</p> <p>23 22 21 20 19 18 17</p> <p>29 29 28 27 26 25 24</p>	<p>7 جويلية</p> <p>السنة: 7 6 5 4 3 2 1</p> <p>14 13 12 11 10 9 8</p> <p>21 20 19 18 17 16 15</p> <p>28 27 26 25 24 23 22</p> <p>31 31 30 29</p>	<p>8 أوت</p> <p>السنة: 4 3 2 1</p> <p>11 10 9 8 7 6 5</p> <p>18 17 16 15 14 13 12</p> <p>25 24 23 22 21 20 19</p> <p>31 31 30 29 28 27 26</p>
<p>9 سبتمبر</p> <p>السنة: 8 7 6 5 4 3 2</p> <p>15 14 13 12 11 10 9</p> <p>22 21 20 19 18 17 16</p> <p>29 28 27 26 25 24 23</p> <p>30 30</p>	<p>10 أكتوبر</p> <p>السنة: 6 5 4 3 2 1</p> <p>13 12 11 10 9 8 7</p> <p>20 19 18 17 16 15 14</p> <p>27 26 25 24 23 22 21</p> <p>31 31 30 29 28</p>	<p>11 نوفمبر</p> <p>السنة: 3 2 1</p> <p>10 9 8 7 6 5 4</p> <p>17 16 15 14 13 12 11</p> <p>24 23 22 21 20 19 18</p> <p>30 30 29 28 27 26 25</p>	<p>12 ديسمبر</p> <p>السنة: 1</p> <p>8 7 6 5 4 3 2</p> <p>15 14 13 12 11 10 9</p> <p>22 21 20 19 18 17 16</p> <p>29 28 27 26 25 24 23</p> <p>31 31 30</p>

السند 3: يومية ميلادية



السند 2: بداية السنة الميلادية

في 01 نوفمبر 1954م، انطلقت الثورة التحريرية الجزائرية، وبعد التضحيات الجسيمة للشعب الجزائري، اعترف المستعمر بوقف إطلاق النار في 19 مارس 1962م.

السند: 4



السند 6: ذكرى ثورة نوفمبر



السند 5: ذكرى اليوم العالمي للمعلم

ألاحظ السندات 1، 2، 3، 4، 5، 6 وأستنتج أن ...



أقوم بتعلماتي :

■ أنقل الجدول الموالي على كراسك ثم اكتب الأحداث التالية في الخانة المناسبة : عيد الطفولة، عيد الثورة، يوم المعلم، عيد الاستقلال، عيد العمال.

التواريخ	5 أكتوبر	1 نوفمبر	1 ماي	1 جوان	5 جويلية
المناسبات					

2 - التاريخ الهجري

تختلف المعالم التي تُورّخُ بها الأمم من أمة إلى أخرى، فالأمة الإسلامية تُورّخُ بالتاريخ الهجري. فماذا نقصد بالتاريخ الهجري؟

قال الله تعالى :

إِلَّا نَضْرِبْهُمُ فَمَقَدَّ نَصْرَهُ اللَّهُ إِذْ أَخْرَجَهُ الَّذِينَ كَفَرُوا ثَانِيًا أَثْنَيْنِ
إِذْ هَمَّ فِي الْبَارِ إِذْ يَقُولُ لِصَاحِبِهِ لَا تَحْزَنْ إِنَّ اللَّهَ مَعَنَا فَأَنْزَلَ اللَّهُ
سَكِينَتَهُ عَلَيْهِ وَأَيَّدَهُ بِجُنُودٍ لَمْ تَرَوْهَا وَجَعَلَ كَلِمَةَ الَّذِينَ
كَفَرُوا السُّفْلَى وَكَلِمَةَ اللَّهِ هِيَ الْعُلْيَا وَاللَّهُ عَزِيزٌ حَكِيمٌ ﴿٤٠﴾

سورة التوبة الآية : 40

السند 1 : هجرة الرسول ﷺ

تحتفل الجزائر سنوياً على غرار بلدان العالم الإسلامي بالعيد من الأعياد منها: رأس السنة الهجرية في أول محرم، والمولد النبوي الشريف في 12 ربيع الأول، وعيد الفطر في أول شوال و عيد الأضحى في العاشر من ذي الحجة وهو آخر شهور السنة الهجرية .

السند : 2



السند : 4

فِي سَنَةِ 622 مِيلَادِيَّةٍ هَاجَرَسَيِّدُنَا مُحَمَّدٌ ﷺ مِنْ مَكَّةَ إِلَى الْمَدِينَةِ، وَفِي عَهْدِ الْخَلِيفَةِ الرَّاشِدِ عُمَرَ بْنِ الْخَطَّابِ رَضِيَ اللَّهُ عَنْهُ، بَدَأَ الْعَمَلُ بِالتَّقْوِيمِ الْهَجْرِيِّ كَتَقْوِيمِ إِسْلَامِيٍّ أَيْ بَعْدَ 17 سَنَةً مِنَ الْهَجْرَةِ النَّبَوِيَّةِ.

السَّنَةُ الْهَجْرِيَّةُ الْأُولَى تُوَافِقُ سَنَةَ 622 مِيلَادِيَّةٍ.

السند : 3



يَتَرَاوَحُ عَدْدُ أَيَّامِ الشُّهُورِ الْهَجْرِيَّةِ بَيْنَ 29 - 30 يَوْمًا

السند : 5



أَلِاحِظِ السَّنَدَاتِ 1، 2، 3، 4، 5 وَأَسْتَنْتِجْ أَنَّ ...

أُدْمِجُ تَعَلُّمَاتِي :

■ رَبِّبِ الْأَعْيَادَ الْإِسْلَامِيَّةَ التَّالِيَةَ عَلَى سُلْمِ زَمَنِي :
عِيدِ الْأَضْحَى - الْمَوْلِدُ النَّبَوِيُّ - عِيدِ الْفِطْرِ - رَأْسُ السَّنَةِ الْهَجْرِيَّةِ .

ثانيا - التاريخُ المَعْلَمِيُّ

في حياة الأشخاص والمُجتمعات والبلدان، تقع أحداثٌ مُهمّةٌ تُصبحُ مع مرّ الزمنِ بمثابةَ معالمٍ في حياتها. فماذا نعني بالتاريخ المَعْلَمِيّ؟

1) التاريخُ المَعْلَمِيُّ الشَّخْصِيُّ:

24 أكتوبر 2016 م من أعزّ التّواريخ في حياتي، ففي هذا اليومِ كان لي شرفُ الحصولِ على الجائزةِ الأولى في مُسابقةِ تحدي القراءة العربي، من بين أكثر من 3.5 مليون مُشاركٍ.

كان ذلك تَشريفًا كبيرًا لي ولوَطني الجزائر وللغتي العربيّة. لذا فإنّ هذا التّاريخُ سوف يظلُّ تاريخًا مَعْلَمِيًّا راسخًا في ذهني .



السند: 1



السند 2: حفلُ ختانِ جماعيٍّ (27 رمضان)

(2) التَّارِيخُ الْمَعْلَمِيُّ الْإِجْتِمَاعِيُّ :




السَّنَد : 4 المَوْلِدُ النَّبَوِيُّ الشَّرِيفُ (12 ربيع الأول)

يَحْتَفِلُ الْجَزَائِرِيُّونَ سَنَوِيًّا
بِرَأْسِ السَّنَةِ الْأَمَازِغِيَّةِ (التَّايِر)
الْمُصَادِفَةَ لـ 12 جَانْفِي، وَالتِّي
تَرْمُزُ إِلَى بَدَايَةِ السَّنَةِ الْفِلاحِيَّةِ
والتَّفاوُلِ بِحُلُولِ مَوْسِمِ زِراعيِّ
يَعُودُ عَلَيْهِمُ بِالْخَيْرِ الْكَثِيرِ.

السند : 3

تَحْتَفِلُ الْأَسْرُ الْجَزَائِرِيَّةُ بِزَفَافِ أَبْنَائِهَا وَبِنَاتِهَا، إِذْ يُنظَّمُونَ
أَعْرَاسًا وَوَلَائِمَ يَحْضُرُهَا الْأَهْلُ وَالْأَقَارِبُ، وَيَبْقَى يَوْمُ
الزَّفَافِ تَارِيخًا مَعْلَمِيًّا فِي حَيَاةِ الْفَرْدِ وَالْأُسْرَةِ.



السَّنَد : 5 حَفْلُ زَفَافٍ

الْأَحْظُ السَّنَدَاتِ 1، 2، 3، 4، 5 وَأَسْتَنْتِجُ أَنْ ...



أَقُومُ تَعَلُّمَاتِي :

■ أَدْكُرُ تَارِيخًا مَعْلَمِيًّا شَخْصِيًّا.

3) التَّارِيخُ الْمَعْلَمِيُّ الْوَطَنِيُّ :

إندلعت ثورة التحرير الجزائرية يوم الإثنين 1 نوفمبر 1954م، وبعد
تضحيات كبيرة استرجع الشعب الجزائري سيادته في 5 جويلية 1962م.



السند : 1



يُمثِّل 14 مارس من كُلِّ سَنَةٍ يَوْمًا وَطَنِيًّا لِلْمَعاقِينِ
فِي الْجَزَائِرِ، وَهُوَ مُنَاسِبَةٌ لِإِدْمَاجِ هَذِهِ الْفِئَةِ فِي الْحَيَاةِ
الاجْتِمَاعِيَّةِ وَاسْتِثْمَارِ مَالِدِيهَا مِنْ طَاقَاتٍ .

السند : 3

العلم نور والجهل ظلام



السند 2 : يوم العلم 16 أبريل

4) التَّارِيخُ الْمَعْلَمِيُّ الْعَالَمِيُّ :



السند رقم 4 : 5 جوان اليَوْمُ الْعَالَمِيُّ لِلْبِيئَةِ



السند رقم 5 : أول ماي اليَوْمُ الْعَالَمِيُّ لِلْعَمَالِ

تُحْيِي الْجَزَائِرُ عَلَى غِرَارِ دَوْلِ
الْعَالَمِ اليَوْمَ الْعَالَمِيِّ لِلْمُعَاقِينِ
الَّذِي يُصَادِفُ يَوْمَ 03 ديسمبر
مِنْ كُلِّ سَنَةٍ، مِمَّا يُذَكِّرُنَا
بِوَاجِبِ الرِّعَايَةِ وَالْعِنَايَةِ بِهَذِهِ
الْفِئَةِ وَادْمَاجِهَا إِجْتِمَاعِيًّا.

السند رقم : 6



ألاحظ السندات 1، 2، 3، 4، 5، 6 وأستنتج أن...

أدمج تَعْلَمَاتِي :

■ أنقل الجدول التالي على كراسك ثم أذكر 4 تواريخ معلّمة ذات طابع :

عالمي	وطني	اجتماعي	شخصي



ثالثا - المراحل التاريخية

نظراً لطول الفترة التي عاش فيها الإنسان على سطح الأرض، لجأ المؤرخون إلى تقسيمها إلى مراحل متباينة تسهيلاً لدراستها. استخلص تلك المراحل وخصائص كل منها.

1 - مرحلة التاريخ القديم

تبدأ مرحلة التاريخ القديم من اكتشاف الكتابة حوالي 3200 سنة ق.م إلى سقوط روما على يد القبائل الجرمانية سنة 476 م.

السند : 1



ماسينيسا من أشهر الملوك النوميديين، حكم نوميديا ما بين (202 ق.م - 148 ق.م) وحّد مملكة نوميديا وجعل سيرتا (قسنطينة حالياً) عاصمة لها. قاوم الإستعمار الروماني: وهو صاحب مقولة إفريقية للأفارقة

السند 2 : الملك ماسينيسا




السند 3 : نقوش التاسيلي

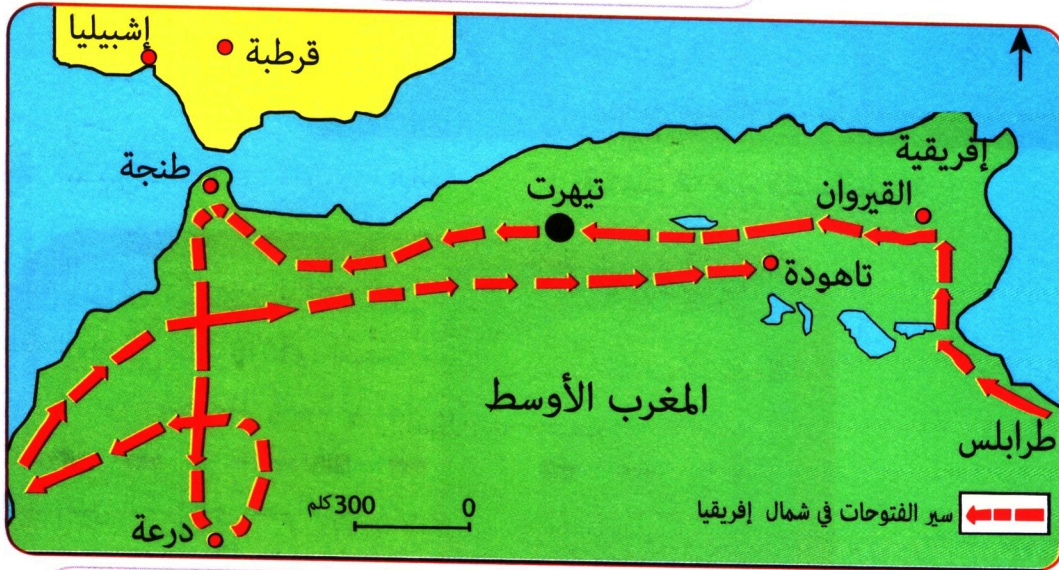
2 - مَرَحَلَةُ التَّارِيخِ الوَسِيطِ

تَبَدَّأُ مَرَحَلَةُ التَّارِيخِ الوَسِيطِ مِنْ سُقُوطِ رُومَا سَنَةَ 476 م إِلَى فَتْحِ القُسْطَنْطِينِيَّةِ عَلَى يَدِ العُثْمَانِيَّينَ عَامَ 1453 م .
وَأَهَمُّ مَا يُمَيِّزُ هَذِهِ المَرَحَلَةَ أَنَّ العَالَمَ الإِسْلَامِيَّ كَانَ يَعْيشُ أَزْهَى عَصُورِهِ مِنْ حَيْثُ التَّطَوُّرُ الحَضَارِيَّ، بَيْنَمَا كَانَتْ أوروْبَا تَعْيشُ فِي عَصْرِ الظُّلْمَاتِ وَسَيْطَرَةِ الكَنِيسَةِ .

السند : 4



السند 5 : ظُهُورُ الإِسْلَامِ



السند 6 : مِنْ مُمَيِّزَاتِ العَصْرِ الوَسِيطِ الفُتُوحَاتُ الإِسْلَامِيَّةُ لِشَمَالِ إِفْرِيقِيَا

أَلاحِظِ السَّنَدَاتِ 1، 2، 3، 4، 5، 6 وَأَسْتَنْتِجْ أَنَّ ...



أَفُومُ تَعَلَّمَاتِي :

■ ماهي أهم محطات التاريخ القديم والتاريخ الوسيط ؟


3 - مَرَحَلَةُ التَّارِيخِ الْحَدِيثِ

تَبَدُّأُ مَرَحَلَةُ التَّارِيخِ الْحَدِيثِ مِنْ فَتْحِ الْقُسْطَنْطِينِيَّةِ سَنَةَ 1453م إِلَى قِيَامِ الثَّوْرَةِ الْفَرَنْسِيَّةِ سَنَةَ 1789م .
 وَقَدْ عَرَفَ الْعَالَمُ الْإِسْلَامِيُّ فِي هَذِهِ الْمَرَحَلَةِ رُكُودًا حَضَارِيًّا وَحُرُوبًا
 وَأَنْقِسَامَاتٍ أَدَّتْ إِلَى ضَعْفِهِ وَظُهُورِ الْخَطَرِ الْأَجْنَبِيِّ، خُصُوصًا بَعْدَ
 سُقُوطِ غَرْنَاطَةَ سَنَةَ 1492م، بَيْنَمَا بَدَأَتْ أُوْرُوبَا تَعْرِفُ عَصْرَ النَّهْضَةِ .
 فَالثَّوْرَةُ الصَّنَاعِيَّةُ، فَالْحَرَكَةُ الْإِسْتِعْمَارِيَّةُ .

السند : 1



السند : 2 فَتْحُ الْقُسْطَنْطِينِيَّةِ



خير الدين بربروس

دَخَلَتْ الْجَزَائِرُ تَحْتَ الْحُكْمِ
 الْعُثْمَانِيِّ مِنْذَ 1518م، اسْتِجَابَةً
 لِدَعْوَةِ سُكَّانِهَا لِمُسَاعَدَتِهِمْ
 فِي صَدِّ الْهَجْمَاتِ الْإِسْبَانِيَّةِ
 عَلَى السَّوَاخِلِ الْجَزَائِرِيَّةِ، وَقَدْ
 تَمَتَّعَتِ الْجَزَائِرُ بِشِبْهِ اسْتِقْلَالٍ
 ذَاتِيٍّ، تَجَلَّى خُصُوصًا فِي إِبْرَامِ
 الْمُعَاهَدَاتِ وَإِقَامَةِ الْعِلَاقَاتِ
 مَعَ الْخَارِجِ .

السند : 3

4 - مَرْحَلَةُ التَّارِيخِ الْمُعَاصِرِ

تَبْدَأُ مَرْحَلَةُ التَّارِيخِ الْمُعَاصِرِ مِنَ الثَّوْرَةِ الْفَرَنْسِيَّةِ سَنَةَ 1789 م إِلَى يَوْمِنَا هَذَا، وَمِنْ أَبْرَزِ سِمَاتِ هَذِهِ الْفَتْرَةِ قِيَامُ الثَّوْرَةِ الصَّنَاعِيَّةِ وَانْتِشَارُ الْحَرَكَةِ الْاسْتِعْمَارِيَّةِ، وَظُهُورُ الْمُقَاوِمَةِ وَالْحَرَكَاتِ التَّحْرِيَّةِ .

السند : 4



لوحة زيتية تمثل مبايعة الأمير عبد القادر في 27 نوفمبر 1832 م



قَادَةُ الثَّوْرَةِ التَّحْرِيَّةِ يَتَفَقَّدُونَ جَيْشَ التَّحْرِيرِ

السند : 6



أَلَا حِظَّ السَّنَدَاتِ 1، 2، 3، 4، 5، 6 وَأَسْتَنْجِ أَنْ ...

أُدْمِجْ تَعْلَمَاتِي :

■ أُرْسِمُ سُلَّمًا زَمَنِيًّا وَوَقِّعْ عَلَيْهِ الْمَرَا حِلَّ التَّارِيخِيَّةِ : الْقَدِيمُ، الْوَسِيطُ، الْحَدِيثُ، الْمُعَا صِرُّ.

أُدْمِجُ تَعَلُّمَاتِي

النشاط رقم 1 :

■ أنقل الجدولين على كراسك ووقع على كل منهما الأعياد الإسلامية والوطنية حسب كل تقويم .



مُفَكِّرَتِي بِالْأَعْيَادِ الْإِسْلَامِيَّةِ
السنة هجرية



مُفَكِّرَتِي بِالْأَعْيَادِ الْوَطْنِيَّةِ
السنة ميلادية

- أنقل الجدول على كراسك وحدد
الأعياد الإسلامية التي يحتفل بها
وطنك سنويا

- أنقل الجدول على كراسك وحدد
الأعياد الوطنية التي يحتفل بها وطنك
سنويا

المناسبة	اليوم	الشهر
		1 - محرم
		2 - صفر
		3 - ربيع الأول
		4 - ربيع الثاني
		5 - جمادى الأولى
		6 - جمادى الثانية
		7 - رجب
		8 - شعبان
		9 - رمضان
		10 - شوال
		11 - ذي القعدة
		12 - ذي الحجة

المناسبة	اليوم	الشهر
		1 - جانفي
		2 - فيفري
		3 - مارس
		4 - أفريل
		5 - ماي
		6 - جوان
		7 - جويلية
		8 - أوت
		9 - سبتمبر
		10 - أكتوبر
		11 - نوفمبر
		12 - ديسمبر

النشاط رقم 2 :

■ أنسب الشخصيات التالية إلى المرحلة التاريخية التي تنتمي إليها:
عُقبَةُ بَنِ نَافِعٍ - مَاسِينِيَسَا - الأَمِيرُ عَبْدُ القَادِرِ - الرَيسُ حَمِيدُو

أَقْوَمُ تَعْلَمَاتِي

النشاط رقم 1 :

■ أنقل الجدول المتضمن مجموعة من الأعياد على كراسك ثم أنسب كل عيد إلى التقويم الذي يناسبه. بوضع الحرف (هـ) أو (م).

العيد	المُناسبة	هَجْرِيّ	مِلَادِيّ
أَوَّل شَوَّال			
أَوَّل نَوْفَمْبَر			
أَوَّل جَانْفِي			
أَوَّل مُحَرَّم			
10 ذِي الْحِجَّة			
5 جَوِيلِيَّة			

النشاط رقم 2 :

■ أنت الآن في السنة الرابعة ابتدائي :
مثّل على خطّ زمنيّ أهمّ المراحل التي مررت بها منذ الطفولة إلى الآن.



الميدان الثاني: التاريخ العام

من 571 ميلادي إلى 1007 ميلادي

أحدثت الرسالة المحمدية تغييرات عميقة في شبه الجزيرة العربية ثم العالم، مسّت مختلف مجالات الحياة، ففيم تتمثل هذه التغييرات؟

(أيها الملك

كُنَّا قَوْمًا أَهْلَ جَاهِلِيَّةٍ ، نَعْبُدُ

الأصنام ، ونأكل الميتة ونأتي الفواحش

ونقطع الأرحام ونسيئ الجوار ، ويأكل القوي منا

وكانت علينا غزاة حتى بعث الله إلينا رسولاً منا

نعلم ما نعرف نسبه، وصدقه وأمانته، وعفاه فدعانا إلى

الله لتوحيده ونعبده.... ونهانا عن الفواحش وقول

الزور وأكل مال اليتيم....)

من خطاب جعفر بن أبي طالب إلى النجاشي ملك الحبشة.


(صورة تذكيرية)

التحول الذي أحدثه الإسلام



عقبة بن نافع (صورة تمثيلية)

يَا رَبِّ لَوْلَا هَذَا الْبَحْرُ لَمْضَيْتُ مُجَاهِدًا فِي سَبِيلِكَ
فَتَحُّ إِفْرِيقِيَا



مَظَاهِرُ التَّحْوَلِ العُمَرَائِيِّ فِي شَمَالِ إِفْرِيقِيَا



1 - شبهُ الجزيرة العربيّة قبلَ ظهورِ الإسلامِ :

سُمِّيتِ الفَتْرَةُ التي سَبَقَتْ ظُهورَ الإسلامِ في شِبهِ الجزيرة العربيّة بالجاهليّة. اسْتَعِنَ بالسَّنَدَاتِ التَّالِيَةِ وَاسْتَنْتَجَ أَبرَزَ مَلامِحِها .



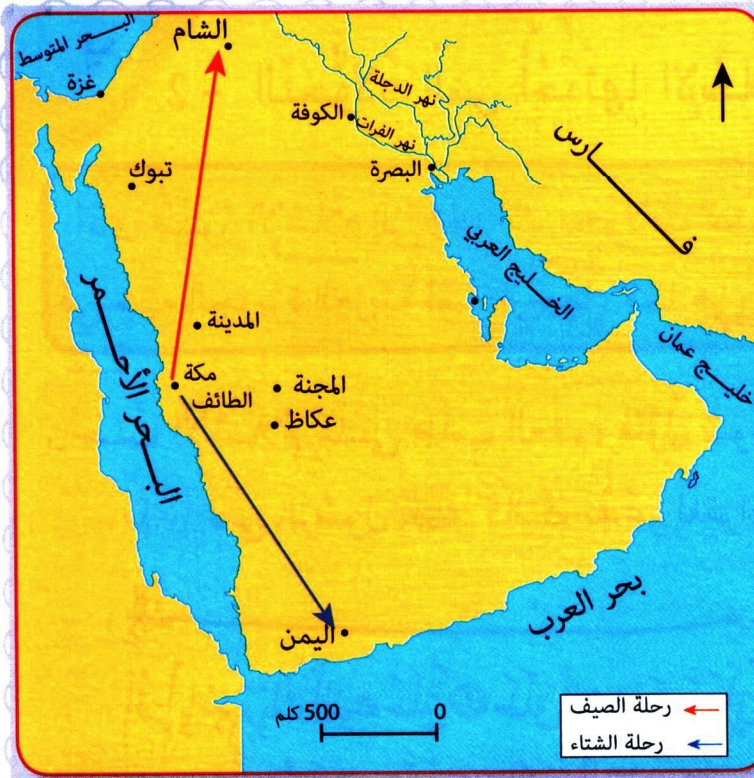
السند 1 : الكعبة قبل الإسلام

مَكَّةُ: هي إِحدى مُدُنِ شِبهِ الجزيرة العربيّة. بها الكعبةُ التي كانت مُقدَّسةً لَدَى العَرَبِ الَّذينَ يَحْجُّونَ إليها سَنويًا، لذلك قامَ أبرههُ مَلِكُ الحَبَشَةِ بِتَجهيزِ جَيشٍ لِهَدْمِها وَتَحويلِ الحِجِّ إلى بِلادِهِ سَنَةَ 571 م. وهي السَّنَةُ التي وُلِدَ فيها الرِّسولُ مُحَمَّدٌ ﷺ.

السند 3:

كَانَتِ الحروبُ (الإغاراتُ) من السُّماتِ السَّائدةِ بين القبائلِ العربيّةِ في الجاهليّةِ، وهي تَحَدُّثُ لِأَتَفِهِ الأَسبابِ، ومن أَشهرِها حَرَبُ (داحسُ والغبراءُ) بين قبيلَتَي عَبيسٍ وَذُبَيانٍ وَالتي دامتْ أَكثَرَ من 40 عامًا.

السند 2:



مِنْ بَيْنِ أَهَمِّ الْأَنْشِطَةِ
الِإِقْتِصَادِيَّةِ الَّتِي كَانَ
يُمَارِسُهَا الْعَرَبُ
فِي الْجَاهِلِيَّةِ، هِيَ التَّجَارَةُ،
مَعَ الشُّعُوبِ الْمُجَاوِرَةِ،
وخاصَّةً الشَّامَ وَالْيَمَنَ
فِي رِحْلَتَيْ الشِّتَاءِ
وَالصَّيْفِ. وَقَدْ ذَكَرَ
الْقُرْآنُ الْكَرِيمُ هَذِهِ

الرَّحَلَاتُ التَّجَارِيَّةَ الْمَوْسِمِيَّةَ

بقوله تعالى: **لِإِيلَافِ قُرَيْشٍ ①** إِيْلَافِهِمْ رِحْلَةَ الشِّتَاءِ وَالصَّيْفِ ②

فَلْيَعْبُدُوا رَبَّ هَذَا الْبَيْتِ ③ الَّذِي أَطْعَمَهُمْ مِنْ جُوعٍ

سورة قريش

وَأَمَّنَّهُمْ مِنْ خَوْفٍ ④

السند: 4 النشاط التجاري للعرب

إذا كان العرب قبل الإسلام قد اشتهروا ببعض الصفات الذميمة كالثأر، فقد اتصفوا أيضاً بعبادات حميدة كالكرم والشجاعة وصيانة الأمانة وإغاثة السائل.

السند: 5

ألاحظ السندات 1، 2، 3، 4، 5 وأستنتج أن...



2 - التحوُّلاتُ التي أُحدثها الإسلامُ:

أدَّى ظُهورُ الإسلامِ إلى إحدَاثِ تحوُّلاتٍ عميقةٍ في حياةِ البشريَّةِ، سواءً في شِبهِ الجزيرةِ العربيَّةِ أو خارجَها. فما هي أهمُّ تلكِ التحوُّلاتِ؟

حَثَّ الإسلامُ على طَلَبِ العِلْمِ، فأوَّلُ سُورَةٍ في القرآنِ الكَرِيمِ نَزَلَتْ على الرَّسُولِ ﷺ كَانَتْ تَدْعُو لِلقِرَاءَةِ في قَوْلِهِ تَعَالَى:

بِسْمِ اللَّهِ الرَّحْمَنِ الرَّحِيمِ
 أَقْرَأْ بِاسْمِ رَبِّكَ الَّذِي خَلَقَ ① خَلَقَ الْإِنْسَانَ مِنْ عَلَقٍ ② اقْرَأْ وَرَبُّكَ الْأَكْرَمُ ③
 الَّذِي عَلَّمَ بِالْقَلَمِ ④ عَلَّمَ الْإِنْسَانَ مَا لَمْ يَعْلَمْ ⑤

سورة العلق

السند: 1

تَعَرَّضَ الرَّسُولُ - صَلَّى اللَّهُ عَلَيْهِ وَسَلَّمَ - وَالْمُسْلِمُونَ الْأَوَائِلُ الَّذِينَ آمَنُوا بِدَعْوَتِهِ فِي مَكَّةَ إِلَى الْإِيذَاءِ مِنْ طَرَفِ مُشْرِكِي قُرَيْشٍ، مِمَّا دَفَعَهُمْ إِلَى الْهَجْرَةِ - الْأُولَى - بِدِينِهِمْ إِلَى الْحَبَشَةِ فِي سَنَةِ 615 م، ثُمَّ جَاءَتْ الْهَجْرَةُ الثَّانِيَةَ - مِنْ مَكَّةَ إِلَى يَثْرِبَ سَنَةَ 622 م.

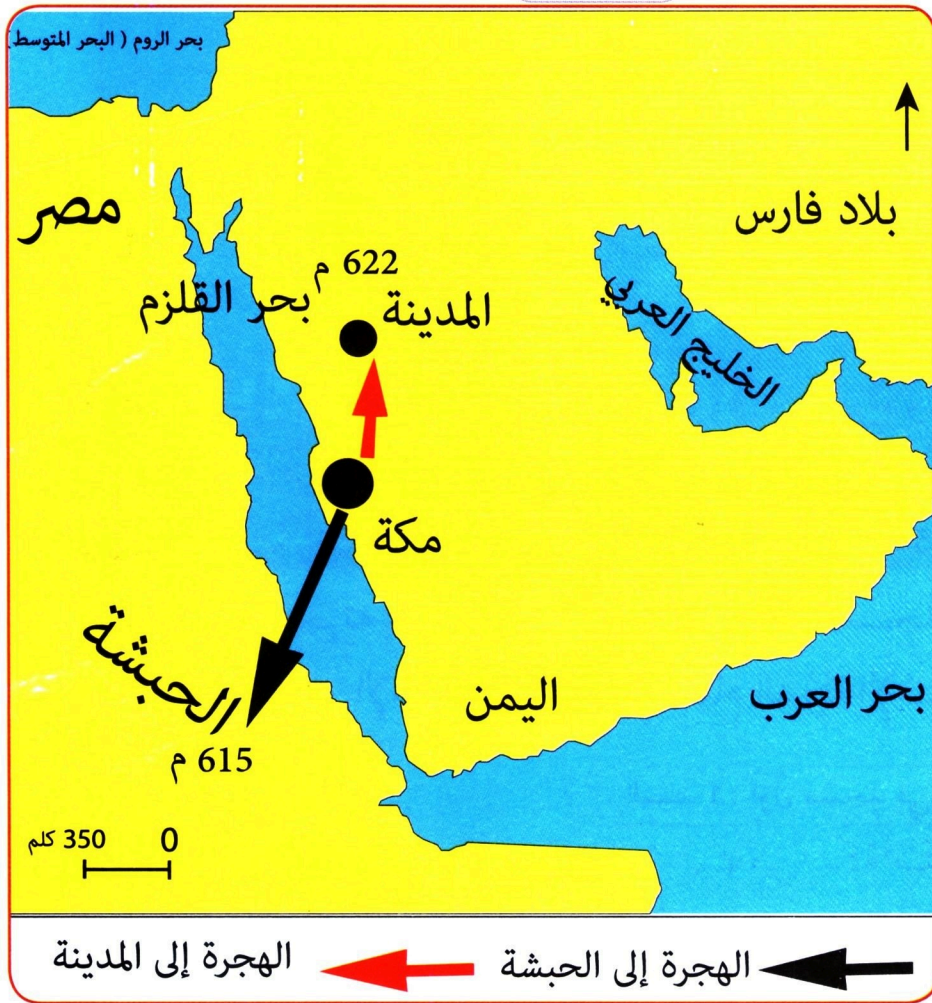
السند: 2

هَاجَرَ الرَّسُولُ ﷺ وَأَصْحَابُهُ (الْمُهَاجِرُونَ) مِنْ مَكَّةَ سَنَةَ 622 م تَارِكِينَ وَرَاءَهُمْ أَمْلَاكَهُمْ وَمَسَاكِينَهُمْ. وَلَمَّا وَصَلُوا إِلَى يَثْرِبَ اسْتَقْبَلَهُمُ الْأَنْصَارُ فَقَامَ الرَّسُولُ (ص) بِالْمُؤَاخَاةِ بَيْنَهُمْ، حَيْثُ تَكْفَلَ كُلُّ أَنْصَارِيٍّ بِإِيوَاءِ وَإِعَالَةِ وَاحِدٍ مِنَ الْمُهَاجِرِينَ (أَصْبَحَ كُلُّ مُهَاجِرٍ بِمَثَابَةِ أَخٍ لِكُلِّ أَنْصَارِيٍّ)

السند: 3

اليوم	التاريخ الميلادي	التاريخ الهجري	خط سير الهجرة
الخميس	13 سبتمبر 622 م	27 صفر 1 هـ	مُغَادِرَةُ مَكَّةَ وَ الْمَكُّوثُ بِغَارِ ثَوْرٍ قُرْبَ مَكَّةَ.
الإثنين	17 سبتمبر 622 م	1 ربيع الأول 1 هـ	مُغَادِرَةُ جَبَلِ ثَوْرٍ بِاتِّجَاهِ يَثْرِبَ.
الإثنين	24 سبتمبر 622 م	8 ربيع الأول 1 هـ	الْوُصُولُ إِلَى قُبَاءَ وَالْمَكُّوثُ بِهَا بِضَعَةِ أَيَّامٍ.
الخميس	27 سبتمبر 622 م	12 ربيع الأول 1 هـ	الْوُصُولُ إِلَى الْمَدِينَةِ.

السند : 4



السند 5 : الهجرتان إلى الحبشة وإلى المدينة (يثرِب)

1، 2، 3، 4، 5 وأستنتج أن ...

ألاحظ السندات

أقومُ تعلّمتني:

■ كَيْفَ تُفسِّرُ أسبابَ الهجرة النبوية من مكة إلى المدينة؟

3 - قِيَامُ الدَّوْلَةِ الإِسْلَامِيَّةِ

مَرَّ قِيَامُ الدَّوْلَةِ الإِسْلَامِيَّةِ بِمَرَا حِلٍّ وَخُطُواتٍ تَمَّ مِنْ خِلالِها وَضَعُ أُسُسِ الدَّوْلَةِ الجَدِيدَةِ . فَمَا هِيَ الخُطُواتُ الَّتِي اعْتَمَدَها الرِّسُولُ فِي بِناءِ دَوْلَتِهِ ؟



مسجد قباء الحالي الذي بني على أنقاض المسجد القديم

فِي طَرِيقِ هِجْرَتِهِ إِلى يَثْرِبَ بَنى الرِّسُولُ ﷺ مَسْجِدَ قُباةٍ وَهُوَ أَوَّلُ مَسْجِدٍ بُني فِي الإِسْلامِ، وَأَوَّلُ نِوَاةٍ لِقِيامِ الدَّوْلَةِ الإِسْلامِيَّةِ

السند 1: أول مسجد في الإسلام

بَعْدَ اسْتِقْرارِ الرِّسُولِ ﷺ فِي يَثْرِبَ شَرَعَ فِي تَنْظِيمِ العِلاقاتِ بَيْنَ سُكَّانِها مِنْ خِلالِ تَحْرِيرِ وَثِيقَةٍ أَصْبَحَتْ تُسَمَّى صَحِيفَةَ المَدِينَةِ سَنَةَ 623 م، وَهِيَ بِمِثابَةِ دُسْتُورِ مَدَنِيٍّ يُنظِّمُ العِلاقاتِ بَيْنَ الجَمِيعِ .

السند 2:

في 20 رَمَضانَ مِنْ السَّنَةِ الثَّامِنَةِ لِلهِجْرَةِ (8 هجرية) المُوافِقِ لـ :
10 جَانِفي مِنْ سَنَةِ 630 م تَمَكَّنَ الرَّسُولُ ﷺ مِنْ فَتْحِ مَكَّةَ .

السند : 3

أَدَّى الرَّسُولُ ﷺ حَجَّةَ الْوَدَاعِ فِي السَّنَةِ الـ 10 هـ ، وَفِيهَا أَلْقَى خُطْبَةً
سُمِّيَتْ (بِخُطْبَةِ حَجَّةِ الْوَدَاعِ) ، وَمِنْ أَهَمِّ مَا جَاءَ فِيهَا :
(إِنَّ دِمَاءَكُمْ وَأَمْوَالَكُمْ وَأَعْرَاضَكُمْ عَلَيْكُمْ حَرَامٌ كَحُرْمَةِ يَوْمِكُمْ
هَذَا فِي شَهْرِكُمْ هَذَا فِي بَلَدِكُمْ هَذَا) وَبَعْدَ 3 أَشْهُرٍ تُوفِّيَ النَّبِيُّ ﷺ ..

السند : 4

الأوسُ والخَزْرَجُ قَبيلَتانِ عَرَبِيَّتانِ تَسْكُنانِ يَثْرِبَ ، كَانَتِ الْحُرُوبُ تَقُومُ
بَيْنَهُمَا لِأَتْفِهِ الْأَسْبَابِ ، وَبِالتَّالِي كَانَ يَسُودُ يَثْرِبَ قَبْلَ هِجْرَةِ الرَّسُولِ ﷺ
إِلَيْهَا جَوْ مِنْ الْعَدَاوَةِ وَعَدَمِ الْإِسْتِقْرَارِ . وَأَوَّلُ عَمَلٍ قَامَ بِهِ الرَّسُولُ ﷺ
عِنْدَ الْهِجْرَةِ سَنَةَ 622 م هُوَ إِبرامُ صُلْحِ بَيْنِ الْقَبيلَتَيْنِ وَإِزَالَةُ
الْعَدَاوَةِ بَيْنَهُمَا .

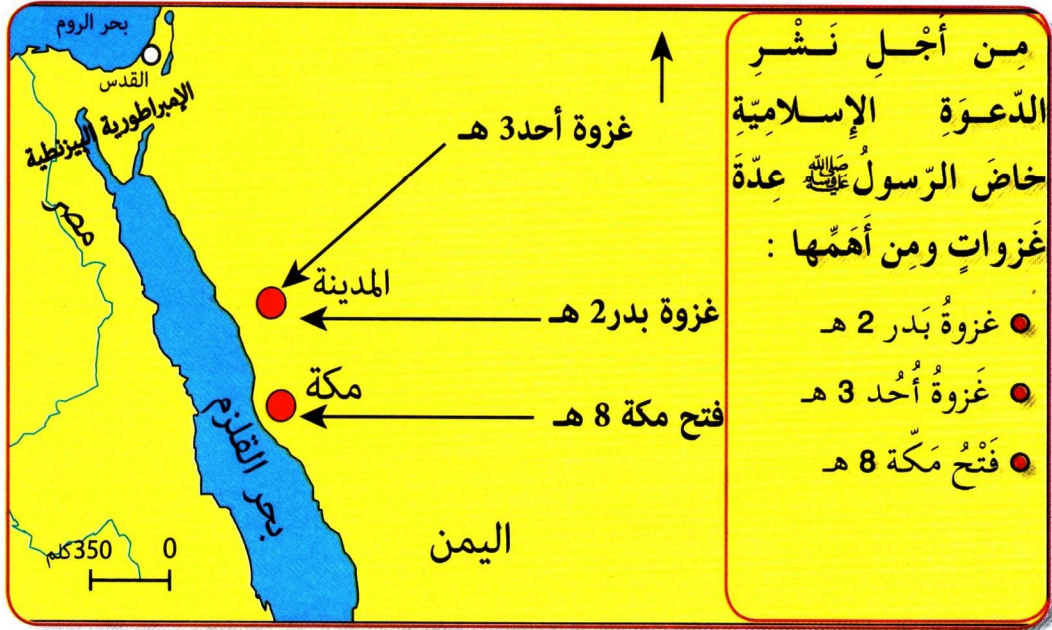


السند : 5

أَلْحِظِ السَّنَدَاتِ 1، 2، 3، 4، 5 وَأَسْتَنْجِ أَنْ ...

4 - الفُتُوحَاتُ الإِسْلَامِيَّةُ فِي المَشْرِقِ :

بَعْدَ وَفَاةِ الرَّسُولِ ﷺ تَوَاصَلَتِ الفُتُوحَاتُ الإِسْلَامِيَّةُ فِي المَشْرِقِ . اسْتَثْمَرَ السَّنَدَاتِ وَأَنْجَزَ خَطًّا زَمَنِيًّا لِأَبْرَزِ أَحْدَاثِ الفَتْحِ الإِسْلَامِيِّ فِي المَشْرِقِ .



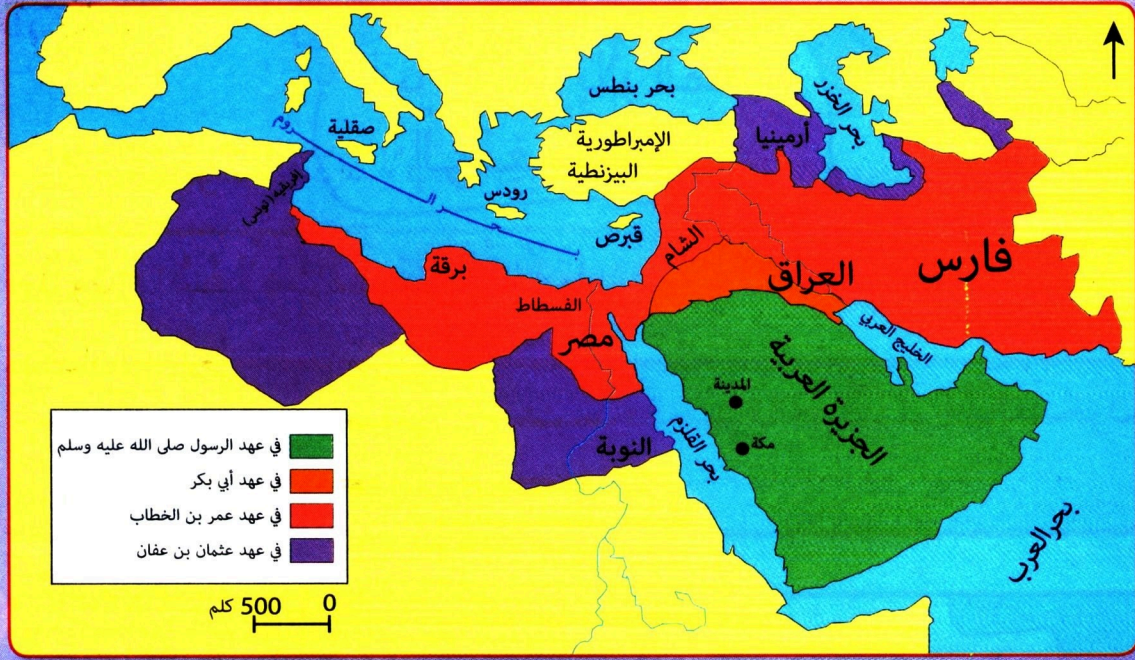
سند 1: غزوات النبي ﷺ

فِي يَوْمِ الإِثْنَيْنِ 12 ربيع الأول سنة 11 هجرية الموافق 632 ميلادية توفي النبي ﷺ وكان عمره 63 سنة، وهذا بعد أن أدى الرسالة كما جاء في قوله تعالى :

(الْيَوْمَ أَكْمَلْتُ لَكُمْ دِينَكُمْ وَأَتِمَمْتُ عَلَيْكُمْ نِعْمَتِي وَرَضِيتُ لَكُمُ الإِسْلَامَ دِينًا)

الآية 3 من سورة المائدة

السند 2:



قَامَ الْخُلَفَاءُ الرَّاشِدُونَ (11 - 41 هـ) بَعْدَ فُتُوحَاتٍ خَارِجٍ شِبْهِ الْجَزِيرَةِ الْعَرَبِيَّةِ
 شَمِلَتْ: • الشَّامَ : سنة 15 هـ • فارس : سنة 16 هـ • مصر : سنة 21 هـ

السند 3 : الفُتُوحَاتُ فِي عَهْدِ الْخُلَفَاءِ الرَّاشِدِينَ

بَعْدَ وَفَاةِ الرَّسُولِ ﷺ ، تَوَلَّى أَبُو بَكْرٍ الصِّدِّيقُ الْحُكْمَ بِمُبَايَعَتِهِ خَلِيفَةً
 لِرَسُولِ اللَّهِ ، فَكَانَ ذَلِكَ إِيدَانًا بِقِيَامِ دَوْلَةِ الْخُلَفَاءِ الرَّاشِدِينَ الَّتِي اِمْتَدَّتْ
 بَيْنَ سَنَتَيْ 632 م - 661 م .

السند : 4



السند : 5



أَلْحِظِ السَّنَدَاتِ 1، 2، 3، 4، 5
 وَأَسْتَنْتِجُ أَنْ ...

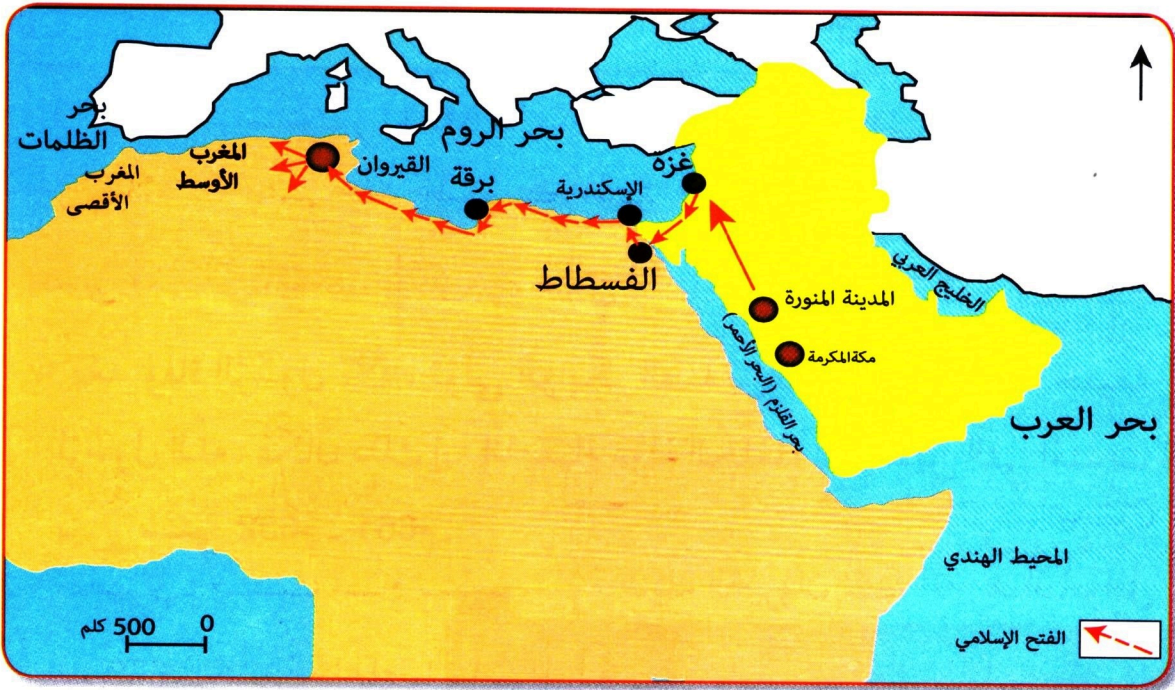
أُدْمِجُ تَعْلَمَاتِي :

■ أذْكَرُ ثَلَاثَةً مِنْ أَهَمِّ الْأَعْمَالِ الَّتِي قَامَ بِهَا الرَّسُولُ ﷺ فِي الْمَدِينَةِ الْمُنَوَّرَةِ .



1 - الفتح الإسلامي لشمال إفريقيا:

بعد نجاح الفتوحات الإسلامية في شبه الجزيرة العربية، توجه الفاتحون نحو شمال إفريقيا. فكيف تم ذلك؟



السند 1 : مسار فتح شمال إفريقيا

قبل الفتح الإسلامي كان شمال إفريقيا خاضعاً للإحتلال البيزنطي، وكان سكَّانه مُستغلِّين من طرف الغزاة، حيث لم يكن لهم أي دور في الحياة السياسية والاقتصادية.

السند 2:



اثار سببلة الرومانية (تونس)

تُعتبر سنة 27 هـ الموافق 647 م، تاريخاً معلماً في مسار الفتوحات الإسلامية، ففي هذا التاريخ استولى عبد الله بن أبي سرح على مدينة سببلة، أكبر حصن روماني في شمال إفريقيا.

السند : 3

بدأ الفتح الإسلامي الفعلي لشمال إفريقيا على يد عقبة بن نافع الفهري، حيث قام بتأسيس مدينة القيروان سنة 50 هـ الموافق لـ 670 م واتخذها قاعدة لمواصلة فتح بقية أجزاء شمال إفريقيا. ففضى على المعسكر البيزنطي في بغاي (قرب خنشلة) ولامبيز، وبلغ تيهرت ومنها واصل الفتوحات نحو الغرب. وعند ما بلغ المحيط الأطلسي قال قولته المشهورة:

(يارب لولا هذا البحر لمضيت مجاهداً في سبيلك).



السند : 4

ألاحظ السندات 1، 2، 3، 4 وأستنتج أن ...

2 - مَرَا حِلُّ الْفَتْحِ الْإِسْلَامِيِّ لِشَمَالِ إِفْرِيقِيَا :

مَرَّ الْفَتْحُ الْإِسْلَامِيُّ لِبِلَادِ الْمَغْرِبِ بَعْدَ مَرَا حِلِّ، وَضَّحَ ذَلِكَ .



السند 1 : حَمَلَاتُ فَتْحِ شَمَالِ إِفْرِيقِيَا



عِنْدَمَا كَانَ عُقْبَةُ بْنُ نَافِعٍ عَائِدًا إِلَى الْقَيْرَوَانِ بَعْدَ وَصُولِهِ إِلَى الْمُحِيطِ الْأَطْلَسِيِّ، وَقَعَ فِي كَمِينٍ نَصَبَهُ لَهُ الْبِيزَنْطِيُّونَ فِي مَدِينَةِ تَهْوَدَةَ قُرْبَ بَسْكَرَةَ، فَاسْتَشْهَدَ بِهَا صُحْبَةً أَزِيدٍ مِنْ 300 فَارِسٍ كَانُوا مَعَهُ، وَذَلِكَ سَنَةَ

62 هـ الْمَوْافِقَ لـ 681 م .

السند : 2

دَامَ فَتْحُ شَمَالِ إِفْرِيقِيَا نَحْوَ 70 عَامًا (21 إِلَى 90 هـ) الْمُوَافِقُ لـ
 (642-709 م) فَبَعْدَ فَتْحِ مِصْرَ بِقِيَادَةِ عَمْرُو بْنِ الْعَاصِ، وَتَأْسِيسِ مَدِينَةِ
 الْفُسْطَاطِ، تَوَجَّهَ الْفَاتِحُونَ إِلَى بَرْقَةَ ثُمَّ طَرَابُلُسَ بِلِيَبِيَا الْحَالِيَةِ، وَلَمَّا
 وَصَلُوا إِلَى تُونِسَ أَسَّسَ عُقْبَةُ بْنُ نَافِعٍ مَدِينَةَ الْقَيْرَوَانِ بِتُونِسَ سَنَةَ
 50 هـ الْمُوَافِقِ لِسَنَةِ 670 م، وَاتَّخَذَهَا مُنْطَلَقًا لِفَتْحِ بَقِيَةِ شَمَالِ إِفْرِيقِيَا.

السند: 3

1 - عَمْرُو بْنُ الْعَاصِ	2 - عَبْدُ اللَّهِ بْنُ أَبِي سَرْحٍ	3 - مُعَاوِيَةُ بْنُ حُدَيْجٍ
4 - عُقْبَةُ بْنُ نَافِعٍ	5 - أَبُو الْمُهَاجِرِ دِينَارٍ	6 - زُهَيْرُ بْنُ قَيْسٍ
7 - حَسَّانُ بْنُ النُّعْمَانِ	8 - مُوسَى بْنُ نُصَيْرٍ	

السند 4: قَادَةُ فَتْحِ شَمَالِ إِفْرِيقِيَا

أَلِاحِظِ السَّنَدَاتِ 1، 2، 3، 4 وَأَسْتَنْتِجِ أَنْ ...



أَفْوَمُ تَعْلَمَاتِي:

■ اسْتَخْرَجِ مِنَ الْجَدْوَلِ السَّابِقِ قَادَةَ فَتْحِ الْجَزَائِرِ.

3 - تَأْثِيرَاتُ الْفَتْحِ الْإِسْلَامِيِّ عَلَى شَمَالِ إِفْرِيقِيَا :

بَدْخُولِ الْإِسْلَامِ إِلَى شَمَالِ إِفْرِيقِيَا، عَرَفَتْ الْمِنْطَقَةَ تَغْيِيرَاتٍ كَبِيرَةً شَمَلَتْ مُخْتَلَفَ مَجَالَاتِ الْحَيَاةِ، فِيمَ تَمَثَّلَتْ هَذِهِ التَّغْيِيرَاتُ؟

أَدَّى الْفَتْحُ الْإِسْلَامِيُّ لِشَمَالِ إِفْرِيقِيَا إِلَى اعْتِنَاقِ سُكَّانِهِ لِلدِّينِ الْإِسْلَامِيِّ، وَاحْتِضَانِهِمْ لِلْفَاتِحِينَ مِمَّا أَدَّى إِلَى حُدُوثِ تَمَازُجٍ بَيْنَهُمْ، وَأَصْبَحَتِ الْمِنْطَقَةُ جُزْءًا مِنَ الدَّوْلَةِ الْإِسْلَامِيَّةِ. وَهَذَا مَا دَفَعَ الْمَغَارِبَةَ إِلَى مُوَاصَلَةِ الْفَتْحِ بِاتِّجَاهِ الْأَنْدَلُسِ سَنَةَ 711 م.

السند: 1

أَحَدَتْ الْفَتْحُ الْإِسْلَامِيُّ لِشَمَالِ إِفْرِيقِيَا تَغْيِيرَاتٍ كَبِيرَةً عَلَى أَوْضَاعِهَا الْعَامَّةِ وَمِنْهَا:

- تَحْرِيرُ الْحَوْضِ الْغَرْبِيِّ لِلْبَحْرِ الْأَبْيَضِ الْمُتَوَسِّطِ مِنْ سَيْطَرَةِ الْبِيزَنْطِيِّينَ.
- جَعْلُ الْمِنْطَقَةِ جُسُورَ تَوَاصُلٍ بَيْنَ أُرُوبَا وَإِفْرِيقِيَا وَالْمَشْرِقِ الْعَرَبِيِّ.
- إِزْدِهَارُ الزَّرَاعَةِ بِإِدْخَالِ مَزْرُوعَاتٍ جَدِيدَةٍ.

السند: 2

تَعَدَّدَتِ الْآلِهَةُ لَدَى سُكَّانِ شَمَالِ إِفْرِيقِيَا مِنْهَا: عِبَادَةُ السَّمَاءِ وَالشَّمْسِ وَالْقَمَرِ وَ النَّارِ وَالْبَحْرِ وَالْأَنْهَارِ وَالْأَحْجَارِ ... تَجَاوَزَ عَدْدُهَا 160 إِلَهًا. وَبِمَجِيءِ الْإِسْلَامِ تَخَلَّصَتِ الْمِنْطَقَةُ مِنَ الْوَثْنِيَّةِ.

السند: 3

اتَّسَمَ الحُكْمُ البِيزَنْطِيُّ لِشَمَالِ إفريقيا بِالشَّدَّةِ، وَفَرَضَ الضَّرَائِبَ عَلَى السُّكَّانِ، وَالإِسْتِخْوَاذَ عَلَى الأَرَاضِي الخِصْبَةِ. وَبمَجِيءِ الإسلامِ تَوَحَّدَتِ المِنطِقَةُ وَتَخَلَّصَتِ مِنَ الإِحتِلالِ الأَجَنبِيِّ، وَسَاهَمَ أَهْلُهَا فِي نَشْرِ الإسلامِ.

السند : 4



بَعْدَ فَتْحِ بِلَادِ المَغْرِبِ اتَّخَذَهَا الفَاتِحُونَ كَنقْطَةِ انْطِلاقٍ لِموَاصِلَةِ نَشْرِ الإسلامِ، فَجَاءَ فَتْحُ الأَنْدَلُسِ سَنَةَ 92 هِجْرِيَّةٍ المُوَافِقُ لـ 711 م بِقِيَادَةِ طَارِقِ بنِ زِيَادٍ وَمُوسَى بنِ نُصَيْرٍ.

السند 5: فتح الأندلس

ألاحظ السندات 1، 2، 3، 4، 5 وأستنتج أن ...



أدمجُ تَعَلُّمَاتِي:

■ ماهي نتائج الفتح الإسلامي لشمال إفريقيا؟




ثالثًا: العمارة الإسلامية

إِذَا كَانَتْ لِكُلِّ حَضَارَةٍ مَعَالِمٌ عُمْرَانِيَّةٌ تُمَيِّزُهَا. فَمَا هِيَ أَهَمُّ الْمَعَالِمِ
الْحَضْرِيَّةِ الْإِسْلَامِيَّةِ فِي بِلَادِ الْمَغْرِبِ؟

1- الْمَسْجِدُ:

يُعْتَبَرُ الْفَنُّ الْمَعْمَارِيُّ مِنْ أَبْرَزِ مَظَاهِرِ التَّطَوُّرِ الْحَضْرِيِّ لِلشُّعُوبِ، وَلِذَا
أَعْطَى الْفَاتِحُونَ أَهَمِّيَّةً كُبْرَى لِهَذَا الْفَنِّ الَّذِي بَرَزَ فِي مَظْهَرَيْنِ: الْمَظْهَرِ
الدِّينِيِّ تَمَثَّلَ فِي بِنَاءِ الْمَسَاجِدِ وَالْمَظْهَرِ السِّيَاسِيِّ تَمَثَّلَ فِي بِنَاءِ الْمُدُنِ.

السند: 1



اهتم الفاتحون منذ البداية
ببناء المساجد نظرًا للدور
الذي يلعبه المسجد في تربية
المجتمع.....

فِي عَامِ 50 هـ الْمُوَافِقِ لـ 670 م أَسَّسَ عُقْبَةُ بْنُ نَافِعٍ مَدِينَةَ الْقَيْرَوَانِ
الَّتِي لَعِبَتْ فِيهَا بَعْدَ دَوْرٍ مُتَمَيِّزٍ فِي سَيْرِ عَمَلِيَّةِ الْفَتْحِ، كَمَا أَصْبَحَتْ
عَاصِمَةً سِيَاسِيَّةً لِلْمَغْرِبِ الْإِسْلَامِيِّ.

السند: 2 : مَسْجِدُ عُقْبَةَ



بقايا أول مسجد في الجزائر

أَبُو الْمُهَاجِرِ دِينَارٍ أَوَّلُ قَائِدٍ مُسْلِمٍ فَتَحَ الْجَزَائِرَ، وَاتَّخَذَ مِنْ مَيْلَةَ مَقْرَاهُ. فَفِيهَا بَنَى ثَانِي مَسْجِدٍ فِي شَمَالِ إِفْرِيقِيَا سَنَةَ 59 هـ الْمُوَافِقَ لـ 678 م بَعْدَ مَسْجِدِ الْقَيْرَوَانِ بِتُونِسَ.

السند 3 : بقايا أول مسجد في الجزائر

تِيهَرْتُ أَوْ تِيَارْتُ الْحَالِيَةَ تَأَسَّسَتْ عَلَى يَدِ عَبْدِ الرَّحْمَانَ بْنِ



رُسِّمَتْ سَنَةَ 144 هـ الْمُوَافِقَ لـ 776 م، وَاتَّخَذَتْ عَاصِمَةَ لِأَوَّلِ دَوْلَةِ إِسْلَامِيَّةٍ مُسْتَقِلَّةٍ أُقِيمَتْ بِبِلَادِ الْمَغْرَبِ

السند 4 : تيهرت القديمة

ألاحظ السندات 1، 2، 3، 4، وأستنتج أن ...





فِي سَنَةِ 324 هـ الْمُوَافِقِ لِسَنَةِ 936 مِ أُسِّسَ زَيْرِي بِنُ مَنَّادٍ الصَّنَهَاجِي مَدِينَةَ أَشِيرِ (بُولَايَةِ الْمَدِينَةِ حَالِيَا)، وَجَعَلَهَا عَاصِمَةً لِدَوْلَتِهِ. بَلَغَتْ مَدِينَةُ أَشِيرِ خِلَالَ الْحُكْمِ الزَّيْرِيِّ دَرَجَةَ الذُّرُورَةِ فِي الْإِزْدِهَارِ الْعِلْمِيِّ وَالْاجْتِمَاعِيِّ. وَهِيَ الْيَوْمَ إِحْدَى أَهَمِّ الْمَوَاقِعِ الْأَثَرِيَّةِ الْوَطَنِيَّةِ.

السند 1: أَشِيرُ الْأَثَرِيَّةُ




بَنَى النَّاصِرُ الْحَمَّادِيُّ مَدِينَةَ بِجَايَةَ سَنَةِ 460 هـ الْمُوَافِقِ لِم 1068 م وَنَقَلَ إِلَيْهَا عَاصِمَةَ دَوْلَتِهِ مِنْ قَلْعَةِ بَنِي حَمَّادٍ وَسَمَّاها النَّاصِرِيَّةَ. وَأَنْشَأَ فِيهَا دَارًا لِصِنَاعَةِ السُّفُنِ وَالْمَرَاقِبِ الْحَرْبِيَّةِ، وَأَتَّسَعَ عُمْرَانُهَا وَقَصَدَهَا الْعُلَمَاءُ وَالتُّجَّارُ وَ الصُّنَّاعُ.

سند 2: مَدِينَةُ النَّاصِرِيَّةِ

إِسْدْرَاتِن مَدِينَةٌ أَثْرِيَّةٌ تَقَعُ قُرْبَ مَدِينَةِ وَرَقْلَةَ . بُنِيَتْ عَامَ 909 مِيلَادِيَّةٍ
مِنْ طَرَفِ الْإِبَاضِيِّينَ . نَشَأَتْ بِهَا حَضَارَةٌ عَظِيمَةٌ تَمَثَّلَتْ خُصُوصًا فِي بِنَاءِ
الْقُصُورِ وَالْمَنَازِلِ . آثَارُهَا الْيَوْمَ مَغْمُورَةٌ تَحْتَ الرَّمَالِ .

السند : 3



فِي سَنَةِ 398 هـ الْمُوَافِقِ لـ 1007 مِ اسَّسَ حَمَّادُ بْنُ بُلَيْكِينَ قَلْعَةَ
بَنِي حَمَّادٍ بولاية المسيلة الحالية . شُيِّدَتْ بِهَا عِمَارَةٌ مُتَمَيِّزَةٌ
مِثْلُ الْقُصُورِ كَقَصْرِ الْبَحْرِ وَقَصْرِ الْمَنَارِ .
وَقَدْ لَعِبَتْ الْقَلْعَةُ دَوْرًا عَسْكَرِيًّا وَحَضَارِيًّا وَسِيَاسِيًّا مُهِمًّا ، وَهِيَ
الْيَوْمَ مُصَنَّفَةٌ ضِمْنَ التُّرَاثِ الْوَطَنِيِّ .

السند : 4 قلعة بني حماد

ألاحظ السندات 1، 2، 3، 4 وأستنتج أن ...



أُدْمِجْ تَعْلَمَاتِي :

■ اِبْحَثْ عَن تَوَارِيخِ نَشْأَةِ الْمُدُنِ الْأَثْرِيَّةِ التَّالِيَةِ : إِسْدْرَاتِن - آشِير - قَلْعَةُ
بَنِي حَمَّادٍ - النَّاصِرِيَّةَ ، وَرَتِّبْهَا عَلَى سُلْمِ زَمَنِيٍّ .

أُدْمِجُ تَعْلَمَاتِي

النَّشَاطُ رَقْم 1 :

■ أَنْقِلِ الْجَدُولَ عَلَى كُرَاسِكَ ثُمَّ ضَعِ عِلَامَةَ X فِي الْخَانَةِ الْمُنَاسِبَةِ .

حَطَا	صَحِيح	الْحَدِيثُ
		مَسْجِدُ قُبَاءٍ أَوَّلُ مَسْجِدٍ بُنِيَ فِي الْإِسْلَامِ
		هَاجَرَ الرَّسُولُ (ص) إِلَى يَثْرِبَ سَنَةَ 622 م
		الزَّرَاعَةُ هِيَ أَهْمُ نَشَاطٍ مَارَسَتْهُ قُرَيْشٌ فِي الْجَاهِلِيَّةِ
		غَزْوَةُ بَدْرِ الْكُبْرَى (2 هِجْرِيَّة)
		أَوَّلُ مَسْجِدٍ فِي الْجَزَائِرِ بَنَاهُ عُقْبَةُ بْنُ نَافِعٍ

النَّشَاطُ رَقْم 2 :

■ أَنْقِلِ الْفِقْرَةَ عَلَى كُرَاسِكَ ثُمَّ اِمْلَأِ الْفَرَغَاتِ .

فِي سَنَةِ وَوُلِدَ الرَّسُولُ ﷺ ، وَبَسَبَ مَالِقِيَهُ مِنْ إِيْذَاءِ
أَمْرَ أَصْحَابِهِ بِالْهَجْرَةِ إِلَى سَنَةَ 615 م ، ثُمَّ هَاجَرَ إِلَى يَثْرِبَ
سَنَةَ وَمِنْهَا جَهَّزَ عِدَّةَ غَزَوَاتٍ أَشْهَرُهَا غَزْوَةُ سَنَةَ
2هـ وَفَتِحَ مَكَّةَ سَنَةَ وَفِي حَجَّةٍ نَزَلَتْ آخِرُ آيَةٍ
مِنَ الْقُرْآنِ الْكَرِيمِ (الْيَوْمَ أَكْمَلْتُ لَكُمْ دِينَكُمْ وَرَضِيْتُ لَكُمْ
الْإِسْلَامَ دِينًا) ، وَبَعْدَهَا بِثَلَاثَةِ أَشْهُرٍ تُوْفِيَ الرَّسُولُ ﷺ سَنَةَ
وَخَلَفَهُ

النَّشَاطُ رَقْم 3 :

■ تَرْتَّبْ عَنِ الْفَتْحِ الْإِسْلَامِيِّ لِشَمَالِ إِفْرِيقِيَا نَتَائِجَ كَثِيرَةً ، فَمَا هِيَ أَهْمُ نَتِيجَةٍ

فِي إِعْتِقَادِكَ ؟ وَلِمَذَا ؟

أَقْوَمُ تَعَلُّمَاتِي

النشاط رقم 1 :

■ أنقل الجدول على كُرَّاسِكَ واملأ فراغاته .

الخلفاء الراشدون	تاريخ الحكم
أبو بكر الصديق
.....	13 هـ
عثمان بن عفان
.....	35 هـ

النشاط رقم 2 :

■ أنقل الفقرة على كُرَّاسِكَ واملأ فراغاتها .

مَسْجِدُ أَوَّلُ مَسْجِدِ بُنِي بِلَادِ الْمَغْرِبِ الْإِسْلَامِيِّ ، يَقَعُ فِي مَدِينَةِ بَنَاهُ عَقْبَةُ بْنُ نَافِعٍ ، بَيْنَمَا مَسْجِدُ أَبِي الْمُهَاجِرِ دِينَارٍ فَيَقَعُ فِي مَدِينَةِ وَهُوَ أَوَّلُ مَسْجِدٍ فِي الْجَزَائِرِ ، وَثَانِي مَسْجِدٍ بَعْدَ بِالْمَغْرِبِ الْإِسْلَامِيِّ ، أَمَّا قَلْعَةُ بَنِي حَمَادٍ فَقَدْ بَنَاهَا وَتَقَعُ بِوِلَايَةِ
 — أَوَّلُ دَوْلَةٍ مُسْتَقَلَّةٍ بِبِلَادِ الْمَغْرِبِ الْأَوْسَطِ هِيَ
 أَسَّسَهَا

النشاط رقم 3 :

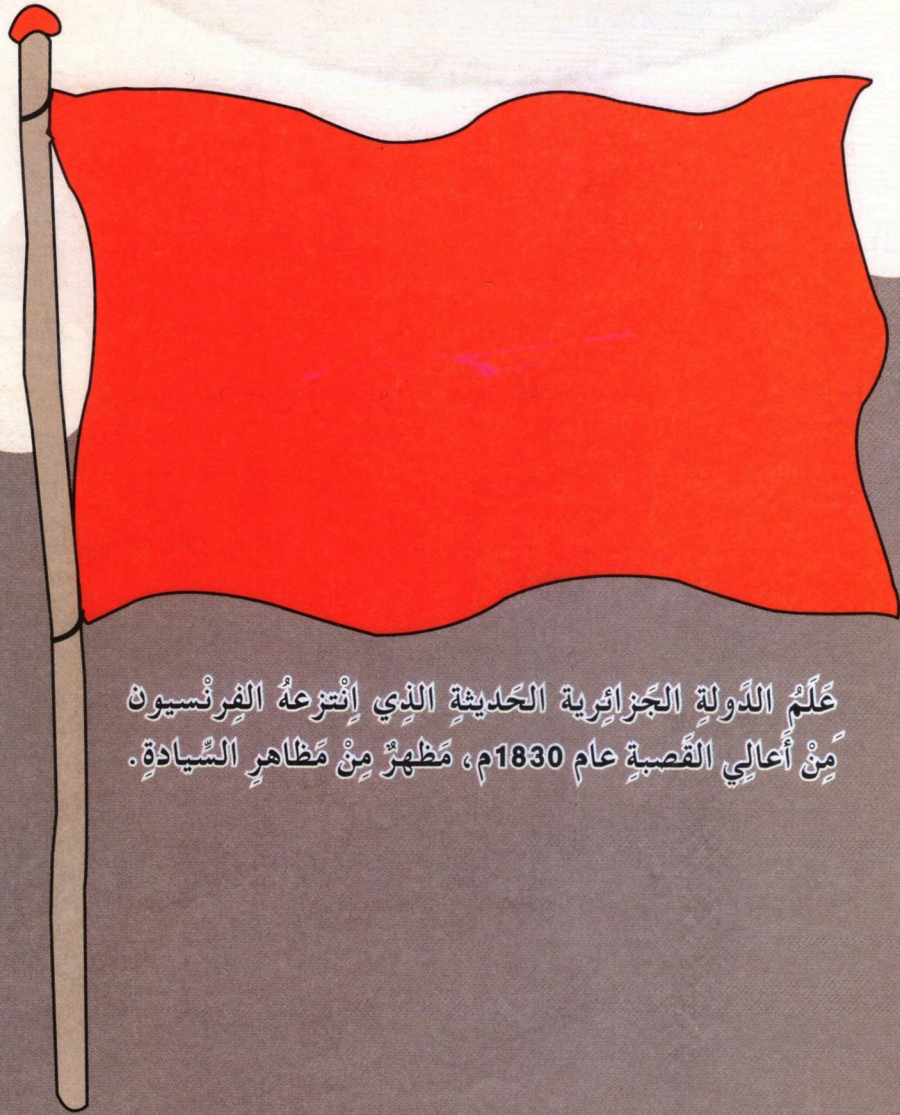
■ اِبْحَثْ عَنِ تَوَارِيخِ الْأَحْدَاثِ التَّالِيَةِ ثُمَّ مَثِّلْهَا عَلَى سُلَّمِ زَمَنِيٍّ .

ميلادُ الرَّسُولِ ﷺ - الهِجْرَةُ إِلَى يَثْرِبَ - سُقُوطُ سَبِيطَلَةَ - بِنَاءُ أَوَّلِ مَسْجِدٍ فِي الْجَزَائِرِ .

الميدان الثالث: التاريخ الوطني

من 1146 ميلادي إلى 1830 ميلادي

احتلت الدولة الجزائرية في العصر الحديث مكانة
متميزة محليا وعالميا. إلى ماذا يعود ذلك؟



علم الدولة الجزائرية الحديثة الذي انتزعه الفرنسيون
من أعالي القصبة عام 1830م، مظهر من مظاهر السيادة.

كَانَتْ الْجَزَائِرُ دَوْلَةً قَبْلَ الْاِحْتِلَالِ الْفِرْنَسِيِّ ذَاتَ سِيَادَةٍ .
وَشَعْبًا ذَا حَضَارَةٍ ، تُقِيمُ مَعَ دُولِ الْعَالَمِ عِلَاقَاتَ دِيپلُوْمَاسِيَّةٍ
وَتَرْبِطُهَا بِهَا اتِّفَاقِيَّاتٍ ، بِمَا فِي ذَلِكَ دَوْلَةُ الْوِلَايَاتِ الْمُتَّحِدَةِ
الْأَمْرِيكِيَّةِ وَبَرِيْطَانِيَا وَفِرْنَسَا نَفْسُهَا لَهَا دِينُهَا وَلُغَتُهَا
وَتَقَالِيْدُهَا وَتَعْلِيْمُهَا وَثَقَافَتُهَا الْخَاصَّةُ وَعَبَقْرِيَّتُهَا الْمُعْبَرَةُ
عَنْ ذَاتِهَا الْحَضَارِيَّةِ .

مِنْ خِطَابِ رَئِيْسِ الْجُمْهُورِيَّةِ الْجَزَائِرِيَّةِ عَبْدِ الْعَزِيْزِ بُوْتَفْلِيْقَةِ فِي مُلْتَقَى حَوْلِ الْاِسْتِعْمَارِ سَنَةَ 2006

الْأَسْطُوْلُ الْجَزَائِرِيُّ يَسْتَحِقُّ الْاِعْجَابَ ، لَمْ تَقْتَصِرْ خِدْمَتُهُ عَلَى
الدِّفَاعِ عَلَى الْجَزَائِرِ وَحِمَايَةِ شَوَاطِيْنِهَا فَقَطْ
بَلْ كَانَ يُدَافِعُ عَنِ السَّلْمِ وَ الْاَمْنِ الدَّوْلِيْنِ بِشَكْلِ عَامٍ ...
مُؤَرِّخٌ فِرْنَسِيٌّ كَانِظُ



مِنْ مَظَاهِرِ ثُوْرَةِ الدَّوْلَةِ الْجَزَائِرِيَّةِ



1- الأوضاع العامة للجزائر قبل مجيء العثمانيين

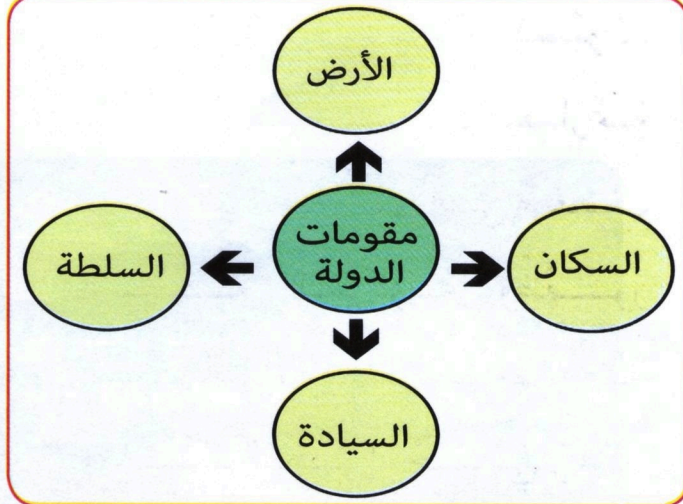
إذا كان قيام الدولة الجزائرية في العصر الحديث قد جاء في سياق وفي ظرف تاريخي خاص. فبماذا تميّزت الأوضاع العامة للجزائر في بداية القرن 16 م ؟

أ - الأوضاع الداخلية :

بعد تعرّفك على مفهوم الدولة من خلال السندين 1 و 2. بين مميزات الأوضاع العامة للجزائر في بداية القرن السادس عشر ميلادي بالاعتماد على بقية السندات.

الدولة هي كيان سياسي في إقليم جغرافي له حدود معلومة، تُمارس فيه السلطة عن طريق مؤسسات دائمة.

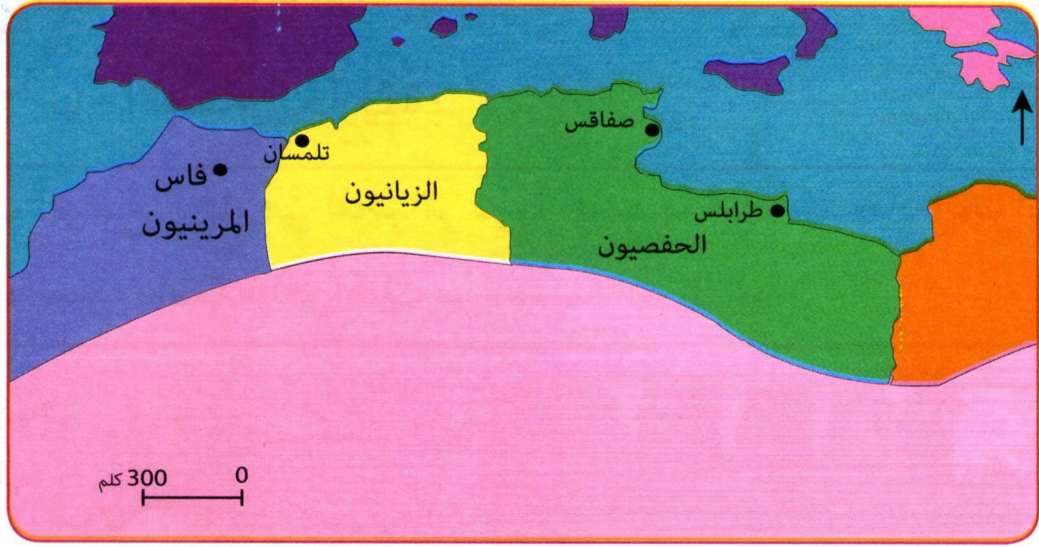
السند: 2



السند 1 : مقومات الدولة

نعمت بلاد المغرب في ظل حكم دولة الموحدين 1146-1269م، التي امتدت في بلاد المغرب وأجزاء من الأندلس، بجو من الاستقرار والازدهار الاقتصادي والأمن بفضل الوحدة.

السند: 3



السند 4: دُوِيَّاتُ الْمَغْرِبِ بَعْدَ سُقُوطِ الْمُوحِدِينَ

بَعْدَ سُقُوطِ دَوْلَةِ الْمُوحِدِينَ سَنَةَ 1269م انْقَسَمَتِ بِلَادُ الْمَغْرِبِ إِلَى ثَلَاثِ دُوِيَّاتٍ (الْحَفْصِيُّونَ - الزِّيَانِيُّونَ - الْمَرِينِيُّونَ) مُتَّصِرِعَةً فِيمَا بَيْنَهَا، مِمَّا أَدَّى إِلَى ضَعْفِ السُّلْطَةِ الْمَرْكَزِيَّةِ وَظُهُورِ الْحَرَكَاتِ الْإِسْتِقْلَالِيَّةِ مِنْ جِهَةِ وَأَشْتِدَادِ الْخَطَرِ الْأَجْنَبِيِّ وَعَدَمِ الْقُدْرَةِ عَلَى الدَّفَاعِ عَنِ أَرْضِيهَا مِنْ جِهَةِ أُخْرَى.

السند 6:

نَتِيجَةَ انْشِغَالِ أُمَرَاءِ بَنِي زِيَّانٍ بِالصَّرَاعِ عَلَى الْحُكْمِ، لَمْ تَعُدْ سُلْطَتُهُمْ عَلَى الْمَمْلَكَةِ تَتَجَاوَزُ تَلْمَسَانَ، بَيْنَمَا بَقِيَّةُ الْمَنَاطِقِ كَانَتْ مُسْتَقِلَّةً عَنِ سُلْطَتِهِمْ، كَمَا أُجْبِرُوا عَلَى عَقْدِ صُلْحٍ سَنَةَ 1512م اعْتَرَفُوا بِمُوجِبِهِ بِسِيَادَةِ الْإِسْبَانِ عَلَى بَعْضِ الْمَوَانِي.

السند 5:



أَلِاحِظِ السَّنَدَاتِ 1، 2، 3، 4، 5، 6 وَأَسْتَنْتِجْ أَنْ ...

أَقُومُ نَعْلَمَاتِي:

■ وَظَفُ السَّنَدِ رَقْمِ 6 فِي تَحْدِيدِ أَسْبَابِ ضَعْفِ بِلَادِ الْمَغْرِبِ؟

ب - الأوضاعُ الخارجيَّةُ :

لَعَبَ الوَضْعُ الخَارِجِيُّ لِلجَزَائِرِ دَوْرًا حَاسِمًا فِي اسْتِنجَادِ الجَزَائِرِ
بِالعُثْمَانِيِّينَ . اسْتَخْلَصَ ذَلِكَ مِنَ السَّنَدَاتِ التَّالِيَةِ :

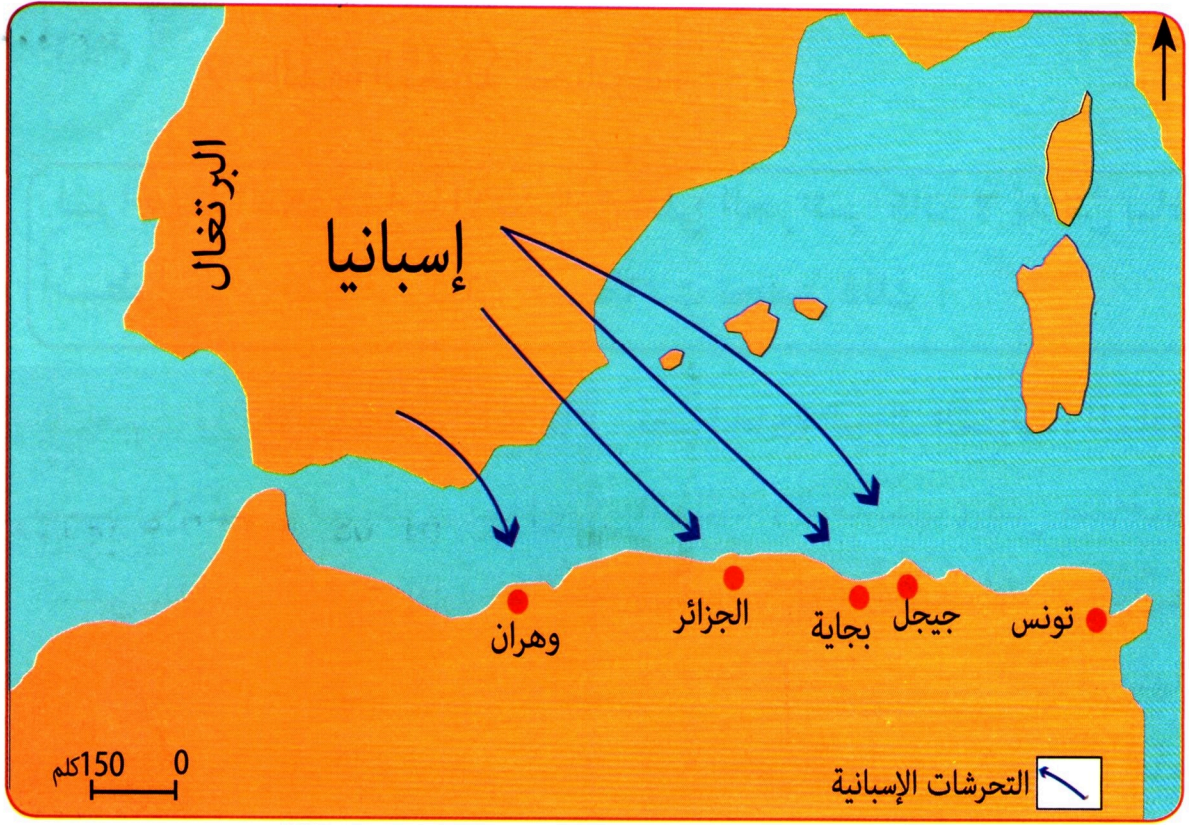


بَعْدَ أَكْثَرِ مِنْ 7 قُرُونِ حَكَمَ فِيهَا
المُسْلِمُونَ الأَنْدَلُسَ . سَقَطَتْ
مَمْلَكَةُ غَرْنَاطَةَ فِي 02 - 01 - 1492م
وَتَمَّ تَسْلِيمُ قَصْرِ الحَمْرَاءِ
إِلَى الإِسْبَانِ الَّذِي يُعَدُّ آخِرُ
مَعْقِلِ إِسْلَامِيٍّ بِالأَنْدَلُسِ .

السند 1 : قَصْرِ الحَمْرَاءِ بِالأَنْدَلُسِ

بِسُقُوطِ الأَنْدَلُسِ أَصْبَحَتِ الجَزَائِرُ كغَيْرِهَا مِنْ بُلْدَانِ المَغْرِبِ العَرَبِيِّ
هَدَفًا لِلتَّحْرُشَاتِ الإِسْبَانِيَّةِ ، فِي الفَتْرَةِ المُتَمَدَّةِ بَيْنَ 1505 - 1511م
اِحْتَلَّ الإِسْبَانُ المَرْسَى الكَبِيرَ ، وَهَرَانَ ، بِجَايَةِ وَ مُسْتغانمَ ، كَمَا هَدَّوْا
مَدِينَةَ الجَزَائِرِ انْطِلاقًا مِنْ حِصْنِ البَيْنِيُونِ .

السند 2 :



السند 3: التَّحْرُشَاتُ الإِسْبَانِيَّةُ عَلَى الْجَزَائِرِ

اسْتَعْلَ الإِسْبَانُ الضَّعْفَ الَّذِي آلَتْ إِلَيْهِ الأَوْضَاعُ العَامَّةُ فِي الْجَزَائِرِ، فَاحْتَلُّوا إِحْدَى الْجُزُرِ المُوَاكِفَةِ لِمَدِينَةِ الْجَزَائِرِ وَبَنَوْا بِهَا حِصْنَاً مَنِيعاً (البينيون) سَنَةَ 1510م، وَهُوَ الَّذِي أَصْبَحَ يُشَكِّلُ خَطراً عَلَى المَدِينَةِ إِلَى أَنْ تَمَّ تَحْطِيمُهُ فِي عَهْدِ خَيْرِ الدِّينِ سَنَةَ 1530 م.

السند 4:

ألاحظ السندات 1، 2، 3، 4 وأستنتج أن ...



أَقُومُ تَعَلُّمَاتِي:

■ بَيْنَ الظُّرُوفِ الخَارِجِيَّةِ لِلْجَزَائِرِ قَبْلَ الإِرْتِبَاطِ بِالْعُثْمَانِيِّينَ.

2 - القُوَّةُ البَحْرِيَّةُ الجَزَائِرِيَّةُ :

لِمُواجهَةِ التَّحَرُّشَاتِ الإِسْبَانِيَّةِ عَلَى الجَزَائِرِ كَانَ لَا بُدَّ مِنْ بِنَاءِ أُسْطُولٍ قَوِيٍّ لِصَدِّهَا. كَيْفَ اسْتَطَاعَتِ تَحْقِيقَ ذَلِكَ ؟

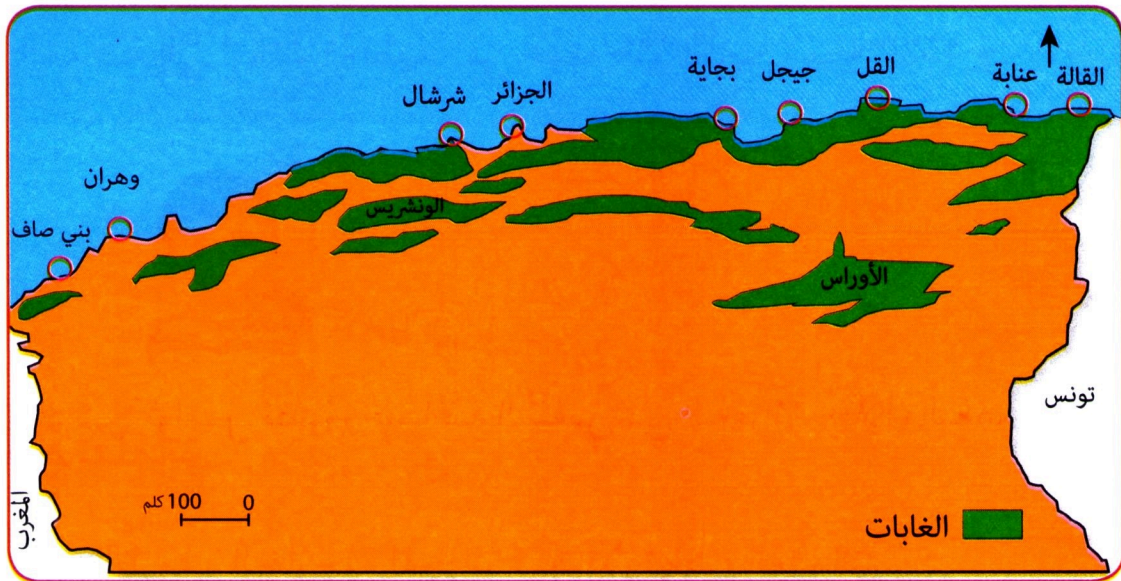
نَظَرًا لِحَاجَةِ الجَزَائِرِ المُتَزَايِدَةِ لِلْمَادَّةِ الأَوَّلِيَّةِ (الخَشَب) فِي صِنَاعَةِ السُّفُنِ وَتَقْوِيَةِ أُسْطُولِهَا البَحْرِيِّ، فَقَدْ نَصَّتِ الاتِّفَاقِيَّاتُ الَّتِي أُبْرِمَتْهَا مَعَ بَعْضِ الدُّوَلِ عَلَى تَحْصِيلِ جُزْءٍ مِنَ الإِتَاوَاتِ فِي شَكْلِ أَخْشَابٍ .

سَاهَمَتْ وَفْرَةُ الأَخْشَابِ فِي الجَزَائِرِ بِشَكْلِ أَسَاسِيٍّ فِي تَطْوِيرِ صِنَاعَةِ السُّفُنِ ، لِذَلِكَ أُنْشِئَتْ إِدَارَةٌ حَاصَّةٌ بِاسْتِغْلَالِ الغَابَاتِ فِي القُلِّ وَجِجَلِّ وَالْأورَاسِ، وَبِلَادِ القَبَائِلِ وَالوَنشَرِيْسِ .

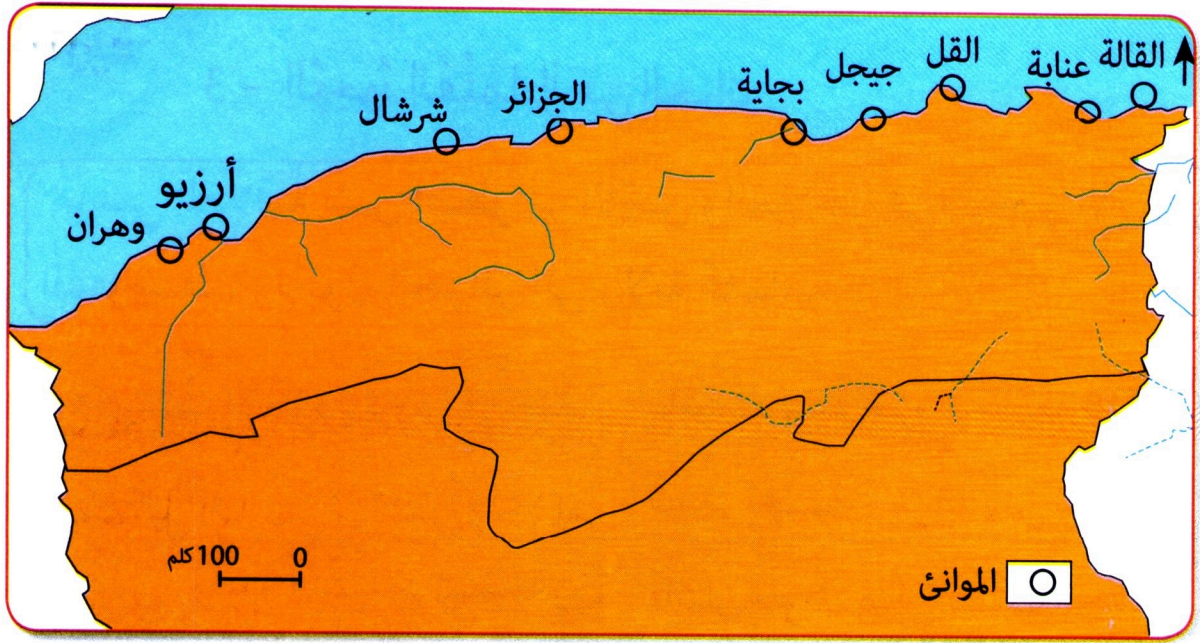
السند : 1

السند : 2

الإِتَاوَاتُ : هِيَ ضَرَائِبٌ تُدْفَعُ مِنْ قِبَلِ الدُّوَلِ الأَجْنَبِيَّةِ لِخَزِينَةِ الدُّوَلَةِ الجَزَائِرِيَّةِ .



السند 3 : خَريْطَةُ تَوَازِيْعِ الغَابَاتِ فِي الجَزَائِرِ



السند 4: خريطة الموانئ في الجزائر

تملك الجزائر شريطاً ساحلياً يزيد طوله عن 1200 كلم، يتميز بكثرة تعرّجاته وخلجانِه ماساهم في ظهور موانئٍ محميّةٍ طبيعيّاً، استغلّت لبناء ورشاتٍ لصناعةِ ورُسُو السفنِ مثل موانئِ شرشال وجيجل والجزائر وبجاية.

السند 5:

ألاحظ السندات 1، 2، 3، 4، 5 وأستنتج أن...



أقومُ تعلّمتني:

أذكرُ عواملَ تطوّرِ صناعةِ السفنِ في الجزائرِ خلالَ العصرِ الحديثِ.

ماهي العلاقة بين اضطراب الأمن والملاحية في البحر الأبيض المتوسط، وتحول الجزائر إلى ولاية عثمانية؟

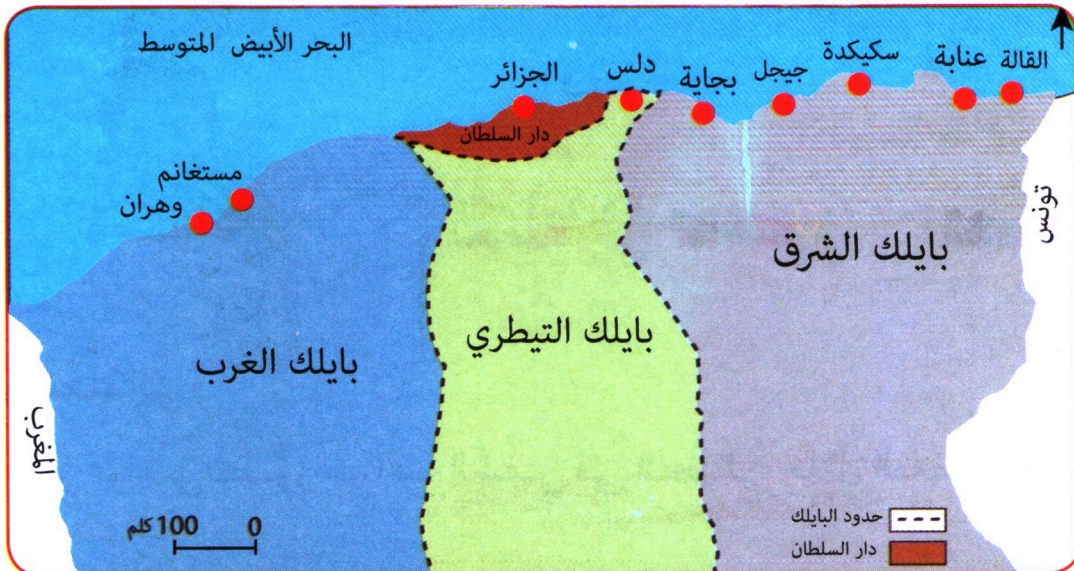
باستشهاد عروج سنة 1518م
شعر أخوه خير الدين بالخطر،
فأشار على الأهالي بطلب الحماية
من السلطان العثماني، ونظراً
للتشابه العقائدي بين الطرفين
لبي سكان مدينة الجزائر الطلب
فأصبحت الجزائر بذلك ولاية
عثمانية بإرادة سكانها.

السند: 2

ذاع صيت الإخوة بربروس في صد
القرصنة الأوروبيّة ونجدة مهاجري
الاندلس. ونتيجة اشتداد الهجمات
الإسبانية على الموانئ الجزائرية
استنجد بهم أهالي الجزائر.

السند: 1

البايلاك: تقسيم إداري للجزائر
خلال العهد العثماني.



المجال الجغرافي والتنظيم الإداري للدولة الجزائرية في النصف الثاني من القرن 16


السند: 3

بَعْدَمَا اسْتَقَرَّ الْأَمْرُ لِخَيْرِ الدِّينِ
بَاشَرَ فِي تَحْرِيرِ السَّوَاخِلِ
الْجَزَائِرِيَّةِ مِنْ قَبْضَةِ الْإِسْبَانِ
بدايةً من القل سنة 1521م،
عناية سنة 1522م ومدينة
الجزائر التي اتخذها عاصمةً
له بعد جيجل.

السند : 5

لَبَّى السُّلْطَانُ الْعُثْمَانِيُّ سَلِيمَ
الْأَوَّلَ طَلَبَ سُكَّانَ الْجَزَائِرِ
سَنَةَ 1518م، فَأَصْبَحَتْ
الْجَزَائِرُ إِيَالَةً (وَلَايَةً) عُثْمَانِيَّةً
وَعَيَّنَ عَلَى رَأْسِهَا خَيْرَ الدِّينِ
تَحْتَ اسْمِ (بِيلَرْبَايَ) أَيَّ أَمِيرِ
الْأُمَرَاءِ

السند : 4



السند 6 قصر الداي (مقر السُلْطَةِ العُليَا في طُور الترميم)



أَلْحِظْ السَّنَدَاتِ 1، 2، 3، 4، 5، 6 وَأَسْتَنْجِ أَنْ ...

أُدْمِجْ تَعْلَمَاتِي :

■ لِمَاذَا اسْتَنْجَدَتِ الْجَزَائِرُ بِالدَّوْلَةِ الْعُثْمَانِيَّةِ وَلَمْ تَسْتَنْجِدْ بِغَيْرِهَا مِنَ الدَّوْلِ؟



ثانياً: العلاقات الجزائرية مع الخارج

اتَّسَمَتِ عَلاَقَاتُ الْجَزَائِرِ الْخَارِجِيَّةِ بِالصَّدَاقَةِ وَالتَّعَاوُنِ تَارَةً وَبِالتَّوَتُّرِ وَالْعَدَاوَةِ تَارَةً أُخْرَى . وَضَّحَ ذَلِكَ .

1 - مَعَ الدَّوْلَةِ العُثْمَانِيَّةِ :

اسْتَمْرَ السَّنَدَاتِ التَّالِيَةِ لِتَوْضِيحِ طَبِيعَةِ الْعِلَاقَةِ الْجَزَائِرِيَّةِ - العُثْمَانِيَّةِ

وَأَزَرْنَا التُّرْكَ حَتَّى انْتَصَرْنَا
وَلَنْ يَخْفَرَ التُّرْكَ مَاضِي العُهُودِ
وَقُمْنَا نَسُوسَ الْبِلَادِ بَعْدَلِ
وَنُسُدِي الْجَمِيلِ، وَنَزَعِي الحُدُودِ
وَلَمْ نَكُنْ لِلتُّرْكَ بِالتَّابِعِينَ
وَإِنْ عَزَزُوا سَعَيْنَا بِالْجُهُودِ
وَنَحْنُ أَنَاسُ نَعُدُّ الْجَمِيلِ
وَنَزَعِي ذِمَامَ الصَّدِيقِ الْوُدُودِ
من الياذة الجزائر ﴿ مفدي زكريا ﴾

السند : 2

دَخَلَ العُثْمَانِيُّونَ إِلَى الْجَزَائِرِ بِطَلْبِ
مَنْ سُكَّانِهَا عَكْسَ بَقِيَّةِ الدَّوَلِ
العَرَبِيَّةِ الَّتِي دَخَلَتْهَا بِالْقُوَّةِ، وَهَذَا
مَاجَعَلَ الحُكْمِ العُثْمَانِيِّ لِلْجَزَائِرِ
يَتَمَيَّزُ بِالمُرُونَةِ، وَإِعْطَاءِ وَالِي
الْجَزَائِرِ شِبْهَ اسْتِقْلَالِيَّةِ فِي إِدَارَةِ
شُؤْنِهَا.

السند : 1

الدَّنُوشُ : هَدِيَّةٌ تَدْفَعُهَا
خَزِينَةُ الدَّوْلَةِ الْجَزَائِرِيَّةِ
إِلَى السُّلْطَانِ العُثْمَانِيِّ .

مِنْ مَظَاهِرِ ارْتِبَاطِ أَيَالَةِ الْجَزَائِرِ
بِالسُّلْطَةِ المَرْكَزِيَّةِ فِي إِسْطَنْبُولِ،
حُصُولُ خَزِينَةِ الدَّوْلَةِ العُثْمَانِيَّةِ
عَلَى عَائِدَاتِ مَالِيَّةٍ مِنْ الخَزِينَةِ
الْجَزَائِرِيَّةِ، وَتَقْدِيمِ الهَدَايَا
المُتَمَثِّلَةِ خُصُوصًا فِي الدَّنُوشِ .

السند : 3

رَغْمَ تَمَّتْ الْجَزَائِرُ بِشِبْهِ اسْتِقْلَالٍ خِلَالَ الْعَهْدِ الْعُثْمَانِيِّ، فَإِنَّ إِيَالَةَ
الْجَزَائِرِ وَقَفَتْ إِلَى جَانِبِ الدَّوْلَةِ الْعُثْمَانِيَّةِ فِي كُلِّ الْأَزْمَاتِ الَّتِي مَرَّتْ
بِهَا، فِي حُرُوبِهَا مَعَ الدُّوَلِ الْأُورُوبِيَّةِ، حَيْثُ شَارَكَ الْأُسْطُولُ الْجَزَائِرِيُّ
فِي كُلِّ مَنْ مَعْرَكَتَيْ لِيْبَانْتِ 1571 م وَنَفَارِينَ 1827 م

السند : 4



صُورَةٌ تَمثِيلِيَّةٌ لِمَعْرَكَةِ لِيْبَانْتِ غَرْبِ الْيُونَانِ فِي أَكْتُوبَرِ 1571 م، بَيْنَ التَّحَالِفِ الْأُورُوبِيِّ
المُقَدَّسِ مِنْ جِهَةٍ، وَالدَّوْلَةِ الْعُثْمَانِيَّةِ بِمُؤَاوَزَةٍ مِنَ الْأُسْطُولِ الْجَزَائِرِيِّ مِنْ جِهَةٍ أُخْرَى .

السند : 5

أَلْحِظْ السَّنَدَاتِ 1، 2، 3، 4، 5 وَأَسْتَنْتِجْ أَنْ ...

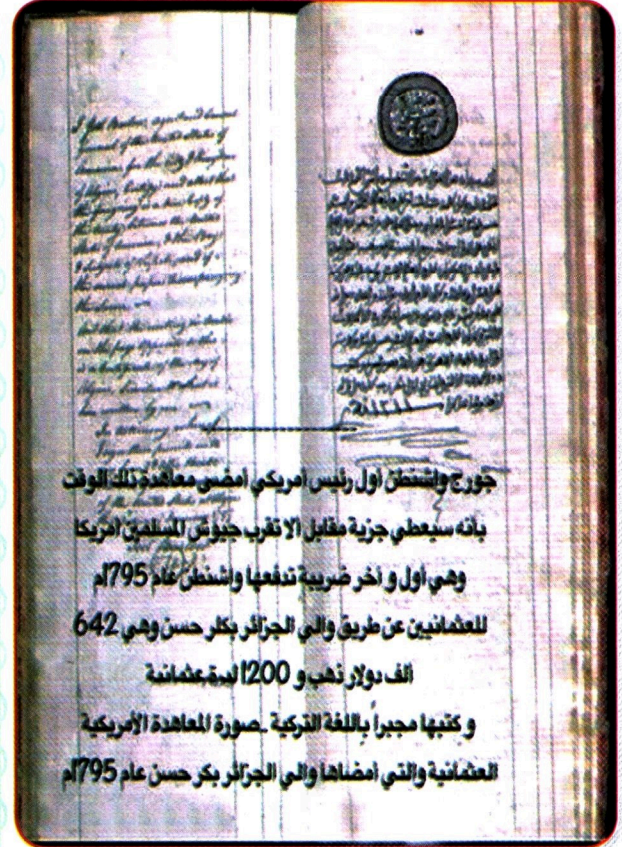


أَقُومُ تَعَلُّمَاتِي :

العلاقات الجزائرية - العثمانية كانت ودية ، أذكر موقفا من المواقف التي
تجلى فيها ذلك .

تَتَضَمَّنُ السَّنَدَاتُ التَّالِيَةُ بَعْضَ مَظَاهِرِ عَلاَقَاتِ الجَزَائِرِ مَعَ أوروْبَا والوِلايَاتِ المُتَّحِدَةِ الأَمْرِيكِيَّةِ . وَضَّحَ ذَلِكَ .

بِاسْتِثْنَاءِ إِسْبَانِيَا، الَّتِي تَمَيَّزَتْ عَلاَقَاتُهَا مَعَ الجَزَائِرِ بِالتَّوَتُّرِ نَتِيجَةَ اسْتِمْرَارِ إِحْتِلَالِهَا لِلْمَرْسَى الكَبِيرِ إِلَى غَايَةِ 1792م، فَإِنَّ بَقِيَّةَ الدُّوَلِ الأوروْبِيَّةِ كَالسُّوَيْدِ وَالدَّانِمَارِكِ وَهُولَنْدَا، كَانَتْ تَسْعَى لِإِقَامَةِ عَلاَقَاتٍ حَسَنَةٍ مَعَ الجَزَائِرِ، وَتَدْفَعُ لِخَزِينَتِهَا إِتَاوَاتٍ مُقَابِلَ حِمَايَةِ الأُسْطُولِ الجَزَائِرِيِّ لِسُفْنِهَا مِنْ القَرَصَنَةِ عِنْدَ عُبُورِهَا البَحْرَ الأَبْيَضَ المُتَوَسِّطَ .



جورج واشنطن أول رئيس أمريكي امضى معاهدة ذلك الوقت
بأنه سيعطي جزية مقابل الإقرب جيوش المسلمين أمريكا
وهي أول وأخر ضريبة تدفعها واشنطن عام 1795م
للعشائين عن طريق والي الجزائر بكر حسن وهي 642
الف دولار ذهب و 1200 لدية عشائنة
وكتبها مجبرا باللغة التركية . صورة المعاهدة الأمريكية
العشائنية والتي امضاها والي الجزائر بكر حسن عام 1795م

المُعَاهِدَةُ الجَزَائِرِيَّةُ الأَمْرِيكِيَّةُ 1795

السند : 2


السند : 1

تَمَيَّزَتْ العَلاَقَاتُ الجَزَائِرِيَّةُ الفَرَنْسِيَّةُ بِالمُودَّةِ تَارَةً وَبِالعَدَاوَةِ تَارَةً أُخْرَى، فَرَعِمَ تَزْوِيدِ الجَزَائِرِ لِفَرَنْسَا بِشُحْنَاتٍ مِنْ الحُبُوبِ لِتَجَاوُزِ المَجَاعَةِ الَّتِي وَقَعَتْ فِيهَا . فَإِنَّ هَذِهِ الحُكُومَةَ تَنَكَّرَتْ لِذَلِكَ وَبَدَأَتْ تُحْطِّطُ لِإِحْتِلَالِ الجَزَائِرِ .

السند : 3

مَنَحَ وُلاةُ الجَزائِرِ تَسَهيلاتٍ سُمِّيتْ بِالِامْتِيازاتِ لِبَعْضِ الدُّولِ الأورُوبِيَّةِ، تَمَثَّلَتْ فِي صَيْدِ المُرْجَانِ وإِقامَةِ الحُصُونِ فِي بَعْضِ المَناطِقِ السَّاحِلِيَّةِ وَحُرِّيَّةِ المِلاحةِ فِي المِياهِ الجَزائِرِيَّةِ، وَالغايَةُ مِنْها إِما حُصولُ الخَزِينَةِ عَلى أُمُوالٍ أَوْ كَسْبُ وُدِّ دَوْلَةِ أورُوبِيَّةٍ ما، تَفادِيًا لِقيامِ حَلْفٍ أورُوبِيِّ ضِدَّ الجَزائِرِ، تَكُونُ تِلْكَ الدَّوْلَةُ طَرَفًا فِيهِ.

السند : 4



حِصْنُ القالَةِ: أُنجِزَ سَنَةَ 1561م، خَاصًّا بِصَيْدِ المُرْجَانِ وَتَصْديرِ القَمَحِ وَهُوَ يَدْخُلُ فِي إِطارِ الامْتِيازاتِ الإِقتِصادِيَّةِ الَّتِي مَنَحَتْها الجَزائِرُ لِفَرَنْسا.

السند 5 : حِصْنُ القالَةِ

ألاحظ السندات 1، 2، 3، 4، 5 وأستنتج أن ...



أدمجُ تَعَلُّماتي:

■ كَيْفَ تُفسِّرُ سَعْيَ كَثِيرٍ مِنَ الدُّولِ الأورُوبِيَّةِ إِلى إِقامَةِ عِلاقاتٍ مَعَ الجَزائِرِ؟

ثالثاً : رُمُوزُ السِّيَادَةِ

لِكُلِّ دَوْلَةٍ رُمُوزٌ تُمَيِّزُهَا عَنْ غَيْرِهَا، اسْتَعِنَ بِالسَّنَدَاتِ وَأَذْكَرَ رُمُوزَ الدَّوَلَةِ الْجَزَائِرِيَّةِ فِي الْعَصْرِ الْحَدِيثِ .


1 - الأُسْطُولُ الْبَحْرِيُّ رَمَزُ السِّيَادَةِ وَ الْهَيْبَةِ :

سَاهَمَ الأُسْطُولُ الْجَزَائِرِيُّ فِي الْحِفَاطِ عَلَى السِّيَادَةِ وَالْأَمْنِ فِي حَوْضِ الْبَحْرِ الْأَبْيَضِ الْمُتَوَسِّطِ . بَيْنَ ذَلِكَ .

أَمَامَ اشْتِدَادِ الْقَرَصَنَةِ الأُورُوبِيَّةِ فِي الْبَحْرِ الْأَبْيَضِ الْمُتَوَسِّطِ وَاعْتِرَاضِ الْقَرَاصِنَةِ لِطُرُقِ السُّفُنِ التِّجَارِيَّةِ، وَالإِسْتِيلاءِ عَلَيْهَا وَأَسْرِ رِجَالِهَا لِبَيْعِهِمْ فِي أسْوَاقِ الْعَبِيدِ أَوْ اسْتِعْمَالِهِمْ كَمُجَدِّفِينَ . ظَهَرَ الأُسْطُولُ الْجَزَائِرِيُّ عَلَى مَسْرَحِ الأَحْدَاثِ كَقُوَّةٍ أَمِنٍ مُضَادَّةٍ .

السند : 1

الأُسْطُولُ الْجَزَائِرِيُّ حَامِي حُدُودِ الدَّوَلَةِ وَمُحَرِّرُ الْمَوَانِي الْمُحْتَلَّةِ وَمُسَاهِمٌ فِي إِغْنَاءِ الْخَزِينَةِ




السند 2 : لَوْحَةٌ لِالأُسْطُولِ الْجَزَائِرِيِّ أَمَامَ مِينَاءِ مَدِينَةِ الْجَزَائِرِ

نَتِيجَةَ عَجْزِ الدُّوَلِ الأُورُوبِيَّةِ عَن حِمَايَةِ سُفْنِهَا وَتِجَارَتِهَا
مِن حَرَكَةِ القَرُصَنَةِ فِي البَحْرِ الأَبْيَضِ المُتَوَسِّطِ. طَلَبَتْ
مِنَ الجَزَائِرِ تَوَلِّيَ أُسْطُولِهَا مَهْمَةَ الحِمَايَةِ مُقَابِلَ دَفْعِ إِتَاوَاتِ
لِخزينة الدولة.

السند : 3

القَرُصَنَةُ : اَعْتِدَاءَاتِ بَحْرِيَّةِ قَامَ بِهَا الأُورُوبِيُّونَ ضِدَّ السُّفُنِ
الَّتِي تَعْبُرُ البَحْرَ الأَبْيَضَ المُتَوَسِّطِ خِلالَ العَصْرِ الحَدِيثِ.



أُمير البحار

الرئيس حميدو 1773 - 1815 م

تَصَدَّى الأُسْطُولُ لِكَثِيرٍ
مِنَ الحَمَلَاتِ الأُورُوبِيَّةِ عَلى
السَّوَاحِلِ الجَزَائِرِيَّةِ، كَحَمَلَةِ
بَرِيطَانِيَا عَلى العَاصِمَةِ سَنَةَ
1680 م. كَمَا سَاهَمَ فِي نَقْلِ
وَتَأْمِينِ مُهَاجِرِي الأَنْدَلُسِ
إِلَى السَّوَاحِلِ المِغَارِبِيَّةِ.

السند : 4

السند 5 : أَحَدُ قَادَةِ البَحْرِيَّةِ الجَزَائِرِيَّةِ

2، 3، 4، 5 وأستنتج أن ...

الاحظ السندات 1،



أَقُومُ تَعَلُّمَاتِي؛

لَعِبَ الأُسْطُولُ الجَزَائِرِيُّ فِي العَصْرِ الحَدِيثِ عِدَّةَ أَدْوَارٍ ، اشرح دَوْرَهُ

الاقتصادي؟

إِسْتَخْرَجَ مِنَ السَّنَدَاتِ التَّالِيَةِ مَظَاهِرَ سِيَادَةِ الدَّوْلَةِ الْجَزَائِرِيَّةِ الْحَدِيثَةِ.

صَكُّ العُمَلَةِ مِنْ أَهَمِّ مَظَاهِرِ السِّيَادَةِ لِلدَّوْلَةِ الْجَزَائِرِيَّةِ الْحَدِيثَةِ، فَقَدْ أُنْشِئَتْ دَارٌ لِصَكِّ النُّقُودِ بِالْقَصْبَةِ قُرْبَ قَصْرِ الدَّاي، تَتَوَعَّتْ إِلَى: • ذَهَبِيَّةِ (السُّلْطَانِي...) • فِضِّيَّةِ (الدُّور...) • نُحَاسِيَّةِ (رِيَال)



السند: 1

السند 1 : قِطْعَةٌ لِعُمَلَةٍ جَزَائِرِيَّةٍ



السند 2 : عَلَمُ الدَّوْلَةِ الْجَزَائِرِيَّةِ الْحَدِيثَةِ الَّذِي أُنْتَزَعَهُ الْفَرَنْسِيُّونَ مِنْ أَعَالِي الْقَصْبَةِ سَنَةَ 1830 م

صُورَةٌ زَيْتِيَّةٌ لِمَعْرَكَةِ نَفَارِينِ (مَعْرَبُ الثُّونَانِ) سَنَةِ 1827م، الَّتِي شَارَكَ فِيهَا الْأُسْطُولُ الْجَزَائِرِيُّ إِلَى جَانِبِ الدُّوْلَةِ العُثْمَانِيَّةِ حِثْ القُوَى الأوروْبِيَّةِ .



السند 3: صُورَةٌ زَيْتِيَّةٌ لِلْأُسْطُولِ الْجَزَائِرِيِّ فِي مَعْرَكَةِ نَفَارِينِ 1827م

تَزَعَمَتْ فَرَنْسَا حَمَلَةً أوروْبِيَّةً مِنْ أَجْلِ القَضَاءِ عَلَى الْأُسْطُولِ الْجَزَائِرِيِّ، فَعَقَدَتْ لِهَذَا الغَرَضِ عِدَّةَ مُؤْتَمَرَاتٍ أوروْبِيَّةٍ أَهْمُهَا مُؤْتَمَرُ فَيِنَّا سَنَةَ 1515م، وَمُؤْتَمَرُ إِكْسٍ لِأَشَابِيلِ عَامِ 1818م. حَيْثُ وَافَقَتْ 30 دَوْلَةً أوروْبِيَّةً عَلَى وَضْعِ حَدٍّ لِهَذَا الْأُسْطُولِ .

السند 4:



السند 5: حَادِثَةُ المِرْوَحَةِ (صُورَةٌ تَمَثِيلِيَّةٌ)



أَلْحِظِ السَّنَدَاتِ 1، 2، 3، 4، 5 وَأَسْتَنْتِجْ أَنْ ...

أُدْمِجْ تَعَلُّمَاتِي :

■ تَمَتَّعَتِ الْجَزَائِرُ خِلَالَ العَهْدِ العُثْمَانِيِّ بِمَجْمُوعَةٍ مِنَ المَظَاهِرِ تُبَيِّنُ سِيَادَتَهَا وَاسْتِقْلَالَهَا. اشرح رمزا من رموز هذه السيادة.

1- كيف تُفسرُ اهتمامَ الجزائرِ الحديثةِ بتطويرِ الأسطولِ؟



النشاط رقم 2 :

■ أنقل الفقرة على كراسك وأملاً فراغاتِها :
نتيجة ظروفٍ خارجيّةٍ عرّفها العالمُ الإسلاميُّ مثلَ سنة 1492م،
وظروفٍ داخليةٍ عرّفتها الجزائرُ تمثّلت في، أصبحت السواحلُ
الجزائريّةُ عرضةً لتحرّشاتِ الدُولِ الأوروبيّةِ، وهو ما دفعها إلى طلبِ دعمٍ

النشاط رقم 3 :

■ اربط التواريخ بما يناسبها من أحداث :

- | | |
|---------------------------|----------|
| ● احتلال الجزائر | ● 1518 م |
| ● سقوط غرناطة | ● 1492 م |
| ● الجزائرُ أيالةٌ عثمانية | ● 1827 م |
| ● معركة نفارين | ● 1830 م |

أَقُومُ تَعَلُّمَاتِي

النشاط رقم 1 :
■ لاحظ واستنتج



الحملة الفرنسية على الجزائر في 1830م



تحطم الأسطول الجزائري في معركة
نفاين 1827م

النشاط رقم 2 :

■ اذكر الأسباب التي أدت بالدول الواردة في الجدول المالي إلى دفع إتاوات
للخزينة الجزائرية في العصر الحديث.

الدولة	مبلغ الإتاوات
نابولي و الدانمارك	24000 دولارا
الولايات المتحدة الأمريكية	21500 دولارا
فرنسا	200000 فرنكا
بريطانيا	267000 فرنكا
البرتغال	4200 دولارا
السويد	24000 دولارا

أَكْتَشِفْ كِتَابِي

صورة تعبر عن المركبة 3



عنوان الميدان

الوضعية المشكلة الأم

عنوان الوضعية

وضعية مشكلة جزئية

صورة تعبر عن المركبة 1



صورة تعبر عن المركبة 2

سند في شكل صورة

سند في شكل نص كتابي

أدمج تعلماتي

أدمج تعلماتي

الإستنتاج

نشاط رقم: 1

نشاط رقم: 1

أقوم تعلماتي



نشاط رقم: 2

نشاط رقم: 3

نشاط رقم: 2

نشاط رقم: 3

الفريضة العامة لكتاب الجغرافيا

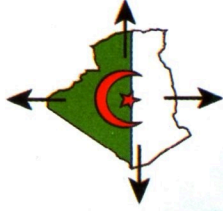
الإنسان هو

الذرع الحصين للبيئة

و الأداة الدائمة للتنمية



الميدان الأول: بفاهيم المادة



إذا كانت الجزائر هي أكبر دولة إقليمياً مساحةً وذات حدودٍ متعددةٍ ومتنوعةٍ، فما هي الخصائص التي اكتسبتها من هذه المميزات؟



الجزائر في العالم



الإنتماء الإفريقي




وهران 2021

ألعاب البحر الأبيض المتوسط
الإنتماء المتوسطي

أولاً : تَوْظِيفُ الخَرِيطَةِ
لِلتَعَرِّفِ عَلَى مَوْقِعِ الجَزَائِرِ

1 - شَكْلُ الأَرْضِ :

الأَرْضُ هِيَ أَحَدُ كَوَاكِبِ المَجْمُوعَةِ الشَّمْسِيَّةِ، وَتَدُورُ مَعَهَا فِي مَدَارٍ مُحَدَّدٍ، مِمَّا أَثَّرَ فِي شَكْلِهَا وَفِي أَبْعَادِهَا. وَضُحَّ ذَلِكَ.



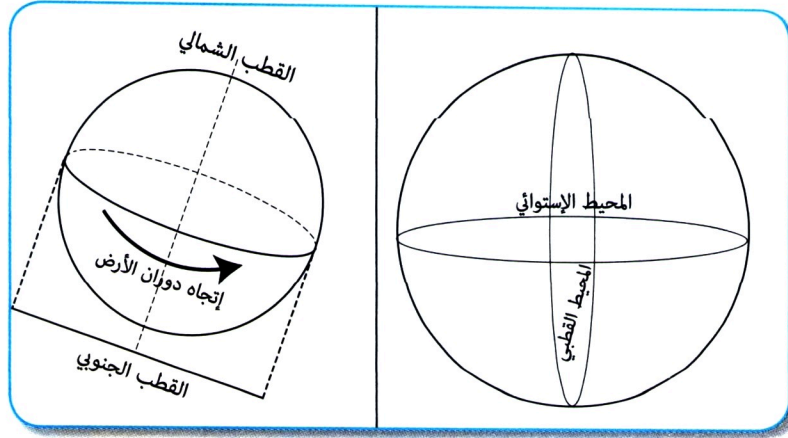
السند 1 : دَوْرَةُ الأَرْضِ السَّنَوِيَّةِ



السند 2 : دَوْرَةُ الأَرْضِ اليَوْمِيَّةِ

مِسَاحَةُ الْأَرْضِ 510 مِليُونِ كَلِمَةٍ 2، وَتَشْمَلُ الْمَاءَ وَالْيَابِسَةَ مَعًا.

السند: 3



السند 4 : شَكْلُ وَأَبْعَادُ الْأَرْضِ

خَطُّ غَرِينِيْتِش : خَطٌّ وَهَمِيٌّ يَتَوَسَّطُ الْكُرَّةَ الْأَرْضِيَّةَ عَمُودِيًّا، وَيُقَسِّمُهَا إِلَى قِسْمَيْنِ شَرْقِيٍّ وَغَرْبِيٍّ، وَيَمُرُّ بِالْجَزَائِرِ (قُرْبَ مَدِينَةِ مَسْتَعَانِم).
الدَّائِرَةُ الْإِسْتَوَائِيَّةُ : دَائِرَةٌ وَهَمِيَّةٌ تَتَوَسَّطُ الْكُرَّةَ الْأَرْضِيَّةَ أُفُقِيًّا وَتُقَسِّمُهَا إِلَى قِسْمَيْنِ شَمَالِيٍّ وَجَنُوبِيٍّ.

السند: 5

أَلْحِظِ السَّنَدَاتِ 1، 2، 3، 4، 5 وَأَسْتَنْتِجْ أَنْ ...

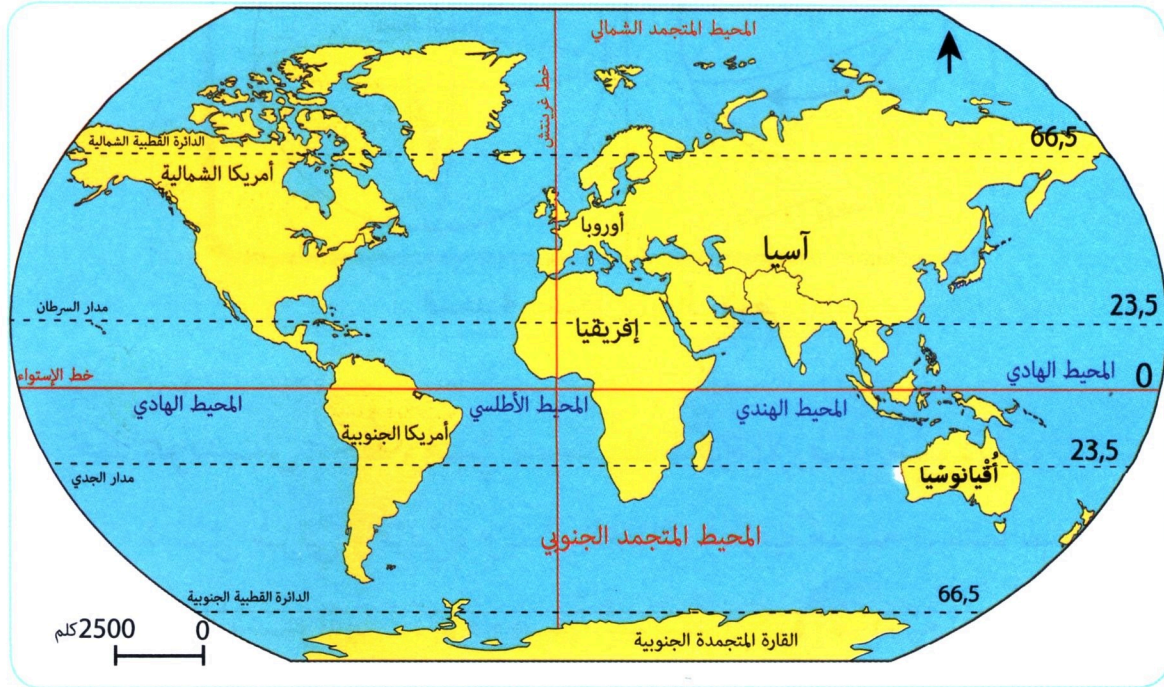


أَقُومُ تَعَلُّمَاتِي :

- ماهو الفرقُ بين دائرة الاستواءِ وخط غرينيتش ؟
- ماذا نقصدُ بحركتي الأرض ؟

2 - الخَريطةُ :

الخَريطةُ أداةٌ جُغرافيةٌ لا يَسْتَطِيعُ الجُغرافيُّ ولا السَّائحُ ولا العَسْكَريُّ ... أنْ يَسْتَغْنِي عنها. تُرى فيمَ تَكُنُ أهْمِيَّةُ هَذِهِ الوَسِيلَةِ؟ وَكَيْفَ يُمَكِّنُ اسْتِغْلَالَهَا؟

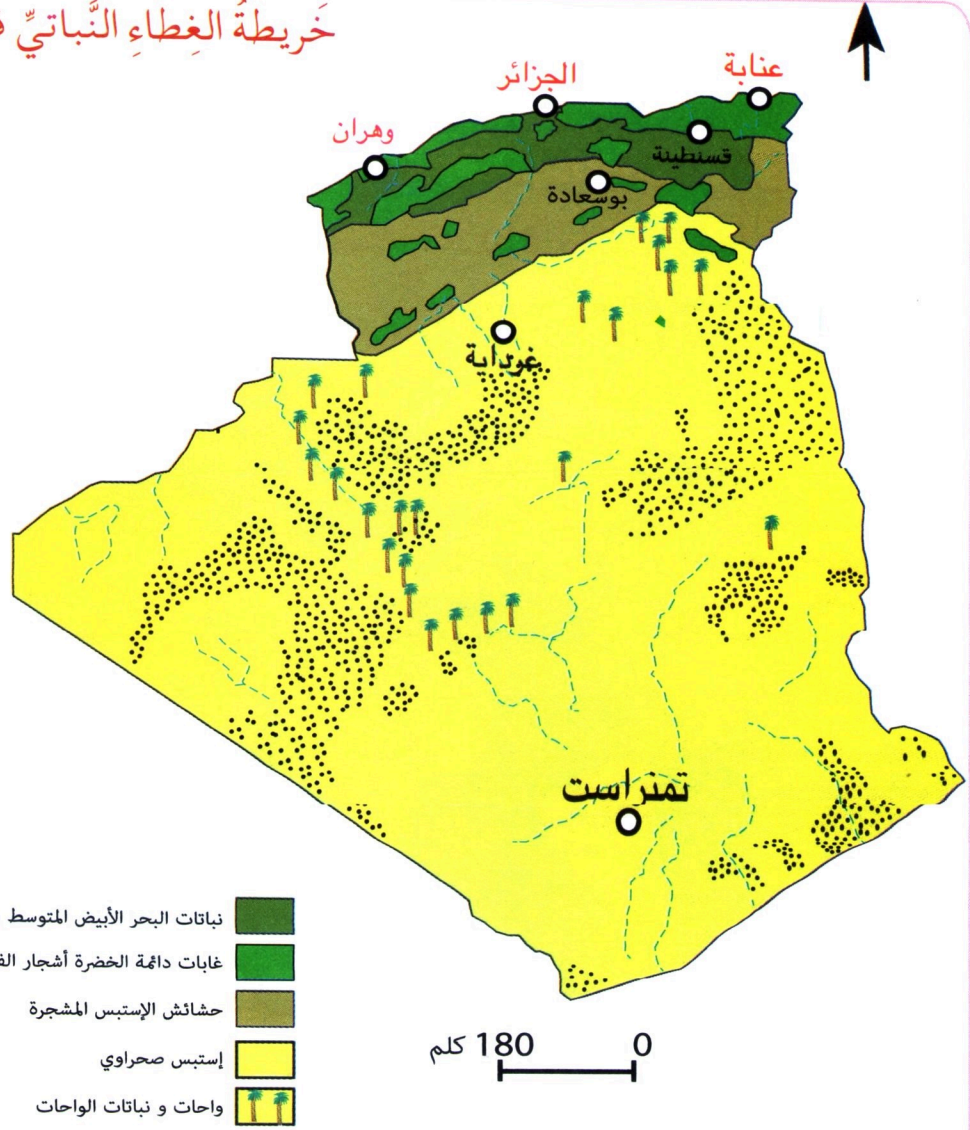


السند 1 : خَريطةُ العالَمِ



السند 2 : الكُرةُ الأَرْضِيَّةُ

خريطة الغطاء النباتي في الجزائر



سند : 3

يَتِمَكَّنُ مُسْتَعْمِلُ الخَرِيْطَةِ مِنْ قِرَاءَتِهَا
بِالرُّجُوعِ إِلَى مُكَوَّنَاتِهَا وَهِيَ :

- العُنْوَانُ .
- المِفْتَاحُ .
- المِقْيَاسُ .
- الإِتِّجَاهُ .

سند : 4



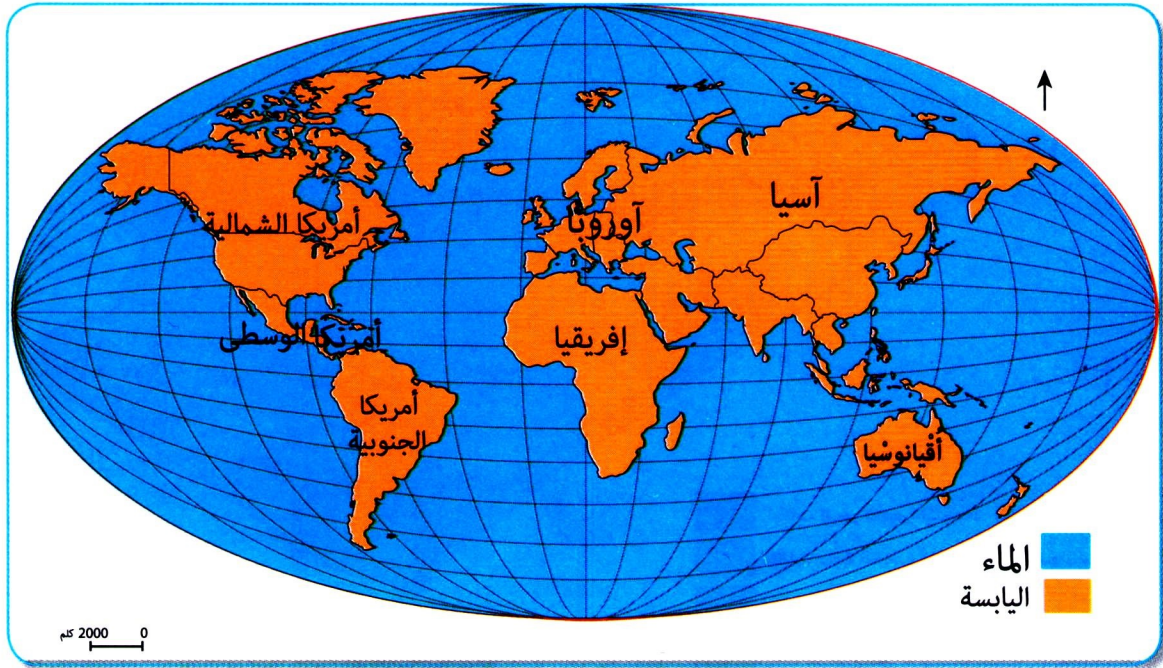
ألاحظ السندات 1، 2، 3، 4 وأستنتج أن ...

أُقَوِّمُ تَعَلُّمَاتِي :

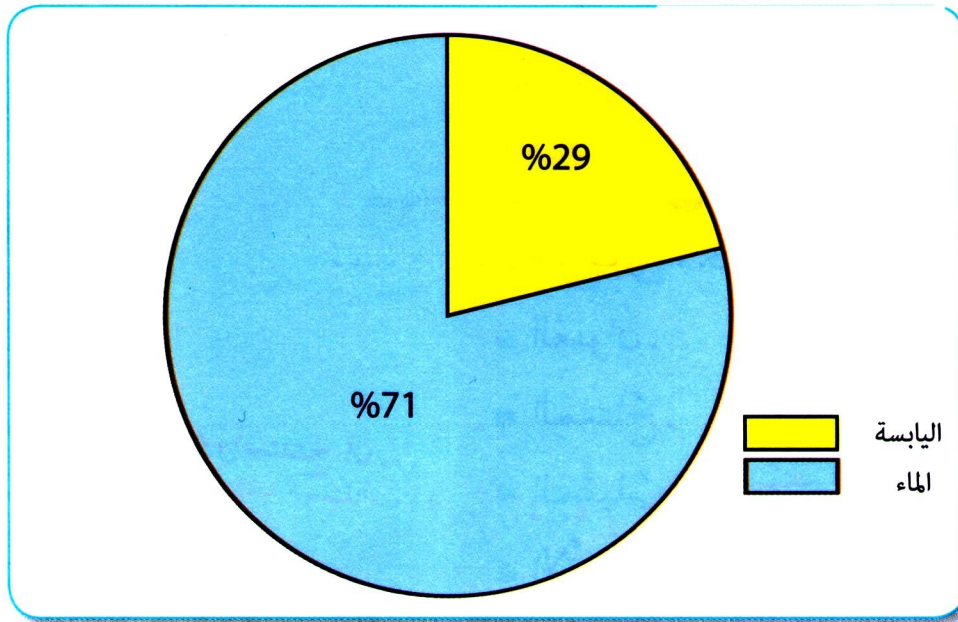
■ كَيْفَ يُمَكِّنُكَ قِرَاءَةُ الخَرِيْطَةِ ؟

3 - تَوَازُعُ الْمَاءِ وَالْيَابِسَةِ عَلَى سَطْحِ الْكُرَةِ الْأَرْضِيَّةِ :

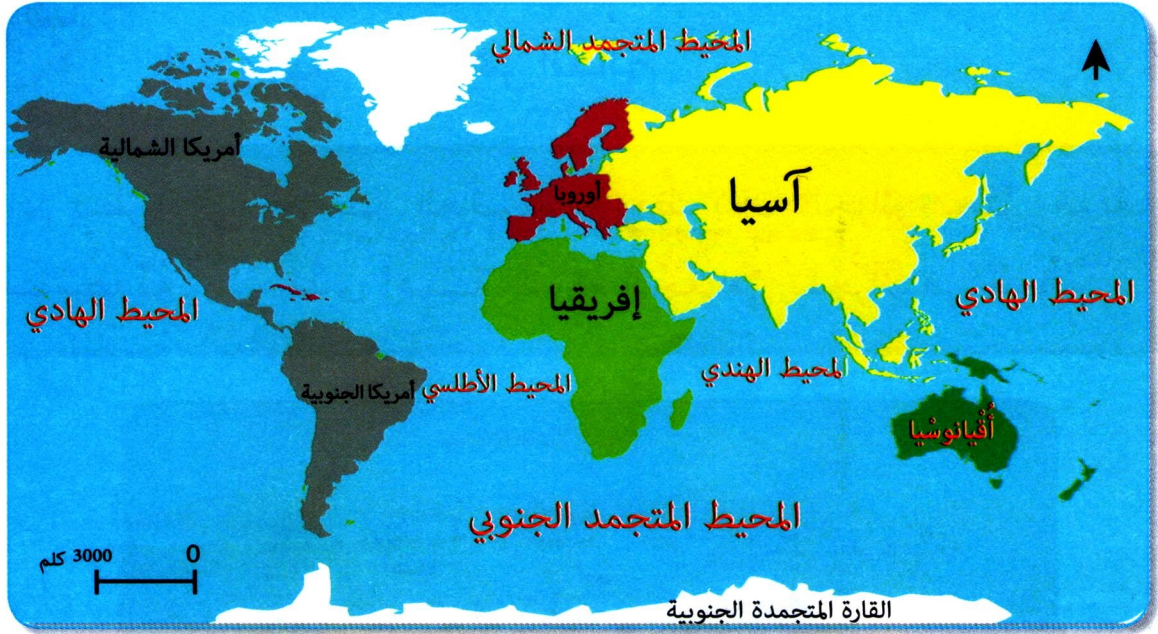
تَتَوَزَّعُ مِسَاحَةُ الْكُرَةِ الْأَرْضِيَّةِ الْمُقَدَّرَةَ بِـ 510 مَلْيُونِ كَلِمٍ² بِنِسْبٍ مُتَفَاوِتَةٍ بَيْنَ الْيَابِسَةِ وَالْمَاءِ. وَضَّحَ ذَلِكَ.



السند 1: تَوَازُعُ الْمَاءِ وَالْيَابِسَةِ



السند 2: نِسْبَةُ تَوَازُعِ الْمَاءِ وَالْيَابِسَةِ



السند 3 : موقع القارات والمحيطات

الماء مُوزَعٌ بَيْنَ مُحِيطَاتٍ وَبِحَارٍ وَمِنْهَا	اليابسةُ مُوزَعَةٌ بَيْنَ قَارَاتٍ وَجُزُرٍ وَمِنْهَا
1 - المُحيطُ الهادي	1 - قارةُ إفريقيا
2 - المُحيطُ الأطلسيُّ .	2 - قارةُ أمريكا
3 - المُحيطُ الهنديُّ .	3 - قارةُ آسيا
4 - المحيطُ المُتجمدُ الجنوبيُّ	4 - القارةُ القطبيَّةُ الجنوبيَّة
5 - المُحيطُ المُتجمدُ الشماليُّ	5 - قارةُ أوقيانوسيا
* البحرُ الأبيض المتوسط	6 - قارةُ أوروبا
	* جزيرةُ مدغشقر

السند 4 : أسماء القارات والمحيطات



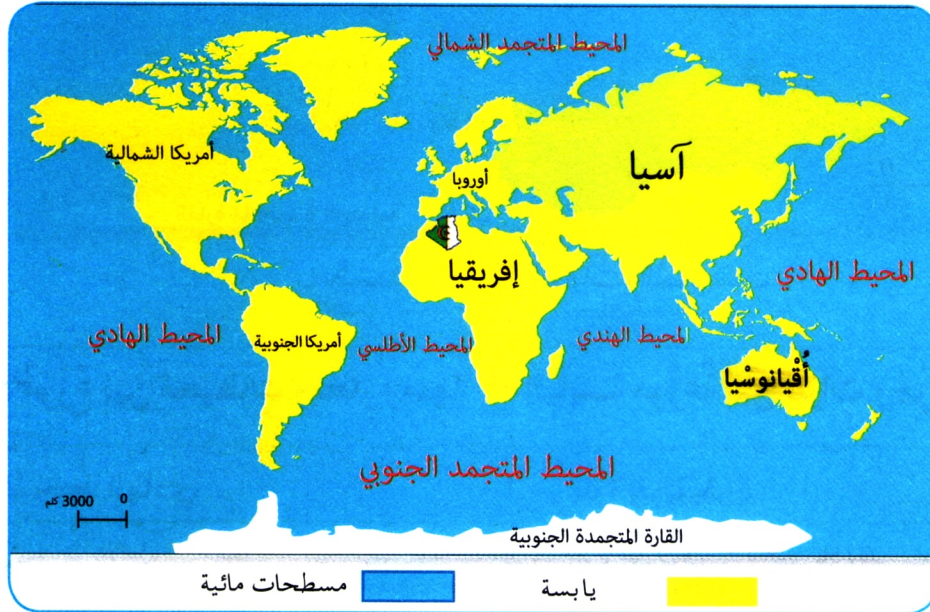
ألاحظ السندات 1، 2، 3، 4 وأستنتج أن ...

أقومُ نَعْلَمَاتِي :

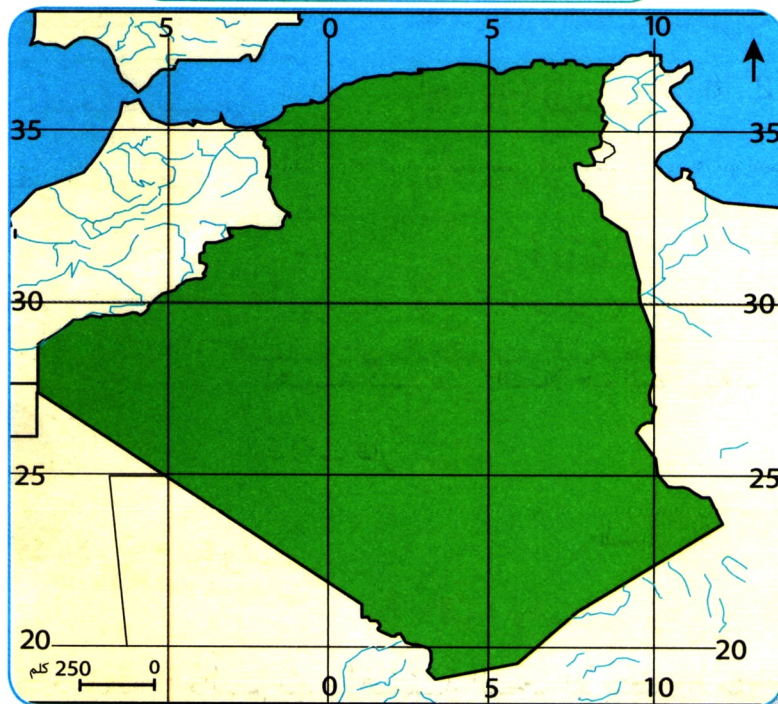
■ أذكر البحار والمحيطات المحيطة بالقارة الإفريقية.

4 - مَوْقِعُ الْجَزَائِرِ فِي الْعَالَمِ:

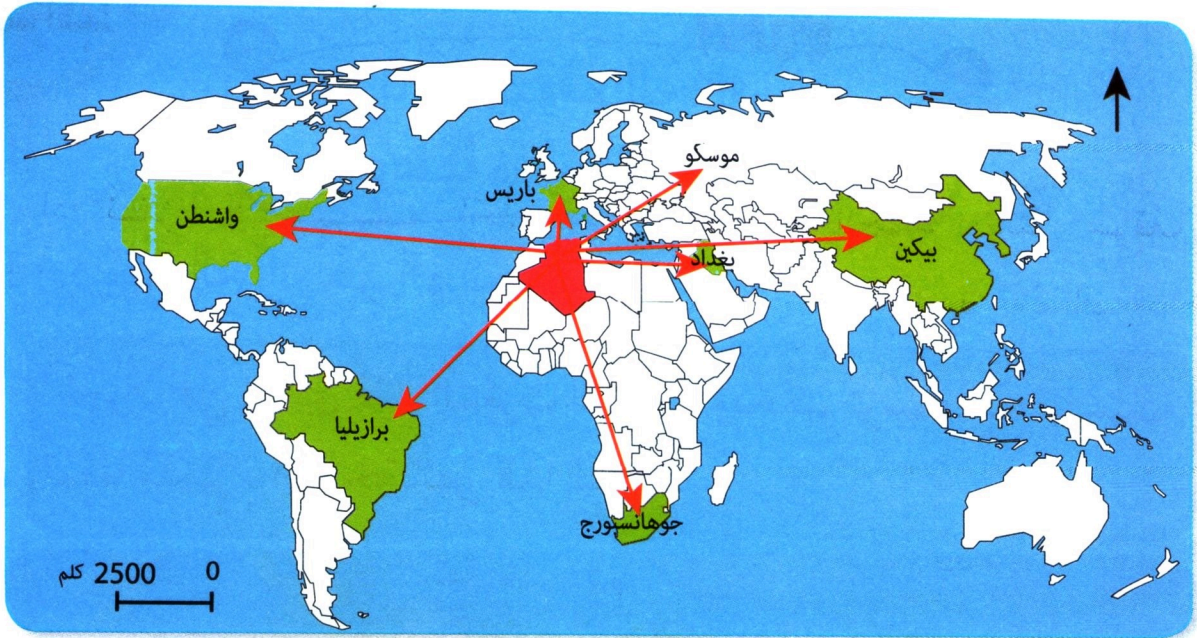
إِذَا نَظَرْنَا إِلَى خَرِيْطَةِ الْعَالَمِ، سَنَلَا حِظَّ بِأَنَّ الْجَزَائِرَ تَحْتُلُّ مَوْقِعًا مُتَوَسِّطًا لَهُ. بَيْنَ مَدَى أَهْمِيَّةِ الْمَوْقِعِ الْجُغْرَافِيِّ لِلْجَزَائِرِ فِي الْعَالَمِ.



السند 1 : مَوْقِعُ الْجَزَائِرِ فِي الْعَالَمِ



السند 2 : الْمَوْقِعُ الْفَلَكِيُّ لِلْجَزَائِرِ



سند 3 : أبعاد بعض عواصم العالم عن الجزائر العاصمة

العاصمة	موسكو	باريس	برازيليا	جوهانسبورج	واشنطن	بغداد	بيكين
الدولة	روسيا	فرنسا	البرازيل	جنوب افريقيا	الولايات المتحدة	العراق	الصين
المسافة	3340	1368	7866	7467	6670	3758	9076

السند 4 : جدول المسافات بين الجزائر العاصمة وبعض العواصم العالمية (كلم)

تبلغ مساحة الجزائر 2.381.741 كلم² وهي تطل على البحر الأبيض المتوسط بساحل طوله 1200 كلم، ورغم أن هذا البحر لا تزيد مساحته عن 2.5 مليون كلم²، فإنه يكتسي أهمية كبيرة في الملاحة البحرية لكونه يتوسط ثلاث قارات.



السند 5 :

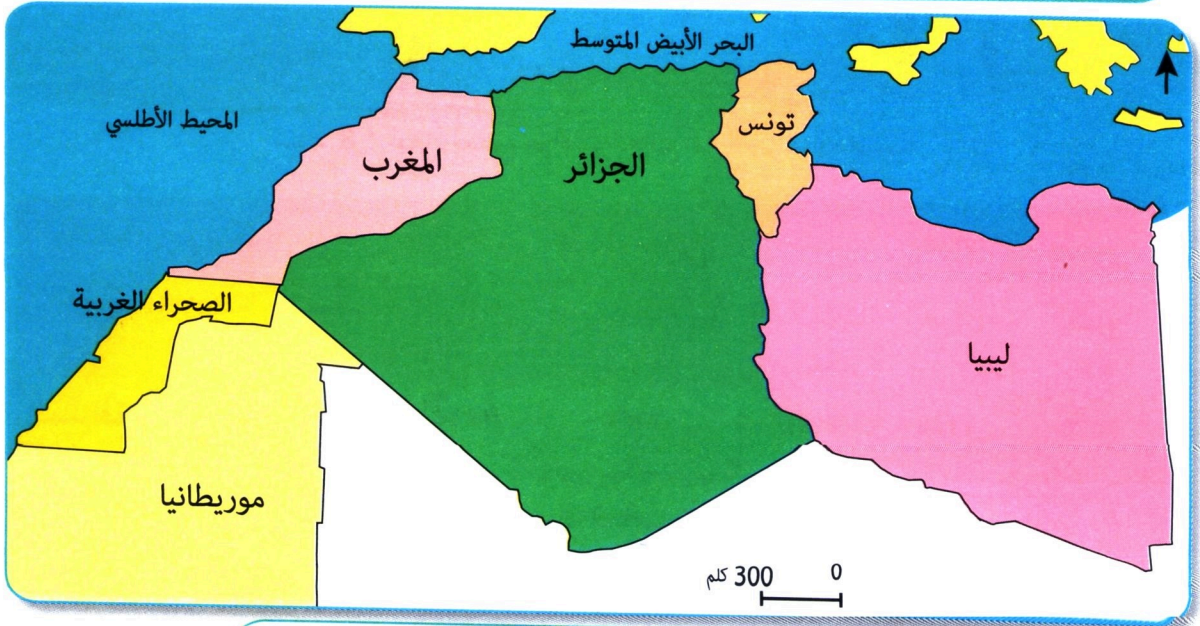
ألاحظ السندات 1، 2، 3، 4، 5 وأستنتج أن ...
أدمج تعلماتي :

■ من خلال خريطة العالم بين أهمية البحر الأبيض المتوسط في ربط الاتصال بين الجزائر ومختلف جهات العالم .

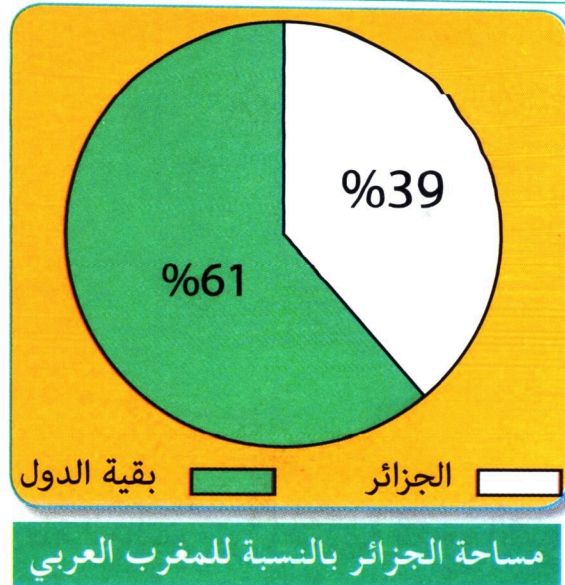
ثانِيًا: مَوْقِعُ الْجَزَائِرِ فِي
إفْرِيقِيَا وَفِي الْمَغْرِبِ الْعَرَبِيِّ

1 - مَوْقِعُ الْجَزَائِرِ فِي الْمَغْرِبِ الْعَرَبِيِّ :

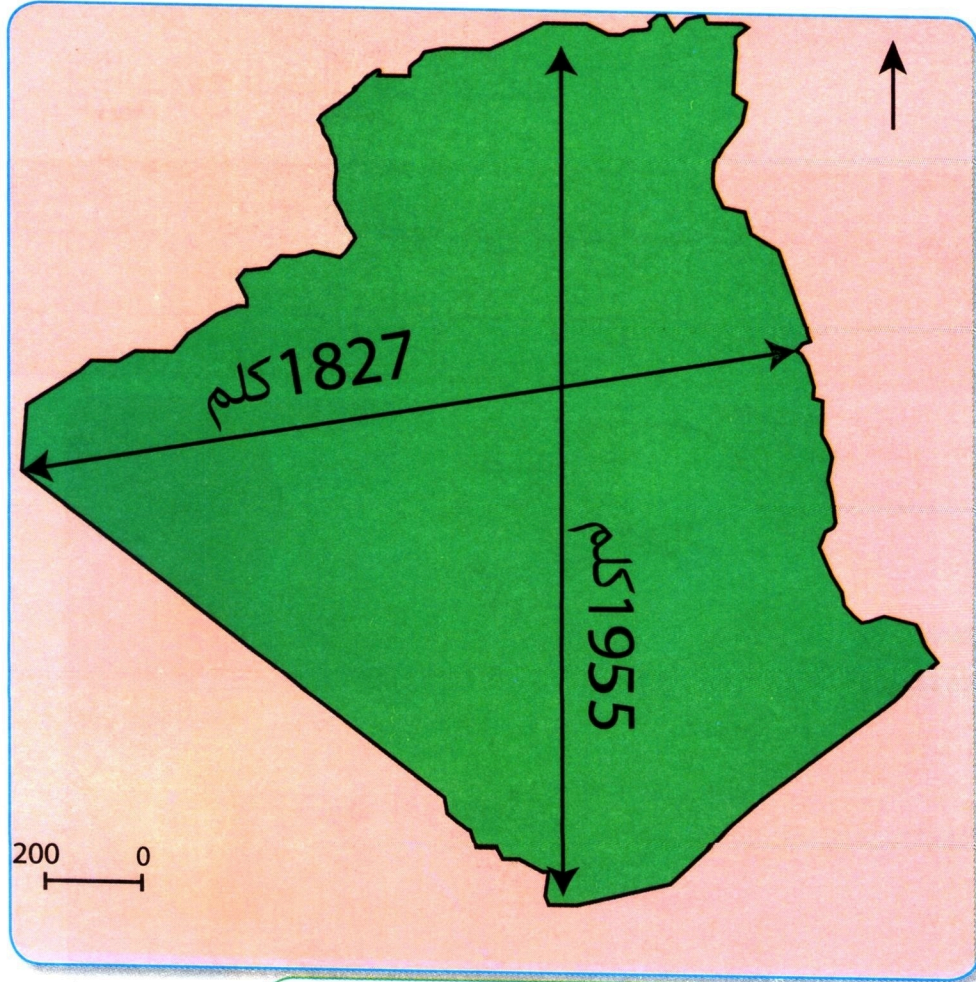
الْجَزَائِرُ هِيَ إِحْدَى دَوْلِ الْمَغْرِبِ الْعَرَبِيِّ ، وَبِحُكْمِ تَوَسُّطِهَا لَهُ اِكْتَسَبَتْ مَوْقِعًا مُتَمَيِّزًا. أَبْرَزُ خَصَائِصَ هَذَا الْمَوْقِعِ .



السند 1 : مَوْقِعُ الْجَزَائِرِ فِي الْمَغْرِبِ الْعَرَبِيِّ



السند 2 :



السند 3 : خريطة أبعاد الجزائر

أبعاد مدينة الجزائر عن العواصم
المغربية (كلم)

- الرباط 959 .
- تونس 634 .
- طرابلس 995 .
- العيون 1964 .
- نواكشوط 2760 .



ألاحظ السندات 1، 2، 3، 4 وأستنتج أن ...

أقوم تعلماتي :

السند : 4

■ للجزائر مكانة متميزة مغاربيًا، وضح ذلك بأمثلة.

2 - مَوْعُ الْجَزَائِرِ فِي إِفْرِيقِيَا

إِذَا كَانَتِ الْجَزَائِرُ بِحُكْمِ مَوْعِهَا هِيَ قَلْبُ الْمَغْرِبِ الْعَرَبِيِّ، فَهِيَ أَيْضًا تَحْتَلُّ مَوْعًا مُتَمَيِّزًا فِي الْقَارَةِ الْإِفْرِيقِيَّةِ. وَضُحَّ ذَلِكَ.



السند: 1 الجزائر في إفريقيا

- من جنوب الجزائر إلى:
- خليج غينيا 1420 كلم
- جوهانسبورغ 6331 كلم

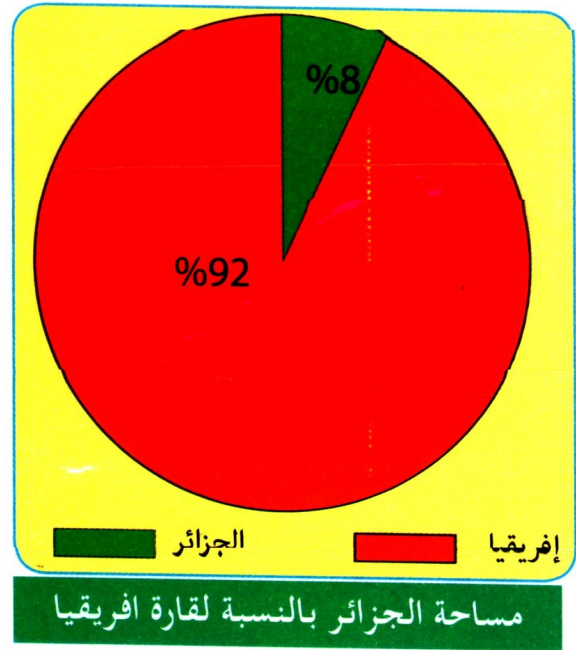
السند: 2

الجزائر أكبر بلد إفريقي بمساحة تُقدَّر بـ: 2381741 كلم² والعاشر عالمياً. تتوغل بمساحتها في عمق القارة، ولها حدود مع سبع دول، ونافذة على البحر المتوسط. وأهميته هذا الموقع تكمن في أنها بوابة إفريقيا من جهة الشمال.

السند : 3

طول الشريط الحدودي البري للجزائر 6343 كلم		
965	تونس	1
982	ليبيا	2
956	النيجر	3
1376	مالي	4
463	موريتانيا	5
42	الصحراء الغربية	6
1559	المغرب	7

السند : 5



السند : 4



ألاحظ السندات 1، 2، 3، 4، 5 وأستنتج أن...

أدمج تعلماتي:

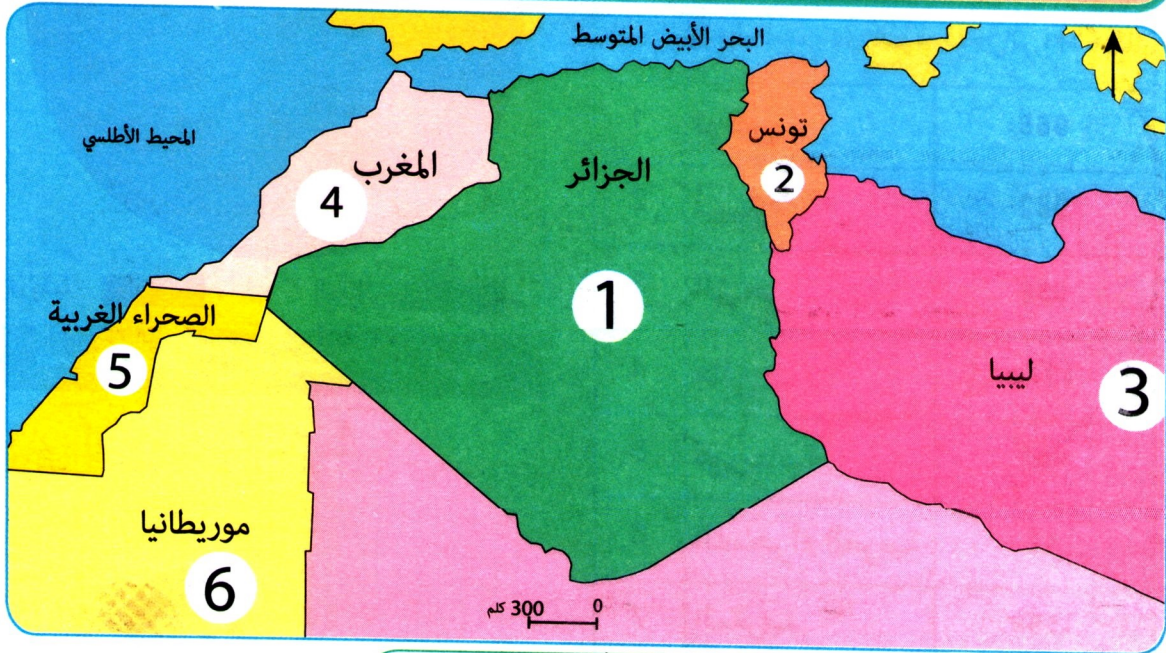
■ الجزائر بوابة للقارة الإفريقية. وضح ذلك.

ثالثًا: المَوْقِعُ الجُغْرَافِيُّ وَطَبِيعَةُ الانْتِمَاءِ

مَعَ مَرِّ الزَّمَنِ يَلْعَبُ المَوْقِعُ الجُغْرَافِيُّ دَوْرًا مُهِمًّا فِي رِبْطِ العَلَاقَاتِ وَالانْتِمَاءَاتِ الَّتِي تَنْشَأُ بَيْنَ الدُّوَلِ. فَمَا هِيَ مُخْتَلَفُ الانْتِمَاءَاتِ الَّتِي اِكْتَسَبَتْهَا الجَزَائِرُ نَتِيجَةً مَوْقِعِهَا الجُغْرَافِيِّ؟

1- الانْتِمَاءُ المَغَارِبِيُّ

مَا هِيَ مَظَاهِرُ الانْتِمَاءِ المَغَارِبِيِّ الَّتِي اِكْتَسَبَتْهَا الجَزَائِرُ بِحُكْمِ مَوْقِعِهَا؟



سند 1 : دُولُ المَغْرِبِ العَرَبِيِّ

نَتِيجَةَ عَدَمِ وُجُودِ حَوَاجِزٍ طَبِيعِيَّةٍ تَفْصِلُ بَيْنَ البُلْدَانِ المَغَارِبِيَّةِ، فَقَدْ نَشَأَتْ بَيْنَ شُعُوبِهَا عِبْرَ التَّارِيخِ رَوَابِطُ ثَقَافِيَّةٍ وَلُغَوِيَّةٍ وَدِينِيَّةٍ وَعَادَاتٍ وَتَقَالِيدٍ مُشْتَرَكَةٍ، جَعَلَتْ مِنْ شُعُوبِهَا أُمَّةً وَاحِدَةً.

السند 2 :

بِحُكْمِ الْمَوْقِعِ الْجُغْرَافِيِّ نَشَأَتْ بَيْنَ الشُّعُوبِ الْمَغَارِبِيَّةِ جُمْلَةٌ مِنَ الرِّوَابِطِ وَالْإِنْتِمَاءَاتِ، عَمِلَ التَّارِيخُ عَلَى تَمْتِينِهَا وَتَوْطِيدِهَا مُنْذُ فِتْرَةٍ مَا قَبْلَ التَّارِيخِ مُرُورًا بِالْفَتْحِ الْإِسْلَامِيِّ فَقِيَامِ دَوْلَةِ الْمُوَحَّدِينَ، ثُمَّ الدَّوَائِلَاتِ الْإِسْلَامِيَّةِ الْمُسْتَقْبَلَةِ. فَمَجِيءُ الْإِسْتِعْمَارِ الْأُورُوبِيِّ الْحَدِيثِ، فَمَرْحَلَةُ اسْتِرْجَاعِ السِّيَادَةِ وَالْإِسْتِقْلَالَ وَالْبِنَاءِ الْوَطْنِيِّ، وَالتَّطَلُّعُ إِلَى مَغْرِبٍ مُوَحَّدٍ (الْإِتِّحَادِ الْمَغَارِبِيِّ).

السند : 3



بتاريخ 10 حوَّان 1988 م عَقَدَ قَادَةُ بُلْدَانِ الْمَغْرِبِ الْعَرَبِيِّ اجْتِمَاعًا فِي مَدِينَةِ

زَرَالْدَةَ بِالْجَزَائِرِ

تَمْهِيدًا لِتَأْسِيسِ اِتِّحَادِ الْمَغْرِبِ الْعَرَبِيِّ الَّذِي تَمَّ الْإِعْلَانُ عَنْهُ فِي مَدِينَةِ مَرَاكَشِ الْمَغْرِبِيَّةِ فِي 17 فِيفْرِي 1989 م. أَصْبَحَتْ الْجَزَائِرُ عَضْوًا فَعَالًا فِيهِ. وَهِيَ تَحْتَضِنُ مَقَرَّ اِتِّحَادِ الشُّورِيِّ الْمَغَارِبِيِّ.

السند 4 : شِعَارُ الْإِتِّحَادِ الْمَغَارِبِيِّ



أَلْحِظِ السَّنَدَاتِ 1، 2، 3، 4 وَأَسْتَنْتِجْ أَنْ ...

أَقَوْمٌ تَعَلَّمَاتِي :

■ أَدْكُرُ ثَلَاثَةَ عُنَاصِرٍ تَدُلُّ عَلَى الْإِنْتِمَاءِ الْمَغَارِبِيِّ لِلْجَزَائِرِ.

2- الإنتماء الإفريقي

ماهي مظاهر الإنتماء الإفريقي التي اكتسبتها الجزائر بحكم موقعها؟



انطلاقاً من كونها دولة إفريقية
تسعى الجزائر على الدوام في اتجاه
تقوية روابطها وانتمائها للقارة
الإفريقية، وتجلّى ذلك في كونها دولة
مؤسّسة لمنظمة الوحدة الإفريقية سنة
1963 م والاتحاد الإفريقي سنة 2002 م

السند 1: الاتحاد الإفريقي

بحكم الموقع الجغرافي للجزائر وكون الصحراء تغطي أكثر من ثلثي مساحتها فإنها تُعتبر أيضاً دولة صحراوية، سواء من خلال تضاريسها أو مناخها وما يترتب عن ذلك من نبات طبيعي وأنشطة اقتصادية مثلت إحدى الروابط مع الدول الإفريقية.

السند 2:

نتيجة موقع الجزائر في شمال القارة الإفريقية وإطلالها على البحر الأبيض المتوسط بساحل يزيد عن 1200 كلم. فهي منفذ القارة من الشمال وجسر اتصال مع دول العالم، وخاصة الأوروبية منها، لكون البحر الأبيض المتوسط همزة وصل بين القارات الثلاث (إفريقيا-آسيا-أوروبا)

السند 3:

طَرِيقُ الْوَحْدَةِ الْإِفْرِيقِيَّةِ الَّذِي يَنْطَلِقُ مِنَ الْجَزَائِرِ أَسْطَعُ مِثَالٍ
عَلَى دَوْرِ الْجَزَائِرِ فِي رِبْطِ الْإِتِّصَالِ بَيْنَ جَنُوبِ الْقَارَّةِ وَشَمَالِهَا .



السند 4 : طَرِيقُ الْوَحْدَةِ الْإِفْرِيقِيَّةِ



إِذَا كَانَتْ مَكَّةُ قِبْلَةَ الْمُسْلِمِينَ
وَالْفَاتِيكَانُ قِبْلَةَ الْمَسِيحِيِّينَ فَإِنَّ
الْجَزَائِرَ هِيَ قِبْلَةُ الْأَحْرَارِ وَالثَّوَارِ
عِبَارَةٌ قَالَهَا أَحَدُ الزُّعْمَاءِ
الْأَفْرَاقَةِ، وَهِيَ تُلَخِّصُ دَوْرَ
الْجَزَائِرِ فِي تَحْرِيرِ الشُّعُوبِ
الْإِفْرِيقِيَّةِ وَعُمُقِ إِنْتِمَائِهَا
الْإِفْرِيقِيِّ .

السند : 5

أَلِاحِظِ السَّنَدَاتِ 1، 2، 3، 4، 5 وَأَسْتَنْتِجْ أَنْ ...

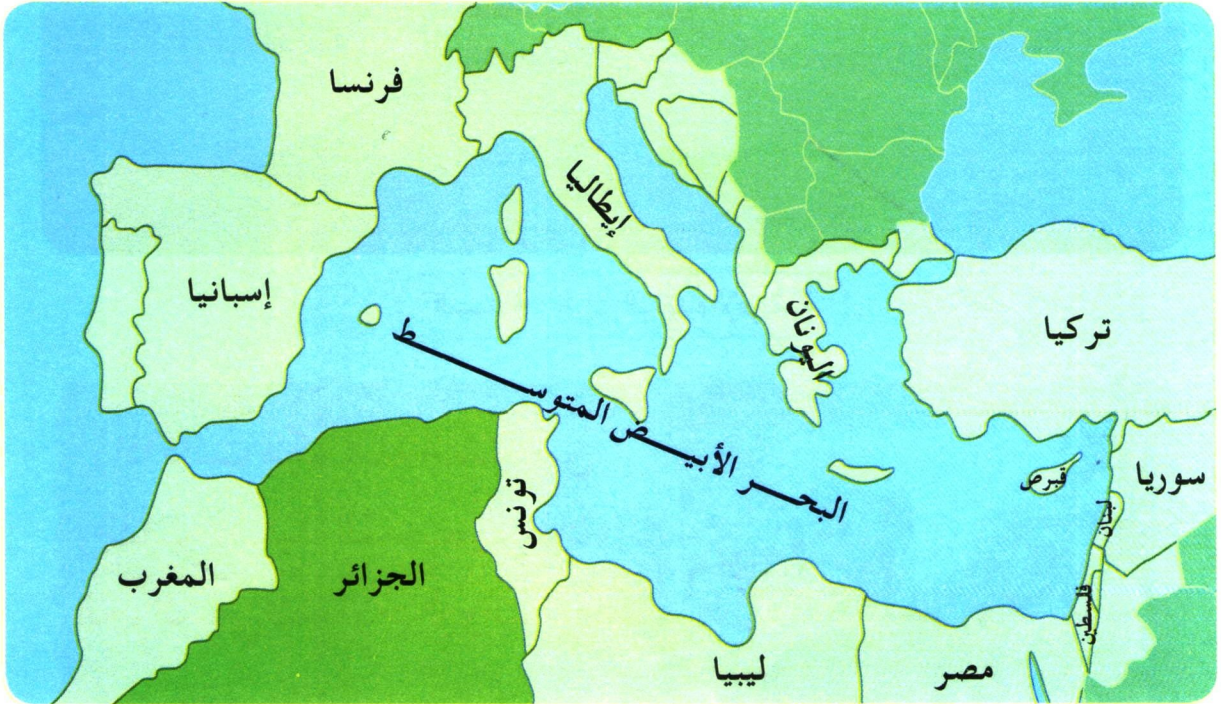


أَقُومُ تَعَلُّمَاتِي :

■ اخْتَرْ مَظْهَرًا وَاحِدًا مِنْ مَظَاهِرِ الْإِنْتِمَاءِ الْإِفْرِيقِيِّ لِلْجَزَائِرِ وَحَرِّرْ فِقْرَةَ حَوْلِهِ .

3 - الإِنْتِمَاءُ الْمُتَوَسِّطِيُّ :

ماهي مظاهر الإِنْتِمَاءِ الْمُتَوَسِّطِيِّ الَّتِي اِكْتَسَبَتْهَا الْجَزَائِرُ بِحُكْمِ مَوْقِعِهَا؟



السند 1 : الجزائر دولة متوسطة

الجزائر دولة متوسطة نتيجة موقعها على الضفة الجنوبية من البحر الأبيض المتوسط، وقربها من كثير من الدول المتوسطية في القارات الأخرى. وهذا الموقع البحري ساعد على التواصل مع بقية الدول المتوسطية خصوصاً، والعالم عموماً. وبالتالي زيادة الروابط والتبادل فيما بينها.

السند 2 :

يَرْبِطُ الْبَحْرُ الْمُتَوَسِّطُ بَيْنَ ثَلَاثِ قَارَاتٍ، فَكَانَ حَوْضَهُ
مَهْدًا لِحَضَارَاتٍ إِنْسَانِيَّةٍ رَاقِيَةٍ (الْفِرْعَوْنِيَّةُ، الْيُونَانِيَّةُ،
الرُّومَانِيَّةُ، الْعَرَبِيَّةُ - الْإِسْلَامِيَّةُ)، مِمَّا أَدَّى إِلَى إِشْتِدَادِ عَامِلِي
التَّأثيرِ وَالتَّأثيرِ فِيمَا بَيْنَ شُعُوبِهِ.

السند : 3

في إطارِ التَّعاوُنِ بَيْنَ دُولِ صَفْتِي
الْبَحْرِ الْأَبْيَضِ الْمُتَوَسِّطِ، تَمَّ
مُدُّ أَنْبُوبَيْنِ لِلْغَازِ الطَّبِيعِيِّ
مِنَ الْجَزَائِرِ إِلَى كُلِّ مِّنْ إِيطَالِيَا
وَإِسبَانِيَا عَبْرَ الْبَحْرِ الْأَبْيَضِ
الْمُتَوَسِّطِ.



السند : 4

تَشْتَرِكُ الْجَزَائِرُ فِي جُزْئِهَا الشَّمَالِيِّ مَعَ الدُّوَلِ الْمُتَوَسِّطِيَّةِ
فِي السَّطْحِ (الجِبَالِ وَالسُّهُولِ السَّاحِلِيَّةِ) وَالْمُنَاخِ (مُنَاخِ الْبَحْرِ
الْأَبْيَضِ الْمُتَوَسِّطِ)، وَمَاتَرَّتْ عَن ذَلِكَ مِّنْ غِطَاءِ نَبَاتِيٍّ وَأَنْشِطَةٍ
اِقْتِصَادِيَّةٍ مُخْتَلَفَةٍ.

السند : 5

الاحظ السندات 1. 2. 3. 4. 5 وأستنتج أن...

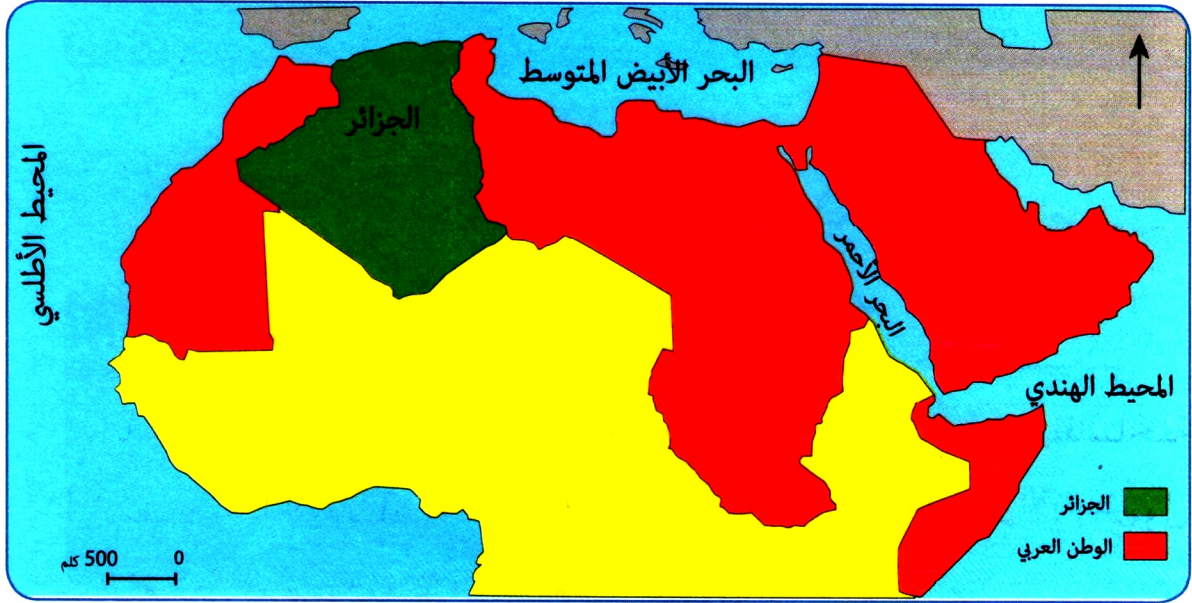


أَقُومُ تَعَلُّمَاتِي:

■ أَبْرَزُ مَزَايَا انْتِمَاءِ الْجَزَائِرِ لِلْبَحْرِ الْأَبْيَضِ الْمُتَوَسِّطِ.

4 - الانتماء العربي :

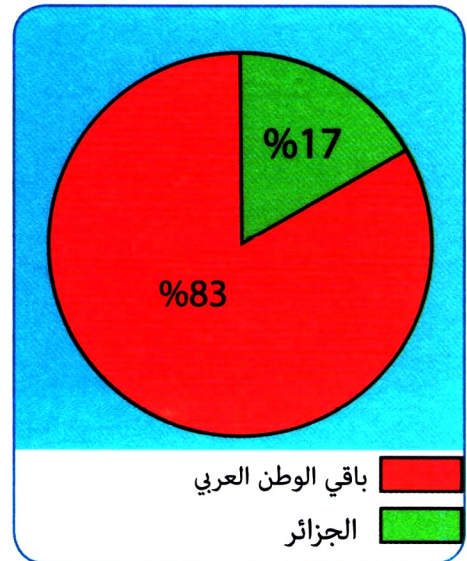
ماهي مظاهر الانتماء العربي الذي اكتسبته الجزائر بحكم موقعها؟



السند 1 : موقع الجزائر في الوطن العربي

انتماء الجزائر إلى الوطن العربي قديم قدم التاريخ. لعبت الجغرافيا دوراً مهماً في تدعيمه، فلم تكن الجزائر معزولة عما كان يجري في البلاد العربية. بعد استرجاعها للاستقلال أصبحت رائدة في الدفاع عن قضايا الأمة وفي مقدمتها القضية الفلسطينية، وأبرز دليل على ذلك مقولة الرئيس الراحل هواري بومدين :

(نحن مع فلسطين ظالمة أو مظلومة) .



السند 2 : نسبة مساحة الجزائر للوطن العربي

السند 3 :

أَنْضَمَّتِ الْجَزَائِرُ بَعْدَ إِسْتِعَادَةِ إِسْتِقْلَالِهَا مُبَكَّرًا
لِجَامِعَةِ الدُّوَلِ الْعَرَبِيَّةِ فِي 16-08-1962م فَاسْتَعَادَتْ
مَكَانَتَهَا بَيْنَ الدُّوَلِ الْعَرَبِيَّةِ، وَأَصْبَحَتْ تَقُومُ
بِدَوْرِهَا فِي تَدْعِيمِ التَّضَامُنِ الْعَرَبِيِّ .



السند : 4

مِسَاحَةُ الْوَطَنِ الْعَرَبِيِّ 14 مِليُونِ كَلِمَةٍ أَي 10% مِنْ مِسَاحَةِ
الْيَابِسَةِ، هَذَا الْفَضَاءُ يَحْمِلُ كُلَّ شُرُوطِ التَّكَامُلِ وَالْإِنْتِمَاءِ بَيْنَ الدُّوَلِ
الْعَرَبِيَّةِ وَفِي مُقَدِّمَتِهَا غِيَابُ الْعَوَائِقِ الطَّبِيعِيَّةِ كَالْجِبَالِ .

السند : 5



أَلْحِظِ السَّنَدَاتِ 1، 2، 3، 4، 5 وَأَسْتَنْتِجْ أَنْ ...

أَقْوَمُ تَعْلَمَاتِي : اِمْلَأْ فَرَغَاتِ الْفُقْرَةِ الْآتِيَةِ :

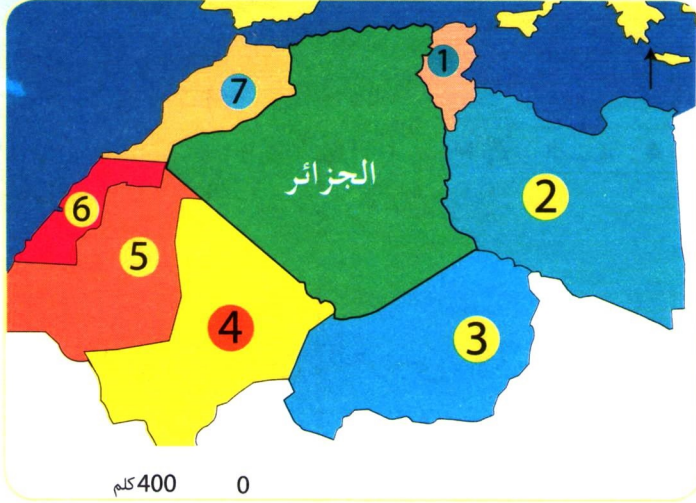
■ تَقَعُ الْجَزَائِرُ فِي الْجِهَةِ لِلْوَطَنِ الْعَرَبِيِّ ، وَهِيَ الدُّوَلِ
الْعَرَبِيَّةِ مِسَاحَةً بِنِسْبَةٍ وَلَهَا حُدُودٌ مَعَ دُولِ عَرَبِيَّةٍ
هِيَ ، ، ، ، وَهِيَ عَضْوٌ فَعَّالٌ
فِي الْعَرَبِيَّةِ الإِفْرِيْقِي .

أُدْمِجْ تَعَلُّمَاتِي

النشاط رقم 1 :

■ أنقل الجدول التالي على كُرَّاسِكْ، ثم سمِّ الدولَ المُحيطة بالجزائر حسب الرِّقمِ.

خريطة صماء لموقع الجزائر



الدولة	الرقم
	1
	2
	3
	4
	5
	6
	7

النشاط رقم 2 :

■ ماهو الفضاء الذي تشترك فيه الدول التالية : الجزائر- المغرب - سوريا - فلسطين - لبنان - اليمن .

النشاط رقم 3 :




■ أنقل الفقرة إلى كُرَّاسِكْ وَأَمْلأ فَرَغَاتِهَا .

تَبْلُغُ مَسَاحَةُ الْكُرَّةِ الْأَرْضِيَّةِ..... مَلْيُونِ كَلِمٍ²، تَشْغُلُ مِنْهَا الْيَابِسَةُ نِسْبَةً 29٪ مُوزَّعَةً عَلَى.... وَالْجُزُرِ. أَمَّا الْمَاءُ فَهُوَ يُغَطِّي نِسْبَةً.....، مُوزَّعَةً عَلَى.....وَالْبِحَارِ.

أَقُومُ تَعَلُّمَاتِي

النَّشَاطُ رَقْم 1 :

■ حَدِّدْ طَبِيعَةَ الْإِنْتِمَاءِ الَّذِي تَشْتَرِكُ فِيهِ الْمُدُنُ التَّالِيَةُ .



النَّشَاطُ رَقْم 2 :

■ أَنْقِلِ الْفِقْرَةَ عَلَى كُرَّاسِكَ ثُمَّ أَمَلْهَا فَرَاغَاتِهَا :

لِجُغْرَافِيَةِ الْجَزَائِرِ الْكَثِيرُ مِنَ الْمُمَيِّزَاتِ مِنْهَا :

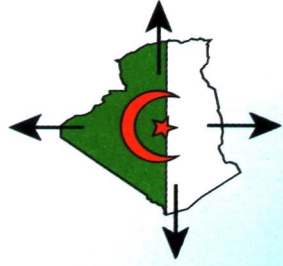
إِمْتِدَادُهَا الْوَاسِعُ عَلَى مَسَاحَةِ..... كَلِمٌ² حَيْثُ أَنَّهَا تَحْتَلُّ الْمَرْتَبَةَ 10

عَالَمِيًّا وَ..... إِفْرِيْقِيًّا وَبِالتَّالِي فَهِيَ الْأَكْبَرُ مَسَاحَةً مَغَارِبِيًّا وَ..... وَ.....

وَ..... لَهَا حُدُودٌ مَعَ 7 دُولٍ إِفْرِيْقِيَّةٍ هِيَ :..... ،..... ،..... ،..... ،..... ،..... ،.....

..... ،..... ،..... بِشَرِيْطِ حُدُودِيٍّ يَبْلُغُ طَوْلُهُ 6343 كَلِمًا .

الميدان الثاني: السُّكَّانُ وَالتَّنْمِيَّةُ



لِلْمَوَارِدِ الطَّبِيعِيَّةِ دَوْرٌ هَامٌّ فِي النِّشَاطِ الْاِقْتِصَادِيِّ وَفِي تَوْفِيرِ مَصَادِرِ الْعَيْشِ لِلْمُجْتَمَعَاتِ . فَمَا مَدَى اِمْتِلاكِ الْجَزَائِرِ لِهَذِهِ الْمَوَارِدِ ، وَ اِلَى اَيِّ حَدٍّ يَحْسُنُ اسْتِغْلَالُهَا ؟



الموارد الطبيعية



العَمَلُ الْمُنْتَجُ
أَسَاسُ تَقَدُّمِ الشُّعُوبِ وَ رَخَائِهَا



عَفَالَةُ اسْتِعْمَالِ الْمَوَارِدِ الطَّبِيعِيَّةِ

أولاً: المَوارِدُ الطَّبيعيَّةُ وَعَلاقَتُها بِنَشَاطِ الإنسانِ فِي الجَزائِرِ

إِذَا كَانَ النَّشَاطُ الإنسانيُّ مُنذُ القَدَمِ قَدْ قامَ عَلى ما تُوفِّرُهُ الطَّبيعةُ مِنْ ثَرواِثٍ، فَمَهي أَهمُّ المَوارِدِ الطَّبيعيَّةِ الَّتِي تَمَلِكُها الجَزائِرُ؟ وَإِلى أَيِّ دَرَجَةٍ تُسْتَغَلُّ بِشَكلٍ عَقْلانيِّ؟

1- المَوارِدُ الطَّبيعيَّةُ وَتُصنيفُها : أ- المَوارِدُ الطَّبيعيَّةُ غَيرَ المُتجدِّدة :



السند 1: منجم غار جبيلات بتيندوف قيد الإستغلال

تَلعبُ المَعادِنُ دورًا أساسيًا فِي الصِّناعةِ، وَمِنَ بَينَ المَعادِنِ المُتوفِّرةِ فِي الجَزائِرِ

- الفُوسْفاتِ 1,4 مليون طن 2014
 - الحَديدُ 0,9 مليون طن 2014
 - الذَّهَبُ 85 كلغ
 - الفِضَّةُ 16 كلغ
 - الرُّخامُ 32 ألف متر مكعب .
- إِضافةً إلى كَميَّاتٍ أُخرى مِنَ النُّحاسِ والرِّصاصِ .

تَمَلِكُ الجَزائِرُ مَوارِدَ طَبيعةً مَعَدنيَّةً وَطاقويَّةً باحتِياطيِّ مُتفاوِثٍ، وَفِي أَنحاءٍ كَثيرةٍ مِنَ الوَطَنِ. وَهَذِهِ الثَّروَةُ الطَّبيعيَّةُ تُعدُّ مَورِدًا لِلِاقتِصادِ الوَطَنيِّ وَلنَهضةِ البَلاَدِ، وَهي مَلِكُ لِلِأجِجالِ القادِمَةِ. لِذَلِكَ يَجِبُ أَخذُ هَذِهِ الحَقِيقَةِ بعَينِ الاِعتِبارِ. السند 3:

لقطاع المحروقات النفط و الغاز الطبيعي أهمية خاصة في الإقتصاد الوطني - يساهم بنسبة 97 % في الصادرات - سوناطراك توظف 501 لف عامل - سونغاز توظف 77 الف عامل




السند 2: معمل تكرير البترول

ب - المَوارِدُ الطَّبيعيَّةُ المُتجدِّدَةُ:



الطَّاقةُ الشَّمسيَّةُ طاقَةٌ المُستقبَلِ في الجَزائِرِ

السند 4 : مَنزَلُ مُزوَّدٌ بالطَّاقةِ الشَّمسيَّةِ



الإسْتِهْلَاكُ الوَطْنيُّ مِنَ المِياهِ العَدْبَةِ
5,2 مِليار م³
• تُوفِّرُ المِياهُ الجَوْفيَّةُ 60% مِنَ الإحْتِياجَاتِ
الوَطْنيَّةِ.
• تُوفِّرُ السُّدُودُ وَمَراكِزُ التَّحْلِيَّةِ الـ 40% الباقِيَّةِ.

تُغْطِي الغَابَاتُ فِي الجَزائِرِ 4,5 مِليون
هِكْتار:
• لِنحافِظَ عَليها مِنَ الحَرائِقِ
وَالإسْتِغْلالِ الفَاحِشِ .
• وَلِنُجَدِّدَها بِالتَّشْجِيرِ وَالرِعايَةِ .

السند : 6

السند : 5

أَلاحِظ السَّنَداتِ 1، 2، 3، 4، 5، 6 وَأَسْتنتِج أَنّ...



2 - أنواع المَوارِدِ الطَبِيعِيَّةِ فِي الجَزَائِرِ :

أ- المَوارِدِ المَعْدِنِيَّةُ :

يُعَدُّ الحَدِيدُ مِنَ المَعَادِنِ الأَسَاسِيَّةِ الَّتِي لَا يُمَكِّنُ لِلصِّنَاعَةِ الحَدِيثَةِ أَنْ تَسْتَعِينِي عَنْهُ، لِذَلِكَ تَطَلَّعَتِ الجَزَائِرُ مُنذُ فَجْرِ الإِسْتِقْلَالِ إِلَى اسْتِغْلَالِ إِحْتِيَاطِي الحَدِيدِ المُتَوَفَّرِ فِي الوِزْةِ، وَإِقَامَةِ مَصْنَعِ الحِجَارِ لِلحَدِيدِ وَالصُّلْبِ بَعْنَابَةَ، الَّذِي قُدِّرَ إِنتَاجُهُ بِ 900 أَلْفِ طُنٍّ فِي سَنَةِ 2014 م. وَنَظَرًا لِلحَاجَةِ المُتَزَايِدَةِ لِهَذِهِ المَادَّةِ، فَقَدَّ شُرِعَ فِي إِقَامَةِ مَصْنَعِ بِلَارَةِ لِلحَدِيدِ بِجيجل، وَاسْتِغْلَالِ مَنجَمِ غَارِ جَبيلات بِتندوف الَّذِي يُقَدَّرُ إِحْتِيَاطُهُ بِ 3.5 مِليَارِ طُنٍّ.

السند : 1



يُؤَدِّي إِزْدِهَارُ صِنَاعَةِ الحَدِيدِ إِلَى التَّأثيرِ إِجَابِيًّا عَلَى قِطَاعَاتِ إِقْتِصَادِيَّةٍ أُخْرَى، كَالفِلاحةِ وَالتَّنْقِلِ وَالبِنَاءِ لِمَا يُوفِّرُهُ لَهَا مِنْ أَدَوَاتٍ هِيَ فِي أَمَسِّ الحَاجَةِ إِلَيْهَا.

السند : 3 : الحَدِيدُ الخَام

السند : 2



السند : 4 : مَرَكَبُ الجَرَارَاتِ بِقَسَنْطِينَةَ

الفوسفات من الموارد المعدنية الطبيعية المهمة في الاقتصاد الحديث، وللجزائر احتياطي يُقدَّر بـ 2 مليار طن، أما طاقة الإنتاج فهي 1.2 مليون طن سنوياً. تتركز أهم مناجمها في ولاية تبسة، أما تصنيعه فيتّم في عنابة، و يُستخدَم الفوسفات خصوصاً في تزويد الفلاحة بالأسمدة.



السند: 5 منجم الفوسفات بتبسة



السند 6: منجم إنتاج الذهب بالهقار

ألاحظ السندات 1، 2، 3، 4، 5، 6 وأستنتج أن...



أقوم تعلّمتني:

■ أذكر أهم الموارد المعدنية في الجزائر.




السند : 1 حقلُ المَرِكِ لإنتاجِ النَفتِ بِإيليزي

عَرَفَتْ الحَرَكَةُ الصِّنَاعِيَّةُ فِي العَالَمِ قَفْزَةً مُهِمَّةً بَعْدَ اكْتِشَافِ الطَّاقَةِ كَمَادَةٍ مُحَرِّكَةٍ لِلآلَةِ .

وَ الجَزَائِرُ بَدَوْرَهَا عَرَفَتْ بَعْدَ اسْتِرْجَاعِهَا لِلإِسْتِقْلَالِ وَالسِّيَادَةِ حَرَكَةَ تَصْنِيعٍ وَاسِعَةً، لَعِبَتْ فِيهَا مَصَادِرُ الطَّاقَةِ وَخَاصَّةً البِثْرُولُ وَالغَازُ دَوْرًا بَارِزًا فِي تَوْفِيرِ رُؤُوسِ الأُمُوالِ، نَتِيجَةَ التَّصْدِيرِ لِلخَارِجِ، وَاسْتِعْمَالِهِمَا كَمَادَةٍ لِتَحْرِيكِ مُخْتَلِفِ أَنْوَاعِ الآلَاتِ .

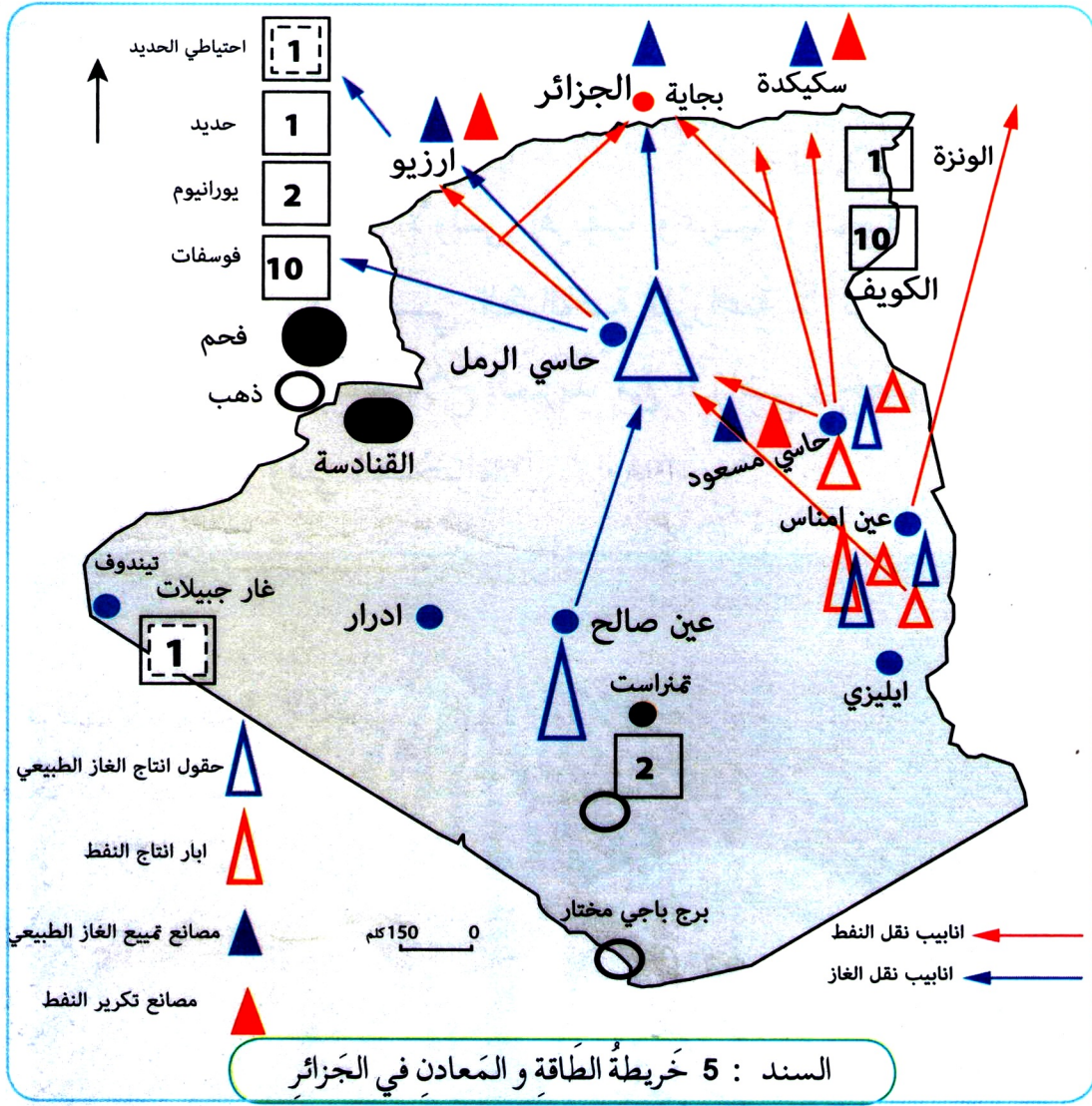
السند : 2



السند : 4 مَصْنَعُ تَمْيِيعِ الغَازِ (سَكِيكدة)

تَتَرَكِّزُ حُقُولُ الغَازِ الطَّبِيعِيِّ خُصُوصًا فِي حَاسِي الرَّمْلِ وَعَيْنِ أَمْناسِ وَعَيْنِ صَالِحِ، يُقَدَّرُ اِحْتِيَاظُهُ بِ 4500 مِليَارِ م³، أَمَّا إِنتَاجُهُ فَبَلَغَ 128.3 مِليَارِ م³ سَنَةً 2015 م .

السند : 3



يُمثّل البترولُ أحدَ أهمّ مصادِرِ الطّاقةِ في الجزائرِ، حيثُ اكتُشِفَ سَنَةَ 1956م في حاسي مسعود، ويُقدَّرُ احتياطُهُ بـ 12.2 مليارِ برميلٍ، أمّا إنتاجُهُ بَلَغَ 1 مليون برميلٍ يَومياً سَنَةَ 2016 م.

السند : 6

ألاحظ السندات 1، 2، 3، 4، 5، 6 وأستنتج أن...



ج - المَوارِدُ الفِلاحيَّةُ :

رَغْمَ أَنَّ الجَزائِرَ هِيَ الأُولَى إفْرِيقِيًّا وَعَرَبِيًّا ومُتَوَسِّطِيًّا مِنْ حَيْثُ المِساخَةُ، إلاَّ أَنَّ الأَراضي الصَّالِحَةَ لِلزَّراعَةِ لا تَتَعَدَّى 10 مَلْيُونِ هِكْطارٍ، مَعَ إمْكانِيَّةِ اسْتِصْلاحِ المَزِيدِ مِنَ الأَراضي، خُصُوصًا فِي مَناطِقِ الهِضابِ العُليا وَفِي الصَّحراءِ.

السند : 1



السند 2 : التُّربةُ مَورِدٌ طَبِيعيٌّ أَساسِيٌّ فِي الفِلاحةِ

بِحُكْمِ مَوقِعِ الجَزائِرِ فِي المِنطَقةِ المُعْتَدِلَةِ الحارَّةِ، فَإِنَّ ذَلِكَ انْعَكَسَ عَلَى طَبِيعَةِ المُنَاحِ السائِدِ بِها، فَإِذا كانَ الشَّمالُ يُمَثِّلُ شَرِيطًا ضَيقًا مِنْ المِساخَةِ العامَّةِ يَتَراوَحُ مُتَوَسِّطُ سُقُوطِ الأمطارِ بِهِ بَينَ 600 - 800 مِلم مَعَ تَدَبُّدٍ كَبيرٍ مِنْ سَنَةٍ لِأُخْرَى، فَإِنَّ الجَنُوبَ يَشغَلُ أَغْلَبَ المِساخَةِ وَيَسودُهُ الجَفافُ فإِنعَكَسَ ذَلِكَ سَلْبًا عَلَى النِّشاطِ الفِلاحيِّ.

السند : 3



السند 4 : سدُّ بني هارون بميلة أكبر السدود في الجزائر، يُمَوَّن 6 ولايات



السند 6 : الفلين أحد الثروات الغابية

تُمثِّل الثَّرْوَةُ الحَيَوَانِيَّةُ مَوْرِدًا
طَبِيعِيًّا لِلِاِقْتِصَادِ مِنْ خِلَالِ مَا
تُوَفِّرُهُ مِنْ مَوَادِّ مُتَنَوِّعَةٍ، مِثْلَ
الأَصْوَافِ وَالْجُلُودِ وَالْحَلِيبِ
وَالأَسْمَاكِ

السند : 5

ألاحظ السندات 1، 2، 3، 4، 5، 6 وأستنتج أن...



أدمجُ تَعَلَّمَاتِي :


■ أَنجِزْ جَدْوَلًا لِأَهَمِّ المَوَارِدِ الطَبِيعِيَّةِ الَّتِي تُوَجَدُ بِالمِنطَاقَةِ الَّتِي تُقِيمُ فِيهَا.

ثانياً: العلاقة بين العمل الإنتاجي وفوائده على التنمية في الجزائر

بعد أن استعادت الجزائر استقلالها سنة 1962م أصبح أهم هدف هو تحقيق نهضة شاملة، اعتماداً على مواردها الطبيعية وطاقت أبنائها. فماهي نتائج الجهود المبذولة على التنمية؟

1 - العمل الإنتاجي المادي:

تملك الجزائر إمكانيات زراعية معتبرة، غير أن المستغل منها لا يزال قليلاً في الوقت الحاضر، إذ أن الصحراء تمثل خزاناً طبيعياً مهماً من حيث الثروة الفلاحية، والدليل على ذلك ما توفره اليوم من منتوج معتبر من الطماطم والبطاطا والحبوب... وغيرها. وهي ناتجة عن التوسع في الاستثمار الفلاحي في المنطقة.



السند 1 : إنتاج الطماطم في الصحراء

مِنْ مَظَاهِرِ التَّنْمِيَةِ الَّتِي تَشْهَدُهَا
الْجَزَائِرُ فِي مُخْتَلَفِ مَنَاحِي الْحَيَاةِ،
مَا قَامَتْ بِهِ مِنْ اسْتِغْلَالِ لِلثَّرَوَاتِ
الطَّبِيعِيَّةِ فِي إِنْشَاءِ قَاعِدَةٍ صِنَاعِيَّةٍ
مُهَيَّأَةٍ تَتَمَثَّلُ خُصُوصًا فِي مُرَكَّبِ
الْحِجَارِ لِلْحَدِيدِ وَالصُّلْبِ، وَمُرَكَّبِ
العَرَبَاتِ الصِّنَاعِيَّةِ بِالرُوبِيَّةِ،
وَمُرَكَّبِ الأَجْهَازَةِ الإِلِكْتُرُونِيَّةِ
بِتِيْزِي وَزُو، وَمَصَانِعِ تَكْرِيرِ البِثْرُولِ
وَتَمْيِيعِ الغَازِ الطَّبِيعِيِّ، وَتَوْفِيرِ
مَنَاصِبِ الشُّغْلِ وَتَحْسِينِ إِطَارِ
الْحَيَاةِ، وَالقِيَامِ بِمَشَارِيعِ ضَخْمَةٍ
فِي المَجَالِ السَّكْنِيِّ.

السند: 4



السند 2: مشروع سكني
في خدمة التنمية ذو منتج مادي



السند 3: مصنع الإلكترونيك يُوفّر مناصب الشغل

ألاحظ السندات 1، 2، 3، 4 وأستنتج أن...



2 - العَمَلُ الْإِنْتَاجِيُّ الْإِلَامَادِي :

انتهجت الجزائر منذ سنة 1962م سياسة ديمقراطية التعليم ومجانتيته من أجل استعادة الشخصية الوطنية، وتوفير الإطارات التي تحتاجها البلاد في مختلف القطاعات. حيث بلغ عدد التلاميذ في المراحل التعليمية 8691006 تلاميذ في الدخول المدرسي 2016م يُوظفهم 717000 موظف.

السند : 2

يَعْرِفُ الْعَالَمُ الْيَوْمَ تَنوعًا وَتَعَدُّدًا فِي طَبِيعَةِ الْأَنْشِطَةِ الَّتِي يُمَارِسُهَا الْإِنْسَانُ، وَبِتَنوعِهَا وَإِخْتِلَافِهَا يَتَنوعُ وَيَخْتَلِفُ الْإِنْتَاجُ. فَمِنْهُ مَا يَظْهَرُ فِي شَكْلِ مَادِّيِّ مَلْمُوسٍ وَإِنِّي مِثْلُ الْإِنْتَاجِ الْفَلَاحِيِّ، وَمِنْهُ مَا يَكُونُ فِي شَكْلِ مَحْسُوسٍ وَمَعْنَوِيٍّ لَكِنَّهُ مَعَ مُرُورِ الْوَقْتِ يَتَبَلُّورُ فِي مَظْهَرٍ مِنَ الْمَظَاهِرِ، وَمِنْ أَهَمِّ الْقِطَاعَاتِ الَّتِي تُمَثِّلُ هَذَا النَّوعِ قِطَاعُ التَّرْبِيَةِ وَالتَّعْلِيمِ.

السند : 1



السند : 3 تلاميذ في فناء المؤسسة (منتوج التربية)

تَشْهَدُ الْجَزَائِرُ فِي إِطَارِ سِيَّاسَةِ التَّنْمِيَةِ الشَّامِلَةِ تَوْسُّعًا هَامًا فِي كَثِيرٍ مِنْ الْقِطَاعَاتِ الخِدْمَاتِيَّةِ. وَتَطْبِيقًا لِسِيَّاسَةِ تَقْرِيْبِ الْإِدَارَةِ مِنَ الْمَوْاطِنِ وَتَحْسِينِ الْخِدْمَةِ الْعُمُومِيَّةِ، تَمَّ تَوْسِيعُ عَدَدِ الْوِلَايَاتِ إِلَى 48 وَوِلَايَاتٍ أُخْرَى مُنْتَدَبَةً وَ590 دَائِرَةً وَ1541 بَلَدِيَّةً، تُشْغَلُ 1.9 مَلْيُونِ مُوَظَّفٍ. تُقَدِّمُ خِدْمَةً كَبِيرَةً لِلْمَوْاطِنِ، وَلَكِنَّ إِنتَاجَهَا لَا يَظْهَرُ فِي شَكْلِ مَادِّيٍّ.

السند : 4



السند : 5 الرِّعَايَةُ الصَّحِيَّةُ



السند : 6 المحكمة العليا

ألاحظ السندات 1، 2، 3، 4، 5، 6 وأستنتج أن...



أقومُ تَعَلُّمَاتِي:

■ بِمُنَاسَبَةِ الْإِحْتِفَالِ بِالْعِيدِ الْعَالَمِيِّ لِلْعَمَّالِ فِي مُؤَسَّسَاتِكُمْ. أَكْتُبُ فِقْرَةَ تُبْرِزُ فِيهَا دَوْرَ الْعَمَلِ فِي تَطْوِيرِ الْبَلَدِ .

ثالثًا : عَقْلَنَةُ اسْتِغْلَالِ الْمَوَارِدِ الطَّبِيعِيَّةِ غَيْرِ الْمُتَجَدِّدَةِ

إِذَا كَانَتْ حَاجَةُ الْإِنْسَانِ الْمُتَزَايِدَةُ لِلإِنْتِاجِ تُؤَدِّي إِلَى الإِفْرَاطِ فِي اسْتِغْلَالِ الْمَوَارِدِ الطَّبِيعِيَّةِ الْقَابِلَةِ لِلنَّفَادِ، الَّتِي تُعَدُّ مِلْكَاً كَذَلِكَ لِلأَجْيَالِ الْقَادِمَةِ . فَمَاهِي الحُلُولِ الَّتِي تَقْتَرِحُهَا لِتَفَادِي المَخَاطِرِ الَّتِي تَتَرْتَّبُ عَنِ نَفَادِهَا ؟




يُقَدَّرُ اِحْتِيَاطِي الْجَزَائِرِ مِنَ الْغَازِ الطَّبِيعِيِّ بِ 4500 مِليَارِ م³، وَإِذَا اسْتَمَرَّ اِلسْتِغْلَالُ بِهَذِهِ الْوَتِيرَةِ فَإِنَّهُ سَيَنْفَدُ بَعْدَ 36 سَنَةٍ .

أَمَّا النِّفْطُ فَيُقَدَّرُ اِحْتِيَاطُهُ بِ 12.2 مِليَارِ بَرْمِيلٍ، وَاسْتِمْرَارُ اِلسْتِغْلَالِ بِهَذَا الشَّكْلِ سَيُؤَدِّي إِلَى نَفَادِهِ بَعْدَ 27 سَنَةٍ .

السند : 1

تَكْتَسِي المَعَادِنُ أَهْمِيَّةً خَاصَّةً فِي مُخْتَلِفِ الصِّنَاعَاتِ الخَفِيفَةِ وَالثَّقِيلَةِ وَبِاسْتِثْنَاءِ الكَمِيَّاتِ اِلسْتِغْلَالِيَّةِ المُعْتَبَرَةِ لِلجَزَائِرِ مِنَ الحَدِيدِ وَالفُوسْفَاتِ، فَإِنَّ الفُرْصَ اِلسْتِخْرَاجِيَّةَ مِنَ المَعَادِنِ الأُخْرَى مَحْدُودَةٌ، بَلْ أَنْ بَعْضَهَا نَضَبٌ، وَمِنْ ذَلِكَ مَعْدَنُ الحَدِيدِ بِزَكَارِ وَنَفْسُ الشَّيْءِ لِبقِيَّةِ المَعَادِنِ .



أحد المناجم التي استنفدت

السند : 2



السند : 3 السقي بالتقطير استغلال عقلاني للموارد المائية



السند 4 : الاستغلال الكثيف للتربة وبشكل مستمر على مدار السنة يؤدي إلى إجهادها وإضعاف مردودها



ألاحظ السندات 1، 2، 3، 4 وأستنتج أن...

أدمج تعلماتي:

■ المحافظة على الموارد الطبيعية هو استمرار للحياة ومسؤولية تجاه الأجيال القادمة. وضح ذلك بأمثلة.

أدمجُ تَعْلَمَاتِي

النشاط رقم 1 :

■ علقْ عَلَى الظَاهِرَتَيْنِ فِي الصورتَيْنِ واقترحْ حلاً لهما .



النشاط رقم 2 : أنقلِ التَّمْرِينَ عَلَى كُرَاسِكَ ثُمَّ :

■ اِمْلَأِ الفِراغَاتِ بِمَا يُنَاسِبُهَا :

يُقَصَّدُ بِالْمَوَارِدِ الطَّبِيعِيَّةِ وَهِيَ عَلَى نَوْعَيْنِ هُمَا الْمَوَارِدُ الْمُتَجَدِّدَةُ
مِثْلُ وَ وَالْمَوَارِدُ غَيْرِ الْمُتَجَدِّدَةِ مِثْلُ
وَ وَهَذِهِ الْأَخِيرَةُ قَابِلَةٌ لِلنَّفَادِ نَتِيجَةً لِذَا يَجِبُ الْمُحَافَظَةُ عَلَيْهَا
مِنْ خِلَالِ

النشاط رقم 3 : أنقلِ الجَدْوَلَ عَلَى كُرَاسِكَ ثُمَّ :

■ اذْكَرْ مِثَالِينَ عَن كُلِّ نَوْعٍ مِنْ أَنْوَاعِ الْعَمَلِ مِنْ مُحِيطِكَ .

عَمَلٌ ذُو إِنتَاجٍ غَيْرِ مَادِّيٍّ	عَمَلٌ ذُو إِنتَاجٍ مَادِّيٍّ

أَقُومُ تَعَلُّمَاتِي

النَّشَاطُ رَقْم 1 :

■ بِاسْتِعْمَالِ السَّنَدَاتِ حَرَّرَ فِقْرَةً تُبَيِّنُ فِيهَا أَثَرَ الْمَوَارِدِ الطَّبِيعِيَّةِ عَلَى التَّنْمِيَةِ



النَّشَاطُ رَقْم 2 :

■ جَاءَ فِي الْمَادَّةِ 19 مِنَ الدَّسْتُورِ (تَضَمَّنُ الدَّوْلَةُ الْإِسْتِعْمَالَ الرَّشِيدَ لِلْمَوَارِدِ الطَّبِيعِيَّةِ وَالْحِفَاطَ عَلَيْهَا لِصَالِحِ الْأَجْيَالِ الْقَادِمَةِ...) .

بِاسْتِثْمَارِ مَكْتَسِبَاتِكَ السَّابِقَةِ، بَيِّنْ كَيْفَ يُمَكِّنُكَ الْمُسَاهَمَةُ فِي الْمَحَافِظَةِ عَلَى الْمَوَارِدِ الطَّبِيعِيَّةِ فِي مَحِيطِكَ ؟

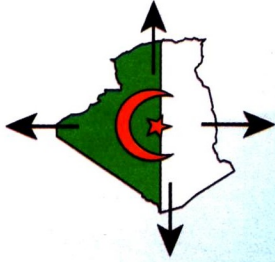
النَّشَاطُ رَقْم 3 :

■ أَنْقِلِ التَّمْرِينَ عَلَى كُرَاسِكَ ثُمَّ اْمَلَأْ الْفَرَاعَاتِ لِتُبَيِّنَ اِنْعِكَاسَاتِ الْمَوَارِدِ الطَّبِيعِيَّةِ عَلَى التَّنْمِيَةِ :


– يُؤَدِّي اسْتِغْلَالُ الْمَوَارِدِ الطَّبِيعِيَّةِ إِلَى تَوْفِيرِ مَنَاصِبَ ... وَاسْتِغْلَالِهَا بِشَكْلِ غَيْرِ عَقْلَانِيٍّ يُؤَدِّي بِدَوْرِهِ إِلَى ...

– الْمَوَارِدُ الطَّبِيعِيَّةُ تَتَمَيَّزُ بِالتَّنَوُّعِ وَمِنْ بَيْنِهَا ... وَ... وَ... وَ... .

الميدان الثالث: السُّكَّانُ وَ الْبِئَّةُ



المَوْقِعُ الجُغْرَافِيُّ لِلجَزَائِرِ جَعَلَ بِيئَتَهَا عُرْضَةً لِلكثيرِ
مِنَ المَخاطِرِ النَّاتِجَةِ عَنِ الظَّواهرِ الطَّبِيعِيَّةِ وَعَنْ نَشاطِ
الإنسانِ. فَكَيْفَ يُمَكِّنُ التَّصَرُّفَ تُجَاهَهَا؟



مَحِيطَةُ المُنْجَارِ



حماة كطرحية

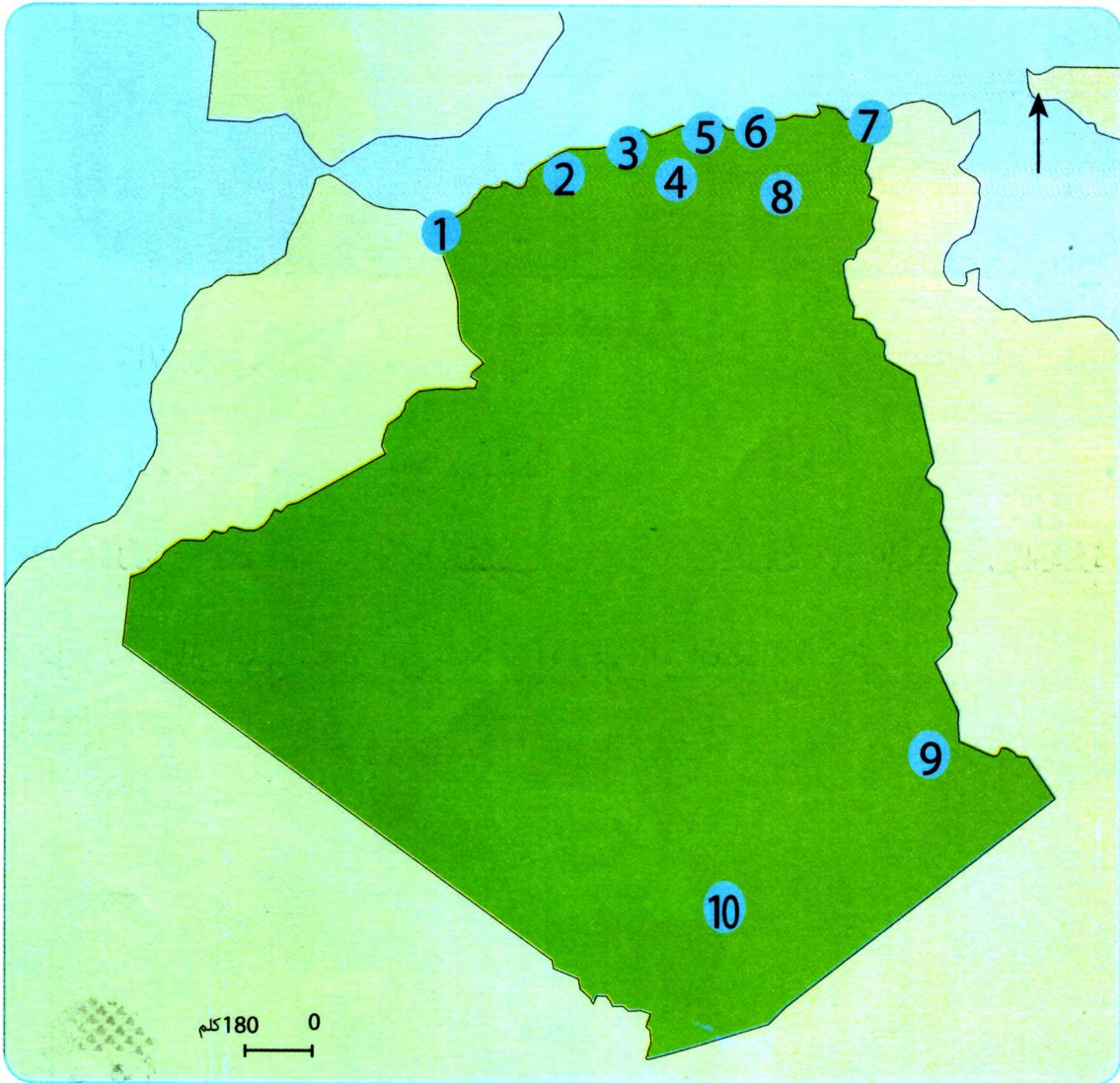


فيضانك باب الوادي 2001

أولاً: المَحْمِيَّاتُ الطَّبِيعِيَّةُ
فِي الْجَزَائِرِ

تَضُمُّ الْجَزَائِرُ مَحْمِيَّاتٍ وَحَضَائِرَ طَبِيعِيَّةً مُتَنَوِّعَةً، فَمَا هِيَ خَلْفِيَّاتُ إِنْشَاءِ
هَذِهِ الْمَحْمِيَّاتِ؟ وَمَا أَنْوَاعُهَا؟

1 - دَوَافِعُ إِنْشَاءِ الْمَحْمِيَّاتِ:



- 1 - تلمسان 2 - ثنية الحد 3 - الشريعة 4 - جرجرة 5 - قوراية 6 - تازة
7 - القالة 8 - بلزمة 9 - تاسيلي 10 - الهقار

السند 1 : خَرِيْطَةُ الْمَحْمِيَّاتِ الطَّبِيعِيَّةِ فِي الْجَزَائِرِ

- تُقَامُ الْمَحْمِيَّاتُ الطَّبِيعِيَّةُ مِنْ أَجْلِ :
- حِمَايَةُ وَتَثْمِينُ الْمَوَارِدِ الطَّبِيعِيَّةِ .
 - الْوَقَايَةُ وَمُكَافَحَةُ كُلِّ أَنْوَاعِ التَّلَوُّثِ
 - تَحْسِينُ إِطَارِ وَنَوْعِيَّةِ الْحَيَاةِ .
 - صِيَانَةُ النُّظْمِ الْبِئِيَّةِ لِلسَّلَالَاتِ النَّبَاتِيَّةِ وَالْحَيَوَانِيَّةِ .

السند: 2

- الْمَحْمِيَّةُ الطَّبِيعِيَّةُ هِيَ مَجَالٌ يُنْشَأُ لِغَايَاتِ الْحِفَاظِ عَلَى الْأَنْوَاعِ الْحَيَوَانِيَّةِ وَالنَّبَاتِيَّةِ وَالْأَنْظِمَةِ الْبِئِيَّةِ وَحِمَايَتِهَا أَوْ تَجْدِيدِهَا .
- الْمَجَالُ الْمَحْمِيُّ هُوَ كُلُّ إِقْلِيمٍ تُمْنَعُ فِيهِ :
- كُلُّ عَمَلِيَّاتِ الرَّعْيِ وَالْحَفْرِ وَالتَّنْقِيبِ بِهَدَفِ الْمُحَافَظَةِ عَلَى الْكَائِنَاتِ الْحَيَّةِ .
 - كُلُّ الْأَشْغَالِ الَّتِي تُغَيِّرُ مِنْ شَكْلِ الْأَرْضِ أَوْ الْغِطَاءِ النَّبَاتِيِّ .
 - كُلُّ فِعْلٍ مِنْ شَأْنِهِ الْإِضْرَارُ بِالْحَيَوَانِ أَوْ النَّبَاتِ .

السند: 3

ألاحظ السندات 1، 2، 3 وأستنتج أن ...



2 - تَوَازِعُ المَحْمِيَّاتِ وَأَنْوَاعُهَا :

تُوجَدُ بِالْجَزَائِرِ 10 مَحْمِيَّاتٍ وَطَنِيَّةٍ مُصَنَّفَةٍ وَمُوزَّعَةٍ بَيْنَ مُخْتَلَفِ وِلَايَاتِ الوَطَنِ :

- فِي الشَّرْقِ (القالة - جيجل - باتنة) .
- فِي الوَسْطِ (بَجَايَة - تيزي وزو - البليدة) .
- فِي الغَرْبِ (تِلْمَسَان - تيسمسيلت) .
- فِي الجَنُوبِ (إيليزي - تمنراست) .

السند : 1



مَحْمِيَّةُ القَالَةِ بِوِلَايَةِ الطَّارِفِ . تَأَسَّسَتْ سَنَةَ 1983 م تَتَرَبَّعُ عَلَى مِسَاحَةِ 86438 هِكْتَارًا، وَصُنِّفَتْ مِنْ طَرَفِ اليُونيسكو سَنَةَ 1990 م، تَضُمُّ ثَلَاثَ بُحَيْرَاتٍ وَغَابَاتٍ وَشَوَاطِئَ .

السند 2 : مَحْمِيَّةُ القَالَةِ



مَحْمِيَّةُ (ثُنْيَةِ الْحَدِّ) بِوِلَايَةِ تَيْسَمْسِيْلَتِ . تَأَسَّسَتْ سَنَةَ 1983 م وَتَتَرَبَّعُ عَلَى مِسَاحَةِ 3425 هِكْتَارًا . تَضُمُّ هَذِهِ الْحَظِيرَةَ . ثَرْوَةً نَبَاتِيَّةً قِيِّمَةً مِنْ حَيْثُ تَنَوُّعِهَا وَنُدْرَتِهَا . إِضَافَةً إِلَى عَدَدٍ كَبِيرٍ مِنْ الثَّدْيِيَّاتِ ، وَالْعَدِيدِ مِنْ أَنْوَاعِ الطُّيُورِ ، نَاهِيكَ عَنِ كَوْنِهَا حَافِلَةً بِالْأَمَاكِنِ وَالْآثَارِ التَّارِيخِيَّةِ وَالنُّقُوشِ .


السند 3 : مَحْمِيَّةُ ثُنْيَةِ الْحَدِّ



الحظيرة الوطنية تاسيلي (إيليزي).

تتربّع على مساحة 720 ألف هكتار، بها أكثر من 15 ألفاً من النقوش والرُسومات تصف الطقوس الدينية، تعود لأكثر من 10 آلاف سنة قبل الميلاد. صُنفت كحظيرة وطنية في عام 1972م.

السند 4: محمية تاسيلي (إيليزي)



الحظيرة الوطنية الهقار (تمنراست).

تَمْتَدُّ عَلَى مِسَاحَةِ 4.5 مَلْيُونِ هِكْتَارٍ، تَضُمُّ تَرَاثًا ثَقَافِيًّا وَطَبِيعِيًّا فَرِيدًا مِنْ نَوْعِهِ يَعُودُ تَارِيخُهُ إِلَى مَلْيُونِ سَنَةٍ. صُنِّفَتْ كَحَظِيرَةٍ وَطَنِيَّةٍ مُنْذُ عَامِ 1987م، وَدَخَلَتْ فِي تَصْنِيفِ اليُونِسْكَو كَتَرَاثٍ عَالَمِيٍّ لِلإِنْسَانِيَّةِ سَنَةَ 1988م.

السند 5 : مَحْمِيَّةُ الهُقَارِ

ألاحظ السندات 1، 2، 3، 4، 5 وأستنتج أن ...



أدمجُ تَعَلُّمَاتِي:

■ ماهو دورك في حِمَايَةِ بَيْئَتِكَ عَلَى مَسْتَوَى مَحِيطِكَ؟

ثانياً: المُساهمةُ في حماية البيئة المحليّة

البيئةُ، هذا الوَسَطُ الطَّبِيعِيُّ الَّذِي تَعِيشُ فِيهِ وَالَّذِي لَا بَدِيلَ لَكَ عَنْهُ، مُهَدَّدٌ بِجُمْلَةٍ مِنَ الْأَخْطَارِ. فَكَيْفَ يُمَكِّنُكَ أَنْ تُسَاهِمَ فِي الْمُحَافَظَةِ عَلَيْهِ؟



السند 2: خَطْرُ الحَرَائِقِ



السند 3: تَنْظِيفُ الحَيِّ

إِذَا كَانَ المُنَاخُ وَتَقْلُبَاتُهُ هُوَ السَّبَبُ الرَّئِيسِيُّ فِي وُقُوعِ الفَيْضَانَاتِ، فَإِنَّ لِإِنْسَانَ دَوْرًا كَبِيرًا فِي تَفَاقُمِ هَذِهِ الظَّاهِرَةِ أَوْ التَّقْلِيلِ مِنْهَا مِنْ خِلَالِ سُلُوكَاتِهِ، فَالْبِنَاءُ فِي مَجَارِي الْأَوْدِيَةِ أَوْ رَمْيِ النُّفَايَاتِ خَاصَّةً الصَّلْبَةَ الَّتِي تُعْرَقُ أَنْسِيَابَ المِيَاهِ، يُؤَدِّي إِلَى حِدَّةِ خَطَرِهَا، كَمَا أَنَّ عَدَمَ قِيَامِ الفَرْدِ بِمَا يَجِبُ أَنْ يَقُومَ بِهِ مِثْلَ اللُّجُوءِ إِلَى الْأَمَاكِنِ المُرْتَفِعَةِ وَالمُعَامَرَةِ وَعَدَمِ إِعْلَامِ الغَيْرِ فِي الوَقْتِ المُنَاسِبِ مِنْ شَأْنِهِ أَنْ يُضَاعَفَ الخَسَائِرُ المُرْتَبِّتَةُ عَنْهَا.

السند 1:




السند 5 : التّشجير



السند 4 : فرز النّفايات

عِنْدَ مُغَادَرَتِكَ الْمُنْتَزَهَاتِ
يَجِبُ عَلَيْكَ أَنْ تَجْمَعَ
الْمُخْلَفَاتِ فِي كَيْسٍ، وَتَضَعَهُ
فِي الْمَكَانِ الْمُخَصَّصِ
لَهُ، لَا أَنْ تَتْرُكَهَا غَيْرَ
مُبَالٍ بِمَدَى الْخُطُورَةِ
الَّتِي سَتَلْحَقُ بِالْبِيئَةِ
نَتِيجَةً لِهَذَا التَّصَرُّفِ
الَّذِي يُؤَدِّي إِلَى تَفَاقُمِ
مُشْكِلةِ تَلْوِثِهَا.

السند 7:



السند 6 : المُحافظةُ على الآثارِ (تيديس)



الاحظ السندات 1، 2، 3، 4، 5، 6، 7، وأستنتج أن ...

أدمج تعلّماتي:

■ ماهي النصائح التي تُقدّمها لزملائك في القسم للمحافظة على البيئة.

ثالثًا أنواع المخاطر الكبرى وإجراءات الوقاية منها

تتعرّض الجزائرُ بينَ الحينِ والآخرٍ لمخاطرٍ مُتنوّعةٍ تترتّبُ عنها آثارٌ يصعبُ تجاوزُها إلا معَ مرِّ الوقتِ . فيمَ تتمثّلُ هذه الأخطارُ؟ وما سبيلُ الوقايةِ منها؟

1 - أنواع المخاطر الكبرى :

تعرّف مناطقُ شاسعةٌ من الجزائرِ جفافًا يتكرّرُ سنويًا ، ممّا أثرَ سلبيًا على الغطاءِ النباتيِّ ، فاسحًا المجالَ لزحفِ رمالِ الصحراءِ ومُؤدّيًا إلى اشتدادِ ظاهرةِ انجرافِ التربةِ، وما تلحقه هذه الظاهرةُ من انجرافٍ للقشرةِ الترابيةِ الخصبَةِ ورَدَمِ السُدودِ بكميّاتٍ كبيرةٍ من الطميِّ، مُنقصةً بذلكَ من قدرتها على تخزينِ المياهِ .



السند 1 : زلزال بومرداس سنة 2003 م


السند 2:



السند 4 : غزو الجراد



السند 3 : فيضانات باب الوادي سنة 2001



السند 6 : زحف العمران على الأراضي الزراعية



السند 5 : حرائق الغابات

يُعدُّ التَّخْلُصُ مِنْ مُخْتَلَفِ أَنْوَاعِ النُّفَايَاتِ (صَلْبَةً، سَائِلَةً، غَازِيَةً) بِطَرِيقَةِ عَشَوَائِيَّةٍ مِنَ الْكَوَارِثِ الْبَيْئِيَّةِ، وَالَّتِي يُعَدُّ الْإِنْسَانُ مُتَسَبِّبًا فِيهَا، إِذْ يَنْجُمُ عَنْهَا تَلَوُّثُ الْمَاءِ وَالْهَوَاءِ وَالتُّرْبَةِ. فَالْجَزَائِرُ تُنتِجُ سَنَوِيًّا 12 مِلْيُونَ طُنٍّ مِنْ مُخْتَلَفِ أَنْوَاعِ النُّفَايَاتِ وَلَا يُرْسَكُلُ مِنْهَا إِلَّا 10٪ فَقَطْ. كَمَا أَنَّ إِقَامَةَ الْمَصَانِعِ فِي التَّجْمَعَاتِ السَّكْنِيَّةِ يَنْطَوِي عَلَى مَخَاطِرَ جَمَّةٍ تَتَمَثَّلُ خُصُوصًا فِي حُدُوثِ الْحَرَائِقِ الصَّنَاعِيَّةِ الَّتِي تَنْجُرُّ عَنْهَا عَوَاقِبٌ وَخِيَمَةٌ بَشَرِيًّا وَمَادِيًّا وَبَيْئِيًّا.

السند: 7

ألاحظ السندات 1، 2، 3، 4، 5، 6، 7 وأستنتج أن ...



أقومُ تَعَلُّمَاتِي:

■ أنجز جدولاً يتضمَّن الأخطار الطبيعيَّة التي تُهدِّد الجزائر .

2 - الإجراءَاتُ الوَقَائِيَّةُ :

- إذا تَمَّتْ تَوْعِيَةُ المُوَاطِنِ بِأَهْمِيَّةِ الغَابَةِ فِي رَاحَتِهِ وَعَلَى صِحَّتِهِ وَأَقْتِصَادِهِ، فَإِنَّهُ يَفْتَنِعُ بـ :
- وَقَائِيَّتَهَا مِنَ الحَرَائِقِ بِوَضْعِ بَرَامِجٍ تَهْدِفُ إِلَى تَوْجِيهِ وَإِرْشَادِ المُوَاطِنِ بِضَرُورَةٍ حِمَائِيَّتَهَا . .
- إِقَامَةَ مَرَاكِزِ طَوَارِيءٍ لِإِدَارَةِ عَمَلِيَّاتِ مُكَافَحَةِ الحَرَائِقِ تَكُونُ مُجَهَّزَةً بِوَسَائِلٍ مُتَطَوِّرَةٍ .
- عَدَمَ إِقَامَةِ أَحْيَاءٍ سَكْنِيَّةٍ مُلَاصِقَةٍ لِلغَابَاتِ، لِلتَّخْفِيفِ مِنْ خَسَائِرِ الحَرَائِقِ فِي حَالِ وَقُوعِهَا .
- إِقَامَةَ مَسَالِكٍ عَبْرَ الغَابَاتِ تَسْمَحُ بِتَنْقُلِ فِرَقِ الإِطْفَاءِ وَتَمْنَعُ مِنْ انْتِقَالِ النِّيرانِ بَيْنَ مُخْتَلَفِ أَجْزَاءِ الغَابَةِ .

السند: 1

الجَزَائِرُ هِيَ إِحْدَى الدُّوَلِ الَّتِي عَرَفَتْ العَدِيدَ مِنَ الزَّلَازِلِ ، خَلَفَتْ خَسَائِرَ مَادِيَّةٍ وَبَشَرِيَّةٍ كُبْرَى ، وَلِذَلِكَ وَجَبَ : ● تَجَنُّبُ البِنَاءِ فِي المَنَاطِقِ المُعْرَضَةِ لِلزَّلَازِلِ . إِدْخَالُ التَّقْنِيَّاتِ الحَدِيثَةِ فِي البِنَاءِ المُضَادِّ لِلزَّلَازِلِ .

السند: 2



السند 3 : مُقَاوِمَةُ زَحْفِ الرَّمَالِ



السند 5 : تَنْظِيفُ قَنَوَاتِ الصَّرْفِ



السند 4 : السُّدُودُ



السند 6 : السُّدُّ الأَخْضَرُ

فِي 22 دِيسَمْبَرِ 2016 عُقِدَ بِمَدِينَةِ سَطِيفِ مُلْتَقَى جِهْوِيَا حَوْلَ المَخَاطِرِ الكُبْرَى وَالْكَوَارِثِ الطَّبِيعِيَّةِ، وَهُوَ مَا يَعْكِسُ اِهْتِمَامَ الْجَزَائِرِ بِالْجَانِبِ الْوَقَائِيِّ لِمُوَاجَهَةِ الأَخْطَارِ قَبْلَ وَقُوعِهَا.

السند 7:

أَلْحَظِ السِّنْدَاتِ 1، 2، 3، 4، 5، 6، 7 وَأَسْتَنْجِ أَنْ ...



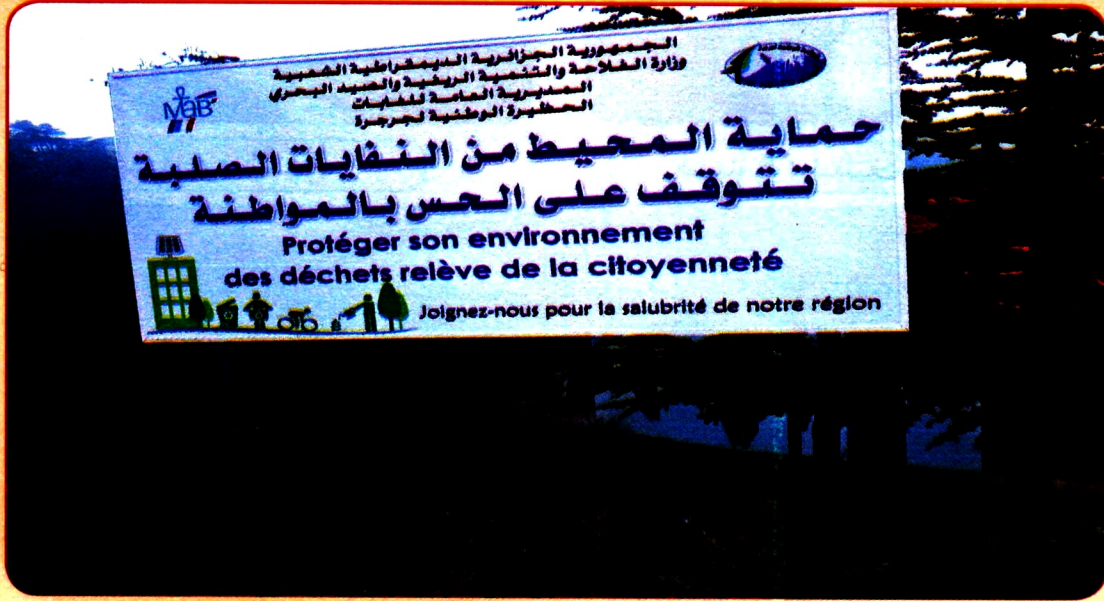
أُدْمِجْ تَعْلَمَاتِي:

■ مَا هِيَ التَّصَرُّفَاتِ السَّلِيمَةِ الَّتِي يَجِبُ عَلَيْكَ الْقِيَامُ بِهَا عِنْدَ حُدُوثِ الزَّلْزَالِ؟

أُدْمِجْ تَعَلُّمَاتِي

النَّشَاطُ رَقْم 1 :

- تَتَضَمَّنُ هَذِهِ اللَّافِتَةُ شِعَارًا لِلْمُحَافَظَةِ عَلَى الْبِيئَةِ .
اِقْتَرِحْ (3) شِعَارَاتٍ أُخْرَى مُمَاطِلَةً لِلْمُحَافَظَةِ عَلَى الْبِيئَةِ .



النَّشَاطُ رَقْم 2 :

- الْجَدْوَلُ التَّالِي لِبَعْضِ الْأَيَّامِ الْعَالَمِيَّةِ الْخَاصَّةِ بِالْبِيئَةِ . اِخْتَرْ وَاحِدًا مِنْهَا تَرَاهُ يَتَنَاسَبُ مَعَ الْبِيئَةِ الَّتِي تَعِيشُ فِيهَا، وَحَرِّزْ فِقْرَةَ حَوْلَهُ .

اليوم العالمي للشجرة	21 مارس
اليوم العالمي للمياه	22 مارس
اليوم العالمي للبيئة	5 جوان
اليوم العالمي للكوارث	13 أكتوبر
اليوم العالمي لمكافحة الجفاف والتصحّر	17 جوان
اليوم العالمي للتربة	5 ديسمبر

النَّشَاطُ رَقْم 3 :

- اذْكَرْ ثَلَاثَ مَحَمِّيَّاتٍ طَبِيعِيَّةٍ فِي الْجَزَائِرِ .

أَقُومُ تَعَلُّمَاتِي

النشاط رقم 1 :

■ بَعْدَ مَعْرِفَتِكَ بِأَهْمِيَةِ الْآثَارِ فِي الْمُحَافَظَةِ عَلَى الْمَوْرُوثِ التَّارِيخِيِّ . أَنْجِزْ جِدَارِيَّةً تَنْصَحُ مِنْ خِلَالِهَا زُمَلَاءَكَ بِأَهْمِيَةِ حِمَايَةِ الْمَوَاقِعِ الْأَثَرِيَّةِ خُصُوصًا وَ أَنَّ مَدْرَسَتَكُمْ تَسْتَعِدُّ لِلْقِيَامِ بِرِحْلَةٍ إِلَى مَوْقِعٍ أَثَرِيٍّ .

النشاط رقم 2 :

■ بِمُنَاسَبَةِ الْإِحْتِفَالِ بِالْيَوْمِ الْعَالَمِيِّ لِمُكَافَحَةِ التَّصَحُّرِ وَالْجَفَافِ ، قَدِّمِ لِرُؤَسَائِكَ فِي الْقِسْمِ عَرْضًا يَتَضَمَّنُ نَصَائِحَ حَوْلَ التَّقْلِيلِ مِنْ آثَارِ هَاتَيْنِ الظَّاهِرَتَيْنِ .

النشاط رقم 3 :

■ وَضِّحْ دَوْرَ السُّدُودِ ، التَّشْجِيرِ ، وَالْحَوَاجِزِ الصَّخْرِيَّةِ فِي الْمُحَافَظَةِ عَلَى الْبِيئَةِ .

موقع عيون البصائر التعليمي

<https://www.facebook.com/bassair/>

عيون البصائر موقع تعليمي مجاني تحميل مباشر للمواضيع (دروس، اختبارات، بكالوريا BAC الخ

لنشر مواضيعكم راسلونا على العنوان التالي elbassair13@gmail.com

جميع الحقوق محفوظة لموقع عيون البصائر التعليمي © 2017



موقع عيون البصائر التعليمي

elbassair.net



<https://www.facebook.com/bassair/>

elbassair13@gmail.com

لنشر مواضيعكم راسلونا على العنوان التالي

جميع الحقوق محفوظة لموقع عيون البصائر التعليمي © 2017



elbassair.net

الجمهورية الجزائرية الديمقراطية الشعبية



elbassair.net

موقع عيون البصائر التعليمي

Elbassair.net

الفيسبوك

عيون البصائر التعليمية

<https://www.facebook.com/bassair/>

elbassair.net

elbassair13@gmail.com

قليل من العلم مع العمل به أنفع من كثير من العلم مع قلة العمل به