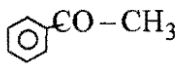
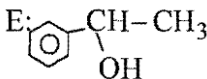
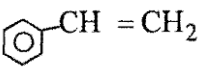
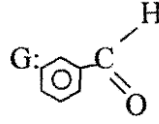
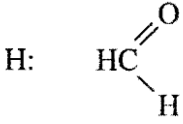
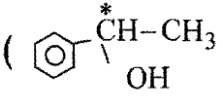
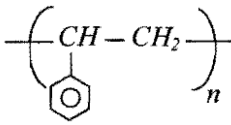
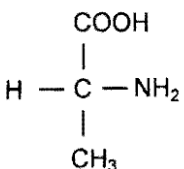
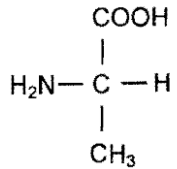


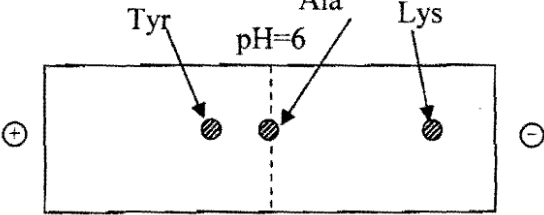
العلامة		عناصر الإجابة	المحاور
مجزأة	مجا		
		<p>التمرين الأول: (07 نقاط)</p> <p>(1) أ- صيغ المركبات الكيميائية</p> <p>A': <math>\text{CH}_2=\text{CH}-\text{OH}</math>      A: <math>\text{CH}_3-\text{C} \begin{array}{l} \text{O} \\ \parallel \\ \text{H} \end{array}</math></p> <p>B: <math>\text{CH}_3-\text{CH}_2-\text{CH}_2-\underset{\text{CH}_3}{\text{CH}}-\text{OMgCl}</math>      C: <math>\text{CH}_3-\text{CH}_2-\text{CH}_2-\underset{\text{OH}}{\text{CH}}-\text{CH}_3</math></p> <p>D: <math>\text{CH}_3\text{COOH}</math>      E: <math>\text{CH}_3\text{C} \begin{array}{l} \text{O} \\ \parallel \\ \text{O} \end{array}-\underset{\text{CH}_3}{\text{CH}}-\text{CH}_2-\text{CH}_2-\text{CH}_3</math></p> <p>F: <math>\text{CH}_3-\text{CH}_2-\text{CH}_2-\underset{\text{Cl}}{\text{CH}}-\text{CH}_3</math>      G: <math>\text{H}_3\text{C}-\overset{\text{CH}_3}{\underset{\text{CH}_3}{\text{N}^+}}-\text{CH} \begin{array}{l} \text{CH}_3 \\ \text{Cl}^- \\ \text{CH}-\text{CH}_2-\text{CH}_2-\text{CH}_3 \\ \text{CH}_3 \end{array}</math></p>	
2×0,5			
6×0,5			
0,25			ب- اسم التفاعل (5) هو تفاعل الأسترة.
0,25			خصائصه: بطيء، عكوس، محدود، لا حراري.
			ج- تفاعل F مع البنزين في وجود $\text{AlCl}_3$ (الكلية):
0,5		$\text{C}_6\text{H}_6 + \text{CH}_3-\text{CH}_2-\text{CH}_2-\underset{\text{CH}_3}{\text{CH}}-\text{Cl} \xrightarrow{\text{AlCl}_3} \text{C}_6\text{H}_5-\underset{\text{CH}_3}{\text{CH}}-\text{CH}_2-\text{CH}_2-\text{CH}_3 + \text{HCl}$	
			د- إكمال للتفاعل:
0,5		$\text{CH}_3-\text{C} \begin{array}{l} \text{O} \\ \parallel \\ \text{H} \end{array} \xrightarrow[\text{HCl مركز, } \Delta]{\text{Zn}} \text{CH}_3-\text{CH}_3 + \text{H}_2\text{O}$	هـ- طريقة تحضير حمض الإيثانويك (D):
0,5		$\text{CH}_3-\text{MgBr} + \text{O}=\text{C}=\text{O} \longrightarrow \text{CH}_3-\text{C} \begin{array}{l} \text{O} \\ \parallel \\ \text{O} \end{array}-\text{MgBr}$	
		$\text{CH}_3-\text{C} \begin{array}{l} \text{O} \\ \parallel \\ \text{O} \end{array}-\text{MgBr} + \text{H}-\text{OH} \longrightarrow \text{CH}_3-\text{C} \begin{array}{l} \text{O} \\ \parallel \\ \text{O} \end{array}-\text{OH} + \text{MgBr}(\text{OH})$ <p>حمض الإيثانويك D</p>	
0,5		<p>(2) أ- صيغة المركب H: <math>\text{CH}_2=\underset{\text{CN}}{\text{CH}}</math></p> <p>ب- الصيغة العامة للمركب I:</p>	
0,5		$\left( \underset{\text{CN}}{\text{CH}}-\text{CH}_2 \right)_n$	ج- نوع البلمرة: بلمرة الضم.

العلامة		عناصر الإجابة	المحاور
مجموع	مجزأة		
02	0,5 0,5 0,5 0,5	<p>التمرين الثاني: (07 نقاط)</p> <p>1.I - الفرق بين اختبار بيوري واختبار كزانتوبروتيك:                      - اختبار بيوري يكشف عن الروابط البيبتيدية في متعدد الببتيد أو في البروتين.                      - أما اختبار كزانتوبروتيك فيكشف عن وجود الأحماض الأمينية الأروماتية.                      ب- الرابطة (a): تمثل رابطة بيبتيدية.                      الرابطة (b): تمثل جسر كبريتي.</p>	
02	4×0,25	<p>2 - تصنيف الأحماض الأمينية:                      حمض أميني خطي بسيط: Leu                      حمض أميني حلقي إميني: Pro                      حمض أميني حلقي أروماتي: Tyr                      حمض أميني خطي كبريتي: Cys                      ب- الصيغة نصف المفصلة للمقطع:</p>	
	4×0,25	<p>...-NH-CH-CO-NH-CH-CO-N- CO-NH-CH-CO-...</p> <p style="text-align: center;"> </p>	
02	4×0,5	<p>1.II صيغ المركبات:                      A:  H-N-H                      B: HOOC-CH=CH-COOH                      C:  H<sub>2</sub>N-CH(CH<sub>3</sub>)-C(=O)OH                      D: H<sub>2</sub>N-CH<sub>2</sub>-COOH</p>	
01	0,25 0,25 0,25 0,25	<p>2 تصنيف الإنزيمات:                      E<sub>1</sub> : من الإنزيمات النازعة                      E<sub>2</sub> : من أنزيمات الأكسدة والإرجاع                      E<sub>3</sub> : من أنزيمات التحلل المائي (هيدرولاز)                      E<sub>4</sub> : من أنزيمات التماكب ( ايزوميراز )</p>	

العلامة		عناصر الإجابة	المحاور
مجموع	مجزأة		
		<p>التمرين الثالث: (06 نقاط)</p> <p>1- حساب <math>\Delta H_r</math> عند 650 K</p> <p>نكتب قانون كرشوف حيث:</p>	
	0,25	$\Delta H_T^0 = \Delta H_{T_0}^0 + \int_{T_0}^T \Delta C_p dT$	
	0,5	$\Delta H_{650}^0 = \Delta H_{298}^0 + \int_{298}^{650} (C_p(CCl_4) + 4C_p(HCl) - 4C_p(Cl_2) - C_p(CH_4))dT$	
	0,25	$\Delta H_{650}^0 = -401,08.10^3 + [(83,51) + 4(29,12) - 4(33,93) - (35,71)](650 - 298)$	
02		$\Delta H_{650}^0 = -401,08.10^3 + (199,99 - 171,43)(352)$	
		$\Delta H_{650}^0 = -401,08.10^3 + 10053,12$	
		$\Delta H_{650}^0 = -401,08.10^3 + 10,05312.10^3$	
	0,25	$\Delta H_{650}^0 = -391,026.10^3 J.mol^{-1}$	
	0,75	$\Delta H_{650}^0 = -391,026 kJ.mol^{-1}$	
		2- أنطالبي تشكل $CCl_4$ :	
0,75	0,25		
	0,5	$\Delta H_f^0(CCl_4) + 4\Delta H_f^0(HCl) - \Delta H_f^0(CH_4) - 4\Delta H_f^0(Cl_2) = -401,08 kJ.mol^{-1}$ $\Delta H_f^0(CCl_4) = -401,08 - 4(-92,3) + (-74,6) + 4(0)$ $\Delta H_f^0(CCl_4) = -401,08 + 369,2 - 74,6$ $\Delta H_f^0(CCl_4) = -106,46 kJ.mol^{-1}$	
		3- طاقة الرابطة $E_{C-Cl}$	
	0,25	نحقق الدورة الترموديناميكية التالية:	
	0,25	$C(s) + 2Cl_2(g) \xrightarrow{\Delta H_f^0 CCl_4} CCl_4(g)$	
1,5	0,25		حيث:
	0,25	$\Delta H_{sub}^0(C)_{(s)} + 2\Delta H_{dis}^0(Cl-Cl) + 4E_{C-Cl} = \Delta H_f^0(CCl_4)_g$	
	0,25	$716,7 + 2(242,6) + 4E_{C-Cl} = -106,46$	
	0,25	$E_{C-Cl} = -\left(\frac{106,46 + 716,7 + 485,2}{4}\right)$	
		$E_{C-Cl} = -327,09 kJ.mol^{-1}$	

العلامة		عناصر الإجابة	المحاور
مجموع	مجزأة		
1,75	0,5	4 - أنطالبي تشكل الكلوروفورم نحقق الدورة الترموديناميكية التالية:	
	0,5	$C_{(s)} + 1,5Cl_{2(g)} + 0,5H_{2(g)} \xrightarrow{\Delta H_f(CHCl_3)} CHCl_{3(l)}$	
	0,25	$C_{(g)} + 3Cl_{(g)} + H_{(g)} \xrightarrow{3E_{(C-Cl)} - \Delta H_{(C-H)}} CHCl_{3(g)}$	
	0,5	$\Delta H_f^0(CHCl_3)_{(l)} = 716,7 + 1,5(242,6) + 0,5(432) - 30,4 + 3(-327,09) - 415$ $\Delta H_f^0(CHCl_3)_{(l)} = 716,7 + 363,9 + 216 - 30,4 - 981,27 - 415$ $\Delta H_f^0(CHCl_3)_{(l)} = -130,07kJ.mol^{-1}$	

العلامة		عناصر الإجابة (الموضوع الثاني)	المحاور
مجموع	مجزأة		
04,5	0,5×2	A: CH <sub>3</sub> -CH <sub>2</sub> OH	<p><b>التمرين الأول: ( 07 نقاط)</b></p> <p>(1) أ) صيغ المركبات:</p> <p>B: CH<sub>3</sub>COOH</p> <p>C: CH<sub>3</sub>-COCl</p> <p>D: </p> <p>E: </p> <p>F: </p> <p>G: </p> <p>H: </p> <p>(ب) المركب الفعال ضوئيا هو المركب E (  )</p> <p>(2) أ) صيغة المركب I:</p> <p></p> <p>(ب) نوع البلمرة: بلمرة بالضم.</p> <p>(ج) أهم استخدامات البولي ستيران (F):</p> <ul style="list-style-type: none"> <li>- عازل للصوت.</li> <li>- عازل للحرارة.</li> <li>- مضاد للصدمات (حفظ الأجهزة والوسائل أثناء النقل).</li> <li>- صناعة بعض الوسائل (لعب، قوالب، الخ ...).</li> </ul>
	0,5×2		
	0,5×2		
	0,5×2		
	0,5		
	0,5		
	01		
	0,25		
	0,25		
	0,25		
0,25			
02	2×0,5	<p><b>التمرين الثاني: ( 07 نقاط)</b></p> <p>(1) أ- تمثيل الألانين في الصورتين D و L:</p> <p></p> <p></p> <p>D - ألانين</p> <p>L ألانين</p> <p>ب- تصنيف الحمضين الأمينيين Tyr و Lys .</p> <p>الليزين (Lys) حمض أميني خطي قاعدي .</p> <p>التروزين (Tyr) حمض أميني حلقي أروماتي.</p>	
	0,5		
	0,5		

العلامة		عناصر الإجابة	المحاور
مجموع	مجزأة		
1,25	4×0,25	<p>(2) أ- كتابة صيغة رباعي الببتيد : Tyr-Gly-Ala-Lys</p> $\text{H}_2\text{N}-\underset{\substack{  \\ \text{CH}_2 \\   \\ \text{C}_6\text{H}_4 \\   \\ \text{OH}}}{\text{CH}}-\overset{\text{O}}{\parallel}{\text{C}}-\text{NH}-\text{CH}_2-\overset{\text{O}}{\parallel}{\text{C}}-\text{NH}-\underset{\substack{  \\ \text{CH}_3}}{\text{CH}}-\overset{\text{O}}{\parallel}{\text{C}}-\text{NH}-\underset{\substack{  \\ (\text{CH}_2)_4 \\   \\ \text{NH}_2}}{\text{CH}}-\text{COOH}$	
	0,25	<p>ب- نعم يعطي هذا الببتيد نتيجة إيجابية مع كاشف كزانتو بروتينيك لأنه يحتوي على حمض أميني أروماتي هو التيروسين.</p> <p>(3) أ- موقع الأحماض الأمينية Tyr، Ala، Lys في جهاز الهجرة الكهربائية عند <math>\text{pH}=6</math></p>	
03	0,5		
	0,5	<p>ب- الصيغة الكيميائية للألانين عند <math>\text{pH}=6</math></p> $\text{H}_3\text{N}^+-\underset{\substack{  \\ \text{CH}_3}}{\text{CH}}-\text{COO}^-$ <p><math>\text{pH} = \text{pH}_i = 6</math></p>	
	0,5	<p>الصيغة الكيميائية للثروزين عند <math>\text{pH}=6</math></p> $\text{H}_2\text{N}-\underset{\substack{  \\ \text{CH}_2 \\   \\ \text{C}_6\text{H}_4 \\   \\ \text{OH}}}{\text{CH}}-\text{COO}^-$ <p><math>\text{pH} &gt; \text{pH}_i</math></p>	
	0,5	<p>ج- الصيغة الكيميائية لليزين عند <math>\text{pH} = \text{pH}_i = 9,7</math></p> $\text{H}_3\text{N}^+-\underset{\substack{  \\ (\text{CH}_2)_4 \\   \\ \text{C}_6\text{H}_4 \\   \\ \text{NH}_2}}{\text{CH}}-\text{COO}^-$ <p><math>\text{pH} = \text{pH}_i</math></p>	
0,5	<p>الصيغة الكيميائية لليزين عند <math>\text{pH} = 1</math></p> $\text{H}_3\text{N}^+-\underset{\substack{  \\ (\text{CH}_2)_4 \\   \\ \text{C}_6\text{H}_4 \\   \\ \text{NH}_3^+}}{\text{CH}}-\text{COH}$ <p>وسط حمضي قوي</p>		

العلامة		عناصر الإجابة	المحاور
مجموع	مجزأة		
0,75	2×0,25 0,25	<p>(4) أ- التفاعل الإنزيمي</p> $\text{H}_2\text{N}-\underset{\text{CH}_3}{\text{CH}}-\text{COOH} \xrightarrow{\text{ديكربوكسيلاز}} \text{CH}_3-\text{CH}_2-\text{NH}_2 + \text{CO}_2$ <p>ب- ينتمي إنزيم الديكربوكسيلاز إلى صنف الإنزيمات النازعة</p>	
2,25	4×0,25 0,5 0,75	<p><b>التمرين الثالث: (06 نقاط)</b></p> <p>(1) حساب أنطالبي تشكل الأوكتان <math>\Delta H_f^\circ (C_8H_{18})_{(g)}</math> لدينا :</p> $8\Delta H_{sub}^\circ C_{(s)} + 9\Delta H_{dis}^\circ (H-H) + 7E(C-C) + 18E(C-H) = \Delta H_f^\circ (C_8H_{18})$ $\Delta H_f^\circ (C_8H_{18})_{(g)} = 8(716,7) + 9(436) + 7(-345) + 18(-415)$ $\Delta H_f^\circ (C_8H_{18}) = 9657,6 - 9885$ $\Delta H_f^\circ (C_8H_{18})_{(g)} = -227,4 \text{ kJ.mol}^{-1}$	
1,5	0,75 0,75	<p>(2) حساب <math>\Delta H_{comb}^\circ (C_8H_{18})_{(g)}</math></p> $C_8H_{18(g)} + \frac{25}{2}O_{2(g)} \rightarrow 8CO_{2(g)} + 9HO_{2(g)}$ $\Delta H_{comb}^\circ = 8\Delta H_f^\circ (CO_2)_{(g)} + 9\Delta H_f^\circ (H_2O)_{(g)} - \Delta H_f^\circ (C_8H_{18})_{(g)} - 12,5\Delta H_f^\circ (O_2)_{(g)}$ $\Delta H_{comb}^\circ = 8(-393,5) + 9(-241,83) - (-227,4) - 12,5(0)$ $\Delta H_{comb}^\circ = -5097 \text{ kJ.mol}^{-1}$	
2,25	0,75 0,75	<p>(3) حساب <math>\Delta U</math> التغير في الطاقة الداخلية عند 298K</p> $\Delta H = \Delta U + \Delta nRT$ $\Delta U = \Delta H - \Delta nRT \quad \text{ومنه :}$ <p>من معادلة الاحتراق لدينا:</p> $\Delta n = (8+9) - (1+12,5) = 3,5 \text{ moles}$ $\Delta U = -5097 \times 10^3 - 3,5 \times 8,31$ $\Delta U = -5097 \times 10^3 - 8667,33$ $\Delta U = -5097 \times 10^3 - 8,66733 \times 10^3$ $\Delta U = -5105,66733 \times 10^3 \text{ Joules}$ $\Delta U = -5105,66 \text{ KJ}$	