

الإجابة النموذجية وسلم التقييم

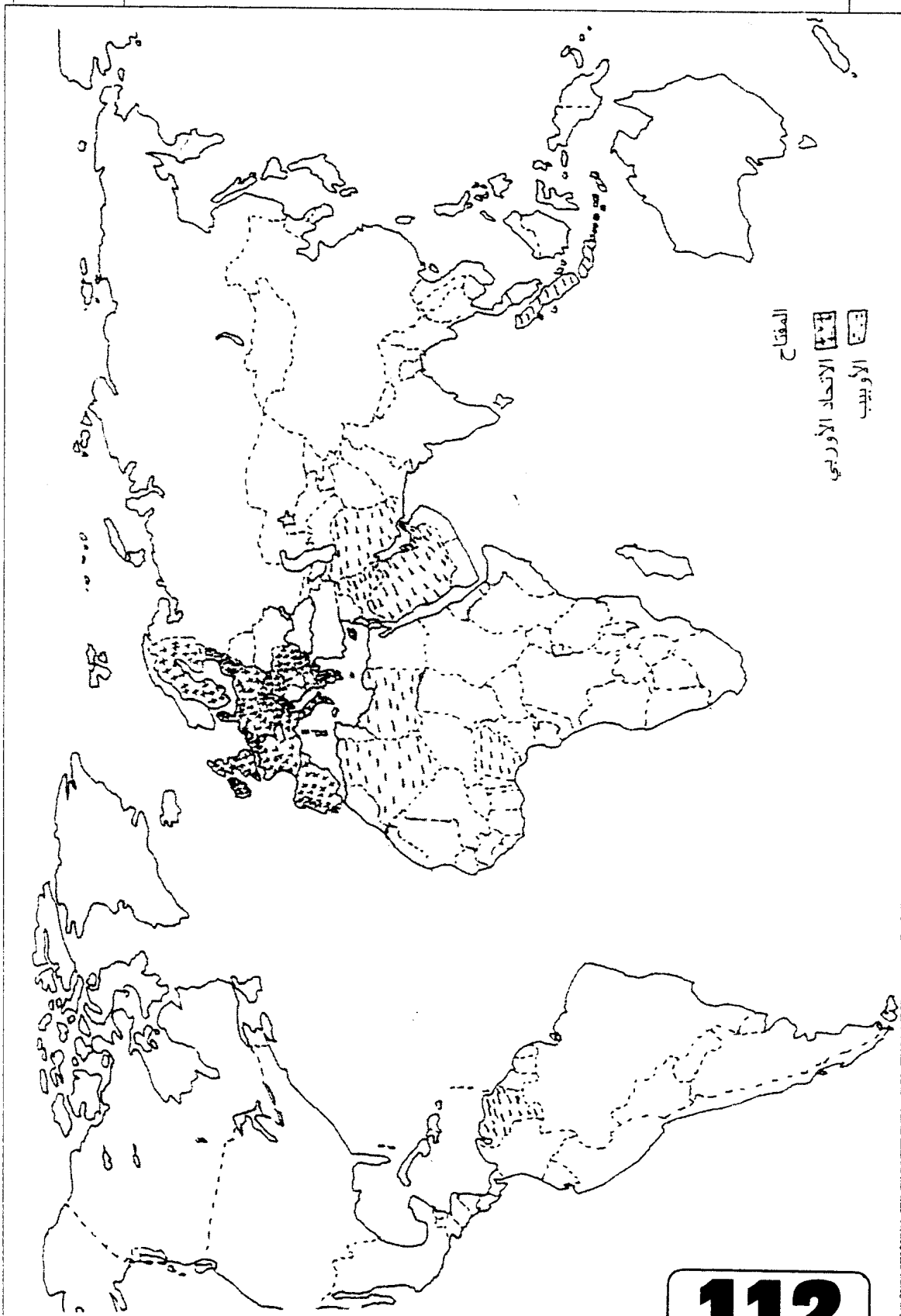
العلامة		عناصر الإجابة	محاور الموضوع
مجزأة	المجموع		
		<p>الموضوع الأول</p> <p>الجزء الأول : (06 نقاط)</p> <p>1- التعريف بالشخصيات :</p> <p>- فرحات عباس : سياسي جزائري (جماعة النخبة)، نشاطه السياسي (1927-1962)، نادى بسياسة الإدماج ثم بالجمهورية الجزائرية المرتبطة بفرنسا، انظم للثورة في سنة 1956 - أول رئيس للحكومة الجزائرية المؤقتة.</p> <p>0.5</p> <p>- مصالي الحاج : سياسي جزائري أول من نادى بالاستقلال التام لجزائر من خلال نجم شمال إفريقيا- حزب الشعب الجزائري، حركة انتصار للحريات الديمقراطية. من أكثر السياسيين تعرضا للسجن والنفي والإقامة الجبرية.</p> <p>0.5</p> <p>2- شرح ما تحته خط :</p> <p>- برنامج متحررا : برنامج الإصلاح الذي أعلن عنه ديغول بقسنطينة 1943 وجسد في قرار 7 مارس 1944.</p> <p>1</p> <p>- برنامج فيوليت : برنامج إصلاحي ينسب إلى موريس فيوليت في عهد حكومة الجبهة الشعبية الفرنسية وقد قوبل بالرفض.</p> <p>1</p> <p>- اعتقالات : تلك الأساليب الفرنسية المتمثلة في السجن، الإقامة الجبرية - النفي...</p> <p>1</p> <p>- رجال اليمين : هم جماعة النخبة الذين طالبوا بالإصلاحات في ظل الشرعية الفرنسية.</p> <p>1</p> <p>- رجال اليسار : التيار الاستقلالي (حزب الشعب الجزائري) المطالب والتمسك بالاستقلال.</p> <p>1</p>	06
		<p>الجزء الثاني : (04 نقاط)</p> <p>- علاقة مالطا بنهاية الحرب الباردة أو</p> <p>- التعريف بلقاء مالطا</p> <p>0.5</p> <p>1- أهداف الاتفاق :</p> <p>- تجنب قيام حرب نووية.</p> <p>0.5</p> <p>- إنهاء صراع الحرب الباردة</p> <p>0.5</p>	المقدمة :

تابع الإجابة اختبار مادة : التاريخ والجغرافيا .. الشعبة : التسيير والاقتصاد

العلامة		عناصر الإجابة	محاوَر الموضوع
المجموع	مجزأة		
04	0.5 0.5 0.5 0.5 0.5	<p>2- انعكاساته على العلاقات الدولية :</p> <ul style="list-style-type: none"> - قيام الوحدة الألمانية - حل المنظمات الاقتصادية والعسكرية للاتحاد السوفياتي (الكوميكون - حلف وارسو) - انهيار المعسكر الشيوعي - انفراد المعسكر الغربي بزعامه اليوم، بقيادة العالم. <p>الدبلوماسية الرأسمالية أطاحت بالاشتراكية واستراتيجيتها.</p>	الخاتمة :
06	1 1 1 1 0.25 0.75×2 0.25	<p>الجغرافيا :</p> <p>الجزء الأول : (06 نقاط)</p> <p>1- شرح المفاهيم :</p> <ul style="list-style-type: none"> - الدول المتخلفة : هي مجموع دول إفريقيا، آسيا ، أمريكا اللاتينية التي خضعت للاستعمار المباشر وغير المباشر واستقلت حديثا، تعرف بدول العالم الثالث - الدول النامية - الدول السائرة في طريق النمو - دول عالم الجنوب، تتميز بعدم مواكبة التطور الحاصل في عالم الشمال. - الدول الصناعية : الدول المتقدمة اقتصاديا وتكنولوجيا، والقطاع الصناعي يغلب على اقتصادها وفي مقدمتها مجموعة الثمانية. - الكتل الاقتصادية : هي التجمعات ذات الطابع الاقتصادي، القارية، الجهوية، الإقليمية والعالمية، هدفها التعاون وتقوية الروابط فيما بينها بانتهاج السياسات الموحدة. - التعاون : مبدأ هام في بناء العلاقات الدولية تنص عليه المواثيق والمعاهدات الأممية والأعراف غايته نبذ الصراع والخلاف والاستغلال وتحقيق التآزر والتضامن بين الشعوب والدول. <p>2- تلوين الدول المشكلة لـ :</p> <ul style="list-style-type: none"> - الاتحاد الأوروبي - منظمة الأوبسب. ○ العنوان ○ التوقيع ○ المفتاح 	
	0.5 0.25 0.25 0.25 0.25	<p>الجزء الثاني : (04 نقاط)</p> <p>وثيقة جغرافية تتضمن نسبة مساهمة بعض الدول من العالمين المتقدم والمتخلف في مجال التجارة الدولية لسنة 2005.</p> <p>1- التباين في نسبة المساهمة في التجارة الدولية بين المجموعتين :</p> <ul style="list-style-type: none"> - مجموعة الدول المتقدمة (الو.م.أ ، اليابان، فرنسا، كوريا ج) نسبة 26,07% تفوقهم الو.م.أ بنسبة 13,45% . - مجموعة الدول المتخلفة (مصر، مالي) بنسبة 0,14% ويعود هذا التباين إلى ○ سيطرة العالم المتقدم على أسواق التجارة العالمية. ○ حاجيات العالم المتخلف للموارد الضرورية الزراعية والصناعية. 	المقدمة :

العلامة		عناصر الإجابة	محاور الموضوع
المجموع	مجزأة		
04	0.25	<p>○ الاعتماد الكلي لأسواق عالم الجنوب على منتوجات عالم الشمال لأسباب التاريخية.</p> <p>2- التباين في نسبة صادرات المواد الأولية :</p> <p>- مجموعة الدول المتقدمة (الو.م.أ ، اليابان، فرنسا) مساهمة المواد الأولية في صادرات كل دولة ضعيفة تمثلها فرنسا بنسبة 17 % من مجموع صادراتها وأدناها اليابان بنسبة 03 % من مجموع صادراته.</p> <p>- مجموعة الدول المتخلفة (مصر، مالي) تمثل بنسبة عالية في صادرات مواردها الأولية مصر 63 % . مالي 59 % ويعود ذلك إلى :</p> <p>* العالم المتقدم:</p> <p>- فقير من حيث الموارد الأولية هذا من جهة وللحفاظ على موارده الأولية كاحتياطي أو استغلال محلي من جهة ثانية.</p> <p>* العالم المتخلف :</p> <p>- يمثل نسبة عالية من مجموع صادراته كمادة خام نظرا لضعف الامكانيات وعدم وجود صناعات تحويلية وارتباط المواد الأولية بالرأسمال والشركات الأجنبية.</p>	الخاتمة :
	0.25		
	0.25		
	0.25		
	01		
0.5		اختلاف في المواد المصدرة والمستوردة بين عالم الشمال والجنوب يعكس واقعا اقتصاديا غير متكافئ وتبعية عالم الجنوب للشمال المصنع.	

خريطة العالم - توقيع الاتحاد الأوربي ودول منظمة الأوبسب

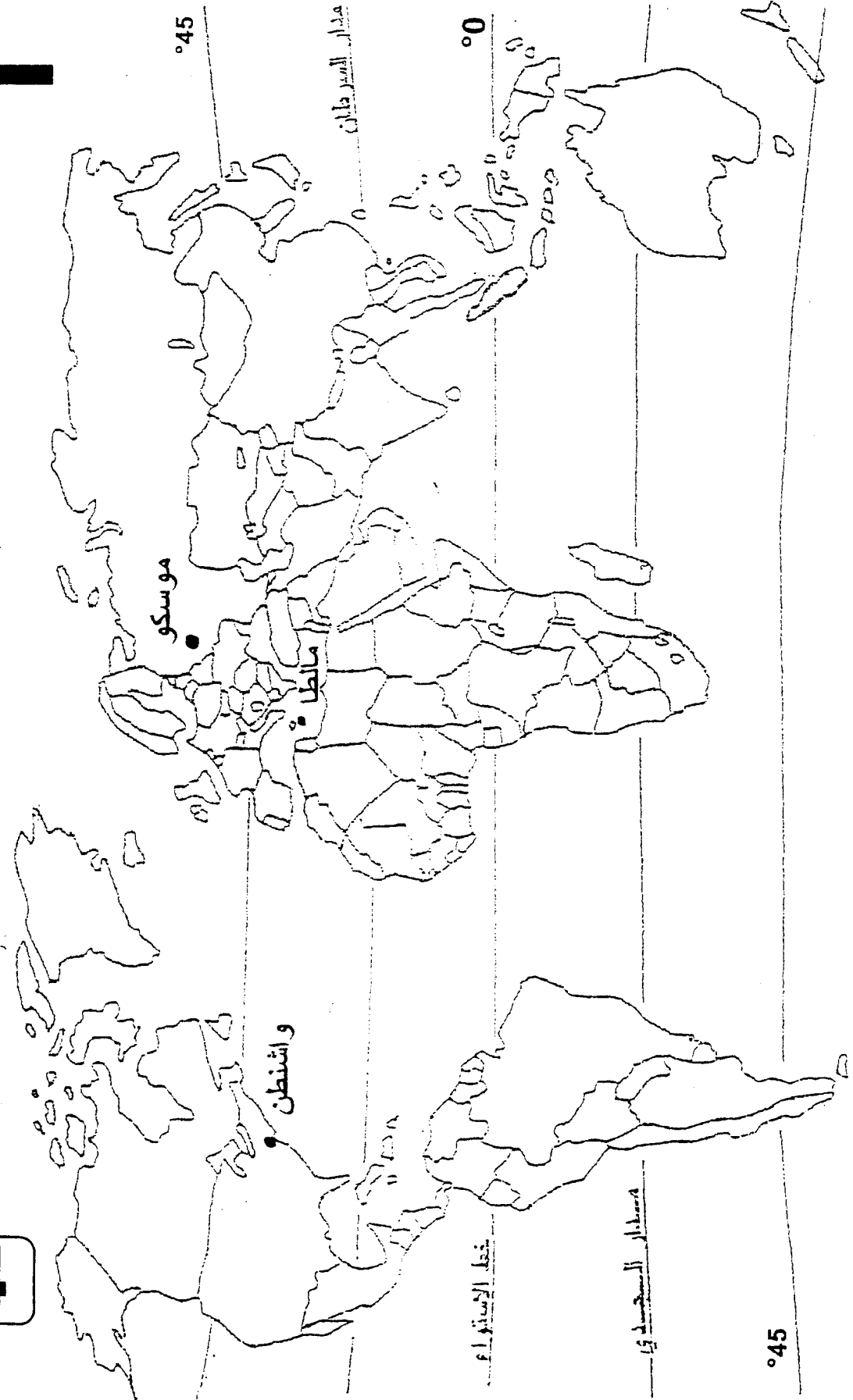


العلامة		عناصر الإجابة	محاور الموضوع
مجزأة	المجموع		
		الموضوع الثاني	
		تاريخ : الجزء الأول	
		1 - تعريف الشخصيتين:	
06	1.50	- غورباتشوف : رئيس الاتحاد السوفياتي بين 1985-1989 عرف بإصلاحات الغلاسنوست والبريسترويكا، في عهده تفكك الاتحاد السوفياتي وبدأ انهيار المعسكر الشيوعي، استقال من الحزب الشيوعي في 1991.	
	1.50	- ريغن: رئيس الولايات المتحدة 1981-1989، عرف بمعاداته للشيوعية، وعرف بحرب النجوم للتفوق على التسليح النووي السوفياتي.	
	1.50	2 - مفهوم الحرب الباردة: صراع إيديولوجي عقائدي بين المعسكرين، استخدمت فيه جميع الوسائل ما عدا السلاح لتحقيق مكاسب مادية أو معنوية.	
	1.50	3 - التبعين على الخريطة: واشنطن، موسكو، مانطا	
		الجزء الثاني	
	0.50	تصاعد المد التحرري في الهند الصينية والمغرب العربي	المقدمة
	0.50	1 - عوامل انتصار الحركة التحررية في الهند الصينية :- الدعم الشيوعي	
	0.50	- ضعف وتراجع الاستعمار التقليدي	العرض
04	0.25	- نجاح الثورة الشيوعية في الصين	
	0..25	- التنظيم المحكم للحركة التحررية .	
	0.25	2 - الظروف الخارجية لقيام الثورة التحريرية :- تأثير صراع الحرب الباردة،	
	0.50	- نجاح الثورة المصرية .	
	0.25	- اندلاع ثورتين تونس والمغرب .	
	0.50	- انهزام القوات الفرنسية في الهند الصينية .	الخاتمة
	0.50	رغم الوسائل المسخرة إلا أن الاستعمار الفرنسي فشل في احتواء المد التحرري .	



تحديد المواقع الجغرافية

خريطة العالم



الإجابة اختبار مادة : التاريخ والجغرافيا الشعبة : التسيير والاقتصاد

العلامة		عناصر الإجابة	الموضوع
المجموع	مجزأة		
06	01	<p>الجغرافيا</p> <p><u>الجزء الأول 06 نقاط</u></p> <p>1- شرح ماتحته خط .</p> <ul style="list-style-type: none"> • استراتيجية ./ هي جملة من الإجراءات التنظيمية (خطة) تخص مجال التنمية تأخذ بعين الاعتبار كل الامكانيات المتاحة بغية الوصول إلى تحقيق الأهداف المنشودة . • التخلف : هو وضعية اقتصادية تتميز بالتأخر عن ركب الدول المتطورة في جميع المجالات ويتضح ذلك من خلال مؤشرات كثيرة . 	
	0.75	سياسية	
	0.50	اقتصادية واجتماعية	
	0.75	العالم الثالث ./ يقصد به مجموعة الدول التي استقلت حديثا ومن مرادفاته . (عالم الجنوب ، العالم المتخلف ، العالم النامي ، الدول السائرة في ضيق النمو) .	
	01	2- <u>تلوين الدول المتخلفة على خريطة العالم .</u>	
	01	- التوقيع	
0.50	- المفتاح		
0.50	- العنوان		
04	0.50	<p><u>الجزء الثاني 04 نقاط</u></p> <p>وثيقة جغرافية تبين نسب النمو الاقتصادي في شرقي آسيا .</p>	ثمة رض
	0.25	1- <u>امكانيات التكامل الاقتصادي بين دول المنطقة .</u>	
	0.25	- وفرة المواد الأولية (الطاقوية ، المعدنية ، الفلاحية)	
	0.25	- اليد العاملة المؤهلة + البسيطة .	
	0.25	- القوة التكنولوجية	
	0.25	- القوة المالية	
	0.25	- الشركات العملاقة (اليابانية والكورية)	
	0.25	- سعة السوق	
	0.25	- استراتيجية الموقع (الاعتماد على الأسطول البحري) .	
	0.50	2- <u>انعكاسات التكامل على التنمية الاقتصادية .</u>	
0.50	- تكوين قطب عالمي واعد اقتصاديا .		
0.50	- إحداث التنمية في الكثير من دول جنوب شرق آسيا .		
0.25	- إحداث توازن بين التنمية والنمو الديمغرافي		
0.50	التكامل والتكامل ركيزتان من ركائز النجاح والتفوق .	ثمة	

تابع الإجابة اختبار مادة : التاريخ والجغرافيا .الشعبة : تسيير واقتصاد

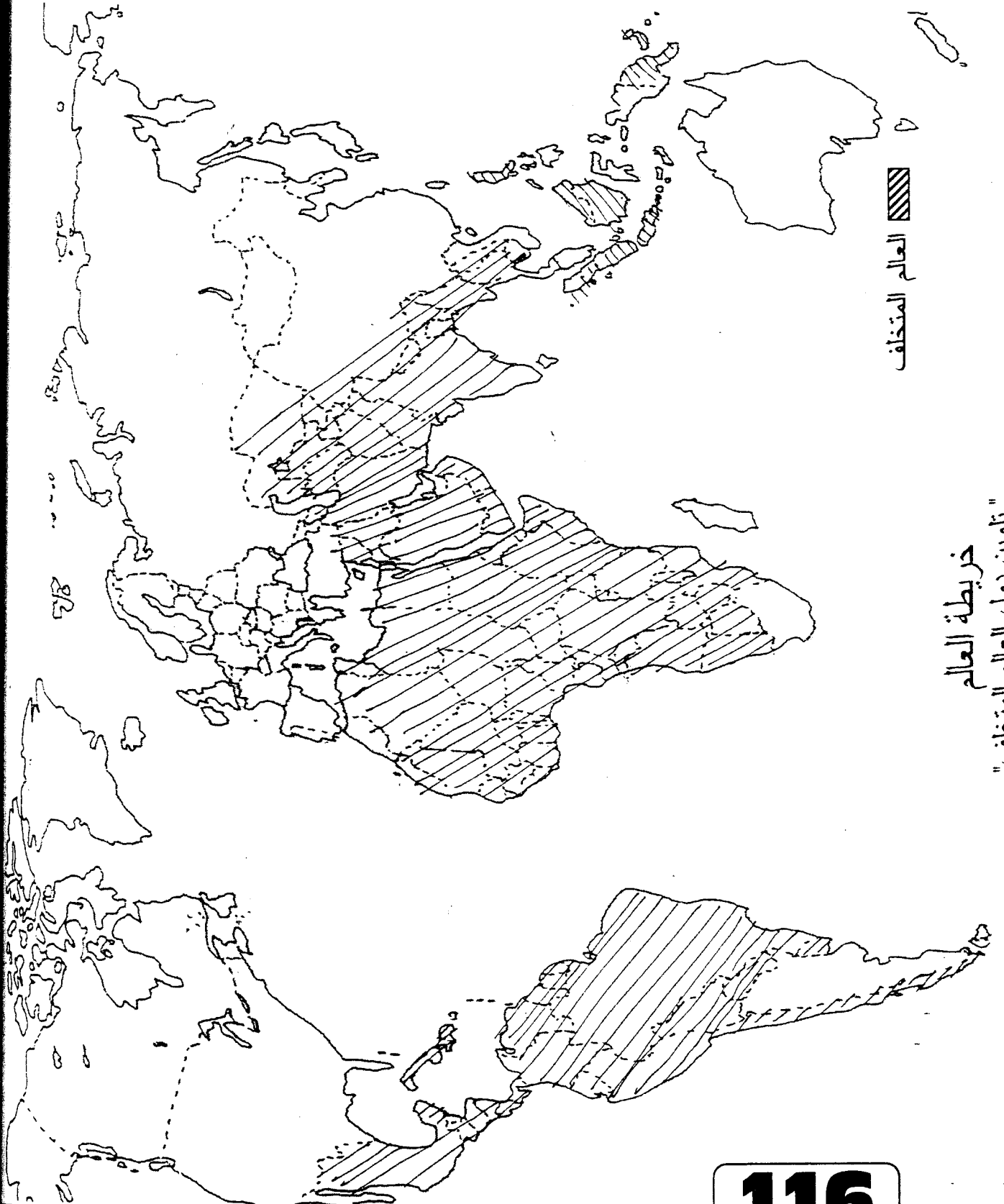
محاوور الموضوع

عناصر الإجابة

العلامة

المجموع

مجزأة



العالم المتخالف

خريطة العالم
تلوين دول العالم المتخالف