

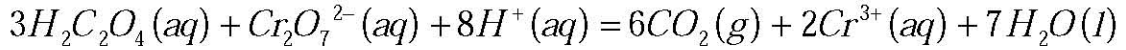
على المترشح أن يختار أحد الموضوعين التاليين:

الموضوع الأول

التمرين الأول: (03 نقاط)

لمتابعة تطور تفاعل حمض الأكساليك  $H_2C_2O_4(aq)$  مع شوارد ثنائي الكرومات  $Cr_2O_7^{2-}(aq)$ ، نمزج في اللحظة:  $t = 0 \text{ min}$  حجما:  $V_1 = 50 \text{ mL}$  من محلول حمض الأكساليك، تركيزه المولي:  $c_1 = 12 \text{ mmol/L}$

مع حجم:  $V_2 = 50 \text{ mL}$  من محلول ثنائي كرومات البوتاسيوم  $(2K^+(aq) + Cr_2O_7^{2-}(aq))$  تركيزه المولي:  $c_2 = 16 \text{ mmol/L}$  وبوجود وفرة من حمض الكبريت المركز. نمذج التحول الحاصل بالمعادلة التالية:



1- أ- حدّد الثنائيتين Ox / Red المشاركتين في التفاعل.

ب- أنشئ جدولا لتقدم التفاعل ، ثم حدّد المتفاعل المُحد.

2- البيان يمثل تغيرات التركيز المولي لحمض الأكساليك بدلالة الزمن (الشكل-1).

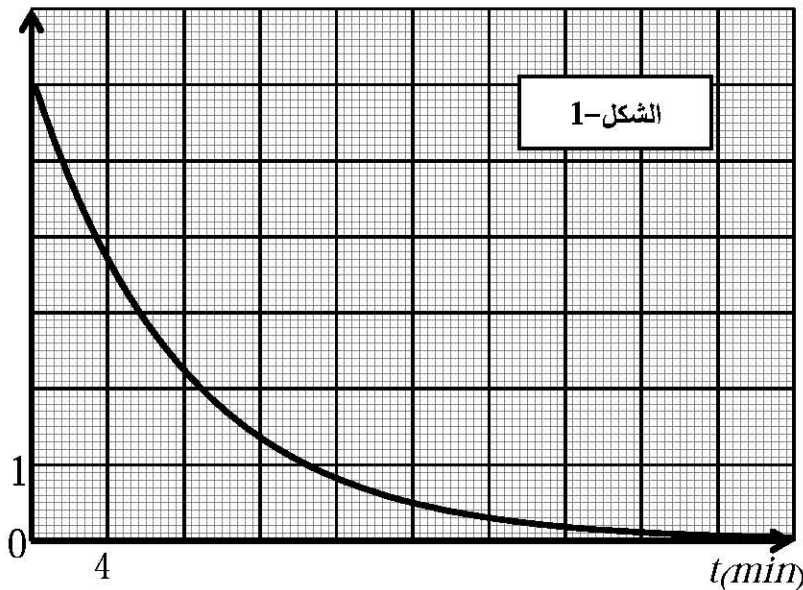
أ- عرّف السرعة الحجمية للتفاعل.

ب- بين أن عبارة السرعة الحجمية للتفاعل في أي لحظة تكتب بالعلاقة:  $v = -\frac{1}{3} \times \frac{d[H_2C_2O_4]}{dt}$

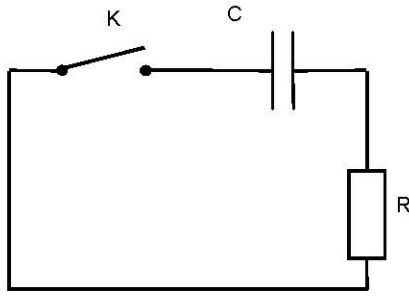
ج- احسب قيمة السرعة الحجمية للتفاعل في اللحظة:  $t = 12 \text{ min}$

3 - عرّف زمن نصف التفاعل، ثم احسبه.

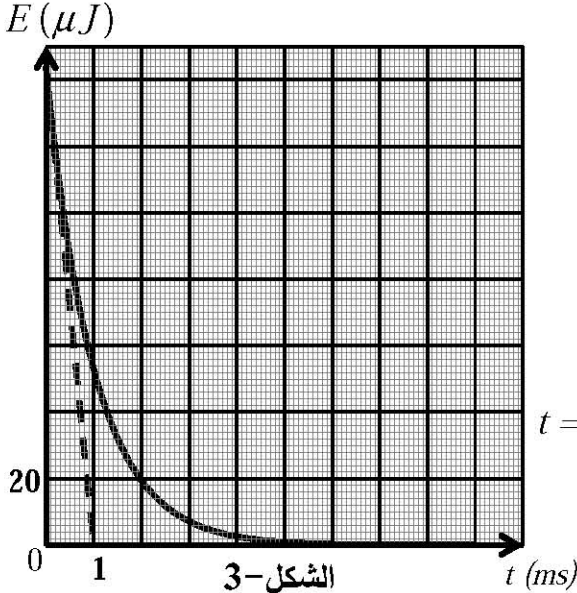
$[H_2C_2O_4] (\text{mmol/L})$



### التمرين الثاني: (03,5 نقطة)



الشكل-2



الشكل-3

مكثفة سعتها  $C$  شحنت كلياً تحت توتر كهربائي ثابت:  $E=12V$ .

لمعرفة سعتها  $C$  نحقق الدارة الكهربائية (الشكل-2)، حيث:  $R=1K\Omega$ .

1- نغلق القاطعة  $K$  في اللحظة:  $t = 0 \text{ ms}$ .

أ- بتطبيق قانون جمع التوترات، جد المعادلة التفاضلية

للتوتر الكهربائي  $u_c(t)$  بين طرفي المكثفة.

ب- حل المعادلة التفاضلية السابقة يُعطي من الشكل:

حيث:  $u_c(t) = Ae^{at}$ ،  $A$  و  $a$  ثابتان يطلب كتابة عبارتهما.

2- اكتب العبارة اللحظية  $E_c(t)$  للطاقة المخزنة في المكثفة.

3- (الشكل-3) يمثل تطوّر  $E_c(t)$ ، الطاقة المخزنة في المكثفة

بدلالة الزمن.

أ- استنتج قيمة  $E_{CO}$  الطاقة المخزنة العظمى في المكثفة.

ب- من (الشكل-3)، بيّن أن المماس للمنحنى في اللحظة:  $t = 0 \text{ ms}$

يقطع محور الأزمنة في اللحظة:  $t = \frac{\tau}{2}$

ج- احسب  $\tau$  ثابت الزمن، ثم استنتج سعة المكثفة  $C$ .

4- أثبت أن زمن تناقص الطاقة إلى النصف هو:  $t_{1/2} = \frac{\tau}{2} \ln 2$ ، ثم احسب قيمته.

### التمرين الثالث: (03 نقاط)

1- نحضر محلولاً مائياً ( $S_I$ ) لحمض الإيثانويك  $CH_3 - COOH$ ، وذلك بانحلال كتلة:  $m = 0,72g$  من حمض

الإيثانويك النقي في  $800 \text{ mL}$  من الماء المقطر. في درجة الحرارة  $25^\circ C$ ، كانت قيمة الـ  $pH$  لمحلوله  $3,3$ .

أ- احسب  $c_I$  التركيز المولي للمحلول ( $S_I$ ).

ب- اكتب المعادلة المنمذجة لتفاعل حمض الإيثانويك مع الماء.

ج - أنشئ جدولاً لتقدم التفاعل.

د- عبّر عن التقدم  $x_{eq}$  عند التوازن بدلالة:  $pH$  و  $V$ ، حيث:  $V$  حجم المحلول ( $S_I$ ).

هـ - بيّن أن قيمة الـ  $pK_a$  للتثائية:  $CH_3 - COOH / CH_3 - COO^-$  هي  $4,76$ .

2 - نمزج حجماً  $V_1$  من المحلول ( $S_I$ ) كمية مادته  $n_0$  مع حجم  $V_2$  من محلول النشادر له نفس كمية المادة  $n_0$ .

أ- اكتب معادلة التفاعل الحادث بين:  $CH_3 - COOH$  و  $NH_3$ .

ب- احسب ثابت التوازن  $K$ .

ج- بيّن أن النسبة النهائية  $\tau_{eq}$  لتقدم التفاعل يمكن كتابتها على الشكل:  $\tau_{eq} = \frac{\sqrt{K}}{1 + \sqrt{K}}$

د- احسب  $\tau_{eq}$ . ماذا تستنتج؟

تعطى:  $pka(NH_4^+ / NH_3) = 9,2$ ،  $M(O) = 16g/mol$ ،  $M(C) = 12g/mol$ ،  $M(H) = 1g/mol$

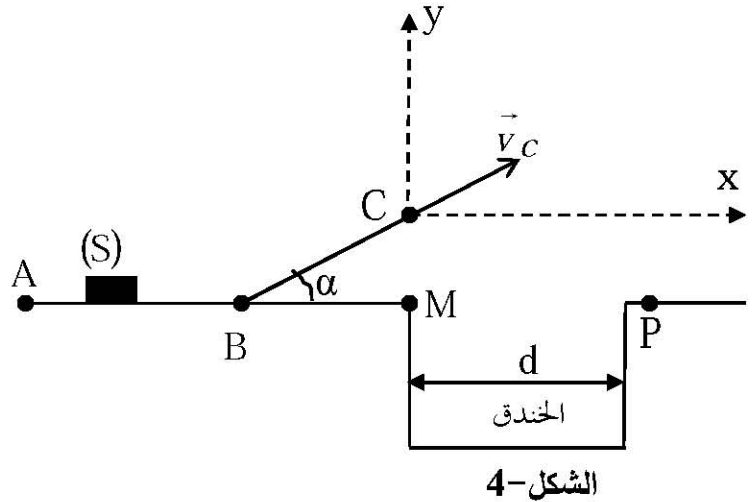
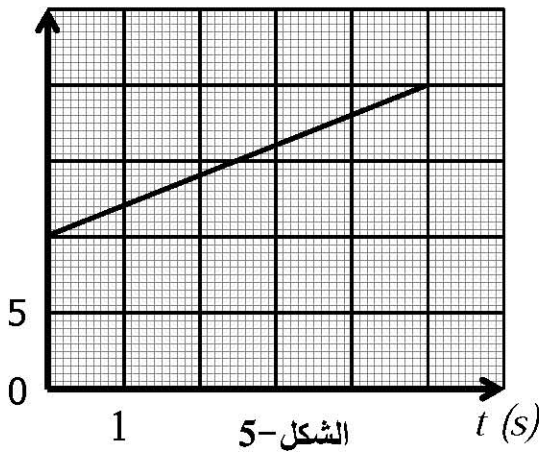
### التمرين الرابع: (03,5 نقطة)

يعتبر القفز على الخنادق بواسطة الدراجات النارية أحد التحديات التي تواجه المجازفين. إن التغلب على هذه التحديات يتطلب التعرف على بعض الشروط التي يجب توفرها لتحقيق هذا التحدي.

يتكون مسلك المجازفة من قطعة مستقيم أفقية  $AB$ ، وأخرى  $BC$  تميل عن الأفق بزاوية:  $\alpha = 10^\circ$ ، وخندق عرضه  $d$  (الشكل-4). نمذج الجملة ( الدراج + الدراجة ) بجسم صلب  $(S)$  مركز عطالته  $G$  وكتلته:  $m = 170\text{kg}$ . تعطي:  $g = 10\text{m/s}^2$ .

1- تمر الجملة  $(S)$  بالنقطة  $A$  في اللحظة:  $t = 0\text{ s}$  بسرعة:  $v_A = 10\text{m/s}$ ، وفي اللحظة:  $t_1 = 5\text{ s}$  تمر من النقطة  $B$  بالسرعة  $v_B$ . (الشكل-5) يمثل تغيرات سرعة مركز عطالة الجملة بدلالة الزمن.

$v(\text{m/s})$



اعتمادا على البيان: أ- حدّد طبيعة الحركة، ثم استنتج تسارع مركز عطالة الجملة  $(S)$ .  
ب- احسب المسافة المقطوعة  $AB$ .

2- تخضع الجملة في الجزء  $BC$  لقوة دفع المحرك  $\vec{F}$ ، وقوة احتكاك شدتها:  $f = 500\text{N}$ . القوتان ثابتتان وموازيتان للمسار  $BC$ .

بتطبيق القانون الثاني لنيوتن، حدّد شدة القوة  $\vec{F}$  حتى تبقى للجملة  $(S)$  نفس قيمة التسارع في الجزء  $AB$ .

3- تصل الجملة  $(S)$  إلى النقطة  $C$  بسرعة:  $v_C = 25\text{m/s}$  وتغادرها لتسقط في النقطة  $P$ .

أ- باعتبار لحظة المغادرة مبدأ للأزمنة، ادرس حركة مركز عطالة الجملة  $(S)$  في المعلم  $(Cx, Cy)$  ثم حدّد معادلة مسارها.

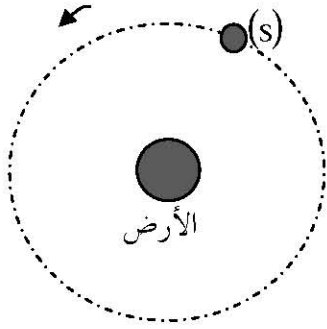
ب- هل يجتاز الدراج الخندق أم لا؟ برّر إجابتك، علما أن:  $d = 40\text{ m}$  و  $BC = 56,3\text{ m}$ .

### التمرين الخامس: (03,5 نقطة)

نعتبر قمرا اصطناعيا  $(S)$  كتلته  $m_s$  يدور حول الأرض في جهة دورانها بسرعة ثابتة (الشكل-6).

1- ممثّل القوى الخارجية المؤثرة على القمر الاصطناعي  $(S)$ .

2- ما هو المرجح المناسب لدراسة حركة القمر الاصطناعي  $(S)$ ؟ عزّفه.



3- بتطبيق القانون الثاني لنيوتن، جُد العبارة الحرفية لسرعة القمر الاصطناعي

بدلالة: ثابت الجذب العام  $G$ ، كتلة الأرض  $M_T$ ، نصف قطر الأرض  $R_T$

وارتفاع مركز عطالة القمر الاصطناعي عن سطح الأرض  $h$ ، ثم احسب قيمتها.

4- أ- جُد عبارة دور القمر الاصطناعي بدلالة:  $R_T$ ،  $h$ ،  $G$ ،  $M_T$ ، ثم احسب قيمته.

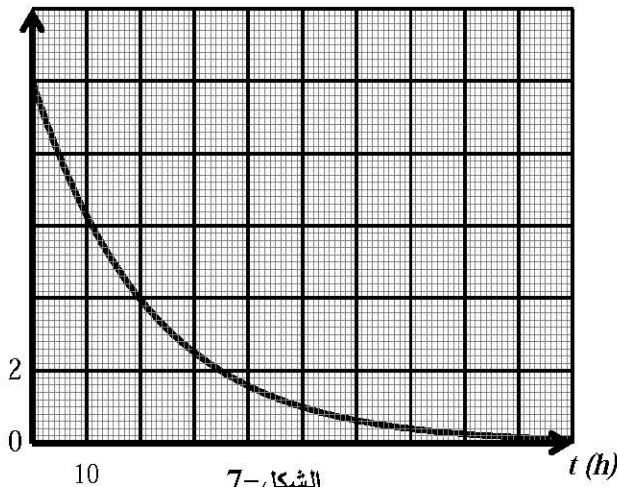
ب- هل يمكن اعتبار هذا القمر جيو مستقر؟ علّل.

5- ذكّر بالقانون الثالث لكبلر، ثم بيّن أن النسبة:  $\frac{T^2}{(R_T + h)^3} = k$ ، حيث  $k$  ثابت يطلب حسابه. الشكل-6

يعطى:  $\pi^2 = 10$ ،  $h = 35800 \text{ km}$ ،  $R_T = 6380 \text{ km}$ ،  $M_T = 6,0 \times 10^{24} \text{ kg}$ ،  $G = 6,67 \times 10^{11} \text{ (SI)}$

**التمرين التجريبي: ( 03,5 نقطة)**

$n(10^6 \text{ mol})$



مع اكتشاف النشاط الإشعاعي الاصطناعي، أصبح من الممكن

الحصول على أنوية مشعة اصطناعيا، ومن بينها نواة الصوديوم

${}_{11}^{24}\text{Na}$ . نحصل على الصوديوم 24 بقذف النظير  ${}_{11}^{23}\text{Na}$

الطبيعي بنيوترون.

1- أ- ما المقصود بمايلي:

- نواة مشعة.

- النظائر.

ب- اكتب المعادلة النووية للحصول على النواة  ${}_{11}^{24}\text{Na}$ .

2- إن نواة الصوديوم  ${}_{11}^{24}\text{Na}$  المشعة تصدر جسيمات  $\beta^-$ .

- اكتب معادلة تفكك نواة الصوديوم  ${}_{11}^{24}\text{Na}$ ، محددا النواة البنت من بين الأنوية التالية:  ${}_{10}^{10}\text{Ne}$ ،  ${}_{12}^{12}\text{Mg}$ ،  ${}_{13}^{13}\text{Al}$ ،  ${}_{14}^{14}\text{Si}$

3- يُحقن مريض حجما:  $V_1 = 10 \text{ mL}$  من محلول يحتوي على الصوديوم 24 في اللحظة:  $t = 0 \text{ h}$ .

(الشكل-7) يمثل تغيرات كمية مادة الصوديوم 24 بدلالة الزمن.

اعتمادا على البيان حدّد:

أ- كمية مادة الصوديوم 24 التي تم حقنها للمريض.

ب- عرّف زمن نصف العمر  $t_{1/2}$ ، ثم حدّد قيمته.

4- إن دم المريض لا يحتوي على الصوديوم 24 قبل اللحظة:  $t = 0 \text{ h}$

أ- أثبت أن كمية مادة الصوديوم 24 في لحظة زمنية  $t$ ، تكتب بالعلاقة:  $n(t) = n_0 e^{-\lambda t}$ .

ب- بيّن أن كمية مادة الصوديوم 24 المتبقية في دم المريض في اللحظة:  $t_1 = 6 \text{ h}$  هي:  $n_1 = 7,6 \times 10^{-6} \text{ mol}$ .

5- في اللحظة:  $t_1 = 6 \text{ h}$ ، نأخذ عينة من دم المريض حجمها:  $V_2 = 10 \text{ mL}$ ، فنجد أنها تحتوي على كمية مادة

الصوديوم 24:  $n_2 = 1,5 \times 10^{-8} \text{ mol}$ .

- جُد حجم دم المريض، علما أن الصوديوم 24 موزع فيه بانتظام.

## الموضوع الثاني

التمرين الأول: ( 03,5 نقاط)

انطلق برنامج البحث *ITER* (International Thermonuclear Experimental Reactor) بفرنسا لدراسة الاندماج النووي نظيري الهيدروجين  $^2_1H, ^3_1H$  وذلك من أجل التأكد من الإمكانية العلمية لإنتاج الطاقة عبر الاندماج النووي.

1- أ- اكتب معادلة الاندماج النووي بين الديوتريوم  $^2_1H$  والتريتيوم  $^3_1H$ ، علماً أن التفاعل ينتج نواة  $^4_2X$  ونيوتروناً.

ب- يتعلق زمن نصف العمر بـ :

- عدد الأنوية الابتدائية  $N_0$  للنظير المشع.

- درجة حرارة العينة المشعة.

- نوع النظير المشع.

اختر الإجابة الصحيحة من بين الإجابات السابقة.

2- أ- عرّف طاقة الربط للنواة  $E_b(^4_2X)$ ، ثم اكتب عبارتها.

ب- احسب طاقة الربط للنواة وطاقة الربط لكل نوية:

$^2_1H, ^3_1H, ^4_2X$  بـ  $MeV$ ، ثم استنتج النواة الأكثر استقراراً.

3- المخطط الطاقوي (شكل-1) يمثل الحصلة الطاقوية لتفاعل اندماج نظيري الهيدروجين  $^2_1H, ^3_1H$ .

أ- احسب مقدار الطاقة المحررة عن تفاعل الاندماج الحادث.

ب- احسب مقدار الطاقة المحررة عن اندماج  $1g$  من  $^2_1H$  و  $1,5g$  من  $^3_1H$ .

يعطى:

$$m(^1_0n) = 1,00866u; m(^1_1p) = 1,00728u; m(^2_1H) = 2,01355u; m(^3_1H) = 3,0155u;$$

$$m(^4_2He) = 4,0015u; 1u = 931,5 \frac{MeV}{c^2}; N_A = 6,02 \times 10^{23} \text{ mol}^{-1}$$

التمرين الثاني: (03,5 نقاط)

بهدف تحديد مميزات وشيعة، نحقق دائرة كهربائية (الشكل-2)، حيث:  $R = 90\Omega$

نغلق القاطعة  $K$  في اللحظة:  $t = 0 \text{ ms}$

1- بين أن المعادلة التفاضلية للتوتر الكهربائي بين طرفي المقاومة تعطى بالشكل:  $\frac{du_R}{dt} + \frac{R+r}{L}u_R = \frac{RE}{L}$

2- تحقق أن العبارة:  $u_R(t) = \frac{B}{A}(1 - e^{-At})$ ، هي حل للمعادلة التفاضلية السابقة، حيث:  $A$  و  $B$  ثابتان يطلب تعيينهما.

3- باستعمال راسم اهتزاز مهبطي ذي ذاكرة تحصلنا على (الشكل-3).

أ- أعد رسم الدارة، ثم وضّح عليها كيفية ربط راسم الاهتزاز المهبطي لمشاهدة المنحنيين (1) و (2) (الشكل-3).

ب- أنسب لكل عنصر كهربائي من الدارة المنحني الموافق له مع التعليل.

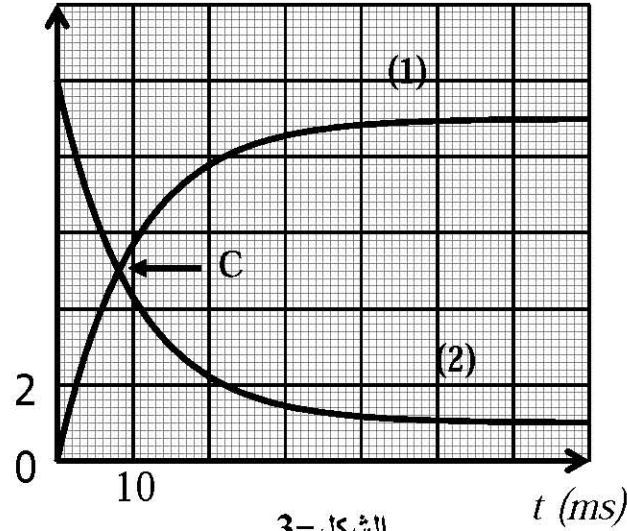
ج- استنتج القوة المحركة الكهربائية للمولد  $E$ ، ومقاومة الوشيعة  $r$ .

4- اعتمادا على نقطة تقاطع المنحنيين (1) و (2):

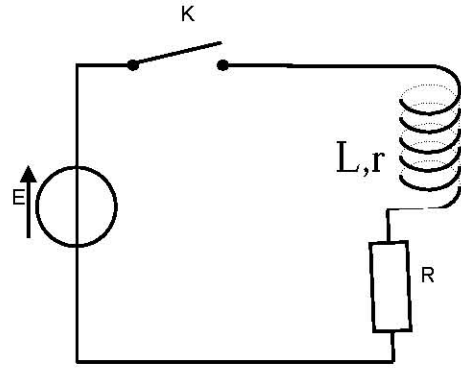
أ- بين أن ثابت الزمن  $\tau$  يكتب بالعلاقة:  $\tau = \frac{t_c}{\ln\left(\frac{2R}{R-r}\right)}$ ، ثم احسب قيمته، حيث:  $t_c$  الزمن الموافق لتقاطع

المنحنيين، علما أن التوتر بين طرفي الوشيجة يعطى بالعلاقة:  $u_b(t) = \frac{E}{R+r} (r + Re^{-\frac{t}{\tau}})$

ب- احسب ذاتية الوشيجة  $L$ .



الشكل-3



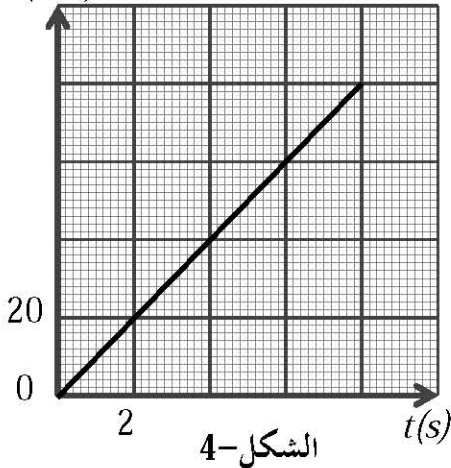
الشكل-2

**التمرين الثالث: ( 03,5 نقاط )**

أثناء التدريبات التي تقوم بها فرق الصاعقة للمظليين بالمدرسة العليا للقوات الخاصة ببسكرة، استعملت طائرة عمودية حلقت على ارتفاع ثابت من سطح الأرض لإنزال المظليين دون سرعة ابتدائية.

1 - نمذج المظلي ومظلته بجملة (S) مركز عطالتها G وكتلتها:  $m = 80kg$ ، نهمل تأثير دافعة أرخميدس. يقفز المظلي دون سرعة ابتدائية، فيقطع ارتفاعاً  $h$  خلال  $8s$  قبل فتح مظلته؛ نعتبر حركته سقوطاً حرًا .

إن دراسة تطوّر  $v(t)$ ، سرعة المظلي بدلالة الزمن في معلم شاقولي  $(O, \vec{k})$



الشكل-4

موجه نحو الأسفل، مرتبط بمرجع سطحي أرضي، مكنت من الحصول على البيان (الشكل-4).

أ- حدّد طبيعة حركة الجملة (S) مع التعليل.

ب- احسب الارتفاع  $h$  .

ج- بتطبيق القانون الثاني لنيوتن، استنتج تسارع حقل الجاذبية الأرضية  $g$ .

2- بعد قطع المظلي الارتفاع  $h$  يفتح مظلته، فتخضع الجملة لقوة احتكاك

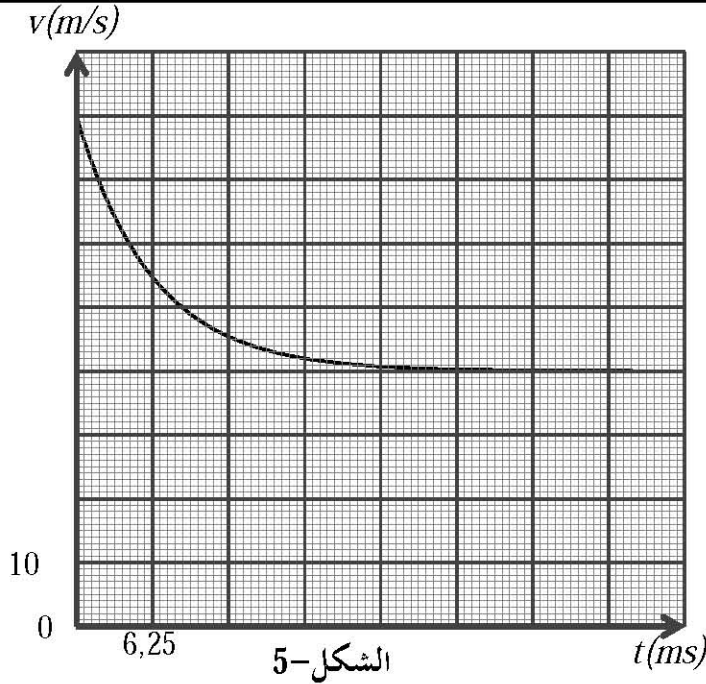
الهواء عبارتها:  $f = kv^2$

أ- بتطبيق القانون الثاني لنيوتن، بين أن المعادلة التفاضلية لسرعة

$$\frac{dv}{dt} = g\left(1 - \frac{v^2}{\beta^2}\right)$$

الجملة (S) تكتب بالعلاقة: حيث:  $\beta$  ثابت يطلب التعبير عنه بدلالة:  $m, g, k$  .

ب- يمثل المقدار  $\beta$ :



الشكل-5

- سرعة الجملة (S) في اللحظة:  $t = 0$
- تسارع حركة مركز عطالة الجملة في النظام الدائم.
- السرعة الحدية  $v_{lim}$  للجملة (S).

اختر الإجابة الصحيحة من بين الإجابات السابقة.

4 - يمثل (الشكل-5) تغيرات سرعة مركز عطالة

الجملة (S) بدءاً من لحظة فتح المظلة التي نعتبرها

مبدأً للأزمنة:  $t = 0$

أ- حدّد قيمة السرعة الحدية  $v_{lim}$ .

ب- بالاعتماد على التحليل البعدي حدّد وحدة

الثابت  $k$ ، ثمّ احسب قيمته.

يعطى:  $g = 9,8 m/s^2$

### التمرين الرابع: (03 نقاط)

كتب على قارورة ما يلي: محلول حمض الإيثانويك  $CH_3COOH$ ، تركيزه المولي  $c_a$ .

1- بهدف تحديد التركيز المولي لمحلول حمض الإيثانويك، قيس الـ  $pH$  له فوجد  $3,8$  في درجة الحرارة  $25^\circ C$ .

أ- اكتب معادلة انحلال حمض الإيثانويك في الماء.

ب- اكتب عبارة نسبة التقدم عند التوازن بدلالة  $c_a$  و  $[H_3O^+]_{eq}$ .

ج- استنتج التركيز المولي لمحلول حمض الإيثانويك  $c_a$ ، علماً أنّ:  $\tau_{eq} = 0,0158$ .

2- بهدف التأكد من قيمة  $c_a$ ، نعاير حجماً  $V_a = 18 mL$  من محلول حمض الإيثانويك بمحلول هيدروكسيد

الصوديوم، تركيزه المولي:  $c_b = 1,0 \times 10^2 mol/L$ . استعمال تجهيز  $ExAO$  مكن من الحصول على (الشكل-6).

أ- أنشئ جدولاً لتقدم تفاعل المعايرة.

ب- جدّ إحداثيتي نقطة التكافؤ ( $V_{bE}$ ,  $pH_E$ )،  $E$ ، ثمّ احسب  $c_a$ .

3- عند إضافة حجم:  $V_b = 9 mL$  من محلول هيدروكسيد الصوديوم، نجد  $pH$  المزيج هو  $4,8$ .

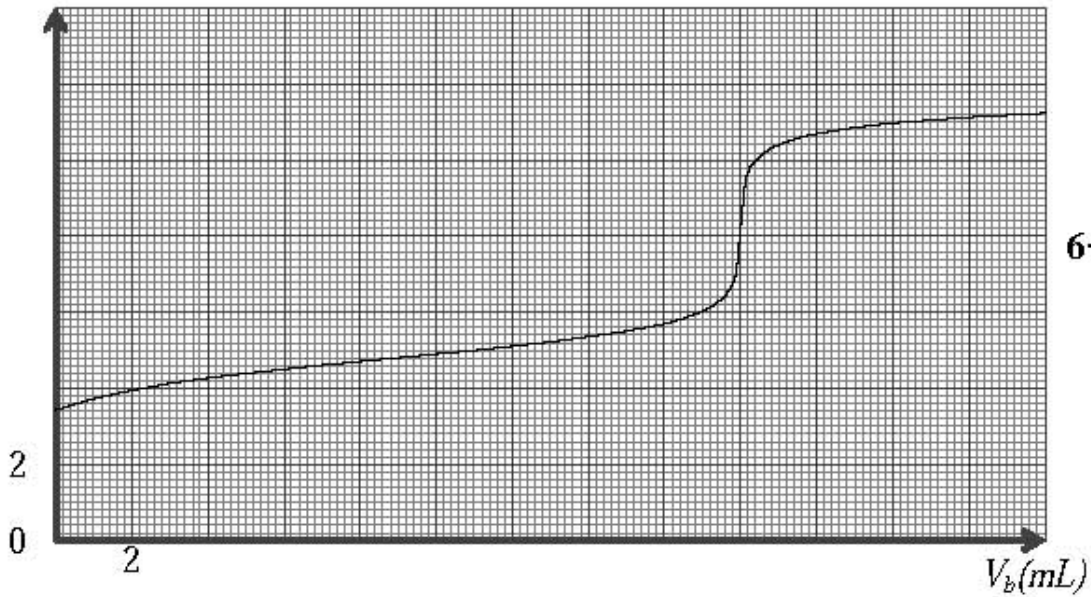
أ- عبّر عن النسبة:  $\frac{[CH_3COO^-]}{[CH_3COOH]}$  بدلالة  $pH$  و  $pKa$ ، ثمّ احسبها.

ب- عبّر عن النسبة السابقة بدلالة تقدم التفاعل  $X$ ، ثمّ استنتج قيمة  $X$ .

ج- احسب النسبة النهائية للتقدم  $\tau$ . ماذا تستنتج؟

يعطى:  $pKa(CH_3COOH / CH_3COO^-) = 4,8$

pH



الشكل-6

### التمرين الخامس (03,5 نقطة)

يدور قمر اصطناعي (S) حول الأرض بحركة دائرية منتظمة على ارتفاع  $h = 700 \text{ km}$  من سطحها، حيث ينجز 14,55 دورة في اليوم الواحد. نفرض أن المرجع الأرضي المركزي مرجع غاليلي.

1- مثل شعاع التسارع  $\vec{a}$  لحركة القمر الاصطناعي (S) (الشكل-7).

2- أعط دون برهان عبارة شعاع التسارع  $\vec{a}$  لحركة القمر الاصطناعي (S). بدلالة  $v$  سرعة القمر الاصطناعي (S)، ونصف القطر  $r$  لمسار حركة القمر حول الأرض، وشعاع الوحدة  $\vec{n}$ .

3- بتطبيق القانون الثاني لنيوتن، بين أن عبارة سرعة القمر الاصطناعي (S) حول كوكب الأرض تعطى بالعلاقة:

$$v = \sqrt{\frac{GM_T}{r}}$$

حيث:  $M_T$  كتلة الأرض.

4- اكتب العلاقة بين  $T_S$  و  $r$ ، حيث:  $T_S$  دور القمر الاصطناعي (S) حول الأرض.

$$T_S^3 = 9,85 \times 10^{-14} \text{ s}^2 \cdot \text{m}^{-3}$$

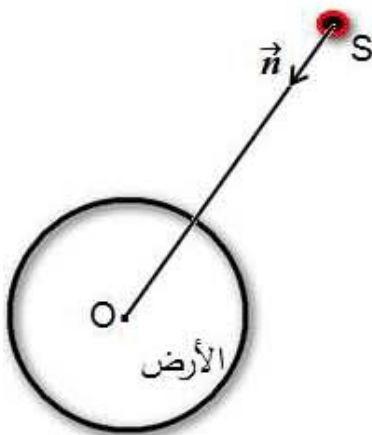
5- بين أن:

6- استنتج  $M_T$  كتلة الأرض.

يعطى: ثابت التجاذب الكوني:  $G = 6,67 \times 10^{-11} \text{ SI}$

نصف قطر الأرض:  $R_T = 6400 \text{ Km}$

دور الأرض:  $T = 24 \text{ h}$

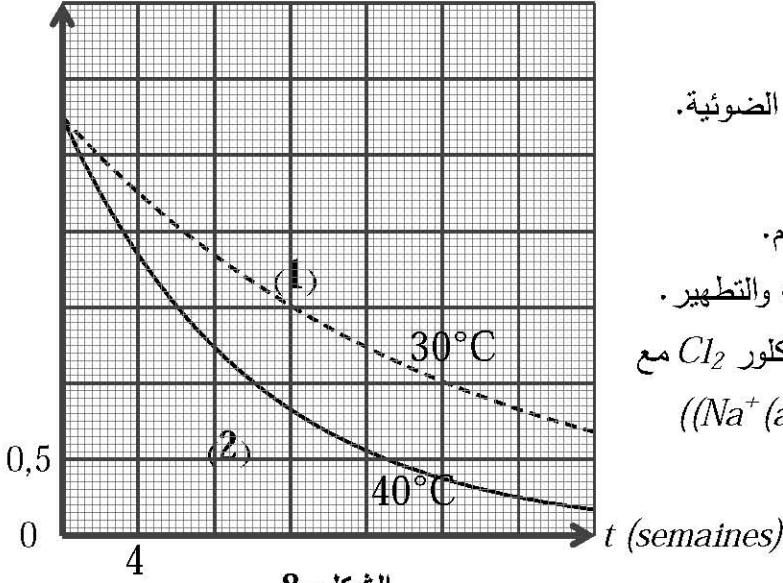


الشكل-7



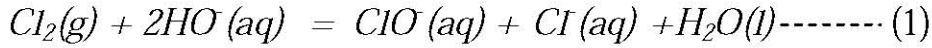
$[ClO^-] / (mol/L)$

التمرين التجريبي: (03 نقاط)

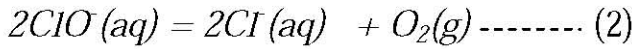


كتب على قارورة ماء جافيل المعلومات التالية:

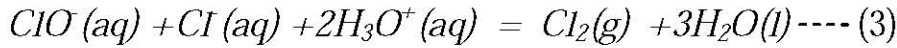
- يحفظ في مكان بارد معزولا عن الأشعة الضوئية.
- لا يمزج مع منتجات أخرى.
- بلامسته لمحلول حمضي ينتج غاز سام.
- إن ماء جافيل منتج شائع، يستعمل في التنظيف والتطهير.
- نحصل على ماء جافيل من تفاعل غاز ثنائي الكلور  $Cl_2$  مع محلول هيدروكسيد الصوديوم  $((Na^+ (aq) + HO^- (aq)))$  ينمذج هذا التحول بالمعادلة (1):



يتفكك ماء جافيل ببطء في الشروط العادية وفق المعادلة (2):



أما في وسط حمضي ينمذج التفاعل وفق المعادلة (3):



1- أنجز جدول التقدم للتفاعل المنمذج وفق المعادلة (2).

2- اعتمادا على البيانيين (الشكل-8)، المعبرين عن تغيرات تركيز شوارد  $ClO^-(aq)$  في التفاعل المنمذج بالمعادلة (2) بدلالة الزمن.

أ- استنتج تركيز شوارد  $ClO^-(aq)$  في اللحظة:  $t = 8$  semaines من أجل درجتَي الحرارة:

$$\theta_1 = 30^\circ C \text{ و } \theta_2 = 40^\circ C$$

ب- عرّف السرعة الحجمية للتفاعل، وبيّن أن عبارتها تكتب بالشكل التالي:  $v(t) = -\frac{1}{2} \times \frac{d[ClO^-]}{dt}$

ج- احسب قيمة السرعة الحجمية في اللحظة:  $t = 0$  من أجل درجتَي الحرارة:  $\theta_1 = 30^\circ C$  و  $\theta_2 = 40^\circ C$

د- هل النتائج المتحصل عليها في السؤالين (2- أ) و (2- ج) تبرر المعلومة "يحفظ في مكان بارد"؟ علّل.

3- عرّف زمن نصف التفاعل، ثم جد قيمته انطلاقا من المنحنى (2)، علما أن التفكك تام.

4- أعط رمز واسم الغاز السام المشار على القارورة.