

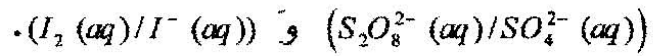
على المترشح أن يختار أحد الموضوعين التاليين

الموضوع الأول

التمرين الأول: (03,5 نقطة)

نمزج في اللحظة $t=0$ حجما $V_1=200mL$ من محلول مائي لبيروكسودي كبريتات البوتاسيوم $(2K^+(aq)+S_2O_8^{2-}(aq))$ تركيزه المولي $C_1=4,00 \times 10^{-2} mol.L^{-1}$ مع حجم $V_2=200mL$ من محلول مائي ليود البوتاسيوم $(K^+(aq)+I^-(aq))$ تركيزه المولي $C_2=4,0 \times 10^{-1} mol.L^{-1}$.

1- إذا علمت أن الثنائيتين (Ox/Red) الداخلتين في التحول الكيميائي الحاصل هما:

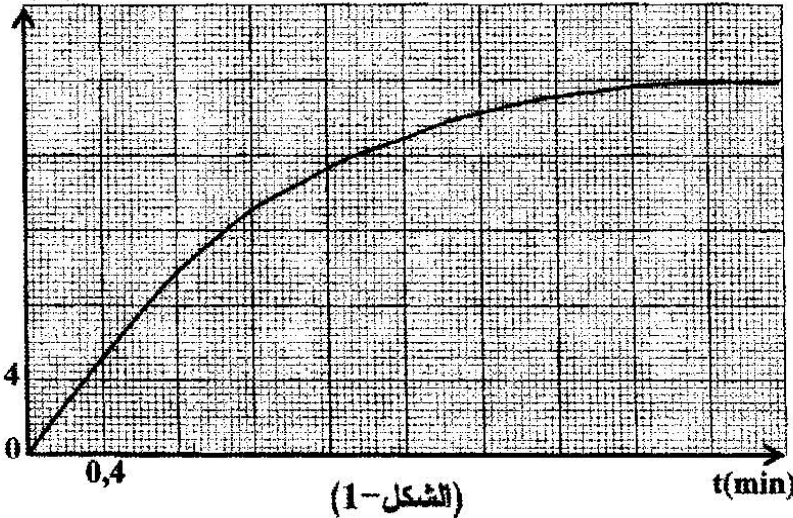


أ/ اكتب المعادلة المعبرة عن التفاعل أكسدة - إرجاع النمذج للتحول الكيميائي الحاصل.

ب/ أنجز جدولاً لتقدم التفاعل الحادث. استنتج المتفاعل المحد.

2- توجد عدة تقنيات لمتابعة تطور تشكل ثنائي اليود I_2 بدلالة الزمن. استخدمت واحدة منها في تقدير كمية

ثنائي اليود ورسم البيان :



$[I_2] = f(t)$ الموضح في (الشكل-1).

أ/ كم يستغرق التفاعل من الوقت

لإنتاج نصف كمية ثنائي اليود النهائية ؟

ب/ احسب قيمة السرعة الحجمية لتشكل

ثنائي اليود في اللحظة $t = t_{1/2}$.

3- إن الطريقة التي أدت نتائجها إلى رسم البيان (الشكل-1)، تعتمد في تحديد تركيز ثنائي اليود

المتشكل عن طريق المعايرة، حيث تؤخذ عينات متساوية، حجم كل منها $V=10mL$ من الوسط

التفاعلي في أزمنة مختلفة (توضع العينة مباشرة لحظة أخذها في الماء والجليد) ثم تعاير بمحلول

مائي لثيوكبريتات الصوديوم $(2Na^+(aq)+S_2O_3^{2-}(aq))$ تركيزه المولي $C'=1,0 \times 10^{-2} mol.L^{-1}$.

معادلة التفاعل الكيميائي المنمذج للتحويل الحادث هي: $I_2(aq) + 2S_2O_3^{2-}(aq) = 2I^-(aq) + S_4O_6^{2-}(aq)$ / انكر الخواص الأساسية للتفاعل الكيميائي المنمذج للتحويل الكيميائي الحاصل بين ثيوكبريتات الصوديوم وثنائي اليود.

ب/ اوجد عبارة $[I_2]$ بدلالة كل من: V ; V_E ; C' . حيث: V_E هو حجم محلول ثيوكبريتات الصوديوم اللازم لبلوغ نقطة التكافؤ E .

ج- احسب الحجم المضاف V_E في اللحظة $t = 1,2 \text{ min}$.

التمرين الثاني: (03 نقاط)

جُهِز مخبر بمنبع إشعاعي يحتوي على السيزيوم 137 المشع الذي يتميز بزمن نصف العمر $t_{1/2} = 30,2 \text{ ans}$

يبلغ النشاط الإشعاعي الابتدائي لهذا المنبع $A_0 = 3,0 \times 10^5 \text{ Bq}$.

1- تتفكك أنوية السيزيوم $^{137}_{55}\text{Cs}$ مُصدرًا جسيمات β^- .

أ/ اكتب معادلة التفاعل النووي المنمذج لتفكك السيزيوم 137 .

ب/ احسب قيمة λ ثابت التفكك لنواة السيزيوم.

ج/ احسب m_0 كتلة السيزيوم 137 الموجودة في المنبع لحظة استلامه.

2- أ/ اكتب عبارة قانون النشاط الإشعاعي $A(t)$ للمنبع.

ب/ كم تصبح قيمة نشاط المنبع بعد سنة ؟

ج/ ما قيمة التغير النسبي للنشاط الإشعاعي خلال سنة واحدة ؟

3- يصبح المنبع غير صالح للاستعمال عندما يصبح لنشاطه الإشعاعي قيمة حدية تساوي عشر

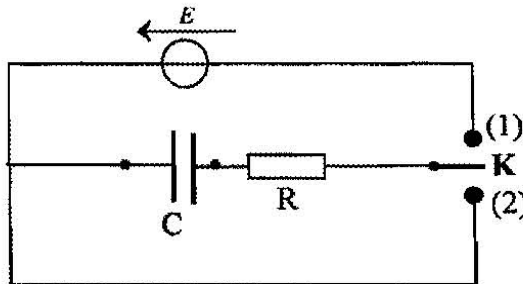
قيمته الابتدائية أي $A(t) = \frac{A_0}{10}$ ، كم يدوم استغلال المنبع؟

^{53}I	^{54}Xe	^{55}Cs	^{56}Ba	^{57}La
-----------------	------------------	------------------	------------------	------------------

المعطيات:

$$M_{(^{137}\text{Cs})} = 136,9 \text{ g/mol} , N_A = 6,02 \times 10^{23} \text{ mol}^{-1}$$

التمرين الثالث: (03,5 نقطة)



(الشكل-2)

بغرض شحن مكثفة فارغة، سعتها C ، نصلها على

التسلسل مع العناصر الكهربائية التالية:

- مولد ذو توتر كهربائي ثابت $E = 5V$ ومقاومته الداخلية مهملة.

- ناقل أومي مقاومته $R = 120\Omega$

- بادلة K (الشكل-2).

- 1- لمتابعة تطور التوتر الكهربائي u_c بين طرفي المكثفة بدلالة الزمن، نوصل مقياس فولطمتر رقمي بين طرفي المكثفة وفي اللحظة $t=0$ ، نضع البادلة في الوضع (1). وبالتصوير المتعاقب تم تصوير شاشة جهاز الفولطمتر الرقمي لمدة معينة وبمشاهدة شريط الفيديو ببطء سجلنا النتائج التالية:

$t(ms)$	0	4	8	16	20	24	32	40	48	60	68	80
$u_c(V)$	0	1,0	2,0	3,3	3,8	4,1	4,5	4,8	4,9	5,0	5,0	5,0

أ/ ارسم البيان $u_c = f(t)$.

ب/ عين بيانيا قيمة ثابت الزمن τ لثنائي القطب RC واستنتج قيمة السعة C للمكثفة.

2- كيف تتغير قيمة ثابت الزمن τ في الحالتين ؟

- الحالة (أ): من أجل مكثفة سعتها C' حيث $C' > C$ و $R = 120\Omega$.

- الحالة (ب): من أجل مكثفة سعتها C'' حيث $C'' = C$ و $R' < 120\Omega$.

ارسم، كيفيا، في نفس المعلم المنحنيين (1) و (2) المعبرين عن $u_c(t)$ في الحالتين (أ) و (ب) السابقتين.

3- أ/ بين أن المعادلة التفاضلية المعبرة عن $q(t)$ تعطى بالعلاقة: $\frac{dq(t)}{dt} + \frac{1}{RC}q(t) = \frac{E}{R}$

ب/ يعطى حل المعادلة التفاضلية بالعلاقة $q(t) = Ae^{\alpha t} + \beta$ حيث A و α و β ثوابت يطلب

تعيينها، علما أنه في اللحظة $t=0$ تكون $q(0)=0$.

4 - المكثفة مشحونة نضع البادلة في الوضع (2) في لحظة نعتبرها كمبدأ للأزمنة.

أ/ احسب في اللحظة $t=0$ الطاقة الكهربائية المخزنة E_0 في المكثفة.

ب/ ما هو الزمن الذي من أجله تصبح الطاقة المخزنة في المكثفة $E = \frac{E_0}{2}$ ؟

التمرين الرابع: (03 نقاط)

نحضر محلولاً (S) لحمض الإيثانويك (CH_3COOH) لهذا الغرض نحل كتلة m في حجم قدره $100mL$ من الماء المقطر.

نقيس pH المحلول (S) بواسطة مقياس الـ pH متر عند الدرجة $25^\circ C$ فكانت قيمته 3,4.

1- اكتب معادلة التفاعل المنمذج للتحويل الكيميائي الحادث.

2- أ/ أنشئ جدولاً لتقدم التفاعل الكيميائي.

ب/ اوجد قيمة التقدم النهائي x_r .

ج/ إذا علمت أن نسبة التقدم النهائي $\tau_r = 0,039$ بين أن قيمة التركيز المولي $C = 10^{-2} mol/L$

ثم استنتج m قيمة الكتلة المنحلة في المحلول (S).

3- احسب كسر التفاعل الابتدائي Q_{r_i} وكسر التفاعل عند التوازن Q_{r_f} . ما هي جهة تطور الجملة الكيميائية؟

4- بهدف التأكد من قيمة التركيز المولي C للمحلول (S) ، نعاير حجما $V_a = 10\text{mL}$ منه بواسطة

محلول أساسي لهيدروكسيد الصوديوم $(Na^+(aq) + HO^-(aq))$ تركيزه المولي

$C_b = 4,0 \cdot 10^{-3} \text{mol L}^{-1}$ فيحدث التكافؤ عند إضافة حجم $V_{be} = 25\text{mL}$ من المحلول الأساسي.

أ/ اذكر البروتوكول التجريبي لهذه المعايرة.

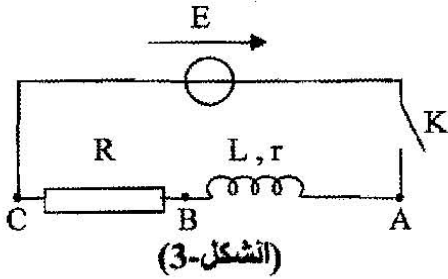
ب/ اكتب معادلة التفاعل المنمذج لهذا التحول.

ج/ احسب قيمة التركيز المولي C للمحلول (S) . قارنها مع القيمة المعطاة سابقا.

د/ ما هي قيمة pH المزيج لحظة إضافة $12,5\text{mL}$ من محلول هيدروكسيد الصوديوم؟

يعطى: $pK_a(CH_3COOH/CH_3COO^-) = 4,8$ ، $M(O) = 16\text{g mol}^{-1}$ ، $M(C) = 12\text{g mol}^{-1}$ ، $M(H) = 1\text{g mol}^{-1}$

التمرين الخامس: (03 نقاط)



تتكون دارة كهربائية من العناصر التالية مربوطة على التسلسل:

وشبيعة ذاتيتها L ومقاومتها r ، ناقل أومي مقاومته $R = 17,5\Omega$ ،

مولد ذي توتر كهربائي ثابت $E = 6,00V$ ، قاطعة كهربائية K

(الشكل-3) نغلق القاطعة في اللحظة $t = 0$.

سمحت برمجية للإعلام الآلي بمتابعة تطور شدة التيار الكهربائي المار في الدارة مع مرور الزمن

ومشاهدة البيان: $i = f(t)$ (الشكل-4).

1. بالاعتماد على البيان:

أ- استنتج قيم كل من شدة التيار الكهربائي في النظام الدائم، قيمة ثابت الزمن τ للدارة.

ب- احسب كل من المقاومة r و الذاتية L للشبيعة.

2. في النظام الانتقالي:

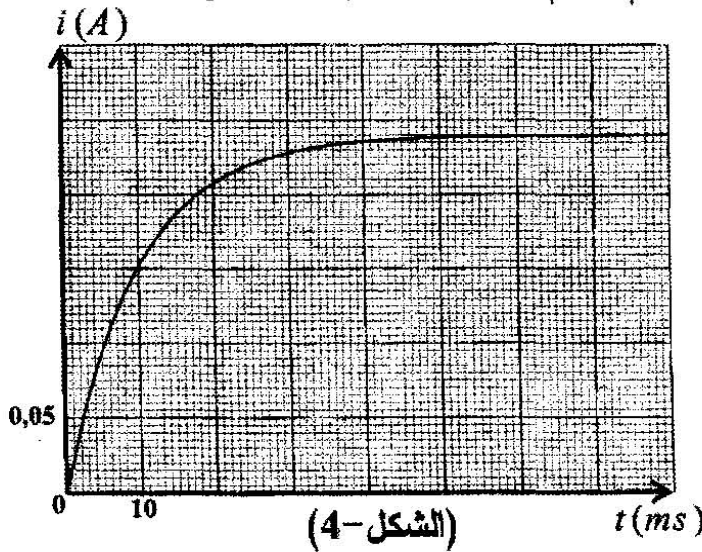
أ/ بتطبيق قانون التوترات أثبت أن:

$$\frac{di}{dt} + \frac{i}{\tau} = \frac{I_0}{\tau}$$

حيث I_0 شدة التيار في النظام الدائم.

ب/ بين أن حل المعادلة هو من الشكل:

$$i = I_0 \left(1 - e^{-\frac{t}{\tau}} \right)$$



3. نغير الآن قيمة الذاتية L للوشية وبمعالجة المعطيات ببرمجية إعلام آلي نسجل قيم τ

ثابت الزمن للدائرة لنحصل على جدول القياسات التالي :

$\tau(ms)$	4	8	12	20
$L(H)$	0,1	0,2	0,3	0,5

أ/ ارسم البيان: $L = h(\tau)$.

ب/ اكتب معادلة البيان.

ج/ استنتج قيمة مقاومة الوشية r ، هل تتوافق هذه القيمة مع القيمة المحسوبة في السؤال 1-ب؟

التمرين التجريبي : (04 نقاط)

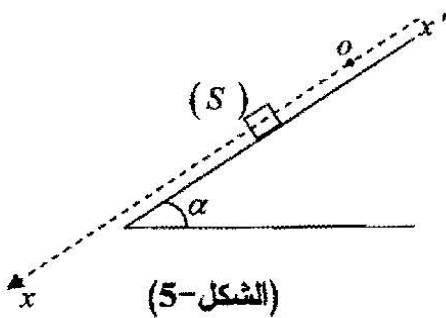
ينزلق جسم صلب (S) كتلته $m=100g$ على طول مستوي مائل

عن الأفق بزاوية $\alpha=20^\circ$ وفق المحور $\overline{xx'}$ (الشكل-5).

قمنا بالتصوير المتعاقب بكاميرا رقمية (Webcam)،

وعولج شريط الفيديو ببرمجية "Aviméca" بجهاز الإعلام

الآلي وتحصلنا على النتائج التالية:



$t(s)$	0,00	0,04	0,06	0,08	0,10	0,12
$v(m.s^{-1})$	v_0	0,16	0,20	0,24	0,28	0,32

1/ ارسم البيان $v = f(t)$.

2/ بالاعتماد على البيان:

أ/ بين طبيعة حركة (S) واستنتج القيمة التجريبية للتسارع a .

ب/ استنتج قيمة السرعة v_0 في اللحظة $t=0$.

ج/ احسب المسافة المقطوعة بين اللحظتين: $t_1=0,04s$ و $t_2=0,08s$.

3/ بفرض أن الاحتكاكات مهملة:

أ/ بتطبيق القانون الثاني لنيوتن أوجد العبارة الحرفية للتسارع a_0 ثم احسب قيمته.

ب/ قارن بين a و a_0 . كيف تبرر الاختلاف؟

4/ اوجد شدة القوة \overline{r} المنمذجة للاحتكاكات على طول المستوي المائل.

يعطى: $g=10m.s^{-2}$; $\sin 20^\circ=0,34$.

الموضوع الثاني

التمرين الأول: (03,5 نقطة)

نحضر محلولاً (S) بمزج حجم $V_1 = 100\text{mL}$ من الماء الأكسجيني H_2O_2 تركيزه المولي $C_1 = 4,5 \cdot 10^{-2} \text{mol.L}^{-1}$ مع حجم $V_2 = 100\text{mL}$ من محلول يود البوتاسيوم $(\text{K}^+(\text{aq}) + \text{I}^-(\text{aq}))$ تركيزه المولي $C_2 = 2,0 \cdot 10^{-1} \text{mol.L}^{-1}$. تعطى الثنائيتان: $(\text{I}_2(\text{aq}) / \text{I}^-(\text{aq}))$ ، $(\text{H}_2\text{O}_2(\text{aq}) / \text{H}_2\text{O}(\text{l}))$.

1 - أ/ اكتب معادلة التفاعل أكسدة - إرجاع معتمدا على المعادلتين النصفيتين.

ب/ أنشئ جدولا لتقدم التفاعل واستنتج المتفاعل المحد.

2 - نقسم المحلول (S) على عدة أنابيب متماثلة كل منها يحتوي على حجم $V = 20\text{mL}$ وفي

اللحظة $t = 3\text{min}$ نضيف إلى الأنبوب الأول ماء وقطع من الجليد ثم نعاير ثنائي اليود $\text{I}_2(\text{aq})$

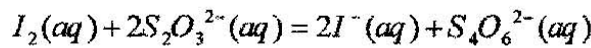
المتشكل بواسطة ثيوكبريتات الصوديوم $(2\text{Na}^+(\text{aq}) + \text{S}_2\text{O}_3^{2-}(\text{aq}))$ تركيزه المولي $C = 1,0 \text{mol.L}^{-1}$

نكرر التجربة السابقة كل ثلاث دقائق مع بقية الأنابيب، علما أن حجم الثيوكبريتات المضاف عند

التكافؤ هو V_E .

لماذا نضيف الماء وقطع الجليد لكل أنبوب قبل المعايرة؟

3 - نمذج التحول الكيميائي الحادث أثناء المعايرة بالمعادلة:



بين أن التركيز المولي لثنائي اليود المتشكل في أي لحظة t يعطى بالعلاقة: $[I_2] = \frac{CV_E}{2V}$.

4 - إن دراسة تغيرات التركيز المولي لثنائي

اليود المتشكل بدلالة الزمن أعطى

البيان (الشكل-1).

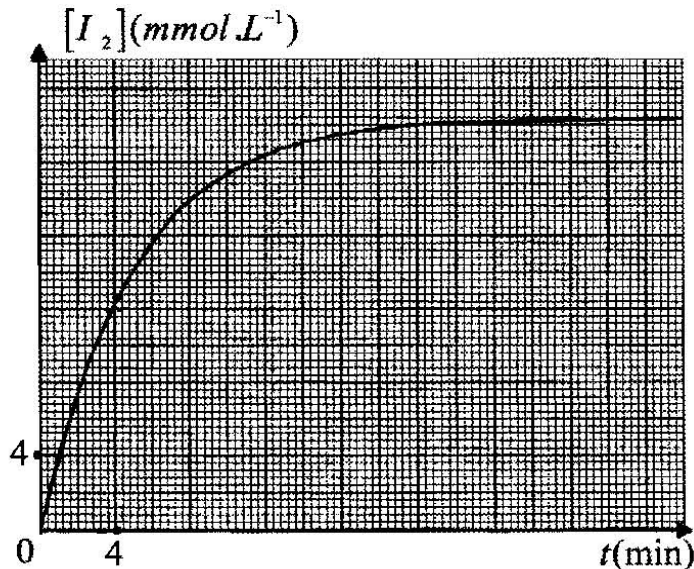
أ- استنتج قيمة $[I_2]_r$ في نهاية التفاعل.

ب- احسب قيمة السرعة الحجمية

لتشكل I_2 في اللحظة $t = 8\text{min}$.

ج- استنتج سرعة اختفاء الماء الأكسجيني

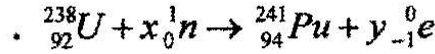
في نفس اللحظة $t = 8\text{min}$.



(الشكل-1)

التمرين الثاني: (03 نقاط)

لا يوجد البلوتونيوم $^{241}_{94}\text{Pu}$ في الطبيعة، وللحصول على عينة من أنويته يتم قذف نواة $^{238}_{92}\text{U}$ في مفاعل نووي بعدد x من النيوترونات. حيث يمكن نمذجة هذا التحول النووي بتفاعل معادلته:



1- أ- بتطبيق قانوني الانحفاظ عين قيمتي x و y .

ب- تصدر نواة البلوتونيوم $^{241}_{94}\text{Pu}$ أثناء تفككها جسيمات β^- ونواة الأمريسيوم $^{241}_{95}\text{Am}$.

اكتب معادلة التفكك النووي للبلوتونيوم وحدد قيمتي العددين A و Z .

ج- احسب قيمة طاقة الربط لكل نيوكليون (نوية) مقدرة بـ MeV لنواتي $^{241}_{94}\text{Pu}$ و $^{241}_{95}\text{Am}$.

ثم استنتج أيهما أكثر استقرارا.

2- تحتوي عينة من البلوتونيوم ^{241}Pu المشع في اللحظة $t=0$ على N_0 نواة.

بدراسة نشاط هذه العينة في أزمنة مختلفة تم الحصول على النسبة $\frac{A(t)}{A_0}$ حيث $A(t)$ نشاط العينة في

اللحظة t و A_0 نشاطها في اللحظة $t=0$ فحصلنا على النتائج التالية:

$t(\text{ans})$	0	3	6	9	12
$\frac{A(t)}{A_0}$	1,00	0,85	0,73	0,62	0,53

أ- ارسم، على ورقة مليمتريّة، البيان: $\ln \frac{A(t)}{A_0} = f(t)$.

ب- اكتب عبارة المقدار $\ln \frac{A(t)}{A_0}$ بدلالة t و λ .

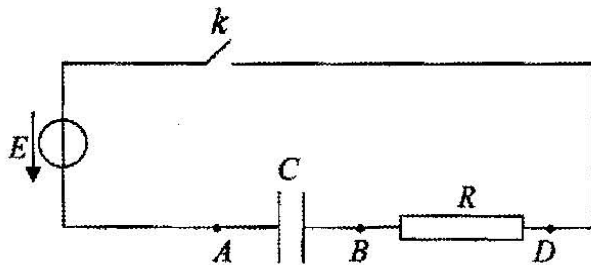
ج- عين بيانيا قيمة ثابت التفكك λ واستنتج قيمة زمن نصف عمر البلوتونيوم ^{241}Pu .

المعطيات: $m(^{241}\text{Pu}) = 241,00514u$ ، $m(p) = 1,00728u$ ، $m(^{241}\text{Am}) = 241,00457u$ ،

$$m(n) = 1,00866u \quad , \quad 1u = \frac{931,5}{c^2} \text{MeV}$$

التمرين الثالث: (03,5 نقطة)

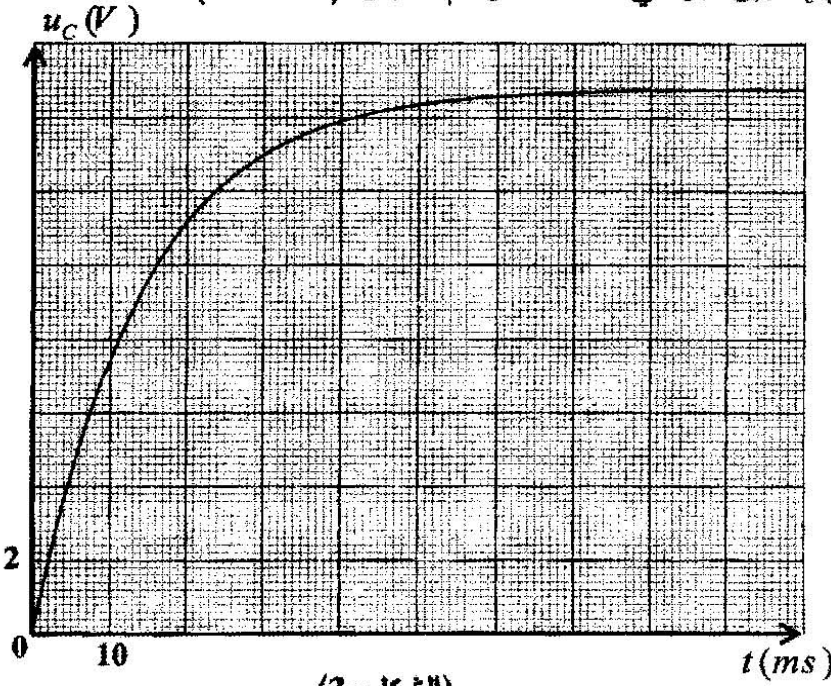
نربط على التسلسل العناصر الكهربائيّة التالية:



(الشكل-2)

- ناقل أومي مقاومته $R = 500\Omega$
- مكثفة سعته C غير مشحونة.
- مولد ذي توتر كهربائي ثابت E .
- قاطعة k (الشكل-2).

مكنك متابعة تطور التوتر الكهربائي $u_c(t)$ بين لبوسي المكثفة برسم البيان (الشكل-3).



(الشكل-3)

1/ عمليا يكتمل شحن المكثفة عندما يبلغ التوتر الكهربائي بين طرفيها 99% من قيمة التوتر الكهربائي بين طرفي المولد.

اعتمادا على البيان :

أ/ عين قيمة ثابت الزمن τ وقيمة

التوتر الكهربائي بين طرفي المولد

ثم أحسب سعة المكثفة C .

ب/ حدد المدة الزمنية t' لاكتمال

عملية شحن المكثفة.

ج/ ما هي العلاقة بين t' و τ ؟

2/ بتطبيق قانون جمع التوترات أوجد المعادلة التفاضلية بدلالة التوتر

الكهربائي بين طرفي المكثفة: $u_{AB} = u_c(t)$ ، ثم بين أنها تقبل حلاً من الشكل: $u_c(t) = E \left(1 - e^{-t/\tau}\right)$.

3/ اوجد قيمة الطاقة الكهربائية المخزنة E_c في المكثفة عند اللحظات: $t_0 = 0$ ، $t_1 = \tau$ ، $t_2 = 5\tau$.

4/ توقع (رسم كفي) شكل المنحنى $E_c = f(t)$.

التمرين الرابع: (03 نقاط)

بغرض تحضير محلول (S_1) لغاز النشادر $NH_3(g)$ ، نحل 1,2L منه في 500mL من الماء المقطر.

1- أ- احسب التركيز المولي C_1 للمحلول (S_1) ، علماً أن الحجم المولي في شروط التجربة $V_M = 24L.mol^{-1}$.

ب- اكتب المعادلة الكيميائية للتفاعل المنمذج للتحويل الكيميائي الحاصل.

2- إن قياس pH المحلول (S_1) في $25^\circ C$ أعطى القيمة 11,1.

أ- أنشئ جدولاً لتقدم التفاعل.

ب- احسب نسبة التقدم النهائي τ_1 . ماذا تستنتج ؟

3 - كلف الأستاذ في حصة الأعمال المخبرية فوج من التلاميذ لتحضير محلولاً (S_2) حجمه

$V = 50mL$ وتركيزه المولي $C_2 = 2.10^{-2} mol.L^{-1}$ انطلاقاً من المحلول (S_1) .

أ- ما هي الخطوات العملية المتبعة لتحضير المحلول (S_2) ؟

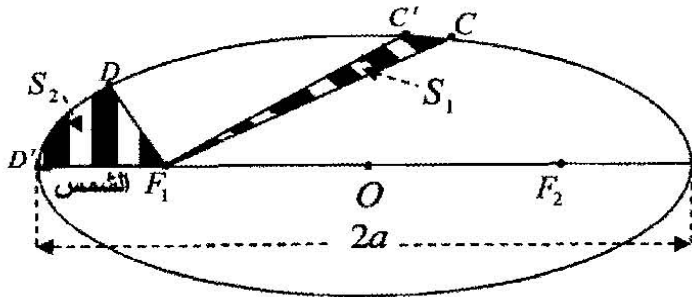
ب- إن قيمة pH المحلول (S_2) المحضر تساوي 10,8. احسب قيمة نسبة التقدم النهائي τ_2 للتفاعل.

ج- ما تأثير الحالة الابتدائية للجملة على نسبة التقدم النهائي للتفاعل ؟

4 - احسب قيمة ثابت الحموضة K_a للثنائية $(NH_4^+(aq)/NH_3(aq))$.

التمرين الخامس: (03 نقاط)

أ/ يكون مسار حركة مركز عطالة كوكب حول الشمس اهليلجياً كما يوضحه (الشكل-4).
ينتقل الكوكب أثناء حركته على مداره من النقطة C إلى النقطة C' ثم من النقطة D إلى النقطة D' خلال نفس المدة الزمنية Δt .



(الشكل-4)

1- اعتماداً على قانون كبلر الأول فسر وجود

موقع الشمس في النقطة F_1 ، كيف نسمي عندئذ النقطتين F_1 و F_2 ؟

2- حسب قانون كبلر الثاني ما هي العلاقة

بين المساحتين S_1 و S_2 ؟

3- بيّن أن متوسط السرعة بين الموضعين C و C' أقل من متوسط السرعة

بين الموضعين D و D' .

ب/ من أجل التبسيط نمذج المسار الحقيقي لكوكب في المرجع الهليومركزي

بمدار دائري مركزه O (مركز الشمس) ونصف قطره r (الشكل-5).

يخضع كوكب أثناء حركته حول الشمس إلى تأثيرها والذي يتمذج

بقوة \vec{F} ، قيمتها تعطى حسب قانون الجذب العام لنيوتن بالعلاقة:

$$F = G \frac{mM}{r^2}$$

حيث M كتلة الشمس، m كتلة الكوكب و G ثابت التجاذب

الكوني $G = 6,67 \times 10^{-11} SI$ باستعمال برمجة

"Satellite" في جهاز الإعلام الآلي تم رسم

البيان $T^2 = f(r^3)$ (الشكل-6).

حيث T دور الحركة.

1/ اذكر نص قانون كبلر الثالث.

2/ بتطبيق القانون الثاني لنيوتن على الكوكب

وبإهمال تأثيرات الكواكب الأخرى، اوجد عبارة

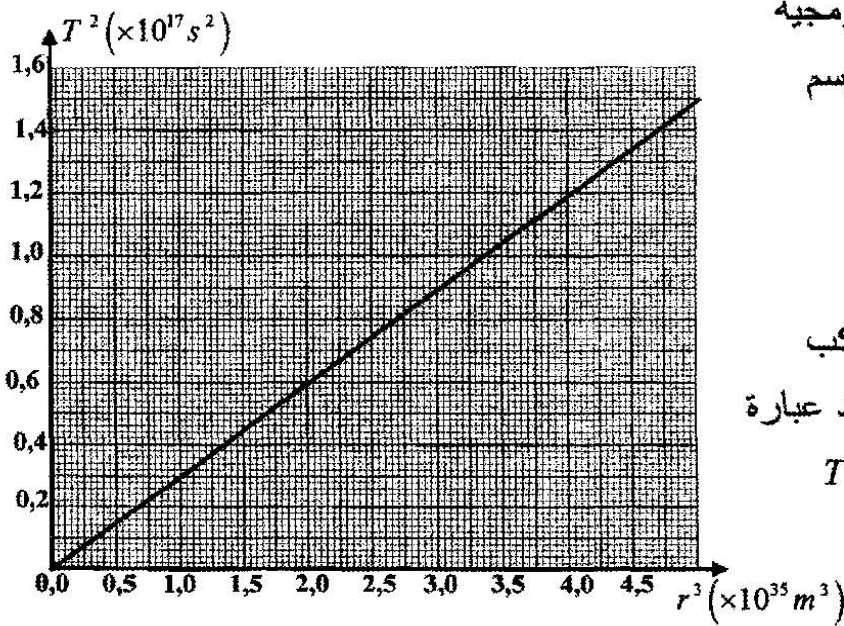
كل من v سرعة الكوكب، ودور حركته T

بدلالة r ، G ، M .

3/ أوجد بيانياً العلاقة بين T^2 و r^3 .

4/ أوجد العلاقة النظرية بين T^2 و r^3 .

5/ بتوظيف العلاقتين الأخيرتين استنتج قيمة كتلة الشمس M .



(الشكل-6)

التعريف التجريبي: (04 نقاط)

لدراسة حركة سقوط جسم صلب (S) كتلته m شاقولياً في الهواء، أستعملت كاميرا رقمية (Webcam)، عولج شريط الفيديو ببرمجية "Avistep" في جهاز الإعلام الآلي فتحصلنا على النتائج التالية:

$t (ms)$	0	100	200	300	400	500	600	700	800	900
$v (ms^{-1})$	0	0,60	0,90	1,02	1,08	1,10	1,12	1,13	1,14	1,14

1/ أ/ ارسم المنحنى البياني الممثل لتغيرات السرعة v بدلالة الزمن: $v = f(t)$.

السلم: $1 cm \rightarrow 0,20 ms^{-1}$ ، $1 cm \rightarrow 0,1s$.

ب/ عين قيمة السرعة الحدية v_{lim} .

ج/ كيف يكون الجسم الصلب (S) متميزاً للحصول على حركة مستقيمة شاقولية انسحابية في نظامين انتقالي ودائم؟

د/ احسب تسارع حركة (S) في اللحظة $t = 0$.

2/ تعطى المعادلة التفاضلية لحركة (S) بالعلاقة: $\frac{dv}{dt} + Av = C \left(1 - \frac{\rho V}{m}\right)$

حيث m الكتلة الحجمية للهواء، V حجم (S).

أ/ مثل القوى الخارجية المطبقة على مركز عطالة (S).

ب/ بتطبيق القانون الثاني لنيوتن، اوجد المعادلة التفاضلية لحركة مركز عطالة (S) بدلالة السرعة v وذلك في حالة السرعات الصغيرة.

وبيّن أن: $A = \frac{k}{m}$ و $C = g$ حيث: k ثابت يتعلق بقوى الاحتكاك.

ج/ استنتج قيمة دافعة أرخميدس وقيمة الثابت k .

تعطى: $g = 9,8N.Kg^{-1}$ ، $m = 19g$.