

السنة الدراسية 2017/2018
المقاطعة ع 29 بالأخصرية

ابتدائية فرهي رشيد
السنة الرابعة ابتدائي

امتحان الفصل الثالث المقترح في مادة الجغرافيا رقم 3

السؤال الأول : (2 ن)

1/ أذكر أربع محميات طبيعية بالجزائر .

أ/
ب/
ج/
د/

2/ بما تتميز محمية القالة ؟

السؤال الثاني : (3 ن)

خلفت الزلازل عدة خسائر مادية و بشرية كبرى فما هي الإجراءات الوقائية التي يجب اتخاذها ؟

.....
.....




السؤال الثالث : (2 ن)

أربط بسهم كل محمية بمساحتها :

- الحظيرة الوطنية للهقار
 - محمية ثنية الحد
 - محمية القالة
 - الحظيرة الوطنية التاسيلي
- 86438 هكتار
 - 720 هكتار
 - 4,5 مليون هكتار
 - 3425 هكتار

السؤال الرابع : (2,5 ن)

اليك مجموعة من الصور و مجموعة من العناوين ضع تحت كل صورة العنوان المناسب :
فرز النفايات - المحافظة على الآثار - التمشير - تنظيف الحي



بالتوفيق