

العام الدراسي : 2017 / 2018

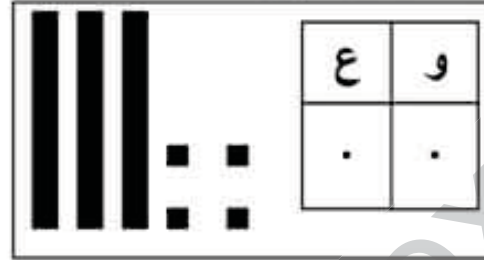
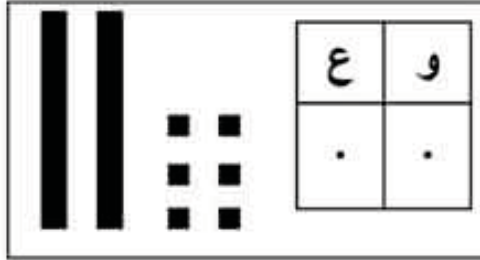
التاريخ : الثلاثاء 25 فيفري 2018

ابتدائية مسعود بوزيان بوقرة

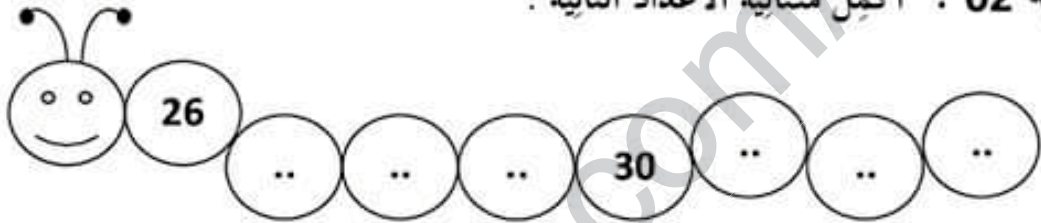
المستوى : الأولى ابتدائي

اختبار الفصل الثاني في مادة الرياضيات

الوضعية 01 : ألاحظُ و أكمِل :



الوضعية 02 : أكمِل مُتتالِيَةَ الأَعْدَادِ التَّالِيَةِ :



الوضعية 03 : أَنْجِزْ مَا يَلِي :

$$10 - 2 = \dots\dots$$

$$16 + 2 = \dots\dots$$

$$8 - 3 = \dots\dots$$

$$10 + 3 = \dots\dots$$

الوضعية 04 : اكْتُبِ الأَعْدَدَ الَّذِي يَسْبِقُ وَ الَّذِي يَلِي :

.. 17 ..

.. 38 ..

الوضعية 05 : تَمَلِّكُ لِيَلَى 10 صَوْرٍ ، وَ أَهَدَتْ لَهَا أُمَّهَا 8 صَوْرٍ أُخْرَى . كَمْ أَصْبَحَ عِنْدَهَا ؟

$$10 + 8 = 18$$

$$10 - 8 = 2$$

1- لَوْنِ الإِجَابَةَ الصَّحِيحَةَ

2- أَصْبَحَ عِنْدَهَا : صَوْرَةٌ

إمضاء الولي

العلامة

التلميذ :