

المستوى : السنة الأولى ابتدائي

الموسم الدراسي : 2016/2017م

10

اللقب : .....


الاسم : .....

### إختبار الثلاثي الثاني في مادة الرياضيات

الوضعية الأولى: تَفْرِزُ حَدِيحَةً مَرَّةً لِلْخَلْفِ وَ مَرَّةً لِلْأَمَامِ ؛ أَكْمِلْ بِالْعَدَدِ الَّذِي يَسْبِقُ وَ الْعَدَدِ الَّذِي يَلِي :

..	65	..	..	55	..	..	45	..	..	35	..
----	----	----	----	----	----	----	----	----	----	----	----

الوضعية الثانية: هَذَا الرَّضِيعُ جَائِعٌ خُذْهُ إِلَى رَضَاعَتِهِ ؛ لَوْنُ الْمَسَلِّكَ الَّذِي سَتَسْأَلُكَ :



الوضعية الثالثة: أَرَادَ أَحْمَدُ أَنْجَازَ وَاجِبِهِ الْمَنْزِلِيِّ الْآتِي ؛ سَاعِدْهُ فِي ذَلِكَ :


$60 + 5 = \dots$

$37 - 5 = \dots$


$40 + 10 = \dots$

$14 - 10 = \dots$


الوضعية الرابعة: سَجِّلْ تَوْقِيَّتَ نَشَاطَاتِ بِلَالٍ خِلَالَ الْيَوْمِ :




.....



.....



.....



.....

الوضعية الخامسة:

قَرَأَتْ لَيْلِيَا 27 صَفْحَةً مِنْ قِصَّةِ لَيْلَى وَ الذِّئْبِ ، وَبَقِيَتْ مِنْهَا 10 صَفْحَاتٍ .



- ماهو عدد صفحات القصة ؟

عدد صفحات القصة هو.....صفحة .

..... = .....