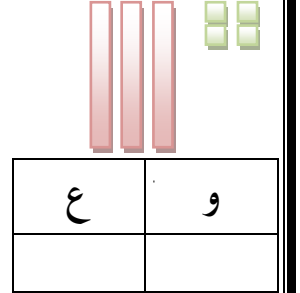
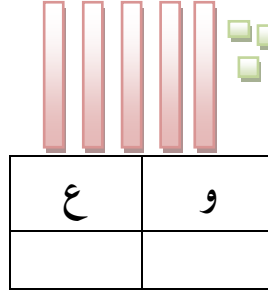
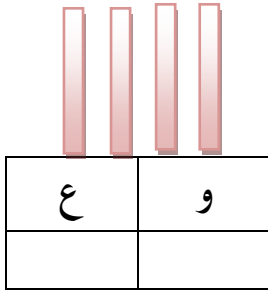


## اختبار الفصل الثاني في الرياضيات

النشاط الأول: أكتب الأعداد المُمَثَلَةَ بِالْأَعْمِدَةِ وَالْوَحَدَاتِ فِي كُلِّ حَالَةٍ.



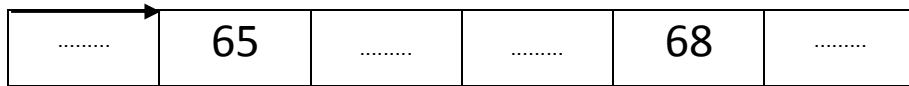
$$36 + 13 = \dots\dots$$

النشاط الثاني: أكمل الحساب :

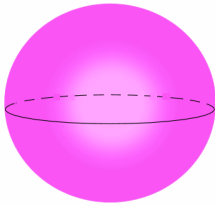
$$25 + 10 = \dots\dots$$

$$12 + 45 = \dots\dots$$

النشاط الثالث: أكمل ملء الشريط العددي .



النشاط الرابع: أربط بين كل مجسم واسمه.



اسطوانة




كرة



مكعب

النشاط الخامس: اشترى أحمدٌ وخديجةٌ من معرضِ الكُتبِ كتابًا في الرياضياتِ ثمنه 65 دينارًا وكتابًا في  
الرياضةِ ثمنه 39 دينارًا وقصةَ النملةِ والصُرصورِ ثمنها 30 دينارًا.



\* رتبْ هذه الأثمانَ مِنَ الأكبرِ إلى الأصغرِ .

→

.....	.....	.....
-------	-------	-------

\* ما هو ثمنُ كتابِ الرياضَةِ وقصةِ النملةِ والصُرصورِ ؟

العملية : .....

ثمنُ كتابِ الرياضَةِ وقصةِ النملةِ والصُرصورِ هو : .....

بالتوفيق إن شاء الله

