

تصحيح تقويم شهر فيفري

التمرين الأول(ن2)

عدد المثلثات هو: 8 مثلثات.....1ن

عدد المربعات هو: 5 مربعات.....1ن

التمرين الثاني:(2 ن)

أكتب بالحروف أو بالأرقام

سبعة عشر: 170.5ن

عشرون: 200.5ن

10: عشرة0.5 ن

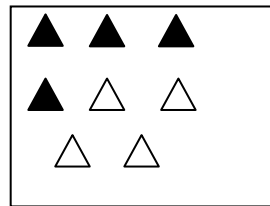
3: ثلاثة0.5 ن

التمرين الثالث:(1.5 ن)

| | | | | | | | |
|---|----|----|----|----|----|----|----|
| 9 | 10 | 12 | 13 | 14 | 16 | 18 | 19 |
|---|----|----|----|----|----|----|----|

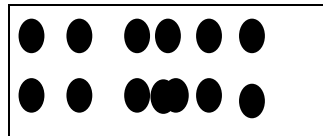
التمرين الرابع (1ن)

لون نصف الأشياء في كل بطاقة



التمرين الخامس: (1 ن)

رسمت خديجة قريصات أرسم ضعف ما رسمت





التمرين السادس: أكمل.....(1.5 ن)

الأرنب في السطر الأول و في العمود الثاني0.5 ن

الفيل في السطر الثالث و في العمود الثالث.....0.5 ن

أرسم قريصة في السطر 4 و في العمود 30.5 ن

| | | | | |
|---|--|---|---|---|
| | | ○ | | 4 |
| | |  | | 3 |
| | | | | 2 |
| |  | | | 1 |
| 1 | 2 | 3 | 4 | |

الوضعية الإدماجية:.....(1 ن).

صارت عند أحمد . $9 - 5 = 4$