

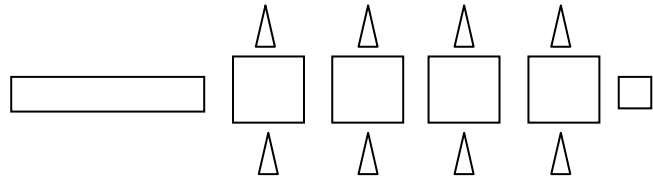


المستوى :الأولى ابتدائي (1AP) فيفري : 2017

تقويم رقم (2) للفصل الثاني في مادة الرياضيات

التمرين الأول:

أحسب الأشكال ثم أكتب العدد



عدد المثلثات هو:

عدد المربعات هو:

التمرين الثاني:

أكتب بالحروف أو بالأرقام

سبعة عشر:

عشرون:

10:

3:

التمرين الثالث:


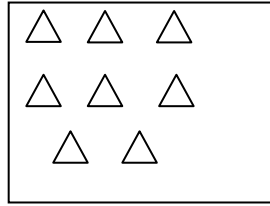
رتب الأعداد من الأصغر إلى الأكبر

12 10 19 16 18 9 14 13

9 . . . 14 . . .

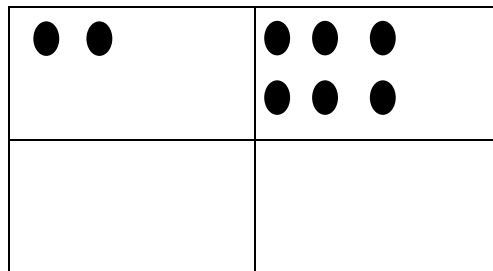
التمرين الرابع:

لون نصف الأشياء في كل بطاقة



التمرين الخامس:

رسمت خديجة قريصات أرسم ضعف ما رسمت





التمرين السادس: أكمل

الأرنب في السطر و في العمود

الفيل في السطر و في العمود

أرسم قريصة في السطر 4 و في العمود 3

				4
				3
				2
				1
1	2	3	4	

الوضعية الإدماجية: عند أحمد 9 كرية خسر منها 5 كريات .

- كم كرية صارت عند أحمد ؟

صارت عند أحمد