

2017 /2016

(إختبار في التربية العلمية والتكنولوجية للسنة الثانية)

اللقب : الإسم : من إعداد الفريق التربوي

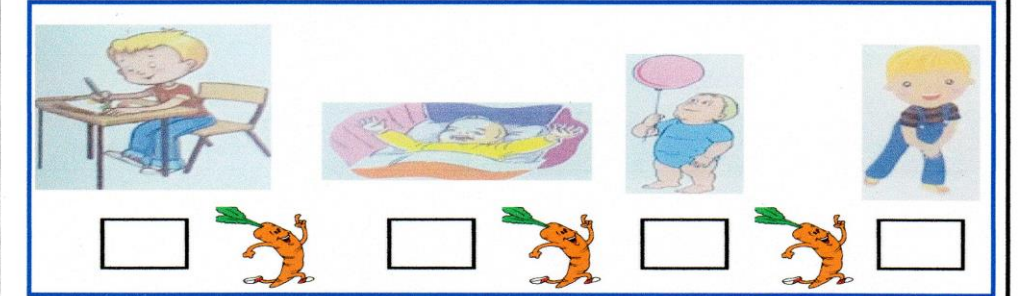
التمرين الأول (02 ن) : أملأ الفراغ بـ : **ينخفض - يرتفع** .
* أثناء الشهيق يدخل الهواء إلى جسمي ف صدري .
* وعند الزفير يخرج الهواء منه ف صدري .

التمرين الثاني (01 ن) : ضع إشارة (+) في الخانة المناسبة .
* أنا أنمو باستمرار فيزداد :


وزني لساني طولي

التمرين الثالث (02 ن) : أقرأ ثم أكمل :
* لكي يعيش النبات الأخضر وينمو يحتاج إلى
* النبات يمتص الماء بواسطة
* لكي يعيش النبات الأخضر وينمو يحتاج إلى
* النبات يمتص الماء بواسطة

التمرين الرابع (02 ن) : رتب مراحل نمو الطفل من الأصغر سناً إلى الأكبر سناً



التمرين الخامس (03 ن) : لاحظ الرسم ثم أكمل البيانات :



بالتوفيق انتهى

2017 /2016

(إختبار في التربية العلمية والتكنولوجية للسنة الثانية)

اللقب : الإسم : من إعداد الفريق التربوي

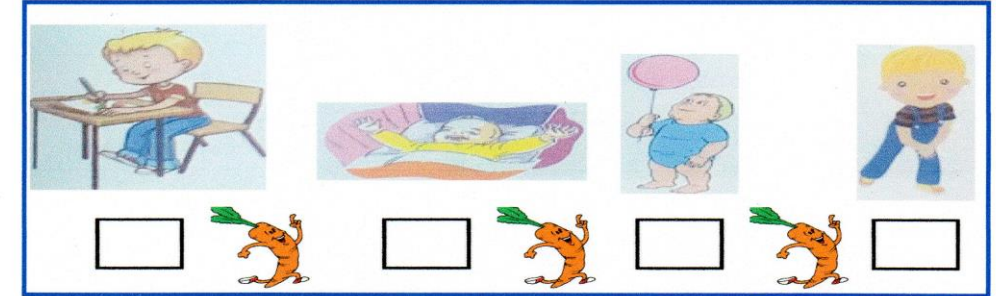
التمرين الأول (02 ن) : أملأ الفراغ بـ : **ينخفض - يرتفع** .
* أثناء الشهيق يدخل الهواء إلى جسمي ف صدري .
* وعند الزفير يخرج الهواء منه ف صدري .

التمرين الثاني (01 ن) : ضع إشارة (+) في الخانة المناسبة .
* أنا أنمو باستمرار فيزداد :


وزني لساني طولي

التمرين الثالث (02 ن) : أقرأ ثم أكمل :
* لكي يعيش النبات الأخضر وينمو يحتاج إلى
* النبات يمتص الماء بواسطة
* لكي يعيش النبات الأخضر وينمو يحتاج إلى
* النبات يمتص الماء بواسطة

التمرين الرابع (02 ن) : رتب مراحل نمو الطفل من الأصغر سناً إلى الأكبر سناً



التمرين الخامس (03 ن) : لاحظ الرسم ثم أكمل البيانات :



بالتوفيق انتهى