

امضاء الولي

تقويم فصلي في الرياضيات (الفصل الثاني)

العلامة

النشاط الأول: أنجز العمليات التالية

$$\begin{array}{r} 796 \\ - \\ \hline \end{array}$$

$$\begin{array}{r} 581 \\ - \\ \hline \end{array}$$

$$\begin{array}{r} 346 \\ + \\ \hline \end{array}$$

$$\begin{array}{r} 235 \\ + \\ \hline \end{array}$$

$$\begin{array}{r} 285 \\ - \\ \hline \end{array}$$

$$\begin{array}{r} 421 \\ - \\ \hline \end{array}$$

$$\begin{array}{r} 371 \\ + \\ \hline \end{array}$$

$$\begin{array}{r} 623 \\ + \\ \hline \end{array}$$

النشاط الثاني: أكتب الأعداد بالأرقام أو بالحروف.

.....	368
-------	-----

.....	ثَمَانِمِائَةٍ وَأَرْبَعَةٌ وَسَبْعُونَ
-------	---

.....	خَمْسُمِائَةٌ وَسِتَّةٌ وَعِشْرُونَ
-------	-------------------------------------

.....	625
-------	-----

النشاط الثالث: ضع الأعداد التالية على الشريط العددي.

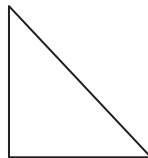
→ 698 - 122 - 524 - 301 - 411 - 689

.....	421
-------	-------	-------	-----	-------	-------	-------


النشاط الرابع: سم المصطلحات التالية.



.....



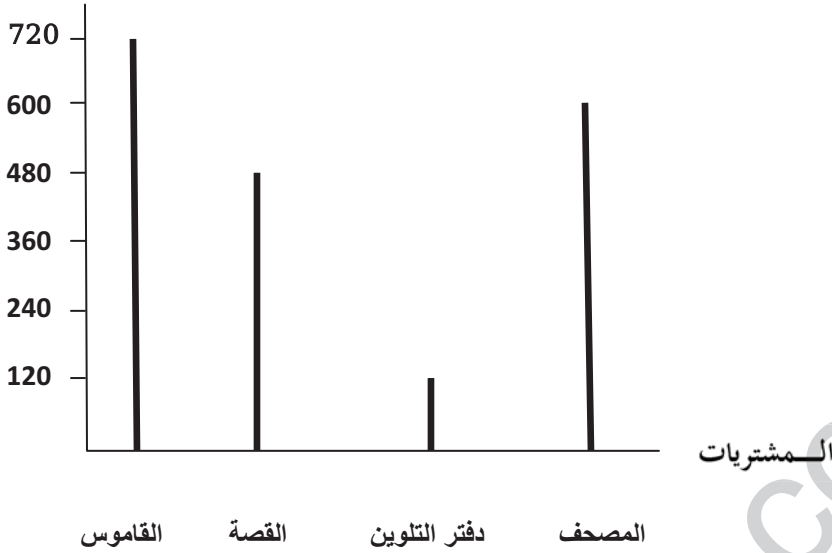
.....



.....

النشاط الخامس: زَارَ سَمِيرٌ وَيَاسَمِينَ مَعْرَضَ الْكُتَابِ رُفْقَةً أَبِيهِمَا وَرَاحًا يَتَجَوَّلَانِ فِي أَرْوَقَتِهِ الْكَثِيرَةِ ، فَاشْتَرَى كُلُّ وَاحِدٍ مِنْهُمَا مَا أَعْجَبَهُ ، أَمَا سَمِيرٌ فَاشْتَرَى قِصَّةً وَدَفْتَرَ التَّلْوِينِ أَمَا يَاسَمِينَ فَقَدْ اشْتَرَتْ مُصْحَفًا وَقَامُوسًا ، أَثْمَانُهَا فِي التَّمْثِيلِ الْبَيَانِيِّ .

الثمن بالدينار



لاحظ التمثيل جيداً وأجب .

❖ ثمن المصحف هو : ديناراً

❖ ثمن القصة هو : ديناراً

❖ ما هو ثمن القاموس ودفتر التلوين معاً؟

ثمن القاموس ودفتر التلوين معاً هو : ديناراً

=

➤ كان مع سمير مبلغ قدره 850 دينار .

❖ كم سيبقى مع سمير بعد الشراء؟

س يبقى مع سمير بعد الشراء دينار .

=

