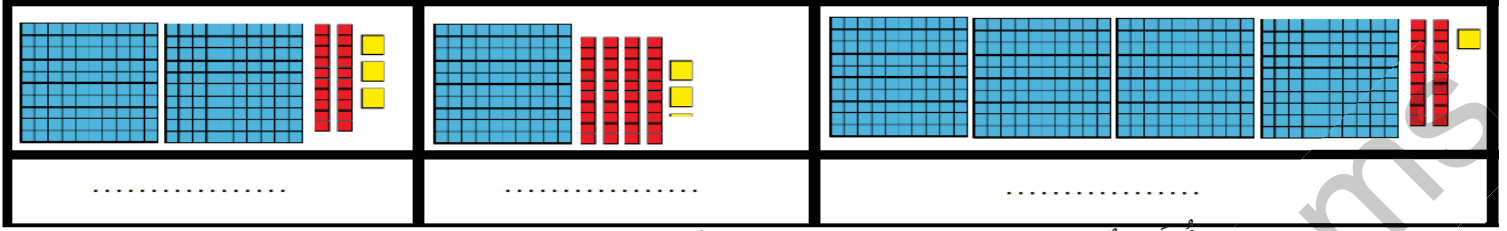


النشاط الاول : اكتب العدد المناسب: 1.5



النشاط الثاني: 1- أقرن بين العددين بوضع العلامة: < > 1.

987	.	921	123	.	246
-----	---	-----	-----	---	-----

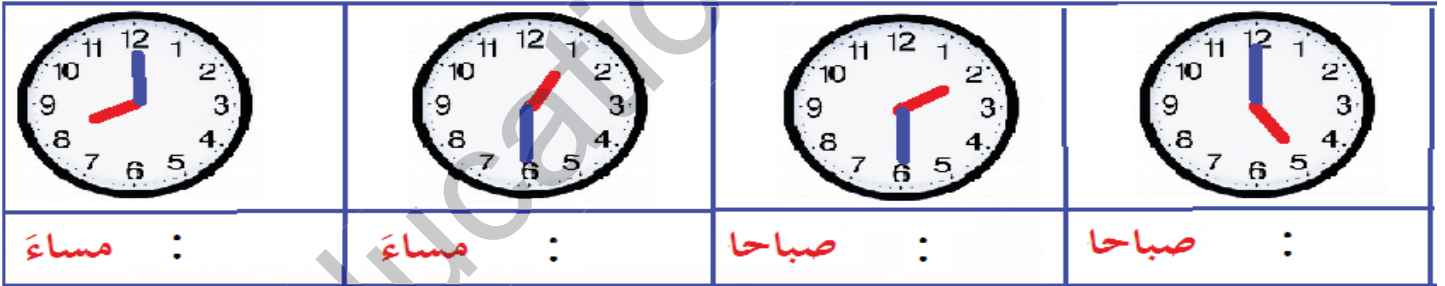
2- ارتب الأعداد من الأصغر إلى الأكبر: 987 - 123 - 365 - 1.

.....
-------	-------	-------

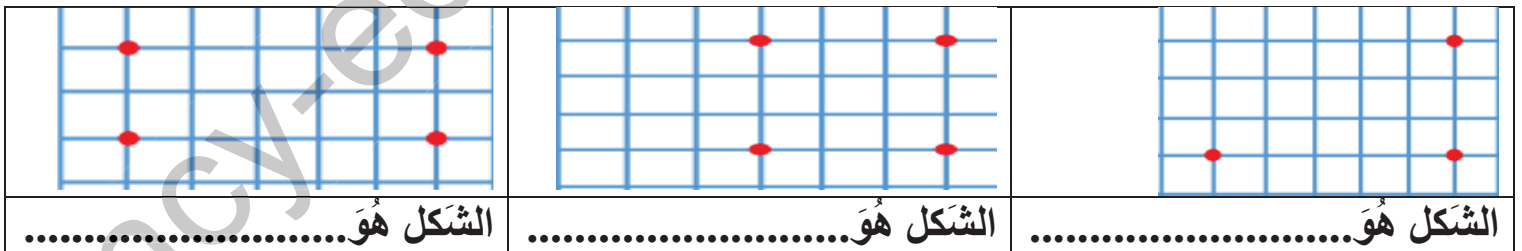
3- اكتب بالحروف الأعداد التالية: 1.

.....	987	123
-------	-----	-------	-----

النشاط الثالث : اكتب التوقيت: 1.



النشاط الرابع: أصل بين النقاط وأسمي الشكل: 1.5



الوضعية الإدماجية : على كراس الاختبار * الحل - العمليات - الاجوبة * 3.

يملك خالد في حصالته 245 دج و تملك سلمى في حصالته 123 دج

1- أعطت سلمى لخالد 123 دج ووضعها في حصالته

- كم يملك خالد من النقود في حصالته؟

2- أخرج خالد من حصالته 65 دج ليشتري قصة ثمنها 53 دج

- كم يرجع البائع لخالد من النقود؟