

المستوى: الثانية بتدائي (2AP) مارس: 2017

اختبار الفصل الثاني في مادة الرياضيات

التمرين الأول: (1.5ن)

أكمل الشريط العددي لآتحصل على متتالية أعداد.

.	270
---	-----	---	---	---	---	---

التمرين الثاني: (2ن)


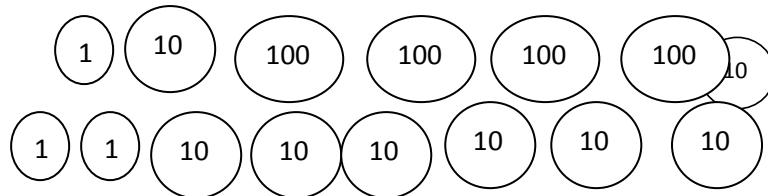

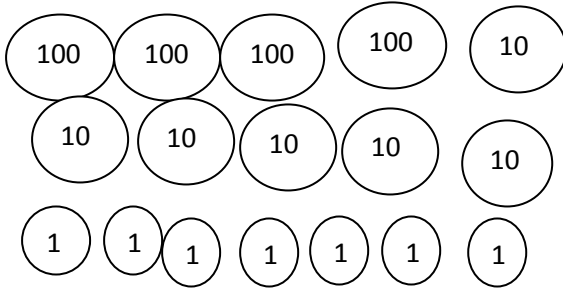
اكتب الأعداد بالحروف أو بالأرقام:

286 : أربعمائة و خمسة :

709 : ستمائة و واحد و ثلاثون :

التمرين الثالث: (2ن)

أحيط المبلغ اللازم لشراء كل لعبة.



التمرين الرابع: (1.5ن)

أحوّل الأطوال إلى الوحدة المطلوبة

1 متر و 85 سم =سم

2 متر =سم

1 متر و 50 سم =سم

الوضعية الإدماجية:

يملك مكتبيّ 194 كتابا باع في الشهر الأوّل 43 كتابا ، و باع في الشهر الثاني 60 كتابا

فحصّل على 625 ديناراً .

1/ كم كتابا باع المكتبيّ في الشهرين ؟

2/ كم كتابا بقي عنده ؟

3/ مّثل المبلغ الذي تحصّل عليه بالقطع النقديّة.