

الوضعية 01: أنجز العمليات التالية :


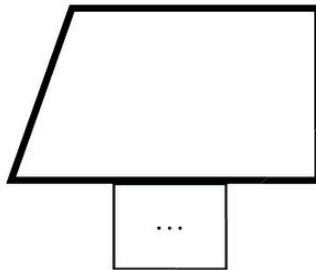
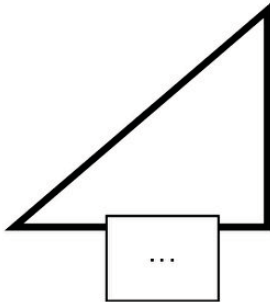
6	5
-	3 0
=	. .

7	4
-	2 3
=	. .

3	6
+	1 4
=	. .

4	5
+	2 3
=	. .

الوضعية 02: ألون المضلعات و أكتب عدد الزوايا في كل رسم :



الوضعية 03: أرتب الأعداد التالية ترتيباً تصاعدياً :

966 - 772 - 429 - 815 - 915 - 224 .

الوضعية 04: أكمل كما في المثال التالي : $176 = 100 + 70 + 6$

$224 = \dots + \dots + \dots$	$183 = \dots + \dots + \dots$
-------------------------------	-------------------------------

الوضعية الإدماجية:

اشترى حسام مقلمة بـ 150 ديناراً ، و قلماً بـ 30 ديناراً ، فكَم سَيَدْفَعُ لِلْبَائِعِ ؟

الجواب

الحل

العملية

.....
.....	+
.....	-----
.....