

الرياضيات

1 - ألون أطول شجرة باللون الأخضر وأقصر شجرة بالأصفر (0,5ن)




2- أكمل كتابة الأعداد بالترتيب (1,5ن)


1	2	3	4	4	6	7	8	9	10
0,25		0,25		0,25		0,25	0,25	0,25	

3- ألون المربع باللون الأخضر ' المثلث بالأحمر ، المستطيل بالأصفر


و الدائرة بالازرق. (2ن)




0,5



0,5

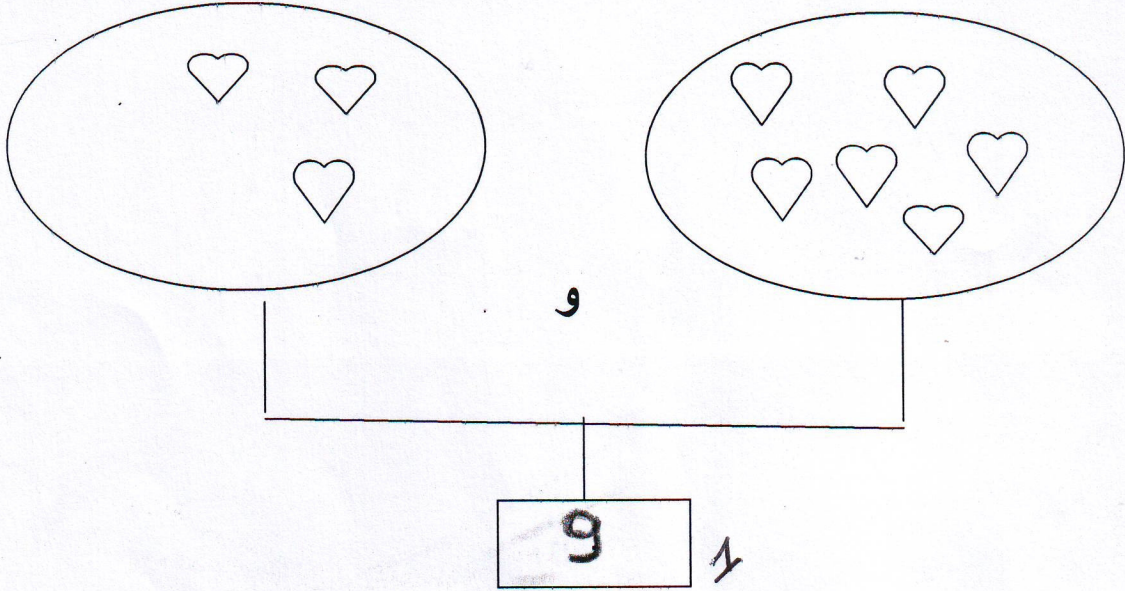


0,5

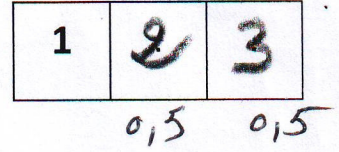
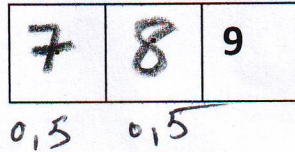
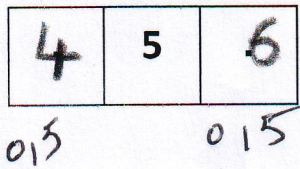


0,5

4- أكتب في الخانة العدد المناسب (1ن)



5- أكتب في الخانة العدد المناسب (3ن)



6- أكمل الرسم ليصبح عدد القريصات 10 ثم أكتب كم أكملت في البطاقة (2ن)

