


فرض الفصل الثالث في مادة الرياضيات

المستوى: التحضيري الابتدائي (Préparatoire)



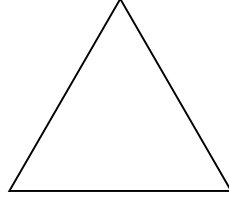
1 - ألون أطول شجرة باللون الأخضر وأقصر شجرة بالأصفر



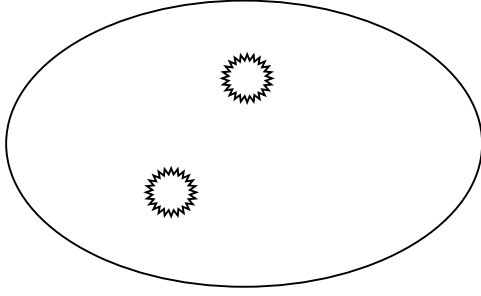
2- أكمل كتابة الأعداد بالترتيب

.	2	.	4	.	6	.	.	.	10
---	---	---	---	---	---	---	---	---	----

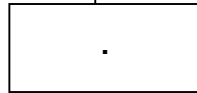
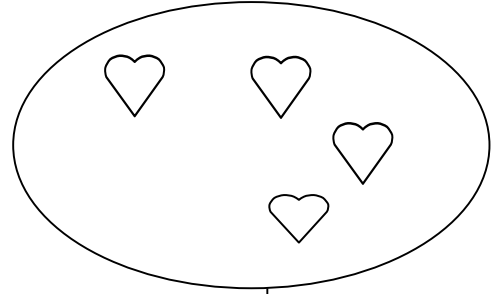
3- ألون المربع باللون الأخضر ، المثلث بالأحمر ، المستطيل بالاصفر
و الدائرة بالازرق .



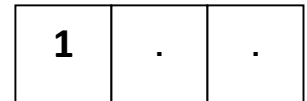
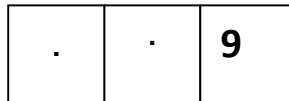
4- أكتب في الخانة العدد المناسب



و



5- أكتب في الخانة العدد المناسب



6- أكمل الرّسم ليصبح عدد القريصات 10 ثم أكتب كم أكملت في البطاقة

