

اختبار الفصل الثالث في مادة الرياضيات ماي 2014

المستوى: تحضيري (Préparatoire)

التمرين الأول: أكتب العدد المناسب في الخانة الفارغة :

7 ... 9

8 ... 10

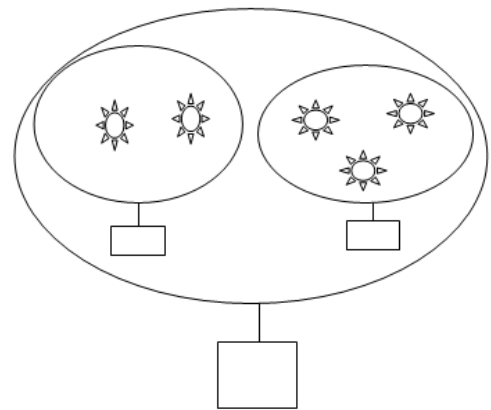
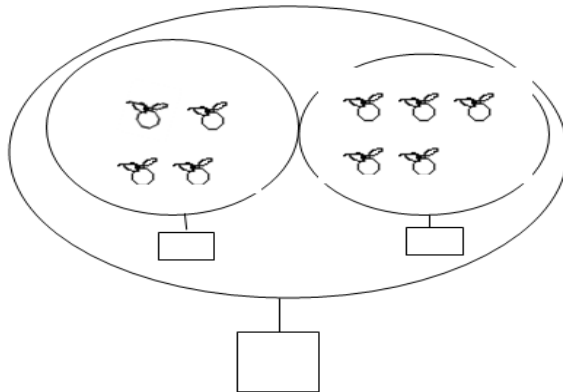
1 ... 3

4 ... 6

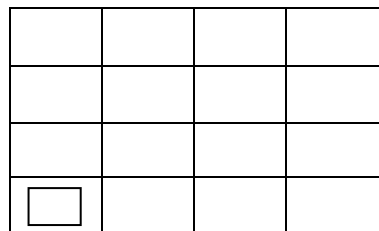
2 ... 4

3 ... 5

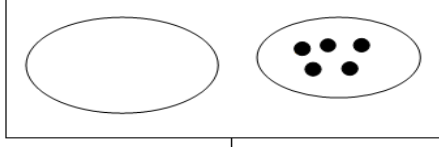
التمرين الثاني: أحسب و أكتب العدد المناسب في البطاقة :



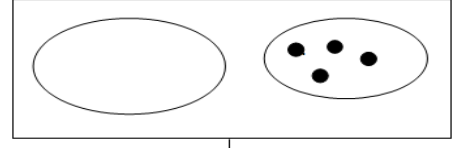
التمرين الثالث: أكمل رسم المربعات لتتحقق الإستقامية :



التمرين الرابع : أكمل الرسم ليصبح عدد الكريات 10


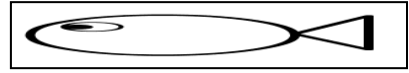
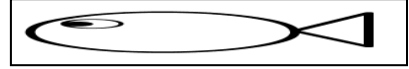




10



10

التمرين الخامس : وزعت رباب الأسماك على القِطتين بالتساوي



أكلت كلّ قطة



بقي عند رباب

ثمّ لَوّن الشكل

5

إلى

1

التمرين السادس : أرسم خطوط بإستعمال المسطرة من

1

•

• 4

3

•

5

•

•

2