



## المستوى : الأولى ابتدائي [1AP] ماي ، 2018

### اختبار الفصل الثالث في مادة الرياضيات

التمرين الأول: أنجز العمليات التالية: 1.5ن

$$\begin{array}{r} 1 \quad 2 \\ + 8 \quad 5 \\ \hline = \quad . \quad . \end{array} \quad \begin{array}{r} 4 \quad 3 \\ + 6 \\ \hline = \quad . \quad . \end{array} \quad \begin{array}{r} 5 \quad 8 \\ + 2 \quad 0 \\ \hline = \quad . \quad . \end{array}$$

التمرين الثاني: أكمل بإحدى العبارات المناسبة :

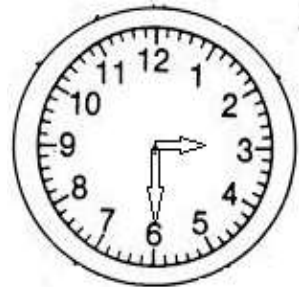
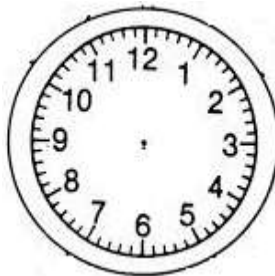
يساوي ، أكبر من ، أصغر من 1.5ن

$$56 \dots\dots\dots 65$$

$$10+20+10+8 \dots\dots\dots 48$$

$$3+10+10+30 \dots\dots\dots 10+13$$

التمرين الثالث: أكتب التوقيت الذي تشير إليه الساعة و أرسم عقربي الساعة 2ن



16 : 30

20: 00

.. : ..

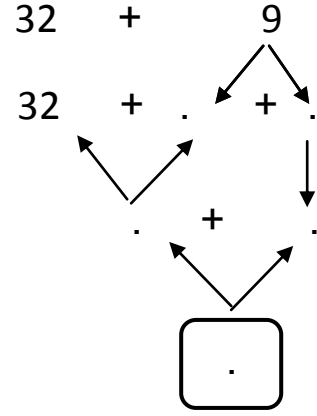
.. : ..

التمرين الرابع: أكمل الحساب: 3ن

$$21+16 = . + . + . + .$$

$$21+16 = . + .$$

$$21+16 = .$$



المشكلة: عند سامي 55 دينارا اشترى كراس بـ 24 دينار و قلما بـ 10 دينار 2ن

1- ما هو ثمن المشتريات ؟

- ثمن المشتريات هو : .....

2- كم بقي عند سامي ؟

- بقي عند سامي : .....



10 دينار



24 دينار

حي فعلول - برج البحري - الجزائر