



مارس: 2018

المستوى: الأولى ابتدائي (1AP)

اختبار الفصل الثاني في مادة التربية العلمية

التمرين الأول: أربط كلّ حاسة مع العضو الذي يناسبها .


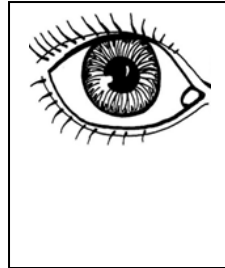

اللمس

السمع

التذوق

الرؤية

الشم



التمرين الثاني: أجب بـ ( صحيح ) أو ( خطأ )

أنتقل من مكان إلى آخر بالمشي فقط (.....)

الأغذية التي أتناولها مصدرها حيواني و نباتي ومعدني (.....)

القلب ينبض في النهار و يتوقف في الليل (.....)

لا يمكنني العيش دون تنفس (.....)

**التمرين الثالث :** أصنّف الحيوانات إلى : ( متوحّش - أليف )

.....	الأسد
.....	البقرة
.....	الدّب
.....	الدّجاجة

**التمرين الرابع :** أرّتب الكلمات لأحصل على جملة مفيدة .

المتوحّشة      الحيوانات      تعيش      الغاية      في

**التمرين الخامس :** أكمل الفقرة بالكلمات المناسبة :

( الحسنّة - يدّي - أسناني - صحّتي )

لأحافظ على ..... ألّتزم بالعادات ..... عند الأكل .

فأغسل ..... قبل الأكل .

وأعتدل في الجلوس , وأنظّف ..... بعد الأكل .