

السنة الدراسية : 2018/2019
القسم : الخامس ابتدائي

ابتدائية : فرهي رشيد
المقاطعة ع 29 بالأخضرية

اختبار الفصل الأول في مادة التاريخ رقم 1

السؤال الأول : (2 ن)

أربط كل مرحلة تاريخية بتاريخها :

- مرحلة التاريخ القديم
- مرحلة التاريخ الوسيط
- مرحلة التاريخ الحديث
- مرحلة التاريخ المعاصر
- 1453 م
- 476 م
- 1789 م
- 3200 ق . م

السؤال الثاني :





ضع أمام كل معلم تاريخي مكان تواجده :

- مقام الشهيد :
- جامع كتشاوة :
- أهرامات الجيزة :
- صور الصين العظيم :

السؤال الثالث :

ضع فوق كل صورة اسم الشخصية المناسبة لها من بين الشخصيات التالية :

خير الدين بربروس ، الرايس حميدو ، الأمير عبد القادر ، لويس الرابع عشر ، عقبة بن نافع



السؤال الرابع :

أكمل :

احتلت الجزائر ابتداءً من أواخر القرن السادس عشر مكانة دولية مرموقة بفضل :

..... /1

..... /2

..... /3

..... /4

بالتوفيق