

الجمهورية الجزائرية الديمقراطية الشعبية

السنة الدراسية: 2017-2018

وزارة التربية الوطنية

المستوى: الثانية متوسط

الاختبار الثلاثي الثالث

متوسطة أحمد زيد العالية بسكرة

المدة: ساعة ونصف


مادة: العلوم الفيزيائية والتكنولوجيا

الجزء الأول (12 نقطة)

التمرين الأول (6 نقاط)

التركيب الضوئي هو تحول تقوم به النباتات الخضراء وذلك بوجود الضوء ، حيث تحول الماء (H_2O) و غاز ثنائي أكسيد الكربون (CO_2) إلى جلوكوز ($C_6H_{12}O_6$) وغاز ثنائي الأوكسجين (O_2).

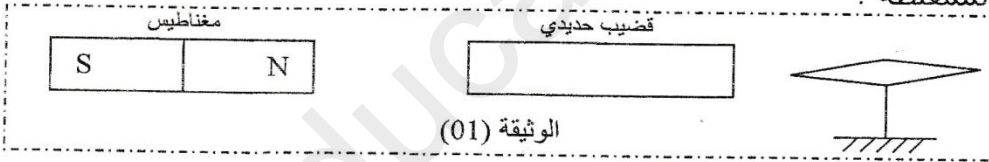
- (1) ما نوع هذا التحول ؟ علل.
- (2) حدد في هذا التحول - مواد الحالة الابتدائية. - مواد الحالة النهائية.
- (3) أكمل كتابة هذا التحول بالرموز الكيميائية مع تحديد الحالة الفيزيائية لكل نوع كيميائي.



- (4) هل الذرات محفوظة في هذا التحول ؟.
- (5) هل الجزيئات محفوظة في هذا التحول ؟
- (6) فسر مجهريا ما يحدث للجزيئات خلال هذا التحول.

التمرين الثاني (6 نقاط)

- (01) - عرف الحقل المغناطيسي.
- لماذا نجسد خطوط الحقل المغناطيسي ؟
- كيف يكون اتجاه خطوط الحقل المغناطيسي ؟
- (02) - (أ) في أي وضعية تتزن الإبرة الممغنطة البعيدة عن تأثير المغناط ؟
- (ب) نضع قضيبا حديديا بين إبرة ممغنطة ومغناطيس فنلاحظ انحرافها واتزانها كما في الوثيقة (01).
- ما سبب انحراف الإبرة الممغنطة وتغير وضعية توازنها ؟
- هل تمغنط القضيب الحديدي ؟
- إذا كانت الايجابية بنعم ما هي طريقة تمغنطه ؟
- عين قطبي الإبرة الممغنطة ؟




- (3) الوثيقة (02) تمثل نموذجا للكرة الأرضية بمجالها المغناطيسي.

المطلوب :

عين على الوثيقة (02)

- (أ) - القطب الجغرافي الشمالي للأرض
- القطب الجغرافي الجنوبي للأرض
- القطب المغناطيسي الشمالي للأرض
- القطب المغناطيسي الجنوبي للأرض
- (ب) اتجاه خطوط الحقل المغناطيسي الأرضي.



الجزء الثاني (08 نقاط)

الوضعية الإدماجية

أورستد عالم فيزيائي شهير اكتشف أن : مرور التيار الكهربائي في ناقل يولد حوله حقل مغناطيسي.

هذا الاكتشاف كان سببا في حدوث ثورة في الصناعات الكهرومغناطيسية .

I. اقترح بروتوكولا تجريبيا تثبت من خلاله ما اكتشفه وأثبتته العالم أورستد.

II. يعتبر المغناطيس الكهربائي والذي يستعمل في العديد من الآلات من أهم تطبيقات هذا الاكتشاف.

الوثيقة (03) تمثل رسما تخطيطيا لمغناطيس كهربائي، لاحظ هذه الوثيقة ثم اجب عن الأسئلة.

(1) أكمل الجدول التالي :

رقم العنصر	التسمية	وظيفة العنصر	مادة الصنع
1			
2			

(2) هل يمكن صنع العنصر 2 من الفولاذ ؟ علل.

(3) لماذا لا يمكن صنع العنصر 2 من النحاس ؟

(4) اذكر بعض استعمالات المغناطيس الكهربائي.

