

الموسم الدراسي: 2017/2016

المدة: ساعة

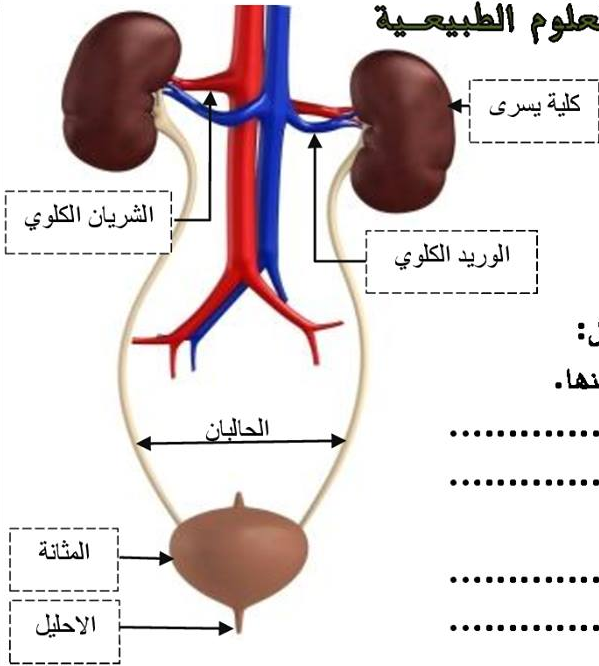
المستوى: السنة الأولى متوسط

الاسم:

اللقب:

القسم: 1م ...

الفرض الثاني في مادة العلوم الطبيعية



التمرين الأول: (06 نقاط)

نتيجة لمختلف نشاطاتها تقوم العضوية بالتخلص من الفضلات، حيث يعتبر البول أحدها.

يمثل الرسم التخطيطي المقابل الجهاز المسؤول عن طرح البول: بين الفرق بين الدم الداخل إلى الكلية والدم الخارج منها.

.....

.....

اشرح دور الكلية.

.....

.....

فيما يتمثل دور المجاري البولية.

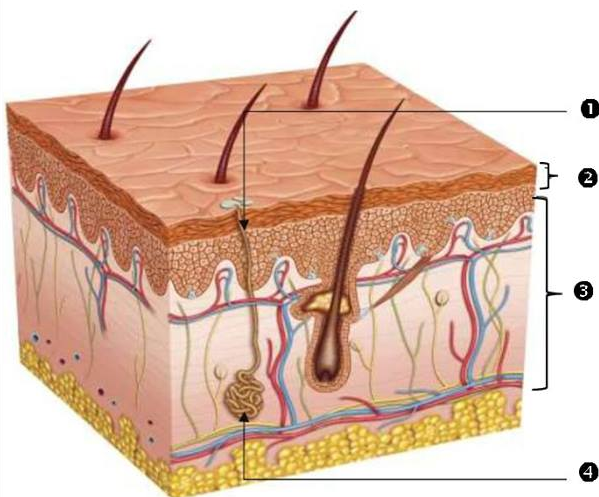
.....

.....

.....

التمرين الثاني: (06 نقاط)

التعرق عملية هامة تقوم بها العضوية عبر الجلد.



1. اعطي عنوان مناسب للوثيقة المقابلة.

.....

2. اكتب البيانات اللازمة.

..... 1

..... 2

..... 3

..... 4

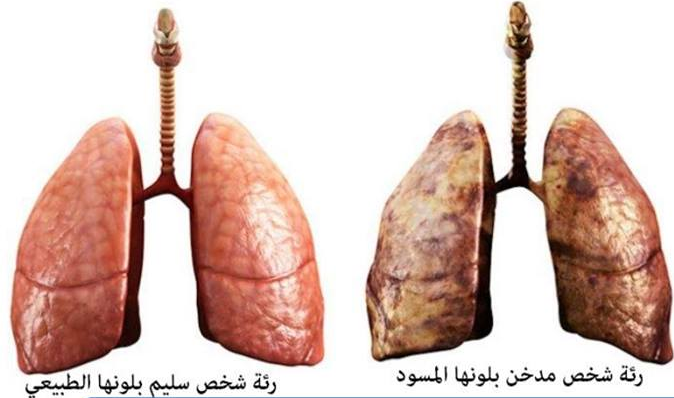
3. ماهي علاقة التعرق بالبول؟

.....

.....

الوضعية الادماجية: (08 نقاط)

خلال عرضك لبحث حول أمراض الجهاز التنفسي تطرقت لمثال عن شخص يعاني من مشاكل صحية وبخاصة على مستوى جهازه التنفسي، وهذا بسبب آفة التدخين فهو كثير التدخين. من بين الأعراض التي يعاني منها سعال حاد، آلام في الصدر والكتف، صعوبة التنفس، فقدان الشهية، فقدان الوزن، وقد تدهورت حالته الصحية ليدخل المستشفى ويفارق الحياة بعدها.



السند1: مقارنة بين رئة شخص مدخن وآخر غير مدخن

بناء على السندات ومعارفك:

بين أعراض مرض هذا الشخص.

السند2: صورة قبل وبعد المرض

استنتج اسم المرض الذي يعاني منه.

اعطي لزملائك ثلاثة قواعد صحية تخص سلامة الوظيفة التنفسية.

1.

2.

3.

التفاؤل

هو الكالسيوم الوحيد الذي يقاوم هشاشة الأمل