

الإختبار الثلاثي الأول في مادة الاجتماعيات

التاريخ: [12 نقطة]

الوضعية الأولى:

[03.5 ن]

" لم يتم فتحها الا بعد عدة محاولات عديدة ، حيث اتجهت انظار العثمانيين إليها منذ 1400 م وتوالت محاولات فتحها بحصارها سنة 1410 م و 1422 م".

المطلوب:

- ما اسم المنطقة التي يتحدث عنها النص ؟
- على يد من تم فتحها ، ومتى كان ذلك ؟
- بيئي الأهمية التاريخية لفتح تلك المنطقة ؟

[0.5 ن]

[01.5 ن]

[01.5 ن]

[02.5 ن]

الوضعية الثانية:

- تمثل الخريطة التاريخية الاحداث والوقائع التي قام بها الانسان في الماضي في مجال جغرافي محدد : اذكر (03) أدوار للخريطة التاريخية ؟
- . جاء في أهميتها : " وسيلة تبليغ وربط الماضي بالحاضر " أشرح ذلك ؟

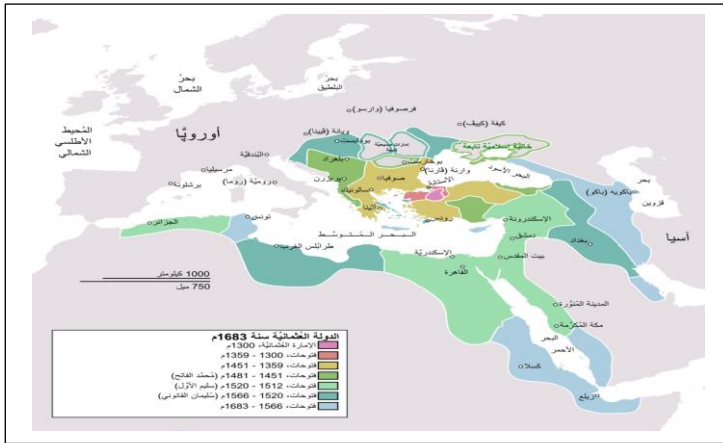
[01.25 ن]

[01.25 ن]

الوضعية الإدماجية : [04نقاط]

السياق: عرضت قناة الجزيرة الوثائقية شريطا تاريخيا حول الدولة العثمانية وتحدثت عن باعها الكبير في إحياء مجد الخلافة الإسلامية من جديد ، ونشر الإسلام في أصقاع العالم واستمر وجودها أكثر من (6) قرون .

السندات:



السند 02:



السند 01:

عسكريا	اداريا	سياسيا
1/ يتألف من 3 فرق، السباهية، الانكشاري الاسطول البحري.	1/ قسمت الدولة الى ولايات 2/ لكل ايالة حاكم ، يسمى باشا	1/ يلقب الحاكم: السلطان 2/ يساعده الباشوات، و شيخ الاسلام، و القاضي

السند 03:

التعليمية:

- اعتمادا على السندات 1 و 2 ومكتسباتك القبلية اكتب فقره من 12 اسطر تبين فيها التطور الحضاري للدولة .

ملاحظة: ارفاق الخطة المتبعة للوضعية ضرورية

- الجغرافيا: [07 نقاط]
- الوضعية الأولى: [03 نقاط]

✓ تعتبر أوقيانوسيا قارة حديثة الاكتشاف

المطلوب:

[01.5 نقطة]

(1) - إربطي بين عناصر "أ" و"ب":

"ب"	"أ"
- أرض الجزر الصغيرة	ميلانيزيا
- أرض الجزر السوداء تشبها بالسكان السود للمنطقة	ميكرونيزيا
- أرض الجزر الكثيرة	بولينيزيا

[01.5 نقطة]

(2) - وقي على الخريطة المرفقة ما يلي :

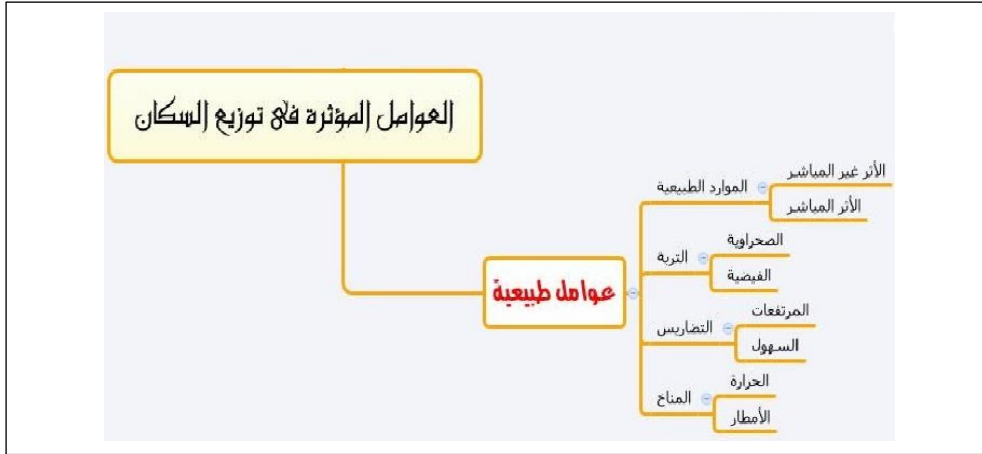
- جزيرة نيوزيلندا / جزيرة غينيا الجديدة / المراعي في استراليا ،

الوضعية الإدماجية: [04 نقاط]

السياق:

- تتوسط قارة افريقيا قارات العالم الثلاث و تبلغ مساحتها 30 م كم2 إذ يقدر عدد سكانها ب: 1.1 مليار ن و كثافة سكانية تقدر ب36.6 ن/كم2.

السندات:

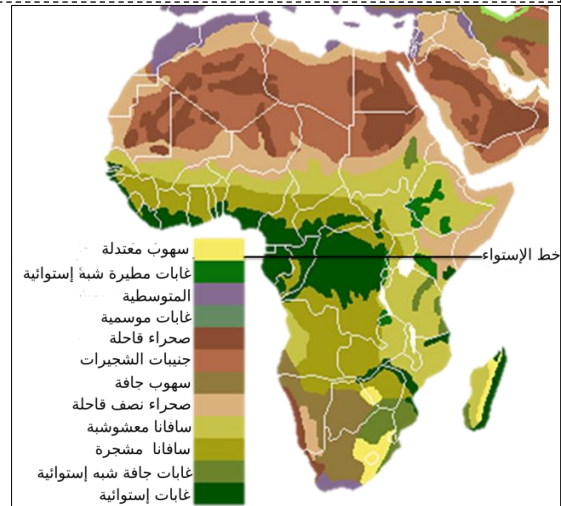


السند 01:

السند 03:



السند 02:



التعليمة:

- بناءً على السندات "3.2.1" ومكتسباتك القبلية أكتبي فقرة من 12 أسطر تتحدثين فيها عن توزيع السكان في القارة .

ملاحظة: ارفاق الخطة المتبعة للموضعية ضرورية

