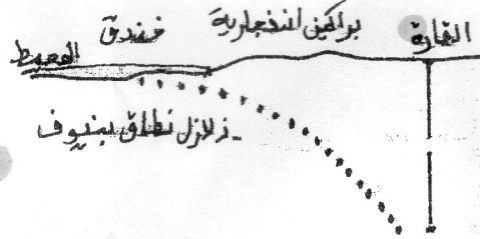
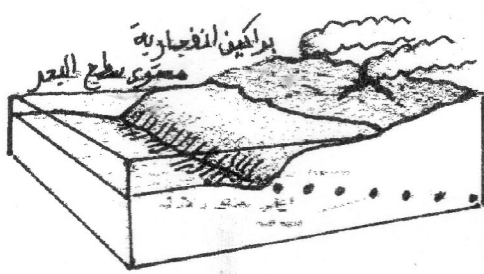


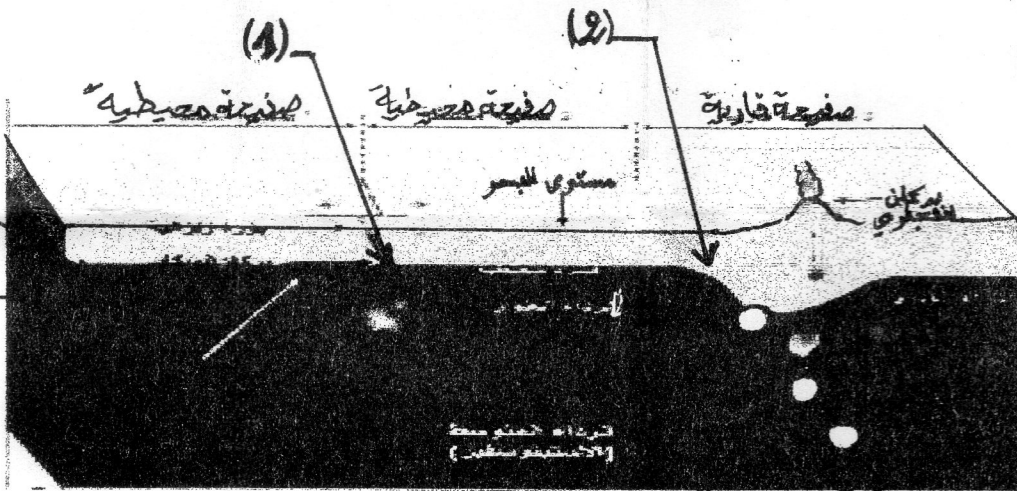
الفرض المحروس الأول في علوم الطبيعة و الحياة

الوضعية الاماجبية:

لم يستوعب زميلك فكرة أن القشرة المحيطية في تجدد مستمر وتوسع دائم على مستوى الظهرات مع العلم أن ابعاد الكرة الأرضية ثابتة ولفهم ذلك لجأ الى البحث على شبكة الأنترنت فتحصل على الوثائق التالية:
: السندات



الوثيقة الأولى



الوثيقة الثانية

التعليمات:

1- ماهي الظواهر الجيولوجية التي تبيينها هذه السندات على مستوى المنطقة (1) و (2)؟

2- حدد عمل كل بنية جيولوجية منها؟

3- افسر وجود بؤر زلزالية على أعماق مختلفة في المنطقة (2)؟

4- اشرح كيف تحافظ الأرض على ثبات مساحتها رغم عمل البنية (1)؟

بالتوفيق.