

## الفيزيائية

## التمرين 02 :

صحح الأخطاء إن وجدت في العبارات التالية :

1- عبارة الطاقة الحركية لجسم يتحرك حركة إنسحابية كتلته  $M$  وسرعة  $V$  :  $E = \frac{1}{2}MV$ 2- تتناسب الطاقة الكامنة الثقالية للجسم تناسب طردي :  $(M) Mh^2$  (  $h$  )

3- الأجسام التي تسقط سقوطا حرا تزداد طاقتها الحركية وطاقاتها الكامنة الثقالية بالنسبة للأرض

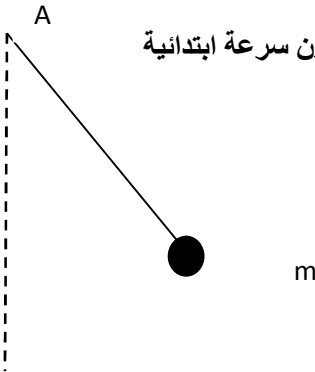
4- عبارة الطاقة الكامنة المرورية تك :  $(K) \frac{1}{2}KX$  (  $X$  )

## التمرين الثاني: 04

نواس بسيط يتكون من كرية نقطية كتلتها  $m$  وخط طوله  $L$  مهمل الكتلة و عديم الإمتطاط مثبت في نقطة  $A$  نزيح النواس عن وضع توازنه بحيث يبقى الخيط مشدودا بزواوية  $60^\circ$ . نتركه حرا لحاله دون سرعة ابتدائية

1- جد عبارة الطاقة الكامنة الثقالية للكرية بدلالة الزاوية

2- بين أن عبارة سرعة الكرية لحظة المرور بوضع التوازن من الشكل :



$$V = \sqrt{gL}$$

## التمرين 04 :

ق في النهاية الحرة لنابض مرن حلقاته غير متلاصقة طوله الأصلي  $L_0$  (  $S$  ) كتلته  $M$  فيستطيل بفاصلة  $X$  :

نعيد التجربة بتغيير قيمة كتلة الجسم ونقيس في كل مرة

M( g)	100	200	300	350	400
X(cm)	2	4	6	.....	8

1-  $S$ 2- أرسم المنحنى البياني الذي يمثل تغيرات  $T$  ( )  $X$ 3- على المنحنى المتحصل عليه أستنتج ثابت مرونة النايبض حسب الطاقة المرورية المخزنة في النايبض عند تعليق  $g=10N/kg$   $m=350g$

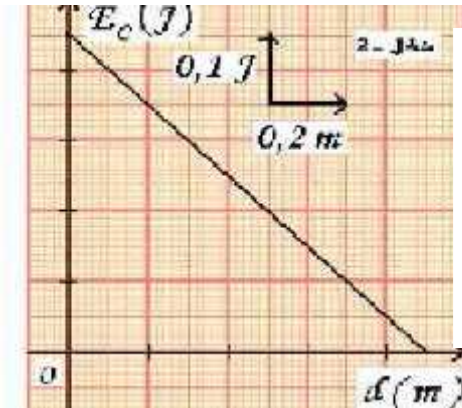
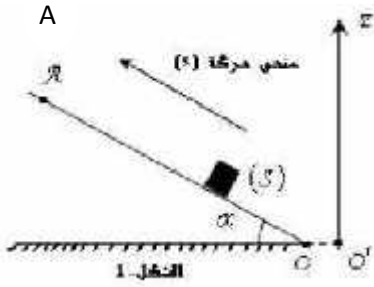
مستوي مائل بالزاوية  $30^\circ =$

O فيتحرك بدون

نرسل جسما صلبا أبعاده مهملة بسرعة ابتدائية  $V_0$

-1-

ففي تنعدم سرعته لحظة ه الى النقطة A



d كما هو مبين في الشكل -2-

$E_c$  تتغير طاقته الحركية (S)

1- من البيان أستنتج ما يلي: .

(A )

- الطاقة الحركية للجسم O

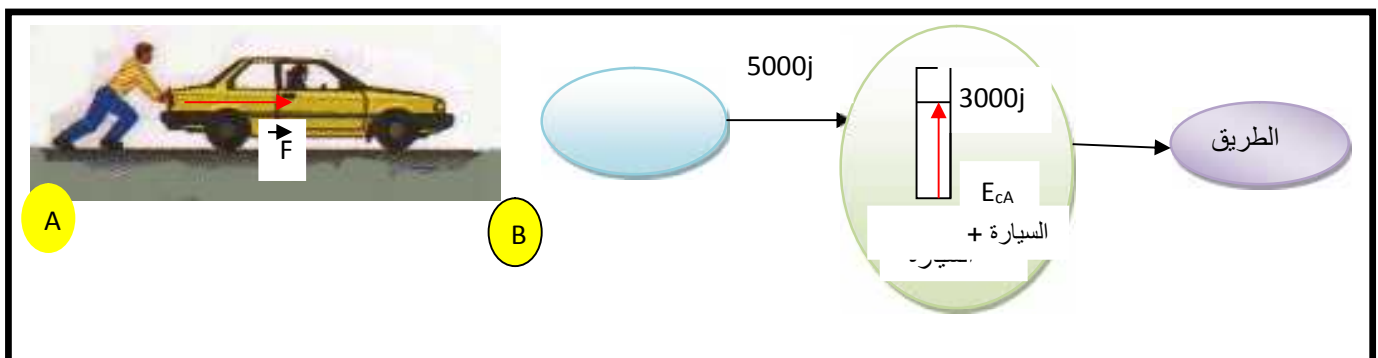
2- أحسب عمل ثقل الجسم عند قطعه المسافة  $d=0.6\text{m}$

3- أوجد قيمة الكتلة m ثم أستنتج سرعته الابتدائية

وضعية إدماجية

التمرين الخامس: 06

أيوب ومريم تلميذان في ثانوية الإخوة شطارة السنة الثانية علوم تجريبية قاما بكل مجموعة من التمارين تحضيريا على الوثيقة التالية :



أيوب : السيارة تسير على طريق مائل عن الأفق بزاوية  $30^\circ$

فجرى الحوار الآتي بينهما:

أيوب : حسب الحصيلة الطاقوية الطريق أملس (بدون احتكاك)

مريم : الحركة مستقيمة متغيرة

1- ما رأيك في الحوار مع التبرير

2-  $AB=100\text{m}$  وكتلة السيارة

-2

$M=800\text{kg}$