

1- ملف العرض:

يمثل هذا المركز جزء من نظام آلي لطبع علب منتج غذائي .

2- دفتر المعطيات:

المركز يسمح بطبع علامة المنتج على علبه المنتج .

* المادة الأولية : علب المنتج ، ملصقات علامة المنتج .

* وصف التشغيل :

- لا يعطى أمر التشغيل (dcy) إلا بتوفر الشروط الأولية (الارتفاعات في وضعية الراحة)

يتم تزويد المركز بالعلب عبر قناة عمودية يدويا .

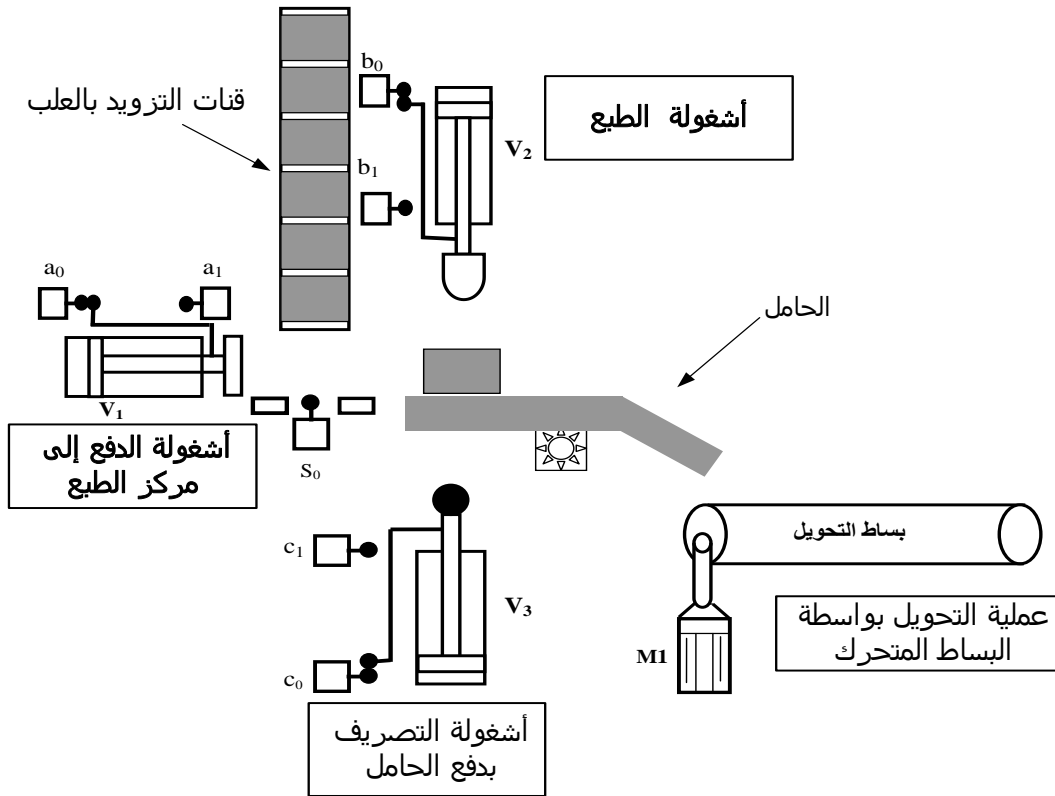
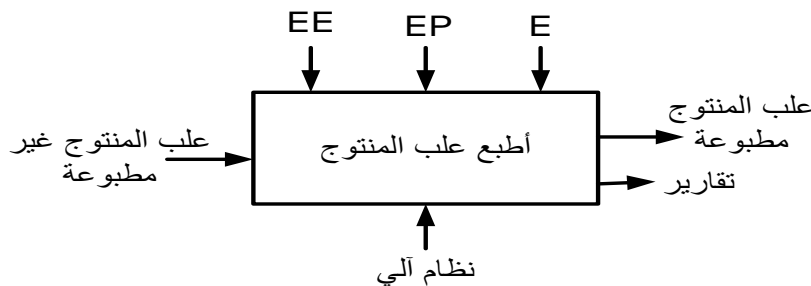
- حضور القطعة في مركز الدفع يكشف عنه الملتقط (S_0) .

* تتم اشغولة الدفع إلى مركز الطبع بواسطة الرافعة V_1 (تحكم كهرو هوائي بموزع 2/5).

* تتم بعد ذلك اشغولة الطبع بواسطة الرافعة V_2 (تحكم كهرو هوائي بموزع 2/5).

* تتم اشغولة التصريف بدفع الحامل بواسطة الرافعة V_3 (تحكم كهرو هوائي بموزع 2/4).

* تتم اشغولة التحويل بواسطة البساط المتحرك محرك M_1 متحكم فيه بواسطة ملامس كهرومغناطيسي KM_1 .

**3-الوظيفة الشاملة A-0 :**

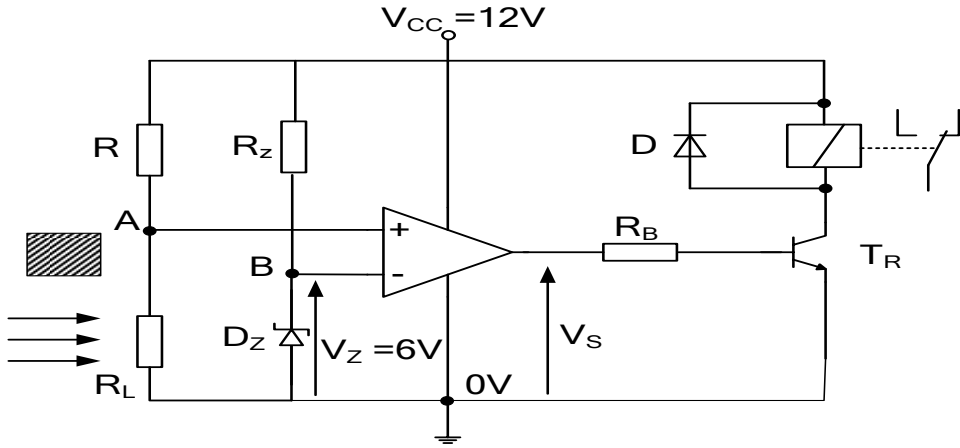
EE : طاقة كهربائية
EP : طاقة هوائية
E : تعليمات الاستغلال

4- العمل المطلوب:

I- وظيفة النظام الآلي :

- س1: أكمل النشاط البياني التنازلي A0 (على ورقة الإجابة 2/2) .
س2: أكمل جدول تصنيف مختلف المنفذات و الملتقطات والمنفذات المتصدرة المستعملة في كل أشغولة (على وثيقة الإجابة 2/1)

1) طبق الخلية الكهروضوئية :



- $V_{CC} = 12V$
 $R = 10K\Omega$
في الضوء:
 $R_L = 6K\Omega$
في الظلام:
 $R_L = 40K\Omega$

الشكل 2

- س3: ما هو دور ثنائي زينير D في التركيب ؟
س4: أحسب قيمة التوتر بين طرفي المقاومة R_z .

II- وظيفة التغذية :

- لتغذية المضخمات العملية نحتاج إلى تغذية مثبتة $12V/300mA$, التركيب المبدئي المقترح (شكل 4)
س5: أعط تسمية مختلف الطوابق على (الشكل 4) على وثيقة الإجابة 2/2 .
س6: أرسم مختلف الإشارات على وثيقة الإجابة 2/2 .
س7: الطابق الأخير كتب عليه 7812 , فسر هذه الكتابة.
س8: المحول المعتمد في تغذية وشيعة الملامس KM1 يحمل على هيكله الخارجي البيانات التالية :
 $50HZ, 10kVA, 24 / 220v$

- (أ) ماذا تعني تلك البيانات ؟
(ب) أحسب نسبة التحويل ؟
(ت) أحسب شدة التيار الإسمية في الثانوي؟

III- وظيفة الإستطاعة :

- اللوحة الإشهارية للمحرك M1 تحمل الخصائص التالية :
 $I=2.63A, 220/380v, 50Hz, 1440tr/mn, 0.75KW, \cos\phi=0.9$
س9: فسر هذه المعلومات.

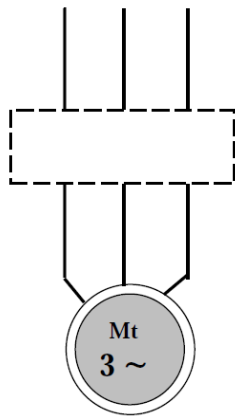
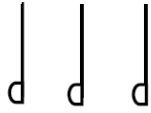
- علما أن توتر شبكة التغذية هو: $220 / 380v$
س10: ما نوع الإقران المستعمل في المحرك؟ مع التعليل.

- س11: أرسم نوع الإقران على لوحة مرابط للمحرك M1 على وثيقة الإجابة 2/2.

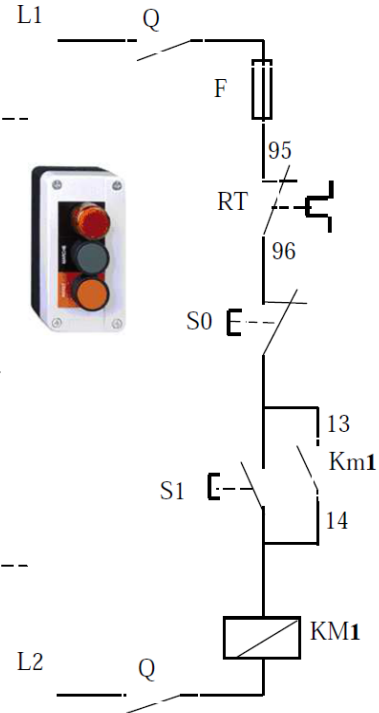
- س12: لتكن دائرة التحكم و الإستطاعة للمحرك M1 , أكمل ربط دائرة الإستطاعة مع ذكر اسم كل عنصر.

دائرة الإستطاعة:

L1 L2 L3



دائرة التحكم:



1V- وظيفة الحماية :

الأجهزة الكهربائية: لديك وثيقة الصانع التالية :

مجال ضبط
المرحل الحرارينوع المنصهر
المستعمل

مرجع الملامس

المرحل الحراري
المستعمل

Zone de réglage du relais thermique	Fusible associer			CONTACTEUR LC1 LP1	Reference	Masse
	aM	gG	AD			
A	A	A	A			
1 - 1.6	2	4	6	D09 - D32	LR2 D13 06	0.165
2.5 - 4	6	10	15	D09 - D32	LR2 D13 08	0.165
5.5 - 6	12	20	20	D09 - D32	LR2 D13 15	0.165

- عين كل من:

1-6 نوع المنصهر المستعمل مع هذا المحرك ومعيار تياره.

2-6 مجال ضبط المرحل الحراري.

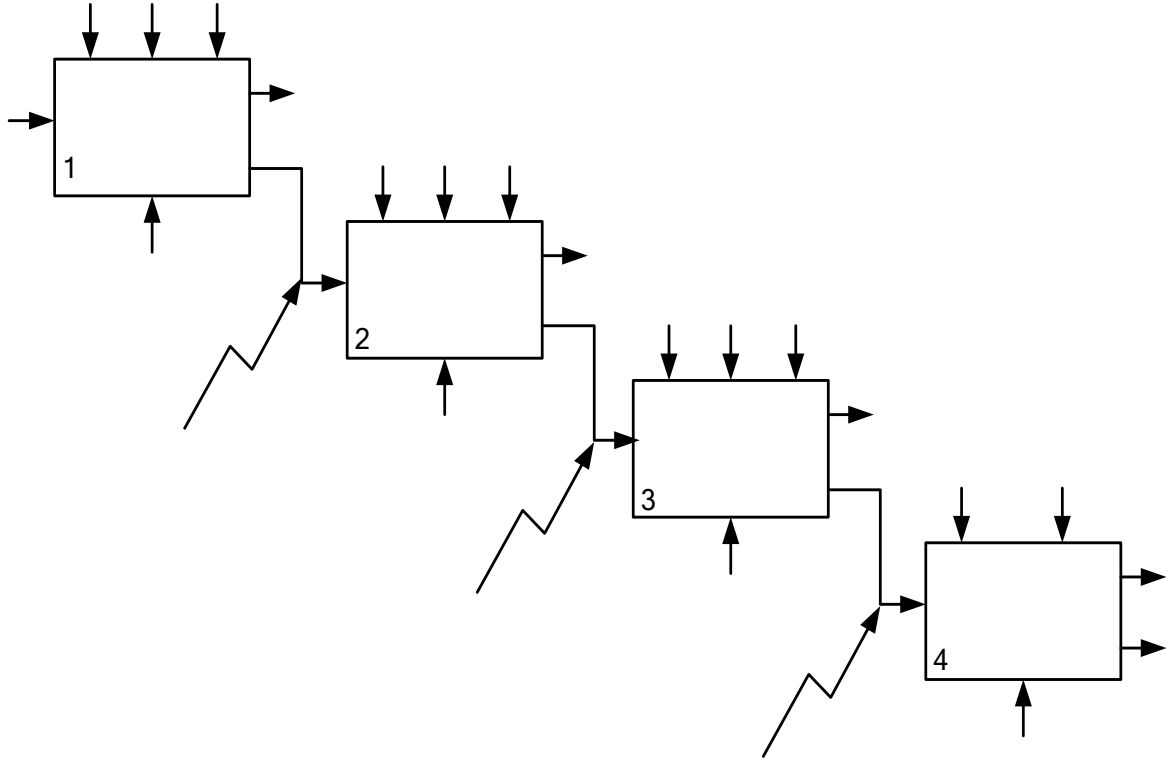
3-6 المرحل الحراري الذي يمكنك استعماله مع محرك المضخة.

4-6 مرجع الملامس.

وثيقة الإجابة 2/1

الاسم..... اللقب.....

التحليل الوظيفي لنظام الألي :
ج1: مخطط النشاط A0:

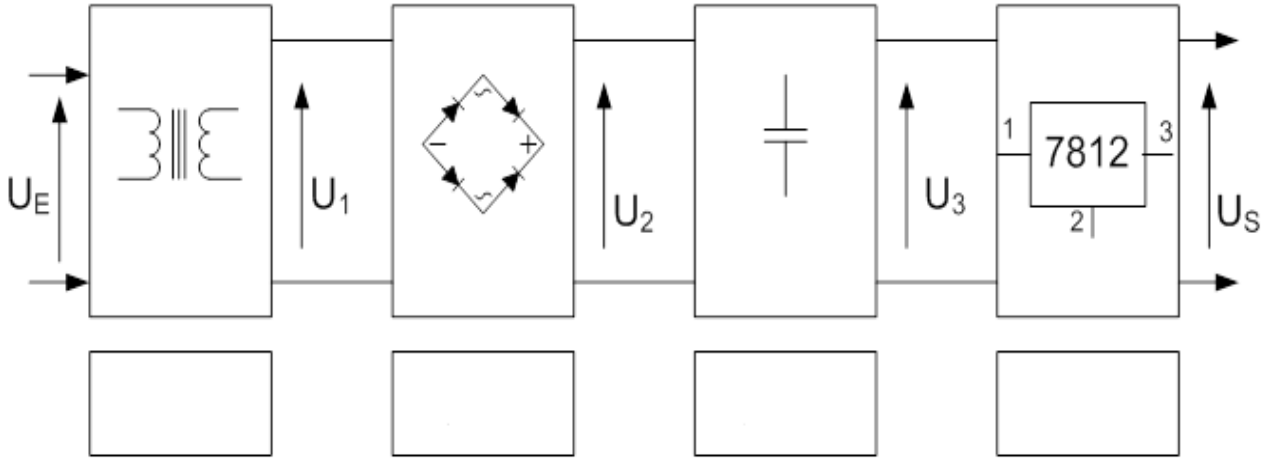


ج2: جدول تصنيف مختلف المنفذات و الملتقطات والمنفذات المتصدرة المستعملة في كل أشغولة :

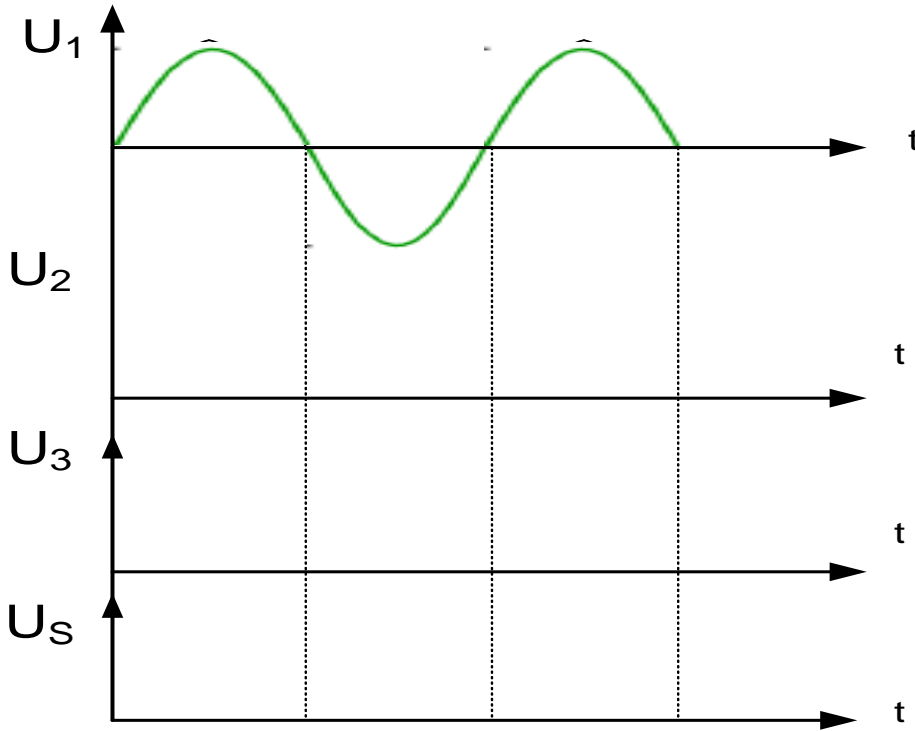
أشغولة	المنفذات	المنفذات المتصدرة	الملتقطات
الدفع إلى مركز الطبع			
الطبع			
التصريف بدفع الحامل			
التحويل بواسطة البساط المتحرك			

وثيقة الإجابة 2/2

ج5: التركيب المبدئي للتغذية : (الشكل 4)



ج6:



ج11:

