

.....  
اللقب:

.....  
الاسم:

.....  
القسم:

**التمرين 1: ( 5 )**

1- ما هي مراحل طباعة وثيقة؟

.....  
2- أذكر خطوات تحديد الهوامش في وثيقة.

.....  
3- ماذا يقصد بتنسيق الخط وكيف يتم ذلك (بعد الكتابة)؟

.....  
4- كيف يتم دمج الخلايا في جدول؟

**التمرين الثاني: ( 5 )**

لاحظ بتمعن الجدولين التاليين

**B**

		01
		02
		03

**A**

	.....	
		01
		02

كيف تم إدراج الجدول A

B، مع ذكر التعليمات المطبقة

بين ما هي العمليات التي قمنا بها للانتقال من الجدول A

(التفصيل)

العملية 1:

العملية 2:

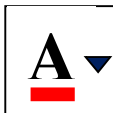







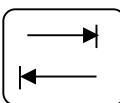
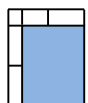

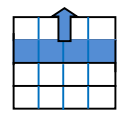

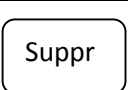


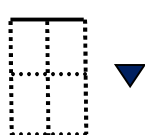
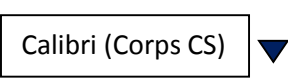


العملية 3:

العملية 4:

العملية 5:

**التمرين الـ ( 10 ) :**

ما هو دور كل من التعليمات أو المفاتيح التالية في برنامج WORD

بالتوفيق

يجب الكتابة بالقلم الجاف مع عدم التشطيب

اللقب:

الاسم:

القسم:

**التمرين 1: (5)**

1- ما هي مراحل

2- كيف يمكن إضافة

3- كيف يمكن تظليل سطر في جدول

4- كيف يتم تقسيم الخلايا في جدول؟

**التمرين الثاني: (5)**

بتمعن النصين التاليين.

**A**

صطلحات شائعة و تعاريف :

الإنترنت أو ما يسمى (NET) (هي عبارة عن شبكة حاسوبية تتكون من شبكات أصغر، بحيث يمكن لأي شخص متصل بالإنترنت أن يتجول في هذه الشبكة وأن يحصل على جميع المعلومات في هذه الشبكة (إذا سُمح له بذلك).

**B**

**صطلحات شائعة و تعاريف :**

الإنترنت أو ما يسمى (NET) (هي عبارة عن شبكة حاسوبية عملاقة تتكون من شبكات أصغر، بحيث يمكن لأي أن يتجول في هذه الشبكة وأن يحصل على جميع المعلومات في هذه الشبكة (إذا سُمح له بذلك).

**A B (بالتفصيل)**

**- ما هي التعديلات**

:

:

التمرين الـ ( 10 ) :

ما هو دور كل من التعليمات أو المفاتيح التالية في برنامج WORD

بالتوفيق

يجب الكتابة بالقلم الجاف مع عدم التشطيب