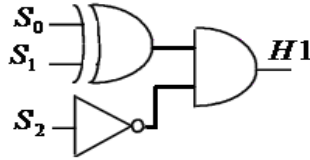


## I. المنطق التوافقي:

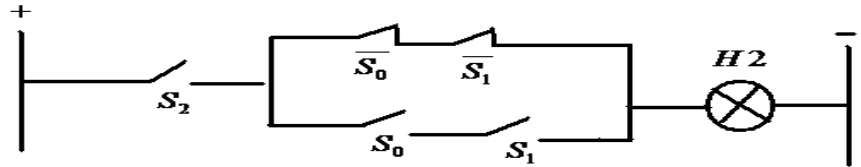
S <sub>0</sub>	S <sub>1</sub>	S <sub>2</sub>	H <sub>1</sub>	H <sub>2</sub>	H
0	0	0	0	0	0
0	0	1	0	1	1
0	1	0	1	0	1
0	1	1	0	0	0
1	0	0	1	0	1
1	0	1	0	0	0
1	1	0	0	0	0
1	1	1	0	1	1

(1) إيجاد معادلة H<sub>1</sub> من جدول الحقيقة:

$$H_1 = \overline{S_0}S_1\overline{S_2} + S_0\overline{S_1}S_2 = \overline{S_2}(S_0S_1 + S_0\overline{S_1}) = \overline{S_2}(S_0 \oplus S_1)$$

(2) رسم لوجغرام المعادلة H<sub>1</sub>:(3) إيجاد معادلة H<sub>2</sub> من جدول كارنو:

$$H_2 = \overline{S_0}S_1S_2 + S_0\overline{S_1}S_2 = S_2(\overline{S_0}S_1 + S_0\overline{S_1}) = S_2(S_0 \oplus S_1)$$

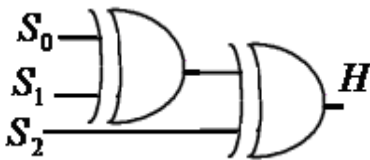
(4) تمثيل المعادلة H<sub>2</sub> باستعمال التماسات:(5) أكمل جدول الحقيقة للعمود الخاص بـ H<sub>2</sub> (انظر جدول الحقيقة):(6) إيجاد معادلة H بدلالة S<sub>0</sub>, S<sub>1</sub>, S<sub>2</sub>:  $H = S_1 + H_2 = \overline{S_2}(S_0 \oplus S_1) + S_2(S_0 \oplus S_1)$ 

(7) تبسيط المعادلة H

$$H = H_1 + H_2 = \overline{S_2}(S_0 \oplus S_1) + S_2(S_0 \oplus S_1) = S_0 \oplus S_1 \oplus S_2$$

(8) رسم لوجغرام المعادلة المبسطة لـ H باستعمال (أو استبعادي):

(9) أكمل جدول الحقيقة للعمود الخاص بـ H (انظر جدول الحقيقة):



## II. تحليل الدارات:

(10)

• حساب التوتر بين طرفي المقاومة R<sub>AB</sub> باستعمال قاسم التوتر:

$$V_{AB} = \frac{R_{AB} E}{R_1 + R_2 + R_{AB}} = \frac{18 * 60}{100 + 100 + 60} = 4.15 \text{ v}$$

• استنتاج شدة التيار I :

$$I = \frac{V_{AB}}{R_{AB}} = \frac{4.15}{60} = 0.07 \text{ mA}$$

(11)

• حساب شدة التيار I<sub>1</sub> :

$$V_{AB} = R_3 I_1 = 4.15 \text{ v} \Rightarrow I_1 = \frac{V_{AB}}{R_3} = \frac{4.15}{100} = 0.04 \text{ mA}$$

• حساب شدة التيار I<sub>2</sub> :

$$I = I_1 + I_2 \Rightarrow I_2 = I - I_1 = 0.07 - 0.04 = 0.03 \text{ mA}$$

• حساب المقاومة R :

$$V_{AB} = (R_5 + R) I_2 \Rightarrow (R_5 + R) = \frac{V_{AB}}{I_2} = \frac{4.15}{0.03} = 138.33 \text{ k} \Rightarrow R = 138.33 - 100 \text{ k} = 38.33 \text{ k}$$