

العلامة		عناصر الإجابة	محاور الموضوع
المجموع	مجزأة		
الموضوع الأول			
التاريخ			
		الجزء الأول: (6 نقاط)	العرض
		1- شرح ما تحته خط:	
	0.50	* الكتلة الإمبريالية : مجموعة الدول الرأسمالية الغربية التي تدور في فلك الولايات المتحدة الأمريكية	
06	0.50	* الكتلة الديمقراطية :مجموعة الدول الاشتراكية التي تدور في فلك الاتحاد السوفيتي	
	0.50	* أنظمة رجعية : هي أنظمة سياسية عميلة نصبتها الو.م.أ في كل من تركيا واليونان. أو هي أنظمة عميلة نصبها الاستعمار في دول الجنوب تعمل على خدمة مصالحه.	
	0.50	* حركات التحرير الوطني : رد فعل شعبي وطني مؤطر من مجموعة التنظيمات السياسية ، هدفه التخلص من الاستعمار بمختلف أشكاله.	
		2- <u>التعريف بالشخصيات :</u>	
	0.50	* جمال عبد الناصر : من قادة الضباط الأحرار لثورة 23جويلية 1952 ورئيس جمهورية مصر العربية من 1954 إلى 1970، مؤمم قناة السويس وأحد أقطاب حركة عدم الانحياز	
	0.50	* أحمد سوكارنو : زعيم سياسي اندونيسي ، قاد كفاح الشعب الاندونيسي نحو الاستقلال ، ومن أشهر زعماء حركة عدم الانحياز	
	0.50	* أندري جدانوف : عضو اللجنة المركزية للحزب الشيوعي السوفيتي، صاحب نظرية انقسام العالم إلى كتلتين ، كلفه ستالين بالرد على نظيره الأمريكي ترومان وبعث منظمة الكومنفرم 1947.	
	0.50	* هاري ترومان : رئيس الولايات المتحدة الأمريكية من 1945 إلى 1953. أمر باستخدام القنبلة الذرية ضد اليابان أوت 1945. تميزت فترة حكمه بالتوتر بين الشرق والغرب ومساندة الكيان الصهيوني.	
	4×0.25	3- <u>التوقيع على الخريطة :</u>	

75

الإجابة النموذجية و سلم التنقيط

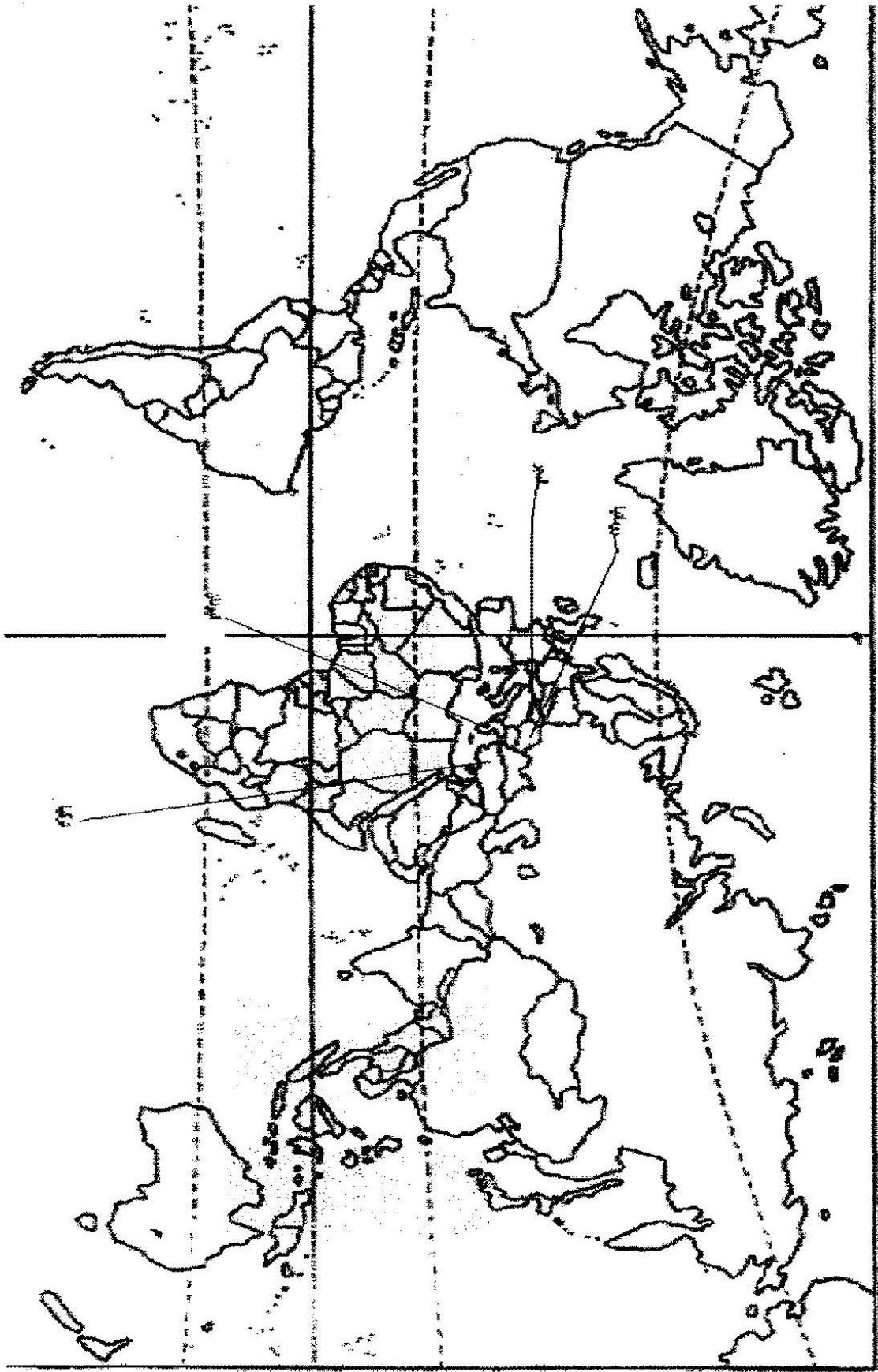
المدة : 04 ساعات ونصف
دورة: جوان 2010

امتحان شهادة البكالوريا
الشعبة : آداب وفلسفة

الإجابة النموذجية
اختبار في مادة: التاريخ والجغرافيا

العلامة		عناصر الإجابة	محاور الموضوع
مجموع	مجزأة		
		4- تكملة الجدول	
	0.25	- 1947/09/22 : بعث مبدأ جدانوف (الكومنفورم)	
	0.25	- 13 أوت 1961 : الانتهاء من إقامة جدار برلين	
	0.25	- 5 إلى 9/09/1973: المؤتمر الرابع لحركة عدم الانحياز المنعقد بالجزائر	
	0.25	- 11 مارس 1985 : وصول غورباتشوف إلى الحكم	
		الجزء الثاني: (4 نقاط)	
	0.5	مجازر 8 ماي 1945 وانعكاساتها على تطور نشاط الحركة الوطنية من النضال السياسي إلى الكفاح المسلح.	المقدمة
		1- انعكاسات الأحداث الدامية على مسار الحركة الوطنية:	العرض
04.00	0.50	* تأكد الحركة الوطنية من عمق النضال السياسي.	
	0.50	* إعادة بناء الحركة الوطنية مارس 1946.	
	0.50	* إنشاء المنظمة الخاصة 15/02/1947.	
		2- موقف الاستعمار الفرنسي من التطور الحاصل في الحركة الوطنية:	
	0.50	- صدور أمرية 7 مارس 1946 (السماح بعودة النشاط السياسي، وإطلاق سراح المعتقلين السياسيين).	
	0.50	- دستور 20/09/1947.	
	0.25	- تنظيم انتخابات 1948 وتزويرها.	
	0.25	- سياسة القمع والاضطهاد (ملاحقة أعضاء المنظمة الخاصة بعد اكتشافها). سنة 1953.	
	0.50	بقدر ما كانت مجازر 8 ماي 1945 نعمة على الشعب الجزائري ، كانت نقطة التحول نحو الكفاح المسلح.	الخاتمة

76



دنيا

صفحة 3 من 13

77

الإجابة النموذجية و سلم التنقيط

المدة : 04 ساعات ونصف
دورة: جوان 2010

امتحان شهادة البكالوريا
الشعبة : آداب وفلسفة

الإجابة النموذجية
اختبار في مادة: التاريخ والجغرافيا

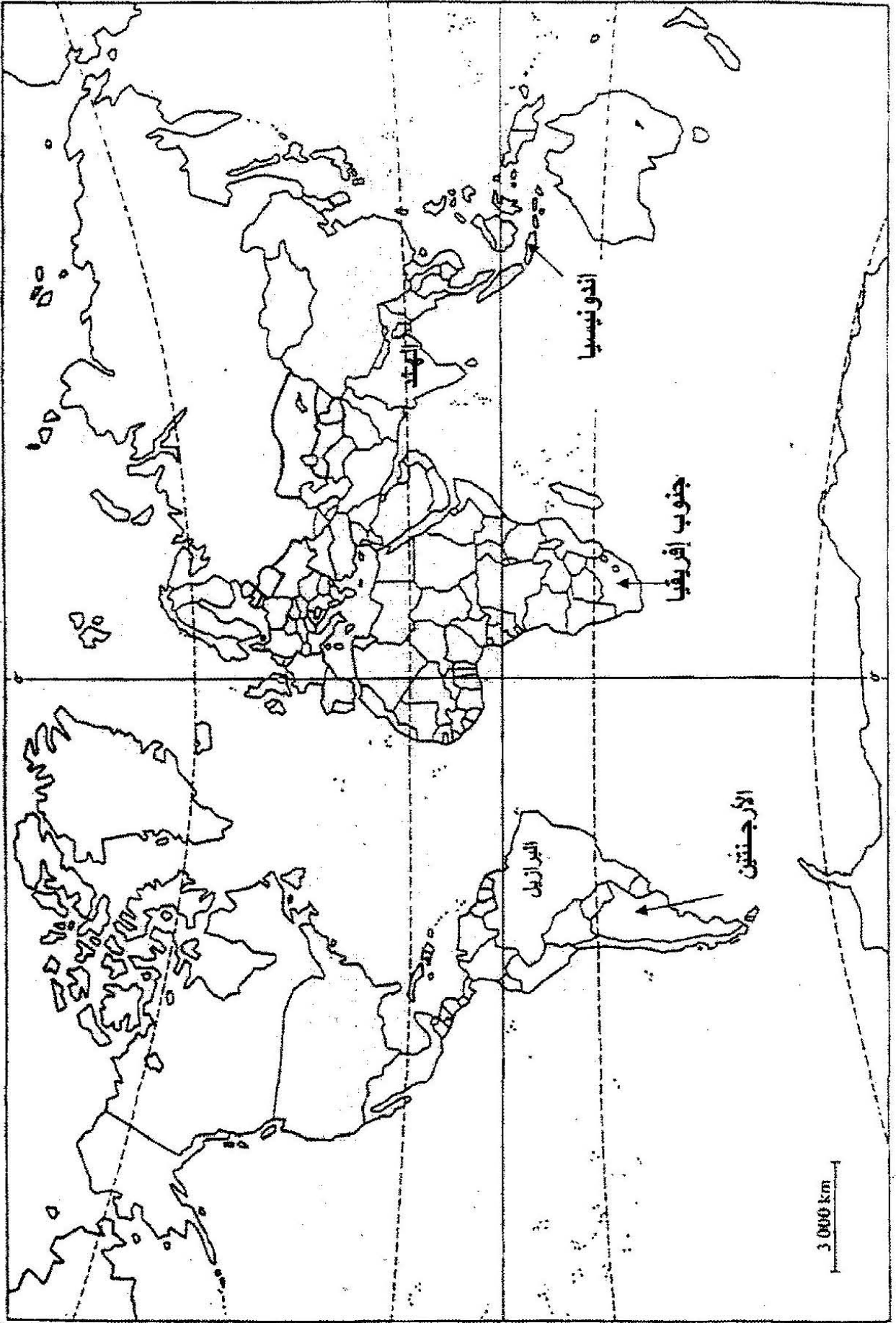
العلامة		عناصر الإجابة	محاور الموضوع
المجموع	مجزأة		

الجغرافيا			
		الجزء الأول: (06 نقاط)	
		1- <u>شرح ما تحته خط في النص:</u>	
0.75		* رؤوس الأموال: الإمكانيات المالية المتوفرة في شكل مدخرات ذاتية وقروض	
0.75		بالإضافة إلى الوسائل المادية كالعقارات والمواد الأولية.	
0.75		* التنمية : مفهوم عام يدل على ما يطرأ من تطور في بلد معين في مختلف الميادين.	
0.75		* العولمة : حركة إدماج مختلف أجزاء العالم بتأثير تسارع المبادلات وازدهار التقنيات الحديثة للاتصال والنقل ، وتوجه عالمي نحو إزالة الحواجز الجمركية والإدارية.	
0.75		* الاستثمارات : عملية توظيف رؤوس الأموال في المشاريع الاقتصادية لتحقيق الربح.	
06	5×0.25	2- <u>التوقيع على الخريطة</u> 5 دول جديدة صاعدة (دون للتقيد بما ورد في الخريطة)	
		3- <u>الرسم البياني:</u>	
	01.25	* الانجاز.	
	0.25	* المقياس.	
	0.25	* العنوان.	

العلامة		عناصر الإجابة	محاور الموضوع
المجموع	مجزأة		
	0.50	الجزء الثاني: (04 نقاط) تشكل بلدان آسيا الشرقية والجنوبية الشرقية فضاء اقتصاديا كبيرا، لما حققته من تطور .	المقدمة

04	0.25	1- استثمار العنصر البشري في تطوير النمو الاقتصادي:	العرض
	0.25	* وفرة اليد العاملة المؤهلة والرخيصة (الصين ...)	
	0.25	* القوة الاستهلاكية الضخمة.	
	0.25	* طبيعة الفرد (الكفاءة ، التفاني في العمل ، المردودية)	
		* التنوع الثقافي في مجتمعات آسيا الشرقية والجنوبية الشرقية	
		2- مكانة المنطقة في الاقتصاد العالمي .	
	0.25	* إنتاج أكثر من ربع الثروة العالمية.	
	0.25	* ارتفاع مساهمتها في التجارة العالمية.	
	0.50	* سيطرتها على المراتب الأولى في العديد من المنتجات الزراعية (الأرز ، الشاي، القمح)، والمنتجات الصناعية (سيارات وصناعات إلكترونية متنوعة) .	
	0.25	* استقطاب نسبة كبيرة من الاستثمارات الأجنبية.	
0.25	* القطب الاقتصادي الثالث في العالم.		
0.50	* الوقوف في وجه المنافسة الأجنبية .. الأمريكية والأوروبية.		
0.50	قوة شرق و جنوب شرق آسيا مرتبطة أساسا بحسن استثمار العنصر البشري	الخاتمة	

خريطة العالم : 5 دول جديدة صاعدة



80

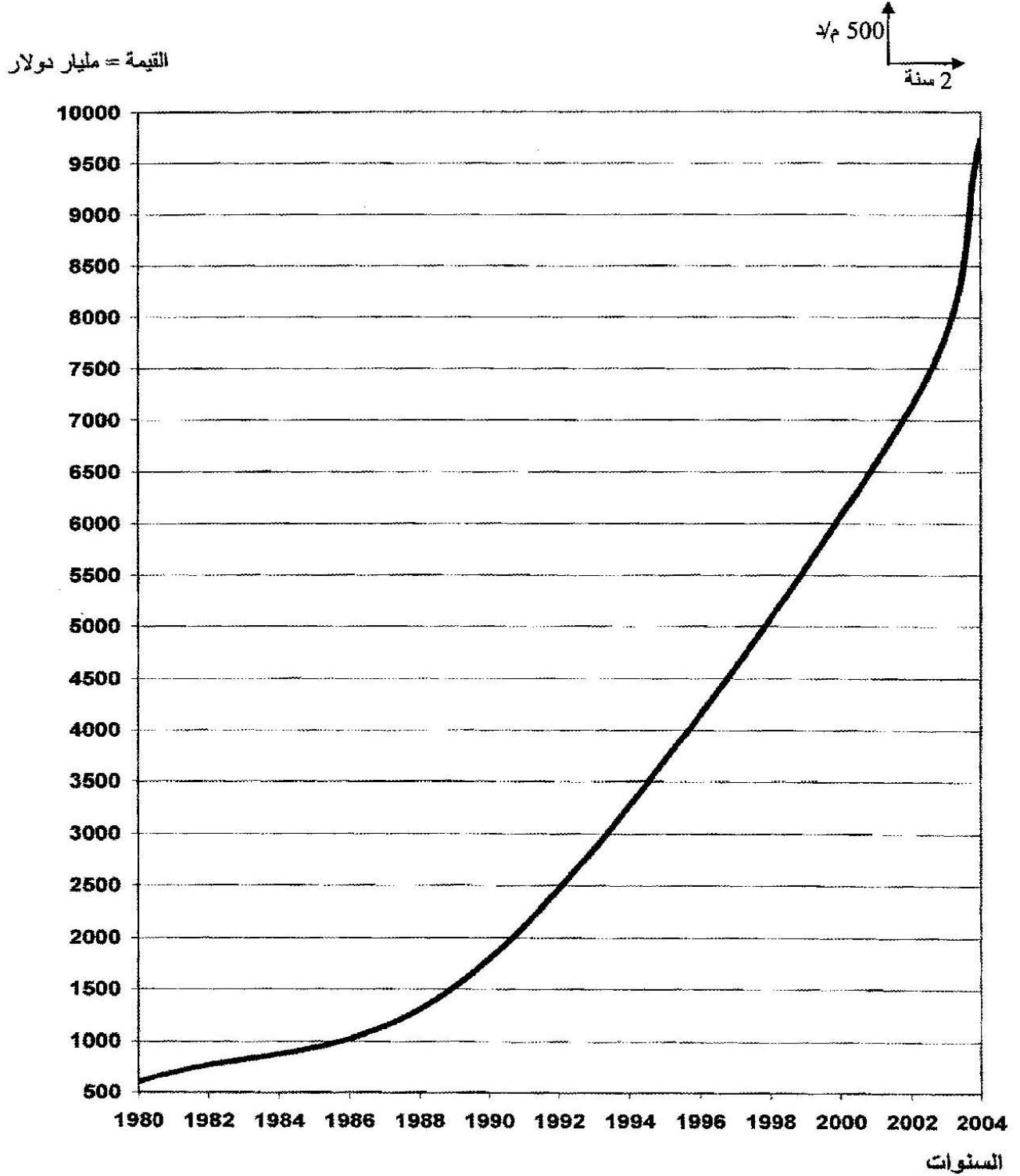
الإجابة النموذجية و سلم التقطيط

المدة : 04 ساعات ونصف
دورة: جوان 2010

امتحان شهادة البكالوريا
الشعبة : آداب وفلسفة

الإجابة النموذجية
اختبار في مادة: التاريخ والجغرافيا

العلامة		عناصر الإجابة	محاور الموضوع
المجموع	مجزأة		



منحنى بياني يمثل تطور رصيد الاستثمار الأجنبي المباشر في العالم

81

صفحة 7 من 13

العلامة		عناصر الإجابة	محاور الموضوع
المجموع	مجزأة		
الموضوع الثاني			
التاريخ			
للجزء الأول: (06 نقاط)			
		1* <u>شرح ما تحته خط في النص:</u>	
	4x0.50	-الاستقلال: طرد المستعمر وتحرير البلاد من كافة أشكال الهيمنة والتسلط والاستغلال.	
		-الكفاح المسلح: حرب تحريرية يستعمل فيها السلاح كوسيلة لتحقيق الاستقلال.	
		-جبهة التحرير الوطني : تنظيم سياسي ظهر 1954 مواكب لاندلاع الثورة،مفتوح لكل القوى التي تؤمن بالاستقلال كهدف والسلاح كوسيلة لتحقيق ذلك	
		-الاندماج:سياسة اعتمدها فرنسا من أجل كسب فئة النخبة بمنحها الجنسية الفرنسية	
		2* <u>تعريف الشخصيات</u>	
	0.50	- فرحات عباس : زعيم الاتجاه الإدماجي ،صاحب بيان فيفري 1943 التحق بالثورة سنة 1956 ،أول رئيس للحكومة الجزائرية المؤقتة 1958،رئيس الجمعية التأسيسية 1962	
	0.50	- بن يوسف بن خدة: مناضل في صفوف حركة الانتصار،عضو في المجلس الوطني للثورة وفي لجنة التنسيق والتنفيذ،وزيرا للشؤون الاجتماعية في الحكومة المؤقتة الأولى ثم رئيسا لها 1961	
06	0.50	- مصطفى بن بولعيد: مناضل في صفوف حزب الشعب ،من مؤسسي اللجنة الثورية للوحدة والعمل ،أشرف على التنظيم الأولي للثورة ،أعتقل سنة 1955 ،فر من السجن وواصل جهاده إلى أن أستشهد في 22/03/1956	
	0.50	- العربي بن مهيدي: احد البارزين في لجنة الست ،من مفجري الثورة وقائد الولاية الخامسة من مهندسي مؤتمر الصومام 56، أستشهد تحت التعذيب.	

الإجابة النموذجية و سلم التنقيط

المدة : 04 ساعات ونصف
دورة: جوان 2010

امتحان شهادة البكالوريا
الشعبة : آداب وفلسفة

الإجابة النموذجية
اختبار في مادة: التاريخ والجغرافيا

العلامة	مجزأة	عناصر الإجابة	محاور
			الموضوع
			3*تكملة الجدول :
		التاريخ	الحدث
0.50		1956/08/20	مؤتمر الصومام
0.50		1958/09/19	تأسيس الحكومة المؤقتة للجمهورية الجزائرية
0.50		1958/10/23	سلم الشجعان
0.50		1962/03/19	عيد النصر
		الجزء الثاني: (04 نقاط)	
0.50		انقسام العالم إلى كتلتين متصارعتين حول مناطق النفوذ ، عجل بظهور حركة عدم الانحياز	المقدمة
		1- ظروف نشأة حركة عدم الانحياز:	
0.50		- اشتداد الصراع بين المعسكرين في إطار الحرب الباردة.	
0.50		- إقحام بلدان العالم الثالث في الصراع.	
0.25		- التقارب والتضامن الأفرو آسيوي (مؤتمر باندونغ 1955 بأندونيسيا).	العرض
0.50		- نشاط الحركات التحررية واستقلال العديد من الشعوب (سوريا ولبنان 1946 الهند وباكستان 1947).	
		2- دورها في قضايا التحرر :	
0.50		- مناصرة حركات التحرر ودعمها في المحافل الدولية.	
0.25		- التنديد بالتدخل الأمريكي في الهند الصينية والسياسة العدائية الأمريكية تجاه كوبا (الحصار الاقتصادي).	
0.50		- مساعدة الشعب الفلسطيني والتكديف بالتميز العنصري (جنوب أفريقيا).	
0.50		استطاعت حركة عدم الانحياز أن تلعب دورا رائدا في دفع عجلة التحرر وتخفيف حدة التوتر بين المعسكرين.	الخاتمة

83

الإجابة النموذجية و سلم التنقيط

المدة : 04 ساعات ونصف
دورة: جوان 2010

امتحان شهادة البكالوريا
الشعبية : آداب وفلسفة

الإجابة النموذجية
اختبار في مادة: التاريخ والجغرافيا

العلامة		عناصر الإجابة	محاو الموضوع
المجموع	مجزأة		
06		الجغرافيا	
		الجزء الأول: (06 نقاط)	
	0.50	1 شرح ما تحته خط في النص : - سوق مشتركة : فضاء مخصص للمبادلات التجارية والتعاملات الاقتصادية بين الدول الأعضاء .	
	0.75	- اتحاد أوروبي : كتل اقتصادي سياسي ثقافي اجتماعي، ظهر بموجب معاهدة روما 1957 ويبلغ تعداد دوله حاليا 27 دولة أوروبية.	
	0.75	- النمو الاقتصادي : تحقيق نسبة تطور معتبرة في كافة القطاعات الاقتصادية وتقاس بجملة من المؤشرات، وهو الهدف الأسمى لكل دول العالم	
	0.75	- الاندماج الاقتصادي : سياسة تبنتها مجموعة دول الإتحاد الأوروبي بغرض تحقيق تكامل شامل.	
	6x0.25	2 التوقيع على الخريطة : 3 * تمثيل نسب المساهمة :	
	01	- الانجاز	
	0.25	- المقياس	
	0.25	- العنوان	
0.25	- المفتاح		

84

الإجابة النموذجية و سلم التنقيط

المدة : 04 ساعات ونصف

امتحان شهادة البكالوريا

الإجابة النموذجية

دورة: جوان 2010

الشعبة : آداب وفلسفة

اختبار في مادة: التاريخ والجغرافيا

العلامة		عناصر الإجابة	محدور الموضوع
المجموع	مجزأة		
		الجزء الثاني: (04 نقاط)	
	0.50	العلاقة اللامتكافئة بين الشمال المتطور المهيمن والجنوب المتخلف التابع	المقدمة
		<u>1-أسباب التفاوت بين العالمين:</u>	
04	0.50	- الهيمنة الاستعمارية لفترات طويلة.	العرض
	0.50	- التحكم في التكنولوجيا وتشجيع البحث العلمي.	
	0.50	- التبعية الاقتصادية والهيمنة السياسية.	
	0.50	- الاستقرار السياسي وحسن استثمار الطاقات البشرية والإمكانات الطبيعية.	
		<u>2- المعايير الاقتصادية والاجتماعية المعتمدة في التصنيف:</u>	
	0.25	- الناتج الوطني الخام .	
	0.25	- الناتج الداخلي الخام.	
	0.25	- الدخل الفردي.	
	0.25	- الخدمات العامة(التعليم ، الصحة ...).	
	0.50	استمرار اتساع الهوة بين الشمال المتقدم والجنوب المتخلف.	الخاتمة

85

الإجابة النموذجية و سلم التنقيط

المدة : 04 ساعات ونصف

امتحان شهادة البكالوريا

الإجابة النموذجية

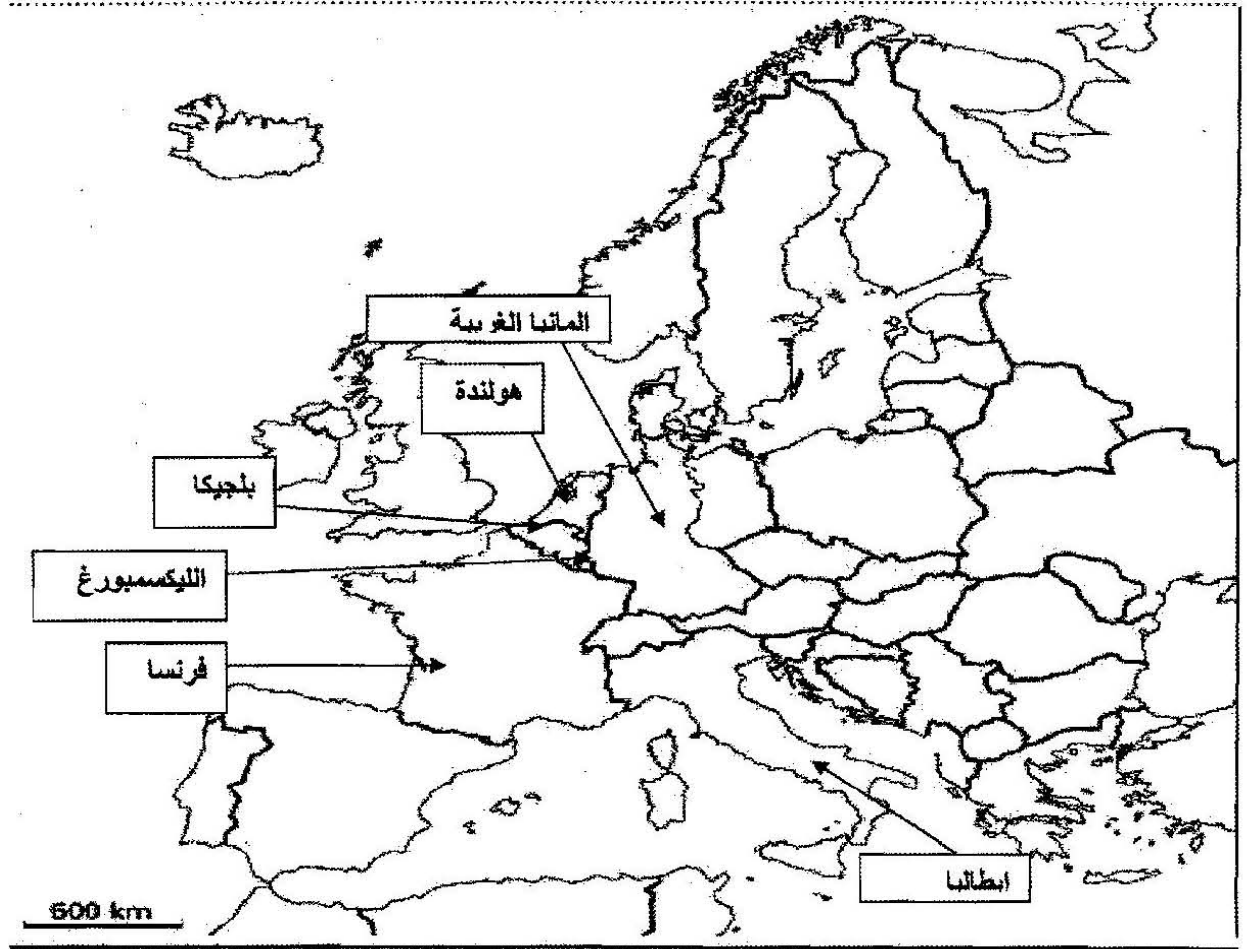
دورة: جوان 2010

الشعبة : آداب وفلسفة

اختبار في مادة: التاريخ والجغرافيا

العلامة		عناصر الإجابة	معايير الموضوع
المجموع	مجزأة		

الدول المؤسسة للاتحاد الأوروبي



86

الإجابة النموذجية و سلم التقييط

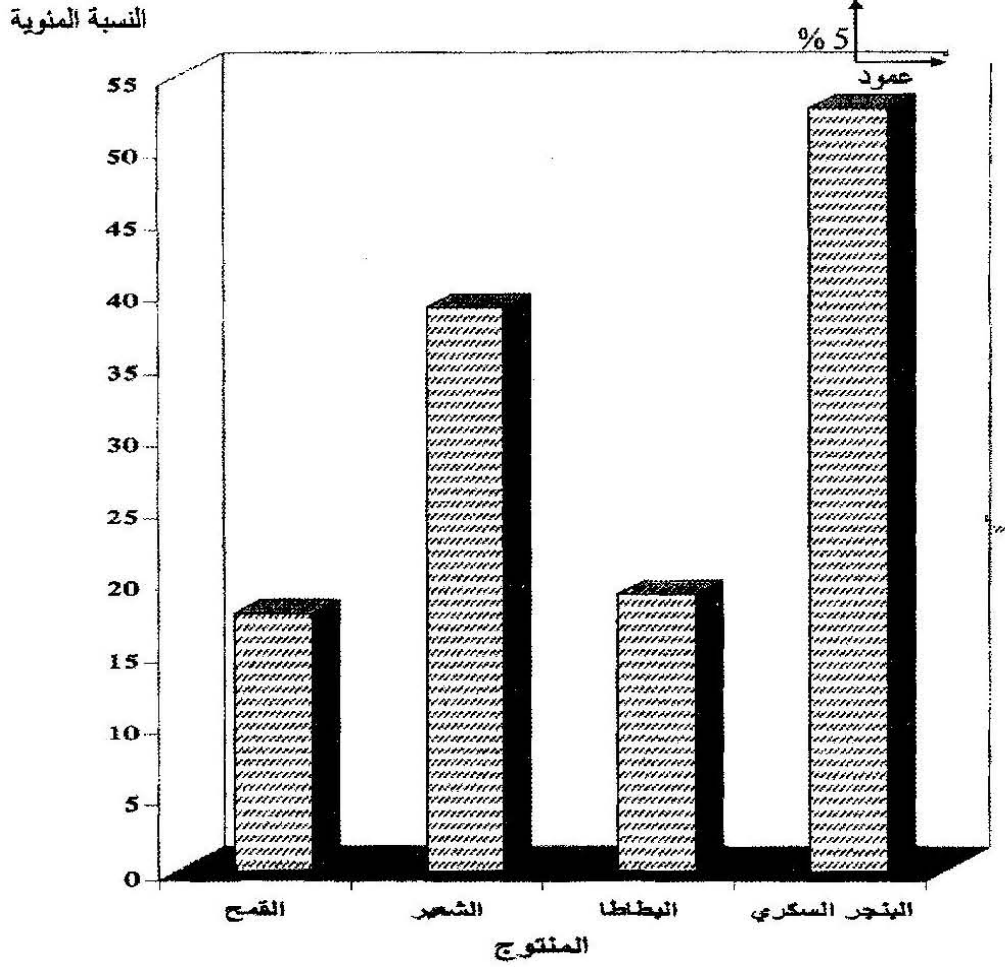
المدة : 04 ساعات ونصف
دورة: جوان 2010

امتحان شهادة البكالوريا
الشعبة : آداب وفلسفة

الإجابة النموذجية
اختبار في مادة: التاريخ والجغرافيا

العلامة		عناصر الإجابة	محاور الموضوع
المجموع	مجزأة		

أعمدة بيانية نسبة المساهمة العالمية لدول الاتحاد الأوربي



87